



PME 2100 – MECÂNICA A – Prova Substitutiva – 7 de dezembro de 2010

Duração da Prova: 100 minutos (não é permitido uso de calculadoras)

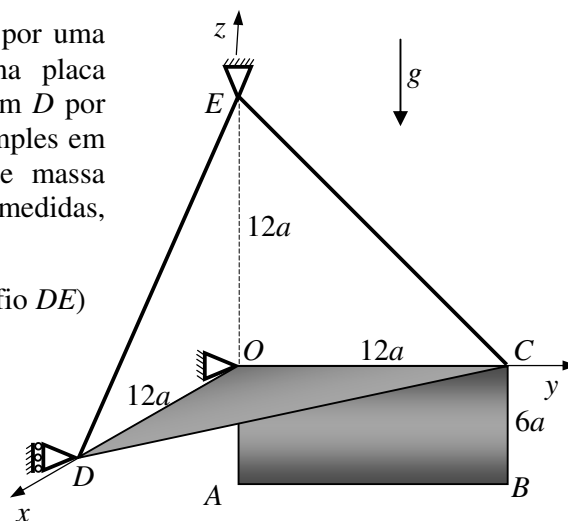
1ª Questão (3,5 pontos) O sólido da figura é formado por uma placa triangular COD (no plano Oxy) soldada a uma placa retangular $ABCO$ (no plano Oyz). O sólido é vinculado em D por um apoio simples cujo plano é o Oxz , uma articulação simples em O , e por meio dos fios DE e CE , inextensíveis e de massa desprezível. As forças de tração nos cabos foram medidas, obtendo-se os seguintes valores:

$$F_{CE} = \frac{5\sqrt{2}}{12} F \text{ (força no fio } CE), \quad F_{DE} = \frac{2\sqrt{2}}{12} F \text{ (força no fio } DE)$$

A componente vertical da reação no vínculo em O

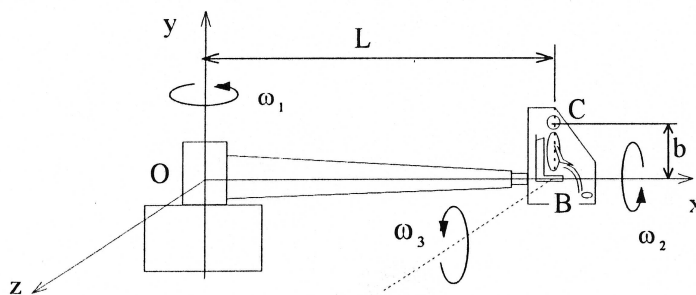
também foi medida, obtendo-se $F_{Oz} = \frac{5}{12} F$.

- Desenhe o diagrama de corpo livre do sólido.
- Determine o peso P do sólido, as coordenadas x_G e y_G de seu baricentro e as reações nos vínculos D e O . Observe que não se sabe a priori se as placas são homogêneas.
- Determine a posição do baricentro do sólido supondo que as placas são homogêneas, de mesmo material e espessura desprezível.



2ª Questão (3,0 pontos) A figura mostra um simulador de vôo, para o treinamento de astronautas. A cabine pode girar em torno do eixo OB do braço principal horizontal. O sistema de eixos cartesianos $Oxyz$ é tal que o Ox tem sempre a direção de OB e o Oy é vertical. O assento, no qual o astronauta se encontra, pode girar em relação à cabine, em torno de um eixo que, no instante considerado, é paralelo a Oz . O braço principal gira com velocidade angular ω_1 , constante, em torno da vertical, a cabine gira com velocidade angular ω_2 , constante, relativa ao braço principal e o assento gira com velocidade angular ω_3 , constante, relativa à cabine. Na posição indicada, usando a base $(\hat{i}, \hat{j}, \hat{k})$ cujos versores correspondem, respectivamente, aos sentidos positivos de Ox , Oy e Oz e considerando o braço OB como referencial móvel, determine, para a cabeça do astronauta (ponto C):

- a velocidade relativa;
- a velocidade de arrastamento;
- a velocidade absoluta;
- a aceleração relativa;
- a aceleração de arrastamento;
- a aceleração absoluta.

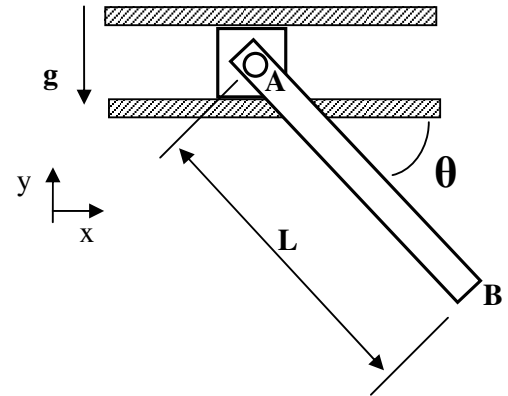




3ª Questão (3,5 pontos) A barra homogênea AB possui massa m e comprimento L . Através da articulação em A, conecta-se a um bloco de massa desprezível. O bloco, por sua vez, pode deslizar sem atrito no interior da guia horizontal mostrada. No instante inicial, o sistema está em repouso com a barra formando ângulo θ com a horizontal. Em determinado momento, a barra é solta. Pedem-se, em função dos parâmetros dados:

- o diagrama de corpo livre da barra;
- o vetor aceleração angular da barra para este momento;
- o vetor aceleração do baricentro da barra para este momento;
- qual é o movimento do baricentro? Justifique sua resposta.

Dado: para uma barra homogênea de massa m e comprimento L , $J_{Gz} = mL^2/12$





Resolução da Prova Substitutiva– 7 de dezembro de 2010

Resolução da 1ª Questão (3,5 pontos) O sólido da figura é formado por uma placa triangular COD (no plano Oxy) soldada a uma placa retangular $ABCO$ (no plano Oyz). O sólido é vinculado em D por um apoio simples cujo plano é o Oxz , uma articulação simples em O , e por meio dos fios DE e CE , inextensíveis e de massa desprezível. As forças de tração nos cabos foram medidas, obtendo-se os seguintes valores:

$$F_{CE} = \frac{5\sqrt{2}}{12} F \text{ (força no fio } CE), \quad F_{DE} = \frac{2\sqrt{2}}{12} F \text{ (força no fio } DE)$$

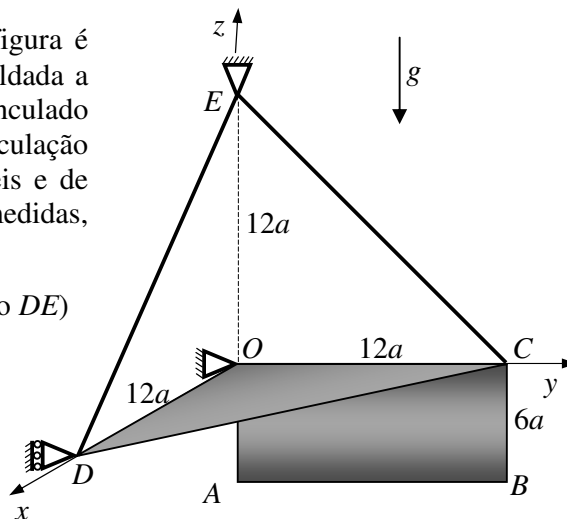
A componente vertical da reação no vínculo em O

também foi medida, obtendo-se $F_{Oz} = \frac{5}{12} F$.

a) Desenhe o diagrama de corpo livre do sólido.

b) Determine o peso P do sólido, as coordenadas x_G e y_G de seu baricentro e as reações nos vínculos D e O . Observe que não se sabe a priori se as placas são homogêneas.

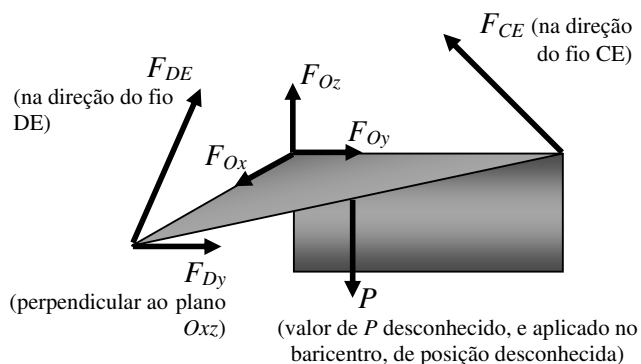
c) Determine a posição do baricentro do sólido supondo que as placas são homogêneas, de mesmo material e espessura desprezível. Compare com o resultado obtido no item (b) e comente.



Resolução:

a) Diagrama de corpo livre do sólido:

(1,0)



b) Impondo as condições de equilíbrio:

$$\sum M_{Ox} = 0 \Rightarrow P \cdot y_G - F_{CE} \frac{\sqrt{2}}{2} \cdot 12a = 0 \Rightarrow P \cdot y_G = F_{CE} \frac{\sqrt{2}}{2} \cdot 12a = \frac{5\sqrt{2}}{12} F \frac{\sqrt{2}}{2} \cdot 12a \Rightarrow y_G = 5a$$

$$\sum M_{Oy} = 0 \Rightarrow P \cdot x_G - F_{DE} \frac{\sqrt{2}}{2} \cdot 12a = 0 \Rightarrow P \cdot x_G = F_{DE} \frac{\sqrt{2}}{2} \cdot 12a = \frac{2\sqrt{2}}{12} F \frac{\sqrt{2}}{2} \cdot 12a \Rightarrow x_G = 2a \quad (1,5)$$

$$\sum M_{Oz} = 0 \Rightarrow F_{Dy} \cdot 12a = 0 \Rightarrow F_{Dy} = 0$$

$$\sum F_x = 0 \Rightarrow F_{Ox} - F_{DE} \frac{\sqrt{2}}{2} = 0 \Rightarrow F_{Ox} = F_{DE} \frac{\sqrt{2}}{2} = \frac{2\sqrt{2}}{12} F \frac{\sqrt{2}}{2} \Rightarrow F_{Ox} = \frac{F}{6}$$



ESCOLA POLITÉCNICA DA UNIVERSIDADE DE SÃO PAULO

Avenida Professor Mello Moraes, nº 2231. CEP 05508-900, São Paulo, SP.
Telefone: (0xx11) 3091 5337 Fax: (0xx11) 3813 1886

Departamento de Engenharia Mecânica

$$\sum F_y = 0 \Rightarrow F_{Dy} + F_{Oy} - F_{CE} \frac{\sqrt{2}}{2} = 0 \Rightarrow F_{Oy} = F_{CE} \frac{\sqrt{2}}{2} - F_{Dy} = \frac{5\sqrt{2}}{12} F \frac{\sqrt{2}}{2} - 0 \Rightarrow F_{Oy} = \frac{5}{12} F$$

$$\sum F_z = 0 \Rightarrow F_{Oz} + F_{DE} \frac{\sqrt{2}}{2} + F_{CE} \frac{\sqrt{2}}{2} - P = 0 \Rightarrow$$

$$\Rightarrow P = F_{Oz} + F_{DE} \frac{\sqrt{2}}{2} + F_{CE} \frac{\sqrt{2}}{2} = \frac{5}{12} F + \frac{2\sqrt{2}}{12} F \frac{\sqrt{2}}{2} + \frac{5\sqrt{2}}{12} F \frac{\sqrt{2}}{2} \Rightarrow P = F$$

c) A área do triângulo COD é $72a^2$, a área do retângulo $ABCO$ é também $72a^2$, e, supondo que as placas são homogêneas, de mesmo material e mesma espessura:

$$x_G = \frac{4a \cdot 72a^2 + 0a \cdot 72a^2}{72a^2 + 72a^2} \Rightarrow x_G = 2a$$

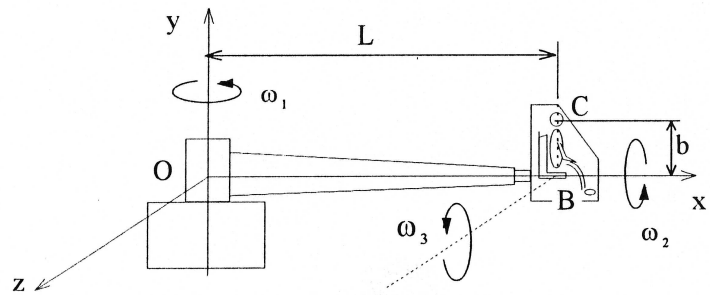
$$y_G = \frac{4a \cdot 72a^2 + 6a \cdot 72a^2}{72a^2 + 72a^2} \Rightarrow y_G = 5a \quad (1,0)$$

$$z_G = \frac{0 \cdot 72a^2 - 3a \cdot 72a^2}{72a^2 + 72a^2} \Rightarrow z_G = -1,5a$$

As coordenadas x_G e y_G coincidiram com as coordenadas obtidas no item (b). Não é possível determinar a coordenada z_G usando as condições de equilíbrio.



Resolução da 2ª Questão (3,0 pontos) A figura mostra um simulador de vôo, para o treinamento de astronautas. A cabine pode girar em torno do eixo OB do braço principal horizontal. O sistema de eixos cartesianos Oxyz é tal que o Ox tem sempre a direção de OB e o Oy é vertical. O assento, no qual o astronauta se encontra, pode girar em relação à cabine, em torno de um eixo que, *no instante considerado*, é paralelo a Oz. O braço principal gira com velocidade angular ω_1 , constante, em torno da vertical, a cabine gira com velocidade angular ω_2 , constante, relativa ao braço principal e o assento gira com velocidade angular ω_3 , constante, relativa à cabine. Na posição indicada, usando a base $(\vec{i}, \vec{j}, \vec{k})$ cujos versores correspondem, respectivamente, aos sentidos positivos de Ox, Oy e Oz e considerando o braço OB como referencial móvel, determine, para a cabeça do astronauta (ponto C):



- a) a velocidade relativa;
- b) a velocidade de arrastamento;
- c) a velocidade absoluta;
- d) a aceleração relativa;
- e) a aceleração de arrastamento;
- f) a aceleração absoluta.

Resolução:

a) velocidade relativa

$$\vec{v}_{C,rel} = \vec{v}_{B,rel} + \vec{\omega}_{rel} \wedge (C-B)$$

$$\vec{v}_{B,rel} = \vec{0}, \quad \vec{\omega}_{rel} = \omega_2 \vec{i} + \omega_3 \vec{k} \Rightarrow \vec{v}_{C,rel} = (\omega_2 \vec{i} + \omega_3 \vec{k}) \wedge b \vec{j}$$

$$\boxed{\vec{v}_{C,rel} = -\omega_3 b \vec{i} + \omega_2 b \vec{k}} \quad (0,5)$$

b) velocidade de arrastamento

$$\vec{v}_{C,arr} = \vec{v}_O + \vec{\omega}_{arr} \wedge (C-O)$$

$$\vec{v}_O = \vec{0}, \quad \vec{\omega}_{arr} = \omega_1 \vec{j} \Rightarrow \vec{v}_{C,arr} = \omega_1 \vec{j} \wedge (b \vec{j} + L \vec{i})$$

$$\boxed{\vec{v}_{C,arr} = -\omega_1 L \vec{k}} \quad (0,5)$$

c) velocidade absoluta

$$\vec{v}_C = \vec{v}_{C,arr} + \vec{v}_{C,rel} \Rightarrow \boxed{\vec{v}_C = -\omega_3 b \vec{i} + (\omega_2 b - \omega_1 L) \vec{k}} \quad (0,5)$$

d) aceleração relativa

$$\vec{a}_{C,rel} = \vec{a}_{B,rel} + \dot{\vec{\omega}}_{rel} \wedge (C-B) + \vec{\omega}_{rel} \wedge [\vec{\omega}_{rel} \wedge (C-B)]$$

$$\vec{a}_{B,rel} = \vec{0}, \quad \dot{\vec{\omega}}_{rel} = \vec{0}$$

$$\vec{a}_{C,rel} = (\omega_2 \vec{i} + \omega_3 \vec{k}) \wedge [(\omega_2 \vec{i} + \omega_3 \vec{k}) \wedge b \vec{j}] = (\omega_2 \vec{i} + \omega_3 \vec{k}) \wedge (\omega_2 b \vec{k} - \omega_3 b \vec{i}) \Rightarrow \boxed{\vec{a}_{C,rel} = -b(\omega_2^2 + \omega_3^2) \vec{j}} \quad (0,5)$$

e) aceleração de arrastamento

$$\vec{a}_{C,arr} = \vec{a}_O + \dot{\vec{\omega}}_{arr} \wedge (C-O) + \vec{\omega}_{arr} \wedge [\vec{\omega}_{arr} \wedge (C-O)]$$

$$\vec{a}_O = \vec{0}, \quad \dot{\vec{\omega}}_{arr} = \vec{0}$$

$$\vec{a}_{C,arr} = \omega_1 \vec{j} \wedge [\omega_1 \vec{j} \wedge (b \vec{j} + L \vec{i})] = \omega_1 \vec{j} \wedge (-\omega_1 L \vec{k}) \Rightarrow \boxed{\vec{a}_{C,arr} = -\omega_1^2 L \vec{i}} \quad (0,5)$$

aceleração complementar (ou aceleração de Coriolis)

$$\vec{a}_{C,cor} = 2\vec{\omega}_{arr} \wedge \vec{v}_{C,rel} = 2\omega_1 \vec{j} \wedge (-\omega_3 b \vec{i} + \omega_2 b \vec{k}) = 2b\omega_1\omega_3 \vec{k} + 2b\omega_1\omega_2 \vec{i}$$

f) aceleração absoluta $\vec{a}_C = \vec{a}_{C,arr} + \vec{a}_{C,rel} + \vec{a}_{C,cor}$

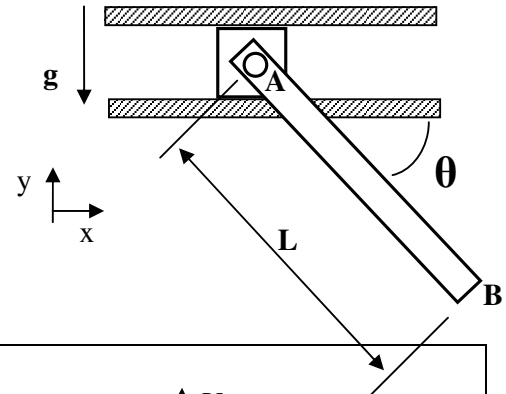
$$\boxed{\vec{a}_C = (2b\omega_1\omega_2 - \omega_1^2 L) \vec{i} - b(\omega_2^2 + \omega_3^2) \vec{j} + 2b\omega_1\omega_3 \vec{k}} \quad (0,5)$$



Resolução da 3ª Questão (3,5 pontos) A barra homogênea AB possui massa m e comprimento L . Através da articulação em A, conecta-se a um bloco de massa desprezível. O bloco, por sua vez, pode deslizar sem atrito no interior da guia horizontal mostrada. No instante inicial, o sistema está em repouso com a barra formando ângulo θ com a horizontal. Em determinado momento, a barra é solta. Pede-se, em função dos parâmetros dados:

- o diagrama de corpo livre da barra;
- o vetor aceleração angular da barra, para este momento;
- o vetor aceleração do baricentro da barra, para este momento;
- qual é o movimento do baricentro? Justifique sua resposta.

Dado: para uma barra homogênea de massa m e comprimento L , $J_{Gz} = mL^2/12$



Resolução:

TMB: $m\vec{a}_G = (Y_A - mg)\vec{j}$ $\begin{cases} a_{Gx} = 0 & (1) \\ a_{Gy} = \frac{1}{m}(Y_A - mg) & (2) \end{cases}$ (0,5)

TMA: $\dot{\vec{H}}_G = \vec{M}_G$

$\vec{H}_G = -J_{zG}\vec{\omega}\vec{k} \Rightarrow \dot{\vec{H}}_G = -J_{zG}\dot{\vec{\omega}}\vec{k} = -\frac{mL^2}{12}\dot{\vec{\omega}}\vec{k}$, $\vec{M}_G = -Y_A\frac{L}{2}\cos\theta\vec{k}$ (0,5)

$\Rightarrow Y_A = \frac{mL\dot{\omega}}{6\cos\theta}$ (3)

Relação cinemática (no momento em que a barra é solta, sua velocidade angular é nula), assim:

$\vec{a}_G = \vec{a}_A + \vec{\omega} \wedge (G - A) + \dot{\vec{\omega}} \wedge (G - A)$ $\vec{a}_A = a_A\vec{i}$, $\vec{\omega} = \vec{0}$

$\vec{a}_G = a_A\vec{i} - \dot{\omega}\vec{k} \wedge \frac{L}{2}(\cos\theta\vec{i} - \sin\theta\vec{j}) = \left(a_A - \dot{\omega}\frac{L}{2}\sin\theta\right)\vec{i} - \dot{\omega}\frac{L}{2}\cos\theta\vec{j} \Rightarrow a_{Gy} = -\dot{\omega}\frac{L}{2}\cos\theta$ (4) (0,5)

Substituindo (3) e (4) em (2): $-\dot{\omega}\frac{L}{2}\cos\theta = \frac{L\dot{\omega}}{6\cos\theta} - g \Rightarrow \dot{\omega} = -\frac{6g\cos\theta}{L(1-3\cos^2\theta)}\vec{k}$ (0,5)

Substituindo em (3) e (4): $Y_A = \frac{mg}{1-3\cos^2\theta}$ e $\vec{a}_G = -\frac{3g\cos^2\theta}{1-3\cos^2\theta}\vec{j}$

O movimento do baricentro é oscilatório na vertical, já que inicialmente está em repouso e a resultante de força sobre o corpo em qualquer instante é sempre vertical, isto é, não há resultante de força na horizontal, assim $a_{Gy} \neq 0$ e $a_{Gx} = 0$. (0,5)

