

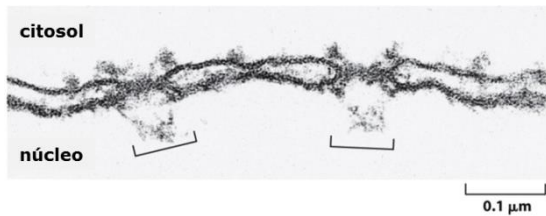
Nome:
Nº USP:

**Exercício Extra 3 da Biologia Celular
LGN 0114 – Biologia Celular**

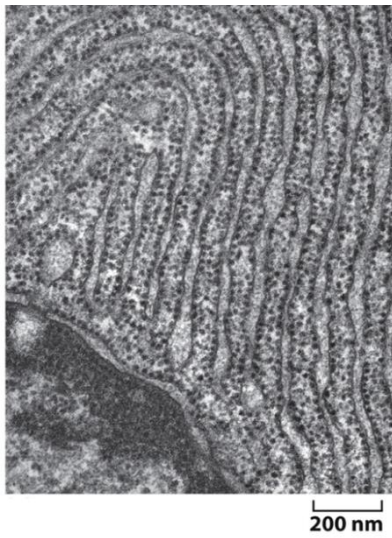
Faça um relatório de suas observações, respondendo as seguintes perguntas. O relatório deverá ser entregue na próxima aula prática

1. Interprete as imagens de microfotografia eletrônica referentes a membrana plasmática e atribua outras funções a mesma.

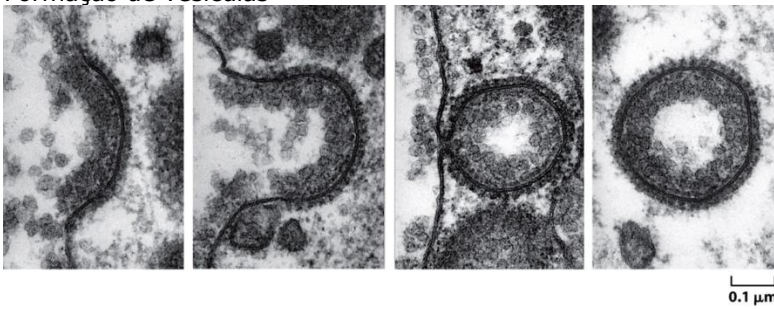
Complexo de poros nucleares



Reticulo endoplasmático rugoso de células pancreática de mamífero



Formação de vesículas



Complexo de Golgi

