

Lista 4 - Questões

Maio 2023

1. Seis mols de um gás ideal estão em um cilindro com um pistão móvel em uma de suas extremidades. A temperatura inicial do gás é $27,0^{\circ}\text{C}$ e a pressão é constante. Como parte do projeto da máquina, calcule a temperatura final do gás depois que ele houver realizado $1,75 \times 10^3 \text{ J}$ de trabalho.

Solução: À pressão constante, sabemos que vale a seguinte relação para o trabalho:

$$W = P\Delta V. \quad (1)$$

Mas, sabemos pela equação fundamental dos gases ideais, que

$$PV = nRT \implies P\Delta V = nR\Delta T, \quad (2)$$

ou seja,

$$W = nR\Delta T. \quad (3)$$

Devemos lembrar que quando a temperatura varia 1° na escala Celsius, ela sofre a mesma variação na escala Kelvin, ou seja, $\Delta T_K = \Delta T_C$. Logo, temos que

$$\Delta T = \frac{W}{nR} = \frac{1,75 \times 10^3 \text{ J}}{(6 \text{ mol})(8,3145 \text{ J/mol} \cdot \text{K})} = 35,1 \text{ K}. \quad (4)$$

Logo, a temperatura final será

$$T_2 = \Delta T + T_1 = 35,1^{\circ}\text{C} + 27,0^{\circ}\text{C} = 62,1^{\circ}\text{C}. \quad (5)$$

2. Um gás no interior de um cilindro se expande de um volume igual a $0,110 \text{ m}^3$ até um volume igual a $0,320 \text{ m}^3$. O calor flui pra dentro do sistema com uma taxa suficiente para manter a pressão constante e igual a $1,18 \times 10^5 \text{ Pa}$ durante a expansão. O calor fornecido ao sistema é igual a $1,15 \times 10^5 \text{ J}$.

a) Calcule o trabalho realizado pelo gás.

Solução: À pressão constante vale a equação (1). Diretamente, temos então que

$$W = P\Delta V = (1,18 \times 10^5 \text{ Pa})(0,320 \text{ m}^3 - 0,110 \text{ m}^3) = 2,38 \times 10^4 \text{ J}. \quad (6)$$

b) Calcule a variação da energia interna do gás.

Solução: Pela primeira lei da termodinâmica, temos que

$$\Delta U = Q - W. \quad (7)$$

Logo,

$$\Delta U = 1.15 \times 10^5 \text{ J} - 3.78 \times 10^4 \text{ J} = 7.72 \times 10^4 \text{ J}. \quad (8)$$

c) O resultado depende ou não do gás ser ideal? Justifique sua resposta.

Solução: À pressão constante vale a relação (1) e a primeira lei da termodinâmica (7), independentemente do material. A relação fundamental dos gases, $PV = nRT$, não foi utilizada. Sendo assim, o resultado independe do gás ser ideal ou não.

3. Quando a água entra em ebulição sob pressão de 2,0 atm, o calor de vaporização é $2,20 \times 10^6 \text{ J/Kg}$ e o ponto de ebulição é 120°C . A essa pressão, 1,0 Kg de água possui volume igual a $1,0 \times 10^{-3} \text{ m}^3$ e 1,0 Kg de vapor de água possui volume igual a $0,824 \text{ m}^3$.

a) Calcule o trabalho realizado quando se forma 1,0 Kg de vapor de água nessa temperatura.

Solução: Temos, diretamente pela relação (1), que

$$W = P\Delta V = (2.03 \times 10^5 \text{ Pa})(0.824 \text{ m}^3 - 1.00 \times 10^{-3} \text{ m}^3) = 1.67 \times 10^5 \text{ J}. \quad (9)$$

b) Calcule a variação da energia interna da água.

Solução: Pela equação (7), temos que

$$\Delta U = Q - W = 2.20 \times 10^6 \text{ J} - 1.67 \times 10^5 \text{ J} = 2.03 \times 10^6 \text{ J}. \quad (10)$$

4. A Figura (1) mostra duas trajetórias que podem ser seguidas por um gás de um ponto inicial i até um ponto final f . A trajetória 1 consiste em uma expansão isotérmica (o módulo do trabalho é 50 J), uma expansão adiabática (o módulo do trabalho é 40 J), uma compressão isotérmica (o módulo do trabalho é 30 J) e uma compressão adiabática (o módulo do trabalho é 25 J). Qual é a variação da energia interna do gás se ele vai do ponto i para o ponto f seguindo a trajetória 2?

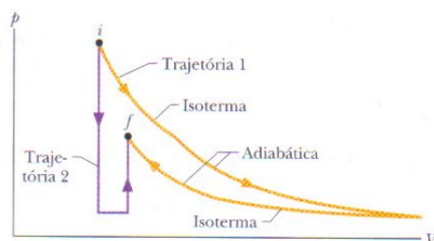


Figura 1: Problema 4.

Solução: Como a variação da energia interna ΔU não depende da trajetória, temos

$$\Delta U_{t2} = \Delta U_{t1}. \quad (11)$$

Mas, a trajetória 1 é formada por 4 processos: uma expansão isotérmica ΔU_{ei} , uma expansão adiabática ΔU_{ea} , uma compressão isotérmica ΔU_{ci} e uma compressão adiabática ΔU_{ca} , ou seja,

$$\Delta U_{t1} = \Delta U_{ei} + \Delta U_{ea} + \Delta U_{ci} + \Delta U_{ca}. \quad (12)$$

Como em um gás ideal a variação da energia interna só depende da variação da temperatura, nas isotermas, $\Delta U = 0$, ou seja,

$$\Delta U_{t1} = \Delta U_{ea} + \Delta U_{ca}. \quad (13)$$

Em um processo adiabático, $Q = 0$. Assim, pela primeira lei da termodinâmica, temos para a expansão adiabática que:

$$\Delta U_{ea} = Q - W = -40\text{J}, \quad (14)$$

pois como o gás realiza trabalho há perda de energia. Para a compressão adiabática, temos, pela primeira lei da termodinâmica:

$$\Delta U_{ca} = Q + W = 25\text{J}, \quad (15)$$

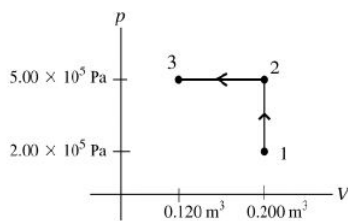
pois como o trabalho é feito sobre o gás (para comprimí-lo) há ganho de energia. Logo,

$$\Delta U_{t2} = -40\text{J} + 25\text{J} = -15\text{J}. \quad (16)$$

5. Um gás passa por dois processos. No primeiro, o volume permanece constante a $0,200\text{ m}^3$ e a pressão cresce de $2,0 \times 10^5\text{ Pa}$ até $5,0 \times 10^5\text{ Pa}$. O segundo processo é uma compressão até o volume $0,120\text{ m}^3$ sob pressão constante de $5,0 \times 10^5\text{ Pa}$.

a) Desenhe um diagrama PV mostrando esses dois processos.

Solução:



b) Calcule o trabalho total realizado pelo gás nos dois processos.

Solução: No primeiro processo $1 \rightarrow 2$, como o volume se mantém constante, $\Delta V = 0$. Logo, $W = 0$. Para o segundo processo $2 \rightarrow 3$, temos que

$$W = P\Delta V = (5,00 \times 10^5\text{ Pa})(0,120\text{ m}^3 - 0,200\text{ m}^3) = -4,00 \times 10^4\text{ J}. \quad (17)$$

Assim, o trabalho total W_{tot} é:

$$W_{tot} = W_{1 \rightarrow 2} + W_{2 \rightarrow 3} = -4.00 \times 10^4 \text{J}. \quad (18)$$

6. Um sistema termodinâmico realiza o processo cíclico indicado na Figura (2). O ciclo é constituído por duas curvas fechadas, a malha I e a malha II .

a) Durante um ciclo completo, o sistema realiza trabalho positivo ou negativo?

Solução: Devemos lembrar que W é a área sob a curva. O ciclo completo é composto pelo ciclo com área maior I , no sentido horário, ou seja, $W_I > 0$ e o ciclo com área menor II , sentido anti-horário, ou seja, $W_{II} < 0$. O trabalho total será positivo, $W_{tot} = W_I + W_{II} > 0$, visto que $W_I > W_{II}$.

b) O sistema realiza trabalho positivo ou negativo para cada malha separada I e II ?

Solução: Como mencionado no item anterior, $W_I > 0$ e $W_{II} < 0$.

c) Durante um ciclo completo, o sistema absorve ou liberta calor?

Solução: Como em um ciclo completo $\Delta U = 0$, então $Q = W$. Assim, o trabalho total é $Q = W_{tot} > 0$, ou seja o sistema absorve calor.

d) Em cada malha separada I e II , o sistema absorve ou liberta calor?

Solução: Para a malha I , temos $Q = W_I > 0$, ou seja, o sistema absorve calor. Para a malha II , $Q = W_{II} < 0$, ou seja, o sistema perde calor.

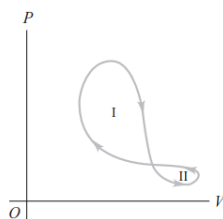


Figura 2: Problema 6.

7. Uma amostra de gás sofre uma transição de um estado inicial a para um estado final b por três diferentes trajetórias (processos), como mostra o diagrama $p - V$ da Figura (3), onde $V_b = 5,00V_i$. A energia transferida para o gás como calor no processo 1 é $10p_iV_i$. Em termos de p_iV_i , quais são:

a) A energia transferida para o gás como calor no processo 2?

Solução: Para o processo 1, temos

$$U_b - U_a = Q_1 - W_1 = Q_1 - p(V_b - V_i) \implies (\Delta U_{ab})_1 = 6p_iV_i. \quad (19)$$

Como a variação da energia interna independe do caminho, $(\Delta U_{ab})_1 = (\Delta U_{ab})_2$, ou seja,

$$(\Delta U_{ab})_2 = Q_2 - W_2, \quad (20)$$

$$Q_2 = (\Delta U_{ab})_1 + W_2. \quad (21)$$

O trabalho W é a área sob a curva. Para o caminho 2, temos

$$W_2 = A_{\text{triângulo}} + A_{\text{retângulo}}, \quad (22)$$

$$= \frac{1}{2}(V_b - V_i)\left(\frac{3p_i}{2} - p_i\right) + (V_b - V_i)(p_i), \quad (23)$$

$$= (V_b - V_i)\left(\frac{3p_i}{4} - \frac{p_i}{2} + p_i\right), \quad (24)$$

$$= (V_b - V_i)\left(\frac{3p_i}{4} + \frac{p_i}{2}\right), \quad (25)$$

$$= \frac{5p_i}{4}(V_b - V_i), \quad (26)$$

$$= 5p_i V_i. \quad (27)$$

Logo,

$$Q_2 = 6p_i V_i + 5p_i V_i = 11p_i V_i. \quad (28)$$

b) A variação da energia interna do gás no processo 3?

Solução: Como mencionado anteriormente,

$$(\Delta U_{ab})_1 = (\Delta U_{ab})_2 = (\Delta U_{ab})_3 = 6p_i V_i. \quad (29)$$

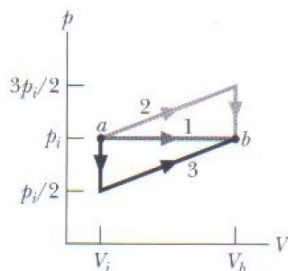


Figura 3: Problema 7.

8. Um gás monoatômico ideal executa o ciclo da Figura (4) no sentido indicado na figura. O caminho do processo $c \rightarrow a$ é uma linha reta no diagrama PV .

a) Calcule Q , W e ΔU em cada processo: $a \rightarrow b$, $b \rightarrow c$ e $c \rightarrow a$.

Solução: A quantidade de calor para um gás ideal à pressão constante é dada por:

$$Q = nC_P \Delta T, \quad (30)$$

onde $C_P = \frac{5}{2}R$ para um gás monoatômico ideal. No processo $a \rightarrow b$, P é constante e V varia. Logo, pela relação dos gases ideais, ΔT também varia. Assim,

$$\Delta T = \frac{P \Delta V}{nR}. \quad (31)$$

Temos então,

$$Q_{ab} = \frac{C_P}{R} P_{ab} \Delta V_{ab} = \frac{5}{2} (3.00 \times 10^5 \text{ Pa}) (0.300 \text{ m}^3) = 2.25 \times 10^5 \text{ J}. \quad (32)$$

O trabalho é, então,

$$W_{ab} = P_{ab} \Delta V_{ab} = (3.00 \times 10^5 \text{ Pa}) (0.300 \text{ m}^3) = 0.90 \times 10^5 \text{ J}. \quad (33)$$

Pela primeira lei da termodinâmica, temos então que,

$$\Delta U_{ab} = Q_{ab} - W_{ab} = 1.35 \times 10^5 \text{ J}. \quad (34)$$

No processo $b \rightarrow c$, P varia e V é constante. Logo, pela relação dos gases ideais, ΔT também varia. A quantidade de calor para um gás ideal à volume constante é dada por:

$$Q = nC_V \Delta T, \quad (35)$$

onde $C_V = \frac{3}{2}R$ para um gás monoatômico ideal. Assim,

$$Q_{bc} = \frac{C_V}{R} \Delta P_{bc} V_{bc} = \frac{3}{2} (-2.00 \times 10^5 \text{ Pa}) (0.800 \text{ m}^3) = -2.40 \times 10^5 \text{ J}. \quad (36)$$

Como V é constante, $W_{bc} = 0$, pois $\Delta V_{bc} = 0$. Assim, pela primeira lei da termodinâmica, temos

$$\Delta U_{bc} = Q_{bc} - W_{bc} = -2.40 \times 10^5 \text{ J}. \quad (37)$$

No processo $c \rightarrow a$, P varia e V Também varia. Como o trabalho é numericamente igual a área sob a curva, temos

$$W_{ca} = A_{\text{trapézio}}, \quad (38)$$

$$= \frac{1}{2} (3.00 \times 10^5 \text{ Pa} + 1.00 \times 10^5 \text{ Pa}) (0.800 \text{ m}^3 - 0.500 \text{ m}^3), \quad (39)$$

$$= 6.00 \times 10^4 \text{ J}. \quad (40)$$

Entretanto, nesse caso temos uma compressão volumétrica, o que implica que o trabalho é negativo, ou seja, $W_{ca} = -6.00 \times 10^4 \text{ J} = -0.60 \times 10^5 \text{ J}$.

Num ciclo fechado, sabemos que a variação de energia interna total do sistema é $\Delta U_{tot} = 0$. Então,

$$\Delta U_{tot} = \Delta U_{ab} + \Delta U_{bc} + \Delta U_{ca} = 0 \implies \Delta U_{ca} = -\Delta U_{ab} - \Delta U_{bc}. \quad (41)$$

Logo,

$$\Delta U_{ca} = -(1.35 \times 10^5 \text{ J}) - (-2.40 \times 10^5 \text{ J}) = 1.05 \times 10^5 \text{ J}. \quad (42)$$

Logo, pela primeira lei da termodinâmica,

$$Q_{ca} = \Delta U_{ca} + W_{ca} = 0.45 \times 10^5 \text{ J}. \quad (43)$$

b) Quais são os valores de Q , W e ΔU em um ciclo completo?

Solução:

$$Q_{tot} = Q_{ab} + Q_{bc} + Q_{ca} = 0.30 \times 10^5 \text{ J.} \quad (44)$$

$$W_{tot} = W_{ab} + W_{bc} + W_{ca} = 0.30 \times 10^5 \text{ J.} \quad (45)$$

Num ciclo fechado, como mencionado, $\Delta U = 0$.

c) Qual é a eficiência do ciclo?

Solução: A eficiência é dada por,

$$e = \frac{W_{tot}}{Q_H}, \quad (46)$$

onde Q_H é a quantidade de calor adicionada ao sistema, que nesse caso é $Q_H = Q_{ab} + Q_{ca} = 2.7 \times 10^5 \text{ J}$. Logo,

$$e = \frac{0.30 \times 10^5 \text{ J}}{2.7 \times 10^5 \text{ J}} = 0.111 = 11.1\%. \quad (47)$$

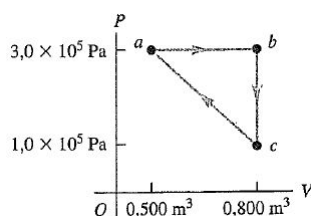


Figura 4: Problema 8.

9. Um recipiente de paredes adiabáticas é munido de um pistão móvel, de massa desprezível e 200 cm^2 de área, sobre o qual está colocado um peso de 10 kg . A pressão externa é de 1 atm . O recipiente contém 3 l de gás hélio, para o qual $C_v = 1.5R$, a temperatura de 20°C .

a) Qual é a densidade inicial do gás? Faz-se funcionar um aquecedor elétrico interno ao recipiente, que eleva a temperatura do gás, gradualmente, até 70°C .

Solução Com os dados do enunciado, temos:

$$Pv = nrt = \frac{m}{M}rt \quad (48)$$

$$m = \frac{PMv}{rt} \quad (49)$$

Precisamos descobrir a pressão, pois é a unidade que falta, para isso:

$$\text{Pressão} = \frac{F}{A} = \frac{\text{Peso}}{\text{Área}} = \frac{mg}{A} = \frac{10 \times 9,81}{200 \times 10^{-1}} = 0,049 \text{ atm} \quad (50)$$

Além disso, é necessário somar 1 atm devido a presença da pressão atmosférica, logo, a pressão total seria 1,049 atm. Com isso:

$$m = \frac{PMv}{rt} = \frac{1,049 \times 4 \times 3}{0,082 \times 293} = 0,524 \text{ g}. \quad (51)$$

Como densidade é a razão entre massa e volume:

$$d = \frac{m}{v} = \frac{0,524}{3} = 0,175 \text{ g/l} \quad (52)$$

b) Qual é o volume final ocupado pelo gás?

Solução Para encontrar o volume, utilizaremos a fórmula de Clapeyron, mas para isso, é necessário encontrar o número de mols. Tendo em conta que a massa molar do Hélio é 4u:

$$n = \frac{m}{M} = \frac{0,524}{4} = 0,131 \text{ mol} \quad (53)$$

Então:

$$V = \frac{nRt}{P} = \frac{0,131 \times 0,082 \times 343}{1,048} = 3,51 \text{ L} \quad (54)$$

c) Qual é o trabalho realizado pelo gás?

Solução:

$$W = P \quad (55)$$

Para usar essa equação, e obter a energia em joules, é necessário converter as unidades de pressão e volume para o sistema internacional.

$$1 \text{ atm} = 10^5 \text{ Pa} \quad (56)$$

$$1 \text{ L} = 10^{-3} \text{ m}^3 \quad (57)$$

Então:

$$W = (1,049 \times 10^5) \times (3,51 \times 10^{-3} - 3,00 \times 10^{-3}) = 53,4 \text{ J} \quad (58)$$

d) Qual é a variação de energia interna do gás?

Solução

$$= nC_v\Delta T = n\frac{3}{2}R\Delta T \quad (59)$$

$$= (0,131)\frac{3}{2}(8,31)(343 - 293) = 91,6J \quad (60)$$

e) Quanto de calor é fornecido ao gás?

Solução

$$Q = +W = 81,6 + 53,4 = 135J \quad (61)$$

10. Um mol de um gás ideal, com $\gamma=7/5$, está contido num recipiente, inicialmente a 1 atm e 27°C. O gás é, sucessivamente: (i) comprimido isobaricamente até 3/4 do volume inicial V_0 ; (ii) aquecido, a volume constante, até voltar à temperatura inicial; (iii) expandido a pressão constante até voltar ao volume inicial; (iv) resfriado, a volume constante, até voltar à pressão inicial.

a) Desenhe o diagrama P-V associado;

Solução

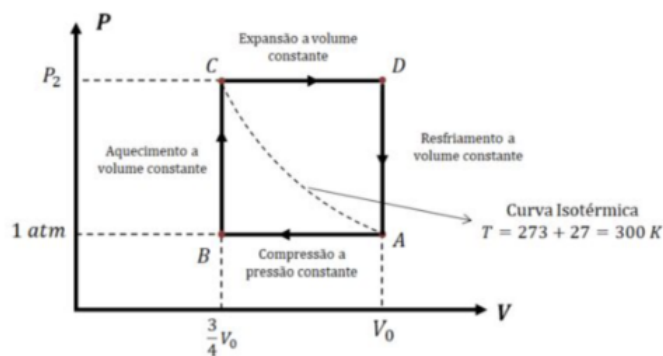


Figura 5: Partindo dessa montagem gráfica

Para encontrar $V_0 e P_2$:

$$P_A V_0 = nRT_A \quad (62)$$

$$V_0 = \frac{1 \times 0,082 \times 300}{1} = 24,6L \quad (63)$$

Com isso podemos calcular:

$$\frac{P_A V_A}{T_A} = \frac{P_C V_C}{T_C} \quad (64)$$

Como $T_A = T_C$

$$P_C = \frac{V_A}{V_C} P_A \quad (65)$$

A razão entre os dois volumes é $4/3$

$$P_C = \frac{4}{3}(1 \text{ atm}) = \frac{4}{3} \text{ atm} \quad (66)$$

Sendo assim, nosso gráfico fica:

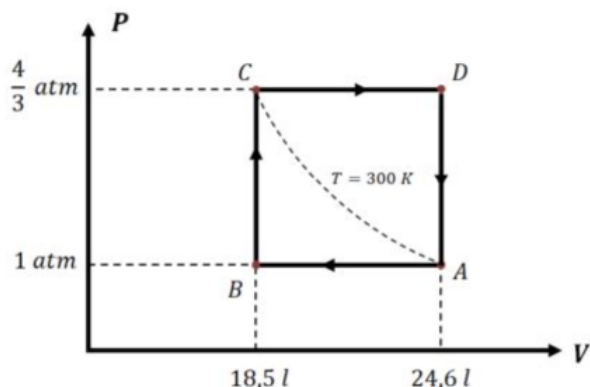


Figura 6: Gráfico completo

b) Calcule o trabalho total realizado pelo gás;

Solução: O valor do trabalho no ciclo é numericamente igual à área interna do ciclo. Convertendo atm para Pascal e Litros para m^3 temos:

$$\text{Área} = (\text{Base}) \times (\text{Altura}) = (24,6 - 18,5) \times 10^{-3} \times \left(\frac{4}{3} - 1\right) \times 10^5 = 203 \text{ J} \quad (67)$$

c) Calcule o calor total fornecido ao gás nas etapas (i) e (ii);

Solução Como no trecho ABC os pontos iniciais e finais estão à uma mesma temperatura, isso quer dizer que a variação de energia interna entre eles é nula, então, pela primeira lei da termodinâmica:

$$\Delta U_{ABC} = Q_{ABC} - W_{ABC} \quad (68)$$

$$Q_{ABC} = W_{ABC} \quad (69)$$

$$W_{ABC} = 1 \times 10^5 \times (18,5 - 24,6) \times 10^{-3} = -610J \quad (70)$$

d) Calcule as temperaturas máxima e mínima atingidas;

Solução

$$T_B = \frac{P_B V_B}{nR} = \frac{(1)(18,5)}{(1)(0,085)} = 225K \quad (71)$$

$$T_D = \frac{P_D V_D}{nR} = \frac{(4/3)(1)(24,6)}{(1)(0,082)} = 400K \quad (72)$$

e) Calcule a variação de energia interna no processo (i)+(ii).

Solução Como esses dois pontos estão sobre a mesma curva isotérmica, ou seja, a temperatura é a mesma nos dois pontos, a variação de energia interna é nula

$$\Delta U_{AC} = 0 \quad (73)$$