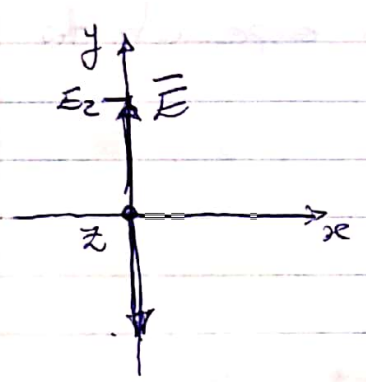


Polarização de onda

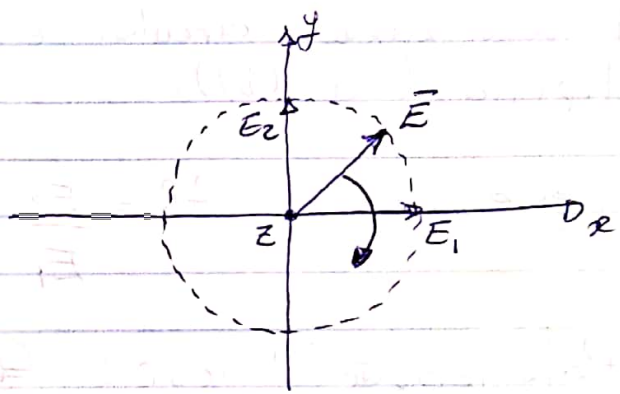
A polarização de campo é definida como a trajetória traçada pela extremidade de um vetor de campo variante no tempo em um dado ponto de observação.

- Plano de polarização é ortogonal à direção de propagação.

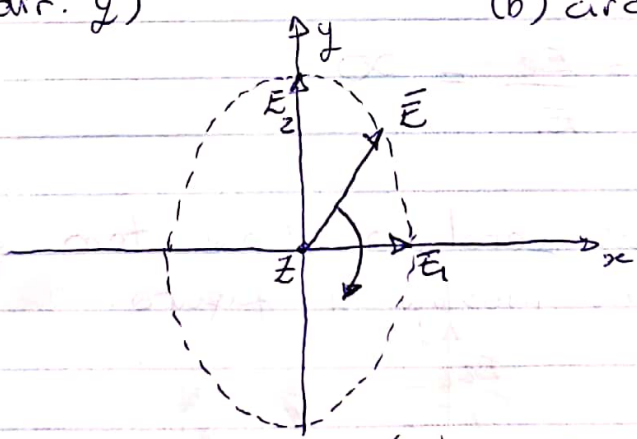
- tipos de polarização: linear, circular e elíptica



(a) linear (dir. y)



(b) circular (esquerda)



(c) elíptico (polariz. à ~~esquerda~~ esquerda)

O campo E de uma onda linearmente polarizada propagando em $+z$:

$$E_y = E_2 \sin(\omega t - \beta z) \quad (1)$$

O estado de polariz. pode ser visto em (a).

O caso mais geral $\Rightarrow \vec{E}$ possui E_x e E_y

No caso mais geral, em um dado ponto z , o vetor \vec{E} gira em função do tempo, e sua ponta descreve uma elipse (polarização elíptica).

A razão do eixo maior para o eixo menor:

Razão axial $AR = \frac{E_2}{E_1}$

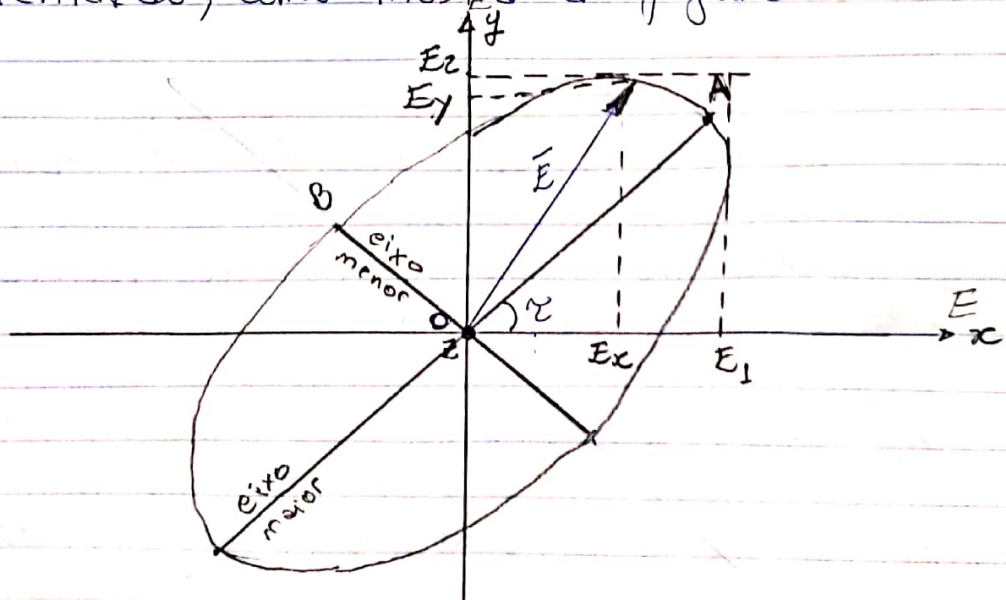
- A polarização circular é um caso especial da elíptica (ver (b)).

Nesse caso $AR = \frac{E_2}{E_1} = 1$

- Polarização linear: $\Rightarrow E_1 = 0$

$$AR = \frac{E_2}{E_1} = \infty$$

No caso mais geral, a elipse tem qualquer orientação, como mostra a figura.



Representando uma onda elípticamente polarizada em termos de duas ondas linearmente polarizadas.



$$E_x = E_1 \sin(\omega t - \beta z) \quad (2)$$

$$E_y = E_2 \sin(\omega t - \beta z + \delta) \quad (3)$$

E_1 : amplitude L.P. dir. x

E_2 : " " L.P. " y

δ : ângulo pelo qual E_y está avançado de E_x
 $\delta = \delta_x - \delta_y$

Combinando (2) e (3) :

$$\vec{E} = \hat{x} E_1 \sin(\omega t - \beta z) + \hat{y} E_2 \sin(\omega t - \beta z + \delta) \quad (4)$$

@ $z=0$:

$$E_x = E_1 \sin(\omega t)$$

$$E_y = E_2 \sin(\omega t + \delta)$$

Expandindo E_y : usando $\sin(a+b) = \sin(a)\cos(b) + \sin(b)\cos(a)$

$$E_y = E_2 \left[\sin(\omega t) \cos(\delta) + \cos(\omega t) \sin(\delta) \right] \quad (5)$$

da relação p/ E_x , temos :

$$\sin(\omega t) = \frac{E_x}{E_1}$$

Logo :

$$\cos(\omega t) = \sqrt{1 - \left(\frac{E_x}{E_1}\right)^2}$$

Substituindo essas relações em (5) :

$$\frac{E_y}{E_2} = \frac{E_x \cos(\delta)}{E_1} + \cos(\omega t) \sin(\delta)$$

$$\cos(\omega t) = \left[\frac{E_y}{E_2} - \frac{E_x \cos(\delta)}{E_1} \right] \frac{1}{\sin(\delta)}$$

$$\sqrt{1 - \frac{E_x^2}{E_1^2}} = \left[\frac{E_y}{E_2} - \frac{E_x \cos(\delta)}{E_1} \right] \frac{1}{\sin(\delta)}$$

elevando os dois lados ao quadrado:

$$1 - \frac{E_x^2}{E_1^2} = \left[\frac{E_y^2}{E_2^2} - \frac{2E_y E_x \cos(\delta)}{E_1 E_2} + \frac{E_x^2 \cos^2(\delta)}{E_1^2} \right] \frac{1}{\sin^2(\delta)}$$

$$\sin^2(\delta) - \sin^2(\delta) \frac{E_x^2}{E_1^2} = \frac{E_y^2}{E_2^2} - \frac{2E_y E_x \cos(\delta)}{E_1 E_2} + \frac{E_x^2 \cos^2(\delta)}{E_1^2}$$

$$\sin^2(\delta) = \frac{E_y^2}{E_2^2} - \frac{2E_y E_x \cos(\delta)}{E_1 E_2} + \frac{E_x^2}{E_1^2} \left[\sin^2(\delta) + \cos^2(\delta) \right]$$

$$\boxed{\frac{E_x^2}{E_1^2} - \frac{2E_x E_y \cos(\delta)}{E_1 E_2} + \frac{E_y^2}{E_2^2} = \sin^2(\delta)} \quad (6)$$

ou

$$a E_x^2 - b E_x E_y + c E_y^2 = 1 \quad (7)$$

onde:

$$a = \frac{1}{E_1^2 \sin^2 \delta} \quad b = \frac{2 \cos(\delta)}{E_1 E_2 \sin^2(\delta)} \quad c = \frac{1}{E_2^2 \sin^2(\delta)}$$

A equação (7) descreve a elipse de polarização.

O segmento OA é o semieixo maior
 " OB é o " menor.



Ângulo de inclinação: α

Razão axial:

$$AR = \frac{OA}{OB} \quad (1 \leq AR \leq \infty)$$

Se $E_1 = 0 \Rightarrow$ onda linearmente polarizada dir. y

$E_2 = 0 \Rightarrow$ " " " " x

Se $\delta = 0$ e $E_1 = E_2 \Rightarrow$ linearmente polarizada com $\alpha = 45^\circ$

Se $E_1 = E_2$ e $\delta = \pm 90^\circ \Rightarrow$ circularmente polarizada

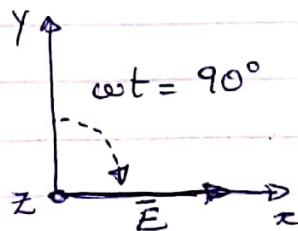
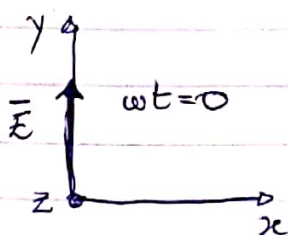
$\delta = +90^\circ \Rightarrow$ circ. polariz. à esquerda

$\delta = -90^\circ \Rightarrow$ " " " direita

Para $\delta = 90^\circ$ e $z=0$ e $t=0$, temos de (2) e (3):

$$\vec{E} = \hat{y} E_2. \quad (a)$$

um quarto de ciclo depois ($\omega t = 90^\circ$) $\Rightarrow \vec{E} = \hat{x} E_1$ (b)



Orientação instantânea p/ vetor \vec{E} em dois instantes de tempo p/ onda polariz. à esquerda.

O ângulo de inclinação é dado por:

$$\tan(2\tau) = \frac{2E_1E_2 \cos(\delta)}{E_1^2 - E_2^2} \quad (8)$$

Os semi-eixos da elipse (A e B):

$$A = \sqrt{\frac{1}{2}(E_1^2 + E_2^2) + \frac{s}{2}\sqrt{(E_1^2 - E_2^2)^2 + 4E_1^2E_2^2 \cos^2(\delta)}} \quad (9)$$

$$B = \sqrt{\frac{1}{2}(E_1^2 + E_2^2) - \frac{s}{2}\sqrt{(E_1^2 - E_2^2)^2 + 4E_1^2E_2^2 \cos^2(\delta)}} \quad (10)$$

onde

$$s = \text{sign}(E_1 - E_2) = \pm 1$$

Exemplos: Orfanides, Exemplo 2.5.1

Determine o estado de polarização dos seguintes campos: em $z=0$, restaurando $e^{j\omega t}$

$$a) \bar{E}(z) = -3j \hat{x} e^{-jkz}$$

$$E_x(t) = 3 \cos(\omega t - \pi/2)$$

$$\delta = \delta_x - \delta_y$$

$$E_y(t) = 0$$

Precisamos determinar:

$E_1, E_2, \delta, A, B, \tau$, sentido de rotação, tipo polariz.

Assim:

$$E_1 = 3 \quad E_2 = 0$$

$$\delta = -\pi/2 - 0 \Rightarrow \delta = -90^\circ$$

de (9):

$$A = \sqrt{\frac{1}{2}(3^2+0) + \frac{1}{2}\sqrt{(3^2-0)^2 + 4 \cdot 3^2 \cdot 0 \cdot \cos^2(-90^\circ)}} \quad \text{semi-eixo}$$

$$A = \sqrt{\frac{1}{2} \cdot 9 + \frac{1}{2} \cdot 9} \quad A = 3$$

de (10):

$$B = \sqrt{\frac{1}{2}(3^2-0) - \frac{1}{2}\sqrt{(3^2-0)^2 + 4 \cdot 3^2 \cdot 0 \cdot \cos^2(-90^\circ)}} \quad \text{semi-eixo}$$

$$B = \sqrt{\frac{1}{2} \cdot 9 - \frac{1}{2} \cdot 9} \quad B = 0$$

$$\text{de (8):} \quad \tan(2\tau) = \frac{2 \cdot 3 \cdot 0}{3^2 - 0^2} \cdot \cos(-90^\circ) \Rightarrow \tau = 0^\circ$$

sentido de rotação: $\rightarrow +x$

polariz.: linear / \uparrow frente

$$b) \vec{E}(z) = (3\hat{x} + 4\hat{y}) e^{+jkz}$$

$$E_x(t) = 3 \cos(\omega t)$$

$$E_y(t) = 4 \cos(\omega t)$$

$$E_1 = 3$$

$$E_2 = 4$$

$$\delta = 0^\circ$$

$$A = \sqrt{\frac{1}{2}(9+16) - \frac{1}{2}\sqrt{(9-16)^2 + 4 \cdot 9 \cdot 16 \cos^2(0)}}$$

$A = 0$ * * a elipse colapsa ao longo desse semi-eixo

$$B = \sqrt{\frac{1}{2}(9+16) + \frac{1}{2}\sqrt{(9-16)^2 + 4 \cdot 9 \cdot 16 \cos^2(0)}}$$

$B = 5$ * * e torna-se uma linha reta ao longo de semi-eixo B

$$\tan(2\alpha) = \frac{2 \cdot 3 \cdot 4 \cos(0)}{3^2 - 4^2}$$

$$\alpha = -36,87^\circ$$

A direção de fato do campo \vec{E} será:

$$90 - 36,87 = 53,13^\circ$$

q/ e igual ao ângulo de inclinação $\alpha \tan(E_2/E_1) = \alpha \tan(4/3) = 53,13^\circ$

sentido de rotação: $\nearrow 53,13^\circ$

polariz.: linear / \uparrow trás

$$c) \vec{E}(z) = (-4\hat{x} + 3\hat{y}) e^{-jkz}$$

$$E_x = 4 \cos(\omega t + \pi) \quad E_y = 3 \cos(\omega t)$$

$$E_1 = 4$$

$$E_2 = 3$$


$$\delta = +\pi$$

$$A = 5 \quad \text{linha reta ao longo desse semi-eixo}$$

$$B = 0 \quad \text{colapso nesse semi-eixo}$$

$$\tan(2\alpha) = \frac{2 \cdot 4 \cdot 3 \cos(\pi)}{4^2 - 3^2}$$

$$\alpha = -36,87^\circ \quad \text{coincide com a inclinação de } \vec{E}$$



polariz. : linear / p / frente

$$d) \vec{E}(z) = (3e^{j\pi/3}\hat{x} + 3\hat{y}) e^{+jkz}$$

$$E_x(t) = 3 \cos(\omega t + \pi/3) \quad E_y = 3 \cos(\omega t)$$

$$E_1 = 3$$

$$E_2 = 3$$

$$\delta = \pi/3$$

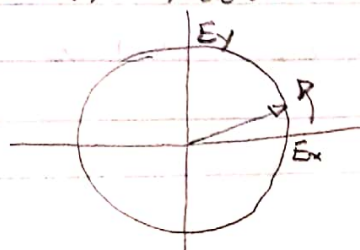
$$A = 3,674$$

$$B = 2,121$$

$$\alpha = 45^\circ$$

sentido : $E_x(t) = 3 \cos(\omega t + \pi/3) = 0,5 \cos(\omega t) - 0,866 \sin(\omega t)$

$$E_y(t) = \cos(\omega t)$$



como a prop \hat{e} em $-\hat{z}$

rotação: elíptica

polarização: esquerda / v / trás.

$$e) \vec{E}(z) = (4\hat{x} + 3e^{-j\pi/4}\hat{y}) e^{-jkz}$$

$$E_x(t) = 4 \cos(\omega t)$$

$$E_y(t) = 3 \cos(\omega t - \pi/4)$$

$$E_1 = 4$$

$$E_2 = 3$$

$$\delta = +\pi/4$$

$$A = 4,656$$

$$B = 1,822$$

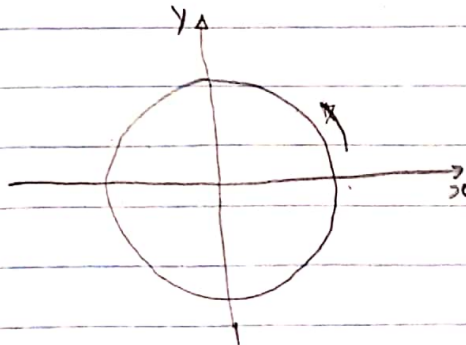
$$\alpha = 33,792^\circ$$

Determinando o sentido:

$$E_x(t) = 4 \cos(\omega t)$$

$$E_y(t) = 3 \left[\cos(\omega t) \frac{\sqrt{2}}{2} + \sin(\omega t) \frac{\sqrt{2}}{2} \right]$$

$$E_y(t) = \frac{3\sqrt{2}}{2} [\cos(\omega t) + \sin(\omega t)]$$



prop. $+\hat{z}$:

rotação: elíptica

polariz.: direita / p / frente

$$f) \bar{E}(z) = (3e^{-j\pi/8} \hat{x} + 4e^{j\pi/8} \hat{y}) e^{+jkz}$$

$$E_x(t) = 3 \cos(\omega t - \pi/8) \quad E_y(t) = 4 \cos(\omega t + \pi/8)$$

$$E_1 = 3$$

$$E_2 = 4$$

$$\delta = -\pi/4$$

$$A = 1,822$$

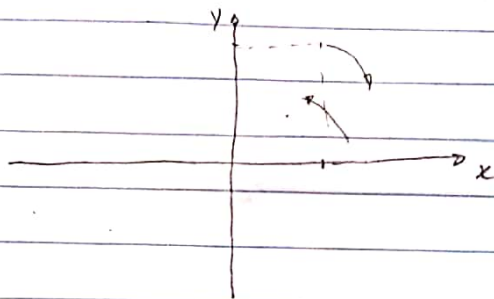
$$B = 4,656$$

$$\tau = -33,79^\circ$$

Determ. o sentido:

$$E_x = 3 [\cos(\omega t) \cdot 0,924 + \sin(\omega t) \cdot 0,383]$$

$$E_y = 4 [\cos(\omega t) \cdot 0,924 - \sin(\omega t) \cdot 0,383]$$



rotação elíptica

polariz.: direita / p/ trás

$$g) \bar{E}(z) = (4e^{j\pi/4} \hat{x} + 3e^{-j\pi/2} \hat{y}) e^{-jkz}$$

$$E_x = 4 \cos(\omega t + \pi/4) \quad E_y = 3 \cos(\omega t - \pi/2)$$

$$E_1 = 4$$

$$E_2 = 3$$

$$\delta = 3\pi/4$$

$$A = 4,656$$

$$B = 1,822$$

$$\tau = -33,79^\circ$$

sentido:

$$E_x = 4 \left[\cos(\omega t) \frac{\sqrt{2}}{2} - \sin(\omega t) \frac{\sqrt{2}}{2} \right] = 2\sqrt{2} [\cos(\omega t) - \sin(\omega t)]$$

$$E_y = 3 [\cos(\omega t) \cdot 0 + \sin(\omega t) \cdot 1] = 3 \cdot [\sin(\omega t)]$$

Elíptico, direita / p/ frente

$$h) \vec{E}(z) = (3e^{-j\pi/2} \hat{x} + 4e^{j\pi/4} \hat{y}) e^{jkz}$$

$$E_x = 3 \cos(\omega t - \pi/2)$$

$$E_y = 4 \cos(\omega t + \pi/4)$$

$$E_1 = 3$$

$$E_2 = 4$$

$$\delta = -3\pi/4$$

$$A = 1,822$$


$$B = 4,656$$

$$\gamma = 33,79^\circ$$

sentido :

$$E_x = 3 [\cos(\omega t) \cdot 0 + \sin(\omega t) \cdot 1] = 3 \sin(\omega t)$$

$$E_y = 4 [\cos(\omega t) \cdot \sqrt{2}/2 - \sin(\omega t) \sqrt{2}/2] = 2\sqrt{2} [\cos(\omega t) - \sin(\omega t)]$$



Elíptica , direita / p / trās.