



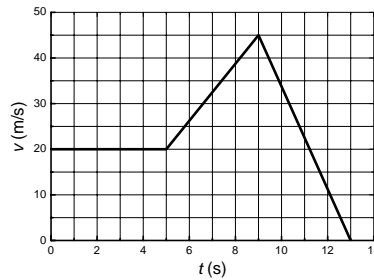
LISTA 02

Cinemática e dinâmica

- Um elétron, com velocidade inicial $v_x = 1,5 \times 10^5 \text{ m/s}$, entra em uma região com $1,2 \text{ cm}$ de comprimento, onde ele é eletricamente acelerado. O elétron emerge com velocidade de $5,8 \times 10^6 \text{ m/s}$. Qual a sua aceleração, suposta constante?
R: $1,4 \times 10^{15} \text{ m/s}^2$
- Exploradores espaciais pousam em um planeta de nosso sistema solar. Eles notam que uma pedra jogada verticalmente para cima com velocidade inicial de $14,6 \text{ m/s}$ necessita de $7,72 \text{ s}$ para retornar ao solo. Qual a gravidade deste planeta?
R: $3,78 \text{ m/s}^2$
- Um carro da polícia se desloca em linha reta com velocidade constante v_P . Um caminhão que se move no mesmo sentido com velocidade $\frac{3}{2}v_P$ ultrapassa o carro. A motorista que dirige o caminhão verifica que está acelerando e imediatamente começa a diminuir sua velocidade com uma taxa constante. Contudo, ela estava em um dia de sorte e o policial (ainda movendo-se com a mesma velocidade) passa pelo caminhão sem aplicar-lhe a multa.
 - Mostre que a velocidade do caminhão no instante em que o carro da polícia passa por ele não depende do módulo da aceleração do caminhão no momento em que ele começa a diminuir sua velocidade e calcule o valor dessa velocidade.
R: $v_C = \frac{1}{2}v_P$.
 - Faça um gráfico $x-t$ para os dois veículos.
- O gráfico da figura abaixo mostra a velocidade da motocicleta de um policial em função do tempo.
 - Calcule a aceleração instantânea para $t = 3 \text{ s}$, $t = 7 \text{ s}$ e $t = 11 \text{ s}$.
R: 0 m/s^2 , $6,25 \text{ m/s}^2$ e $-11,25 \text{ m/s}^2$.

- (b) Qual foi o deslocamento do policial nos 5 s iniciais? E nos 9 s iniciais? E nos 13 s iniciais?

R: 100 m, 230 m e 320 m.



5. O maquinista de um trem de passageiros que se move com velocidade v_1 , avista a sua frente, à distância d , um trem de carga que viaja nos mesmos trilhos e no mesmo sentido com velocidade menor v_2 . O maquinista do trem de passageiros freia o seu trem, aplicando-lhe uma desaceleração a . Mostre que se

$$d > \frac{(v_1 - v_2)^2}{2a}$$

não haverá colisão, mas se

$$d < \frac{(v_1 - v_2)^2}{2a}$$

haverá colisão.

6. A posição de uma partícula que se move ao longo do eixo x depende do tempo (para $t \geq 0$) de acordo com a equação

$$x(t) = At^2 - Bt^3$$

com $A = 1 \text{ m/s}^2$ e $B = 1 \text{ m/s}^3$.

- (a) Em que instante a partícula alcança sua posição positiva máxima em x ?

R: $t = \frac{2}{3} \text{ s}$

- (b) Qual a distância total percorrida pela partícula nos primeiros 4s?

R: $d = 48,3 \text{ m}$

- (c) Escreva a aceleração da partícula em função do tempo?

R: $a(t) = 2 - 6t$

7. Um método possível para medir a aceleração da gravidade g consiste em lançar uma bolinha, num tubo onde se fez vácuo, e medir com precisão os instantes t_1 e t_2 de passagem da bolinha na subida e na descida, respectivamente, por uma altura z conhecida. Mostre que

$$g = \frac{2z}{t_1 t_2}$$

8. A posição de uma partícula ao longo do eixo x é dada por

$$x(t) = At - Bt^{-2}$$

Onde $A = 1 \text{ m/s}$ e $B = 1 \text{ ms}^2$. Faça um gráfico para $t > 0$ de $x(t)$, $v(t)$ e $a(t)$.

9. Uma partícula, inicialmente em repouso na origem, move-se durante 10 s em linha reta com aceleração crescente segundo a lei $a = bt$, onde t é o tempo e $b = 0,5 \text{ m/s}^3$. A partir de $t = 10 \text{ s}$ sua aceleração é nula. Trace os gráficos da velocidade v e da posição x da partícula em função do tempo.

10. Uma bola A cai do topo de um edifício de altura h no mesmo instante em que uma bola B é lançada do solo, verticalmente para cima. Quando as bolas colidem, as velocidades são opostas e o valor da velocidade de A é o dobro da velocidade de B . A que fração da altura do edifício a colisão ocorre?

R: $\frac{2}{3}$

11. Uma partícula move-se no plano xy com uma aceleração $\vec{a} = 4\hat{i} \text{ m/s}^2$. A partícula sai da origem em $t = 0$, com a velocidade inicial $\vec{v}_0 = (20\hat{i} - 15\hat{j}) \text{ m/s}$.

(a) Determine o vetor velocidade da partícula para qualquer instante.

R: $\vec{v}(t) = [(20 + 4t)\hat{i} - 15\hat{j}] \text{ m/s}$

(b) Calcule o vetor velocidade da partícula, e o seu módulo para $t = 5 \text{ s}$.

R: $\vec{v}(5) = (40\hat{i} - 15\hat{j}) \text{ m/s}$ e $v = 43 \text{ m/s}$

(c) Determine o vetor posição da partícula em função do tempo t e a posição da partícula para $t = 5 \text{ s}$

R: $\vec{r}(t) = [(20t + 2t^2)\hat{i} - 15t\hat{j}] \text{ m}$ e $\vec{r}(5) = (150\hat{i} - 75\hat{j}) \text{ m}$

12. Um atleta dá um salto em distância, fazendo um ângulo inicial de 20° com o solo com uma velocidade de 11 m/s .

(a) Qual o alcance do salto?

R: $7,94 \text{ m}$

(b) Qual a altura máxima atingida?

R: $0,722 \text{ m}$

13. O movimento de uma partícula, para $t > 0$, é definido pelas equações

$$x(t) = a_x t^2 + c_1$$

$$y(t) = a_y t^2 - c_2$$

(uma partícula carregada, sujeita a uma força gravitacional vertical, movendo-se num campo elétrico horizontal obedeceria a equações desta forma).

- (a) Determine a expressão da velocidade e da aceleração como funções do tempo para um movimento descrito por estas equações.
- (b) Quais as dimensões das constantes a_x , a_y , c_1 e c_2 ?
- (c) Qual o significado físico das constantes c_1 e c_2 ?
- (d) Determine a velocidade e a aceleração da partícula para $t = 2$ s.

14. Uma pedra amarrada em uma corda move-se no plano xy . Suas coordenadas são dadas em função do tempo por $x(t) = R \cos(\omega t)$ e $y(t) = R \sin(\omega t)$ onde R e ω são constante.

- (a) Mostre que a distância da pedra até a origem é constante e igual a R , ou seja, sua trajetória é uma circunferência de raio R .
- (b) Mostre que em cada ponto o vetor velocidade é perpendicular ao vetor posição.
- (c) Mostre que o vetor aceleração é sempre oposto ao vetor posição e possui módulo igual a $\omega^2 R$.
- (d) Mostre que o módulo da velocidade da pedra é constante e igual a ωR .

15. Uma bola é atirada do chão para o alto. A uma altura de 9 m a sua velocidade, em m/s , é dada por $\vec{v} = 7\hat{i} + 6\hat{j}$ (x é o eixo horizontal; y o eixo vertical).

- (a) Até que altura a bola subirá?
R: 10,84 m
- (b) Qual será a distância horizontal percorrida pela bola?
R: 20,82 m
- (c) Qual o módulo da velocidade no ponto mais alto da trajetória?
R: 7 m/s
- (d) Qual o vetor velocidade da bola no instante em que ela toca o solo?
R: $(7\hat{i} - 14,6\hat{j})$ m/s

16. Um jogador de futebol inexperiente chuta um pênalti a 9 m do gol, levantando a bola com velocidade inicial de 15 m/s. A altura da trave é de $2,4$ m. Ele erra o chute, e a bola passa tocando levemente a trave (apesar disso a trajetória da bola não é alterada). Calcule as distâncias mínima e máxima entre a trave e o ponto em que a bola cai atrás do gol.

R: $d_{max} = 9,68$ m e $d_{min} = 0,56$ m

17. Mostre que um projétil lançado do chão com velocidade inicial v_0 pode atingir um ponto situado à uma distância x e à altura y para dois ângulos diferentes, contanto que o ponto (x, y) esteja abaixo da “parábola de segurança”:

$$y = \frac{1}{2} \left(A_m - \frac{x^2}{A_m} \right)$$

onde A_m é o alcance máximo.

18. Uma lancha tem o combustível necessário para navegar rio acima até um embarcadouro, a $4,0 h$ de viagem. A volta é feita com o motor desligado e a velocidade é a mesma da água do rio, onde o tempo de volta é de $8,0 h$ até chegar ao ponto de partida. Qual seria o tempo de volta caso a lancha voltasse utilizando o motor ligado?

R: $2,0 h$

19. Um trem viaja para o norte a $120 km/h$. A fumaça da locomotiva forma uma trilha que se estende numa direção 14° ao leste da direção sul, com o vento soprando na direção leste. Qual é a velocidade do vento?

R: $29,92 km/h$

20. Dois jogadores de futebol, Edinho e Túlio, pricipiam uma corrida, no mesmo instante a partir do mesmo ponto do campo. Edinho corre para leste a $4,0 m/s$, enquanto Túlio corre a 60° na direção nordeste, a $5,4 m/s$.

- (a) Quanto tempo terá passado até que os dois estejam distantes $25 m$ um do outro?

R: $5,15 s$

- (b) Qual a velocidade de Túlio em relação a Edinho?

R: $\vec{v}_{relativa} = -1,3\hat{i} + 4,676\hat{j}$ e $v = 4,85 m/s$

- (c) Qual a distância entre ambos depois de $4,0 s$?

R: $19,4 m$

21. Um portuário aplica uma força horizontal constante de $80,0 N$ em um bloco de gelo sobre uma superfície horizontal lisa. A força de atrito é desprezível. O bloco parte do repouso e se move $11,0 m$ em $5,00 s$.

- (a) Qual a massa do bloco de gelo?

R: $90,9 kg$

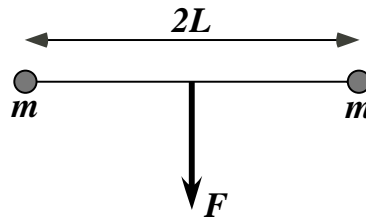
- (b) Se o portuário parar de empurrar o bloco depois de $5,00 s$, qual será a distância percorrida pelo bloco nos $5,00 s$ posteriores?

R: $22,0 m$

22. Duas partículas, cada uma de massa m , estão conectadas por uma corda leve de comprimento $2L$. Uma força F constante é aplicada no ponto médio da corda ($x = 0$) e faz um ângulo reto com a posição inicial desta (figura abaixo). Mostre que a aceleração de cada massa na direção perpendicular a F é dada por

$$a_x = \frac{F}{2m} \frac{x}{(L^2 - x^2)^{\frac{1}{2}}}$$

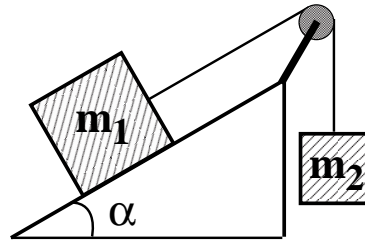
na qual x é a distância perpendicular de uma das partículas à linha de ação de F . Discuta a situação quando $x = L$.



23. Um bloco desliza sobre um plano inclinado de um ângulo θ . O coeficiente de atrito cinético entre o bloco e o plano é μ_k .
- Se o bloco acelera, descendo o plano inclinado, mostrar que a aceleração é dada por $a = g[\text{sen}(\theta) - \mu_k \cos(\theta)]$.
 - Se o bloco for projetado plano acima, mostrar que a sua aceleração é $a = -g[\text{sen}(\theta) + \mu_k \cos(\theta)]$.
24. Um bloco é lançado para cima, com velocidade de 5 m/s , sobre uma rampa de 45° de inclinação. O coeficiente de atrito cinético entre o bloco e a rampa é $0,3$. Determine a distância máxima atingida pelo bloco ao longo da rampa.
- R:** $d = \frac{25}{12,7\sqrt{2}} \text{ m}$
25. Um bloco de massa m_1 está sobre um plano inclinado com um ângulo de inclinação α e está ligado por uma corda que passa sobre uma polia pequena a um segundo bloco suspenso de massa m_2 (figura abaixo). O coeficiente de atrito cinético é μ_C e o coeficiente de atrito estático é μ_S .
- Ache a massa m_2 para a qual o bloco de massa m_1 sobe o plano com velocidade constante depois que ele entra em movimento.
- R:** $m_2 = m_1[\text{sen}(\alpha) + \mu_C \cos(\alpha)]$
- Ache a massa m_2 para a qual o bloco de massa m_1 desce o plano com velocidade constante depois que ele entra em movimento.
- R:** $m_2 = m_1[\text{sen}(\alpha) - \mu_C \cos(\alpha)]$

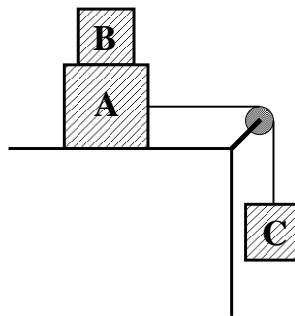
- (c) Para que valores de m_2 os blocos permanecem em repouso depois de eles serem liberados a partir do repouso?

R: $m_1[\text{sen}(\alpha) - \mu_s \text{cos}(\alpha)] \leq m_2 \leq m_1[\text{sen}(\alpha) + \mu_s \text{cos}(\alpha)]$



26. Um bloco B de massa m_B está sobre um bloco A de massa m_A , que por sua vez está sobre o topo de uma mesa horizontal (figura abaixo). O coeficiente de atrito cinético entre o bloco A e o topo da mesa é μ_C e o coeficiente de atrito estático entre o bloco A e o bloco B é μ_S . Um fio leve ligado ao bloco A passa sobre uma polia fixa sem atrito e o bloco C está suspenso na outra extremidade do fio. Qual deve ser o maior valor da massa m_C que o bloco C deve possuir para que os blocos A e B deslizem juntos quando o sistema for liberado a partir do repouso?

R: $m_C < \frac{(m_A + m_B)(\mu_S + \mu_C)}{1 - \mu_S}$



27. Dois blocos de massas $4,00 \text{ kg}$ e $8,00 \text{ kg}$ estão ligados por um fio e deslizam para baixo de um plano inclinado de $30,0^\circ$ (figura abaixo). O coeficiente de atrito cinético entre o bloco de $4,00 \text{ kg}$ e o plano é igual a $0,25$; e o coeficiente entre o bloco de $8,00 \text{ kg}$ e o plano é igual a $0,35$.

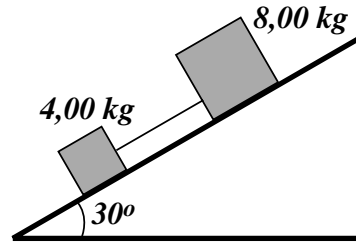
- (a) Qual é a aceleração de cada bloco?

R: $a = 2,21 \text{ m/s}^2$

- (b) Qual é a tensão na corda?

R: $T = 2,27 \text{ N}$

- (c) O que ocorreria se as posições dos blocos fossem invertidas, isto é, se o bloco de $4,00 \text{ kg}$ estivesse acima do bloco de $8,00 \text{ kg}$?



28. Um ginasta de massa m está subindo em uma corda vertical presa ao teto. O peso da corda pode ser desprezado. Calcule a tensão na corda quando o ginasta está

(a) subindo com velocidade constante;

R: mg

(b) suspenso em repouso na corda;

R: mg

(c) subindo e aumentando de velocidade com uma aceleração de módulo $|\vec{a}|$;

R: $m(g + |\vec{a}|)$

(d) descendo e aumentando de velocidade com uma aceleração de módulo $|\vec{a}|$;

R: $m(g - |\vec{a}|)$

29. Um macaco de 10 kg sobe por uma corda de massa desprezível que passa sobre o galho de uma árvore, sem atrito, e tem presa na outra extremidade um cacho de bananas de 15 kg , que está no solo.

(a) Qual o módulo da aceleração mínima que o macaco deve ter para levantar o cacho?

R: $4,9\text{ m/s}^2$

(b) Se, após levantar o cacho, o macaco para de subir mas continua agarrado à corda, qual é a sua aceleração e a tensão na corda.

R: $1,96\text{ m/s}^2$ e 117 N

30. A figura abaixo mostra um homem sentado numa plataforma de trabalho, pendendo de uma corda de massa desprezível que passa por uma polia, de massa e atrito nulos, e volta até às mãos do homem. A massa conjunta do homem e da plataforma é $95,9\text{ kg}$.


(a) Desenhe o diagrama de corpo livre para o homem e a plataforma considerados como sistemas separados, e outro para o homem e a plataforma considerados como um sistema.

(b) Com que força o homem deve puxar a corda para que ele consiga subir com velocidade constante?

R: 470 N

(c) Qual é a força necessária para subir com aceleração de $1,3 \text{ m/s}^2$?

R: 532 N



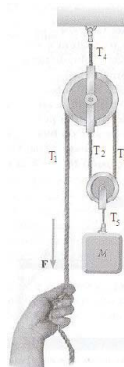
31. Um corpo de massa M é mantido em repouso por uma força aplicada F e por um sistema de polias como mostrado na figura abaixo. As polias são sem massa e sem atrito. Encontre:

(a) a tensão em cada trecho da corda, T_1 , T_2 , T_3 , T_4 e T_5

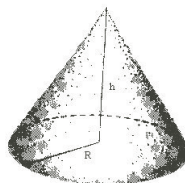
R: $T_1 = T_2 = T_3 = \frac{Mg}{2}$, $T_4 = \frac{3Mg}{2}$ e $T_5 = Mg$

(b) o módulo de F . (Dica: desenhe um diagrama de corpo livre para cada polia).

R: $F = \frac{Mg}{2}$

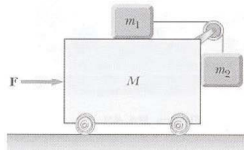


32. Um trabalhador deseja empilhar um monte de areia, em forma de cone, dentro de uma área circular (figura abaixo). O raio do círculo é R e nenhuma areia vaza para fora do círculo. Se μ_e é o coeficiente de atrito estático entre a camada de areia da superfície inclinada e a camada logo abaixo (sobre a qual ela pode deslizar), mostre que o maior volume de areia que pode ser empilhado dessa forma é $\frac{\pi\mu_e R^3}{3}$. (O volume de um cone é $\frac{Ah}{3}$, onde A é a área da base e h a altura do cone.)



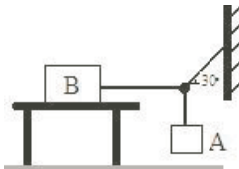
33. Qual é a força horizontal que deve ser aplicada ao carro mostrado na figura abaixo para que os blocos permaneçam estacionários em relação ao carro? (Dica: observe que a força exercida pelo fio acelera m_1).

R: $(M + m_1 + m_2) \left(\frac{m_2 g}{m_1} \right)$



34. O bloco B da figura abaixo pesa 711 N . O coeficiente de atrito estático entre o bloco e a superfície horizontal é $0,25$. Determine qual o peso máximo do bloco A para que o sistema ainda permaneça equilibrado.

R: 103 N .



35. Um pequeno botão sobre uma plataforma girante horizontal com diâmetro de $0,320 \text{ m}$ gira junto com a plataforma com $40,0 \text{ rev/min}$, desde que o botão não esteja a uma distância maior do que $0,150 \text{ m}$ do eixo.

- (a) Qual é o coeficiente de atrito estático entre o botão e a plataforma?

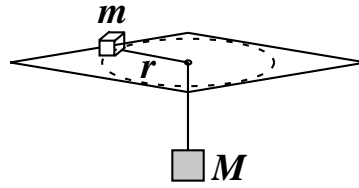
R: $0,269$

- (b) Qual é a distância máxima ao eixo da plataforma que o botão pode ser colocado sem que ele deslize, se a plataforma gira com $60,0 \text{ rev/min}$?

R: $0,067 \text{ m}$

36. Um pequeno bloco de massa m repousa sobre o topo de uma mesa horizontal sem atrito a uma distância r de um buraco situado no centro da mesa (figura abaixo). Um fio ligado ao bloco pequeno passa através do buraco e tem um bloco maior de massa M ligado em sua outra extremidade. O pequeno bloco descreve um movimento circular uniforme com raio r e velocidade v . Qual deve ser o valor de v para que o bloco grande permaneça imóvel quando liberado?

R: $v = \sqrt{\frac{grM}{m}}$



37. Considere um grande cilindro oco vertical girando ao redor de seu eixo e uma pessoa dentro dele (figura abaixo). Quando a velocidade do conjunto atinge um valor pre-determinado o piso do cilindro desce repentinamente, mas a pessoa que está dentro dele não cai, permanecendo presa à parede. O coeficiente de atrito estático entre uma pessoa e a parede é $\mu_e = 0,40$, e o raio do cilindro é $R = 2,1\text{ m}$.

(a) Obtenha o valor do período máximo de revolução necessário para evitar que a pessoa caia.

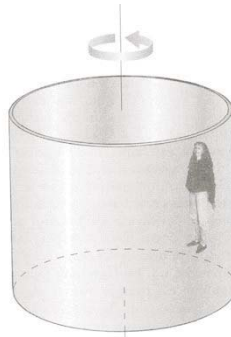
R: $1,84\text{ s}$

(b) Qual a velocidade escalar mínima do cilindro pra que a pessoa não caia?

R: $7,2\text{ m/s}$

(c) Se a massa da pessoa for de 49 kg , qual o módulo da força centrípeta que atuará sobre ela?

R: 1200 N .



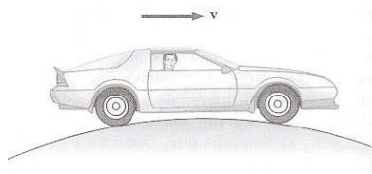
38. Um carro de massa m passa por uma elevação na pista que segue o arco de um círculo de raio R como na figura abaixo.

(a) Qual a força que a pista exerce sobre o carro quando ele passa pelo ponto mais alto da elevação se o carro viaja com velocidade escalar v ?

R: $m\left(g - \frac{v^2}{R}\right)$

(b) Qual é a velocidade escalar máxima que o carro pode ter quando ele passa pelo ponto mais alto antes de perder o contato com a pista?

R: \sqrt{gR} .



39. A figura abaixo mostra uma bola de $1,34 \text{ kg}$ presa a um eixo girante vertical por duas cordas de massas desprezíveis. As cordas estão esticadas e formam os lados de um triângulo equilátero. A tensão na corda superior é de 35 N .

(a) Desenhe o diagrama de corpo livre para a bola.

(b) Qual a tensão na corda inferior?

R: $8,74 \text{ N}$

(c) Qual a força resultante sobre a bola, no instante mostrado na figura?

R: $37,9 \text{ N}$

(d) Qual a velocidade da bola?

R: $6,45 \text{ m/s}$

