

Exercício: Calcule os componentes do tensor de Einstein para a métrica de Schwarzschild nas coordenadas acima

Exercício: Como um "CHECK" de consistência dos resultados obtidos no exercício anterior, verifique a identidade de Bianchi

Resp:

$$G_{00} = \frac{f}{r^2} \frac{d}{dr} [r(1-g')]]$$

$$G_{rr} = \frac{f'}{rf} - \frac{(g-1)}{r^2}$$

$$G_{00} = \frac{r^2}{2g} \left[\left(\frac{f'}{f} \right)' + \left(\frac{f'}{f} - \frac{g'}{g} \right) \left(\frac{f'}{2f} + \frac{1}{r} \right) \right]$$

$$G_{\theta\theta} = \sin^2\theta G_{00}$$

$$G_{\mu\nu} = 0 \text{ se } \mu \neq \nu$$

● SOLUÇÃO INTERIOR

$$G_{ab} = 8\pi G T_{ab}$$

A condição de estaticidade impõe que observadores estáticos (i.e., aqueles com linha-de-mundo coincidindo com as órbitas da isometria temporal: $u^a \propto \xi_{(t)}^a$) medem fluxo de energia nulo em qualquer direção. Ou seja, sendo $\{u^a, e_j^a\}$ a tetraeda associada a esses observadores, com $e_1^a \propto \partial_r^a$, $e_2^a \propto \partial_\theta^a$ e $e_3^a \propto \partial_\phi^a$, tem-se $T_{ab} u^a e_j^b = 0$. Além disso, um elemento de área orientado perpendicularmente a e_r^a não pode sofrer cisalhamento em nenhuma de suas direções tangentes, pois isso quebraria a simetria esférica: $T_{ab} e_r^a e_\theta^b = T_{ab} e_r^a e_\phi^b = 0$. Ainda pela simetria esférica, a projeção de T_{ab} no subespaço tangente à esfera, tem que ser proporcional à própria métrica da esfera:

$$T_{ab} (e_\theta^a e_\theta^b + e_\phi^a e_\phi^b) (e_\theta^c e_\theta^c + e_\phi^c e_\phi^c) \propto (e_\theta^c e_\theta^c + e_\phi^c e_\phi^c) \Rightarrow$$

$$\Rightarrow (T_{ab} e_\theta^a e_\theta^b) e_\theta^c e_\theta^c + (T_{ab} e_\theta^a e_\phi^b) (e_\theta^c e_\phi^c + e_\phi^c e_\theta^c) + (T_{ab} e_\phi^a e_\phi^b) e_\phi^c e_\phi^c \propto e_\theta^c e_\theta^c + e_\phi^c e_\phi^c \Rightarrow$$

$$\Rightarrow \begin{cases} T_{ab} e_\theta^a e_\theta^b = T_{ab} e_\phi^a e_\phi^b =: p_{\parallel} \\ T_{ab} e_\theta^a e_\phi^b = 0 \end{cases}$$

Logo, sendo $p := T_{ab} u^a u^b$ a densidade de energia medida localmente por esses observadores e $p_{\perp} := T_{ab} e_r^a e_r^b$ a pressão radial, temos:

$$T_{ab} e_\mu^a e_\nu^b = \begin{pmatrix} p & 0 & 0 & 0 \\ 0 & p_{\perp} & 0 & 0 \\ 0 & 0 & p_{\parallel} & 0 \\ 0 & 0 & 0 & p_{\parallel} \end{pmatrix}$$

Calculando $\{u^a, e_i^a\}$ em termos de $\{d_\mu^a\}$:

$$g_{ab} u^a u^b = -1 \Leftrightarrow g_{ab} u^{\mu a} d_\mu^a u^\nu b = -1 \Leftrightarrow g_{\mu\nu} u^\mu u^\nu = -1 \Rightarrow g_{00} (u^0)^2 = -1 \Rightarrow u^0 = \frac{1}{\sqrt{f}} \Rightarrow u_i^k = \frac{\delta_{0i}^k}{\sqrt{f}}$$

$$g_{ab} e_r^a e_r^b = 1 \Rightarrow g_{\mu\nu} e_r^\mu e_r^\nu = 1 \Rightarrow g_{rr} (e_r^r)^2 = 1 \Rightarrow (e_r^r)^2 = \frac{1}{g_r} \Rightarrow (e_r^r)^k = \frac{\delta_{0r}^k}{\sqrt{g_r}}$$

$$g_{ab} e_\theta^a e_\theta^b = 1 \Rightarrow g_{\mu\nu} e_\theta^\mu e_\theta^\nu = 1 \Rightarrow g_{\theta\theta} e_\theta^\theta e_\theta^\theta = 1 \Rightarrow e_\theta^\theta = \frac{1}{r} \Rightarrow e_\theta^k = \frac{\delta_{0\theta}^k}{r}$$

$$g_{ab} e_\varphi^a e_\varphi^b = 1 \Rightarrow g_{\mu\nu} e_\varphi^\mu e_\varphi^\nu = 1 \Rightarrow g_{\varphi\varphi} e_\varphi^\varphi e_\varphi^\varphi = 1 \Rightarrow e_\varphi^\varphi = \frac{1}{r \sin\theta} \Rightarrow e_\varphi^k = \frac{\delta_{0\varphi}^k}{r \sin\theta}$$

Assim, as componentes $T_{\mu\nu}$ são dadas por (mostre isso!):

$$T_{\mu\nu} = \begin{pmatrix} f\rho & 0 & 0 & 0 \\ 0 & g p_\perp & 0 & 0 \\ 0 & 0 & r^2 p_\parallel & 0 \\ 0 & 0 & 0 & r^2 \sin^2\theta p_\parallel \end{pmatrix}$$

Então, usando as componentes de G_{ab} nas coordenadas $\{t, r, \theta, \varphi\}$ calculadas no exercício da aula anterior, temos:

$$\begin{cases} \frac{1}{r^2} \frac{d}{dr} [r(1-g')] = 8\pi G \rho & \text{(I)} \\ \frac{f'}{rgf} - \frac{(1-g')}{r^2} = 8\pi G p_\perp & \text{(II)} \\ \frac{1}{2g} \left[\left(\frac{f'}{f}\right)' + \left(\frac{f'}{f} - \frac{g'}{g}\right) \left(\frac{f'}{2f} + \frac{1}{r}\right) \right] = 8\pi G p_\parallel & \text{(III)} \end{cases}$$

EXERCÍCIO: DETERMINE o vínculo imposto em ρ , ρ_{\perp} e ρ_{\parallel} devido à eq.
 $\nabla_a T^{ab} = 0$

Note que temos 3 equações independentes ((I) a (III) ou, por exemplo, (I), (II) e o vínculo do exercício acima) para 5 funções: $f, g, \rho, \rho_{\perp}, \rho_{\parallel}$. Isso vemos que temos que suplementar essas eqs. com duas "informações" adicionais. Há algumas maneiras p/ se fazer isso. Por exemplo, pode-se fornecer eqs. de estado da matéria relacionando ρ_{\perp} e ρ_{\parallel} com ρ ; ou então tentar fixar "à mão" duas das funções ρ, ρ_{\perp} e ρ_{\parallel} e torcer p/ que as eqs. de Einstein levem a alguma solução. Exploraremos algumas dessas possibilidades mais adiante. Mas primeiro, vamos manipular as eqs. (I) a (III) na tentativa de resolvê-las:

$$(I): \frac{d}{dr} [r(1-g')] = 8\pi G r^2 \rho \Leftrightarrow r(1-g') = 8\pi G \int_0^r d\tilde{r} \tilde{r}^2 \rho =: 2Gm(r), \quad m(r) := 4\pi \int_0^r d\tilde{r} \rho(\tilde{r}) \tilde{r}^2$$

$$\Rightarrow g(r) = \left[1 - \frac{2Gm(r)}{r} \right]^{-1} \quad (g \text{ e } \rho \text{ estão intimamente relacionados})$$

Embora pareça ser uma massa, tem-se que ser mais cuidadoso com sua interpretação.

(II): Substituindo $g(r)$ em (II), temos:

$$\frac{f'}{f} = \left[8\pi G \rho_{\perp} + \frac{2Gm(r)}{r^3} \right] r \left[1 - \frac{2Gm(r)}{r} \right] \Leftrightarrow f = e^{2\Phi}$$

$$\Leftrightarrow \frac{d\Phi}{dr} = \frac{G [4\pi \rho_{\perp} r^3 + m(r)]}{r^2 \left[1 - \frac{2Gm(r)}{r} \right]}$$

Φ é relacionado ao potencial Newtoniano no regime de campo fraco. Note que não apenas ρ mas ρ_{\perp} tbém é fonte de gravidade.

Ao invés de (III), usando o vínculo imposto por $\nabla_{\alpha} T^{\alpha\beta} = 0$ (vide EXERCÍCIO ANTERIOR), temos:

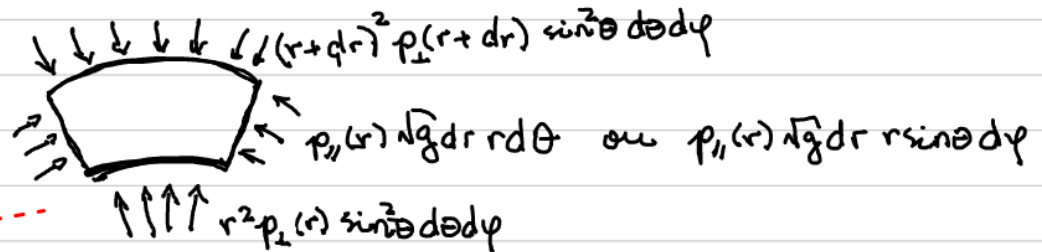
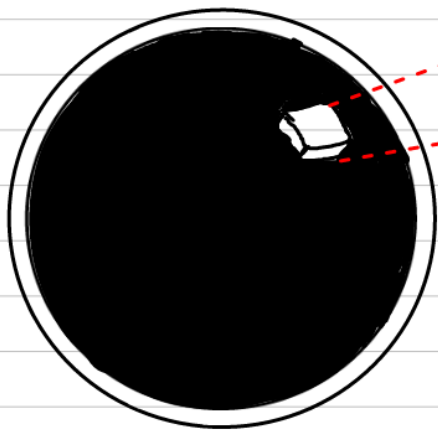
$$\frac{dp_{\perp}}{dr} + (p + p_{\perp}) \frac{d\Phi}{dr} + \frac{2}{r}(p_{\perp} - p_{\parallel}) = 0 \Leftrightarrow$$

$$\Leftrightarrow \boxed{-\frac{1}{r^2} \frac{d(r^2 p_{\perp})}{dr} + \frac{2p_{\parallel}}{r} = (p + p_{\perp}) \frac{d\Phi}{dr}} \quad \left(\begin{array}{l} \text{Ea. de equilíbrio} \\ \text{hidrostático} \end{array} \right)$$

Sustentação radial devida ao gradiente da pressão

Sustentação radial devida à pressão angular

"peso" do elemento de fluido



→ Fluido perfeito: $p_{\perp} = p_{\parallel} =: p$

Nesse caso, temos:

$$ds^2 = -e^{2\Phi} dt^2 + \frac{dr^2}{\left[1 - \frac{2Gm(r)}{r}\right]} + r^2 d\theta^2 + r^2 \sin^2\theta d\varphi^2,$$

com

$$m(r) := 4\pi \int_0^r d\bar{r} \bar{r}^2 \rho(\bar{r})$$

$$\boxed{\frac{dp}{dr} = -(\rho + p) \frac{d\Phi}{dr} = -\frac{G(\rho + p) \left[m(r) + 4\pi r^3 p \right]}{r^2 \left[1 - \frac{2Gm(r)}{r} \right]}}$$

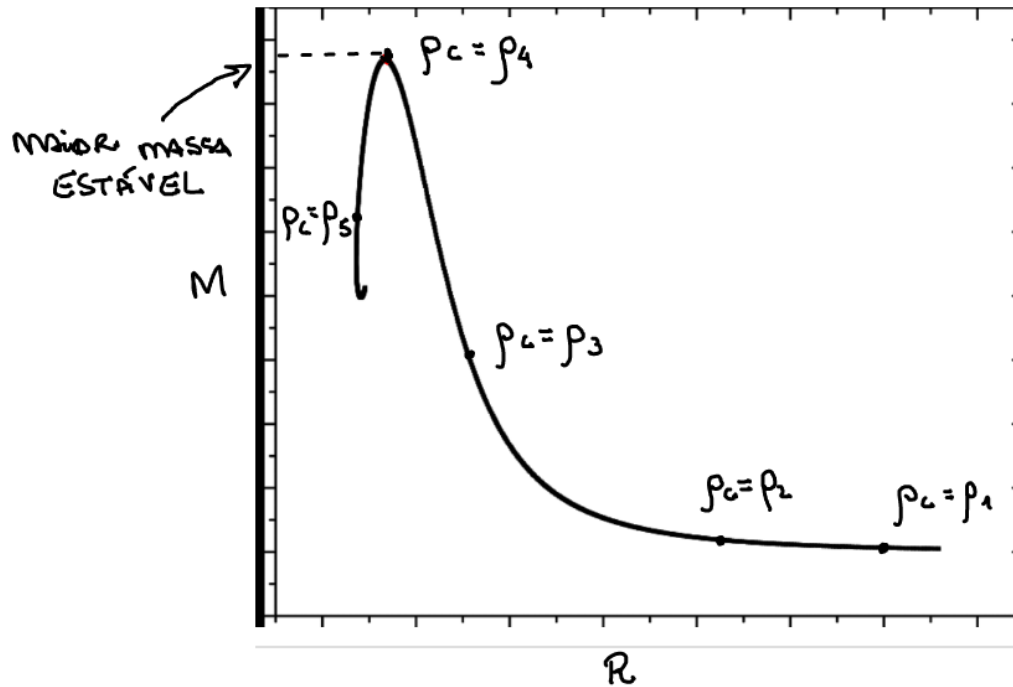
Eq. de Tolman-Oppenheimer-Volkoff (T.O.V.)

do equilíbrio hidrostático (p/ fluido perfeito)

Rotina p/ se resolver essas equações:

- 1- Dada uma equação de estado, $p = p(\rho)$, resolve-se concomitantemente as Eqs. $m(r)$ e T.O.V. para $\rho(r)$ e $p(r)$, integrando-as desde $r=0$ (onde $\rho = \rho_0$ e $p = p_0 = p(\rho_0)$) até o valor de r para o qual $p=0$: $r=R \Leftrightarrow p(R)=0$. Esse valor $r=R$ determina o raio do objeto (que dependerá da condição central $\rho = \rho_0$);
- 2- A partir de $m(r)$ calculado acima, p/ $0 \leq r \leq R$, calcula-se a "massa" do objeto por $M = m(R)$;
- 3- Sabendo $\rho(r)$ e $p(r)$, calcula-se $\Phi(r)$.

Note que, desse modo, M e R do objeto são funções da densidade central ρ_0 :
 $R = R(\rho_0)$, $M = M(\rho_0)$.



$\rho_c =$ densidade central

$$\rho_1 < \rho_2 < \rho_3 < \rho_4 < \rho_5$$

Roteiro alternativo: substituir 1 e 2 acima por

- 1' - Dá-se, "a mão", a distribuição $\rho = \rho(r)$, no intervalo $0 \leq r \leq R$ desejado (R é dado). Com isso, calcula-se $m(r)$ p/ $0 \leq r \leq R$, de onde sai a massa $M = m(R)$;
- 2' - Resolve-se T.O.V. p/ $\rho(r)$ de fora p/ dentro, com a condição "inicial" p/ $\rho(r)$ sendo $\rho(R) = 0$. Se existir solução $\rho(r)$ (finita) para todo valor $0 \leq r \leq R$, então $\rho(r)$ dado e $\rho(r)$ encontrado constituem uma configuração possível p/ o objeto;
- 3' - ... (vide roteiro anterior)

Exercício: Resolva a Eq.-de T.O.V. p/ um objeto com densidade uniforme, massa M e raio R , encontrando o valor da pressão central p_0 . Em seguida, determine o maior valor possível p/ $\frac{GM}{R}$ desse objeto.

Exercício: Refaça o exercício anterior mas agora p/ um objeto com perfil parabólico de densidade:



$$\rho(r) = \rho_0 \left(1 - \frac{r^2}{R^2}\right), \quad 0 \leq r \leq R$$