

1. 6.2 - simplificado [I*] A partir da força de Lorentz, mostre que o torque em um circuito elétrico quadrado em um campo magnético uniforme \vec{B} é $\vec{m} \times \vec{B}$.

$$\text{Força de Lorentz: } \vec{F} = \int I d\vec{l} \wedge \vec{B} \Rightarrow d\vec{F} = I d\vec{l} \wedge \vec{B}$$

$$\text{Torque } \vec{N} = \vec{r} \wedge \vec{F} \Rightarrow d\vec{N} = \vec{r} \wedge d\vec{F} = \vec{r} \wedge (I d\vec{l} \wedge \vec{B})$$

$$\vec{r} \wedge [d\vec{l} \wedge \vec{B}] + d\vec{l} \wedge (\vec{B} \wedge \vec{r}) + \vec{B} \wedge (\vec{r} \wedge d\vec{l}) = \vec{0} \quad (1.6) \quad (3)$$

\vec{B} sendo constante e $d\vec{r} = d\vec{l}$

$$d[\vec{r} \wedge (\vec{r} \wedge \vec{B})] = d\vec{r} \wedge (\vec{r} \wedge \vec{B}) + \vec{r} \wedge (d\vec{r} \wedge \vec{B}) = d\vec{l} \wedge (\vec{r} \wedge \vec{B}) + \vec{r} \wedge (d\vec{l} \wedge \vec{B})$$

$$d\vec{l} \wedge (\vec{r} \wedge \vec{B}) = d[\vec{r} \wedge (\vec{r} \wedge \vec{B})] - \vec{r} \wedge (d\vec{l} \wedge \vec{B}) \quad (3)$$

$$d\vec{l} \wedge (\vec{r} \wedge \vec{B}) = \vec{r} \wedge (d\vec{l} \wedge \vec{B}) + \vec{B} \wedge (\vec{r} \wedge d\vec{l}) \quad (2)$$

$$(3) = (2) \quad d[\vec{r} \wedge (\vec{r} \wedge \vec{B})] - \vec{r} \wedge (d\vec{l} \wedge \vec{B}) = \vec{r} \wedge (d\vec{l} \wedge \vec{B}) + \vec{B} \wedge (\vec{r} \wedge d\vec{l})$$

$$2\vec{r} \wedge (d\vec{l} \wedge \vec{B}) = d[\vec{r} \wedge (\vec{r} \wedge \vec{B})] - \vec{B} \wedge (\vec{r} \wedge d\vec{l})$$

$$(1) \quad d\vec{N} = I \left\{ \vec{r} \wedge (d\vec{l} \wedge \vec{B}) \right\} = \frac{1}{2} I \left\{ d[\vec{r} \wedge (\vec{r} \wedge \vec{B})] - \vec{B} \wedge (\vec{r} \wedge d\vec{l}) \right\}$$

$$\vec{N} = \frac{1}{4\pi\epsilon_0} \left\{ \oint \left[d(\vec{r} \wedge (\vec{v} \wedge \vec{B})) \right] - \oint \vec{B} \wedge (\vec{r} \wedge d\vec{\ell}) \right\}$$

$$\vec{N} = \frac{1}{2} I \oint \vec{B} \wedge (\vec{r} \wedge d\vec{\ell})$$

$$\vec{a} = \frac{1}{2} \oint \vec{r} \wedge d\vec{\ell} \quad (\text{C.1})$$

$$\vec{N} = \frac{1}{2} I \vec{B} \wedge \oint \vec{r} \wedge d\vec{\ell}$$

$$\vec{N} = \frac{1}{2} I \vec{B} \wedge \vec{a}$$

$$\vec{N} = \frac{1}{2} I \vec{a} \wedge \vec{B}$$

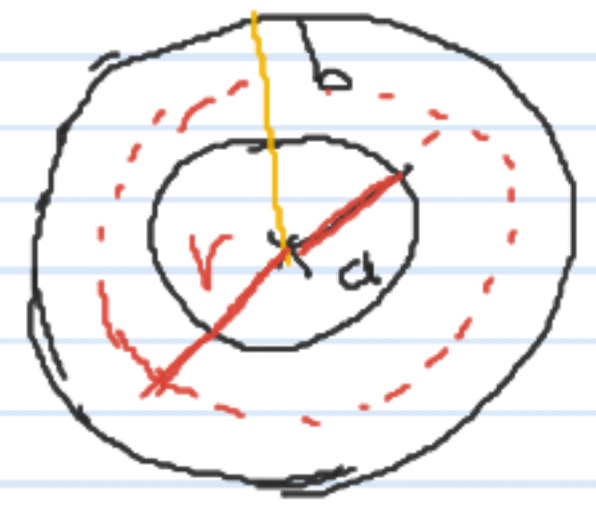
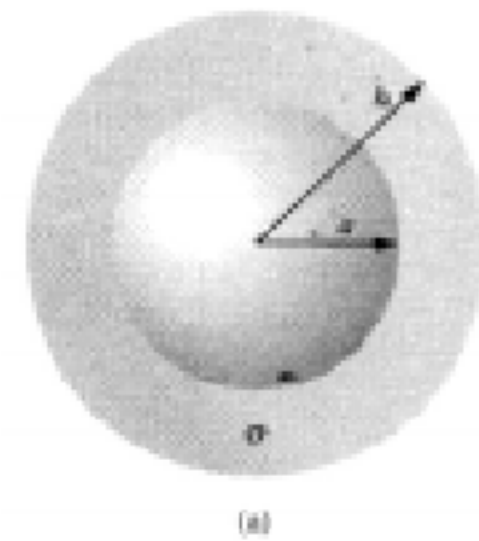
$$\vec{N} = I \vec{a} \wedge \vec{B}$$

$$\vec{m} : \text{momento} = I \vec{a}$$

$$\vec{N} = \vec{m} \wedge \vec{B}$$

9. 7.1 [V*] Duas cascas esféricas concêntricas, de raios a e b , respectivamente, são separados por um material com condutividade baixa σ (Fig. 7.4a).

- (a) Se eles forem mantidos a uma diferença de potencial V , qual a corrente que flui de uma para a outra?
 (b) Qual é a resistência do conjunto?



a) Corrente I ?

$$I = \int \vec{J} \cdot d\vec{a} \quad \text{e} \quad \vec{J} = \sigma \vec{E} \quad \vec{E} = ?$$

Aplicar lei de Gauss $\Rightarrow \vec{E} = \frac{Q}{4\pi\epsilon_0 r^2} \hat{r}$

$$I = \int \vec{J} \cdot d\vec{a} = \sigma \int \vec{E} \cdot d\vec{a} \quad ; \quad d\vec{a} = r^2 \sin\theta d\theta d\phi \hat{n} \quad \hat{n} = \hat{r}$$

$$I = \sigma \int_0^{2\pi} \int_0^{\pi} \frac{Q}{4\pi\epsilon_0 r^2} \times r^2 \sin\theta d\theta d\phi = \int_0^{2\pi} \int_0^{\pi} \frac{\sigma Q}{4\pi\epsilon_0} \sin\theta d\theta d\phi$$

$$I = b \frac{Q}{4\pi \epsilon_0} \times 2\pi \left[-\cos\theta \right]_0^\pi = \frac{Q \times 2\pi}{4\pi \epsilon_0} (1+1) = \frac{4\pi Q}{4\pi \epsilon_0} = b \frac{Q}{\epsilon_0}$$

$$I = \frac{bQ}{\epsilon_0} \quad Q = ?$$

$$V_a = V_b \Rightarrow - \int E \cdot d\vec{r} = - \int_a^b \frac{Q}{4\pi \epsilon_0 r^2} dr = - \frac{Q}{4\pi \epsilon_0} \left[-\frac{1}{r} \right]_a^b = \frac{Q}{4\pi \epsilon_0} \left(\frac{1}{a} - \frac{1}{b} \right)$$

$$V_a - V_b = \frac{Q}{4\pi \epsilon_0} \left(\frac{1}{a} - \frac{1}{b} \right) \Rightarrow Q = (V_a - V_b) \frac{4\pi \epsilon_0}{\left(\frac{1}{a} - \frac{1}{b} \right)}$$

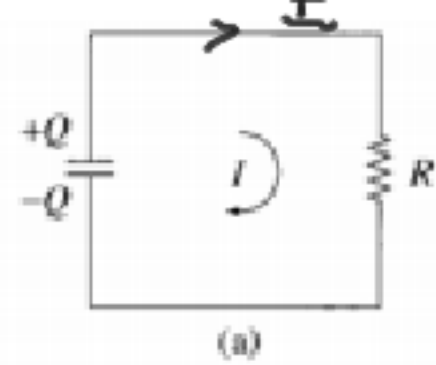
$$I = \frac{b \cdot 4\pi \cancel{\epsilon_0} (V_a - V_b)}{\cancel{\epsilon_0} \left(\frac{1}{a} - \frac{1}{b} \right)}$$

b) Resistancia ? $V = RI \Rightarrow I = \frac{V_a - V_b}{R} = \frac{b \cdot 4\pi \cdot (V_a - V_b)}{\left(\frac{1}{a} - \frac{1}{b} \right) \cdot R}$

$$\frac{1}{R} = \frac{64\pi}{\left(\frac{1}{a} - \frac{1}{b}\right)} \Rightarrow$$

$$R = \frac{\left(\frac{1}{a} - \frac{1}{b}\right)}{64\pi}$$

10. 7.2 [VI*] Um capacitor C , com dielétrico perfeitamente isolante, é carregado inicialmente até ter potencial V_0 . No instante $t = 0$, ele é conectado a um resistor R e começa a se descarregar (Fig. 7.5a). Qual é a corrente $I(t)$ através do resistor?



$$V - RI = 0 \quad \Rightarrow \quad V = RI \quad \Rightarrow \quad I = \frac{V}{R}, \quad V = \frac{Q}{C}$$

$$I = \frac{dQ(t)}{dt}$$


$$I(t) = -\frac{dQ}{dt} = \frac{Q(t)}{RC}$$

$$+ \frac{dQ}{dt} = -\frac{1}{RC} Q \quad \Rightarrow \quad Q = Q_0 \exp\left(-\frac{t}{RC}\right), \quad \text{at } t=0 \quad Q = Q_0$$

$$Q_0 = CV_0 \quad \Rightarrow \quad Q = CV_0 \exp\left(-\frac{t}{RC}\right) \quad \Rightarrow \quad I(t) = \frac{dQ}{dt} = -\frac{CV_0}{RC} \exp\left(-\frac{t}{RC}\right)$$

$$I(t) = \frac{V_0}{R} \exp\left(-\frac{t}{RC}\right)$$

3. 6.8 [II*] Um cilindro muito longo de raio R tem magnetização $\vec{M} = ks^2\hat{\phi}$, onde k é uma constante, em coordenadas cilíndricas (Fig. 6.13). Encontre o campo magnético devido a \vec{M} , dentro do cilindro.



Campo magnético devido a \vec{M}

lei de Ampere $\int \vec{B} \cdot d\vec{\ell} = \mu_0 I_{int} = \mu_0 \int \vec{j} \cdot d\vec{a}$

$$\vec{j} = \vec{j}_b = \nabla \wedge \vec{M} = \frac{1}{s} \frac{d}{ds} (s) s \wedge ks^2 \hat{\phi} = \frac{1}{s} \frac{d}{ds} (s ks^2) \hat{z}$$

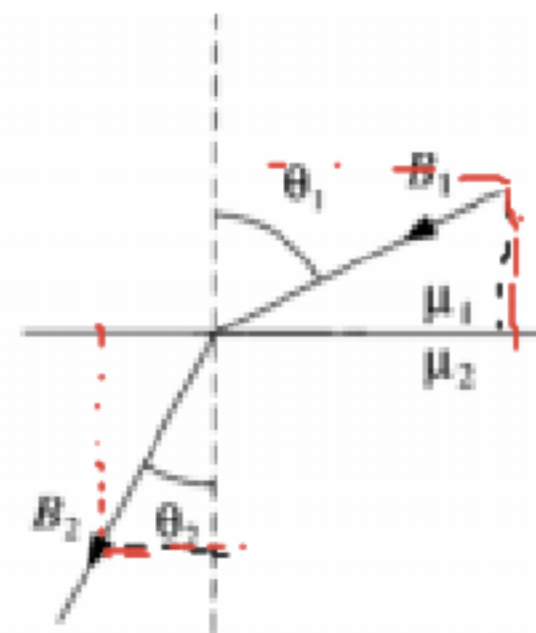
$$\vec{j} = \frac{1}{s} \frac{d}{ds} (ks^3) \hat{z} = \frac{1}{s} k \times 3s^2 \hat{z} = 3ks \hat{z}$$

$$B \times 2\pi s = \mu_0 \int j \times 2\pi s ds = \mu_0 \int 2\pi \times 3ks^2 ds$$

$$B s = 3\mu_0 k \int s^2 ds = 3\mu_0 k \left[\frac{s^3}{3} \right]_0^s = \mu_0 k s^2$$

$$B = \mu_0 k s^2 \Rightarrow \vec{B} = \mu_0 \vec{M}$$

7. 6.26 [IV*] Na interface entre um meio magnético linear e outro, as linhas de campo magnético mudam de direção. Veja a Fig. 6.32. Mostre que $\tan \theta_2 / \tan \theta_1 = \mu_2 / \mu_1$. Suponha que não há correntes livres na superfície.



$$B_{1n} = B_{2n} \quad (n: \text{normal})$$

$$H_{2||} = H_{1||} \quad \text{não há correntes livres na superfície}$$

$$B = \mu H \Rightarrow \frac{B_{2||}}{\mu_2} = \frac{B_{1||}}{\mu_1}$$

$$\Rightarrow \frac{B_{2||}}{B_{1||}} = \frac{\mu_2}{\mu_1} \quad (1)$$

$$\tan \theta_2 = \frac{B_{2||}}{B_{2n}}$$

$$\tan \theta_1 = \frac{B_{1||}}{B_{1n}}$$

$$\Rightarrow \frac{\tan \theta_2}{\tan \theta_1} = \frac{B_{2||}}{B_{2n}} \times \frac{B_{1n}}{B_{1||}} = \frac{B_{2||}}{B_{1||}} \quad (2)$$

$$(1) \text{ e } (2) \Rightarrow \tan \theta_2 / \tan \theta_1 = \mu_2 / \mu_1$$

