


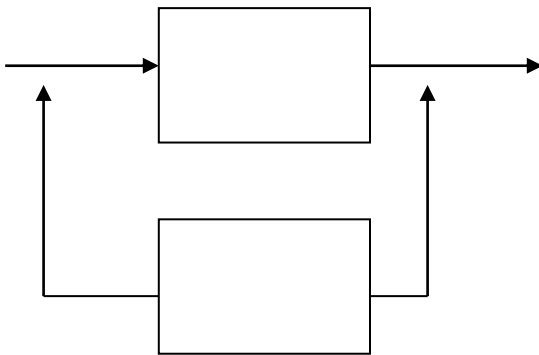
## EXERCÍCIO 18

Avaliar a melhor alternativa, em função da confiabilidade de um módulo, a Confiabilidade final dos seguintes sistemas:

a) Módulo Simples

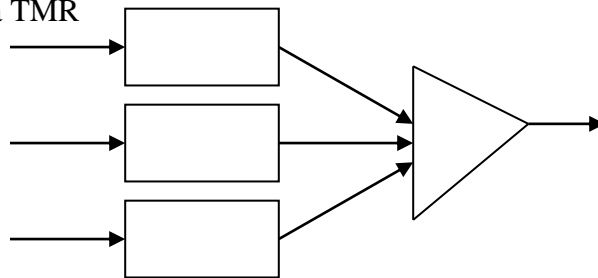


b) Módulo com Sobressalente



Considerar a influência do Fator de Cobertura – C

c) Sistema TMR



Considerar o Votador com Confiabilidade Perfeita.