

LOM3202 – CIRCUITOS ELÉTRICOS

AULA 9

Prof. Dr. Emerson G. Melo

Sumário

- ☐ Senoides;
- ☐ Fasores;
- ☐ Impedância e Admitância;

- ❑ Senoide é um sinal que possui a forma da função seno ou cosseno;
- ❑ Uma corrente senoidal é normalmente conhecida como *corrente alternada (CA)*;
- ❑ Circuitos acionados por fontes de tensão ou corrente senoidais são chamados *circuitos CA (AC)*.
- ❑ Vantagens:
 - ❑ A natureza apresenta diversos sistemas com comportamento senoidal;
 - ❑ Facilidade matemática para lidar com funções senoidais;
 - ❑ Simplicidade para analisar sinais através de Séries de Fourier;
 - ❑ Menor custo para geração e transmissão de energia.

Senoides são funções periódicas, pois satisfazem a equação $f(t) = f(t + nT)$, para todo t e valores inteiros de n .

$$v(t) = V_m \text{sen } \omega t$$

$$\omega = 2\pi f$$

$$f = \frac{1}{T}$$

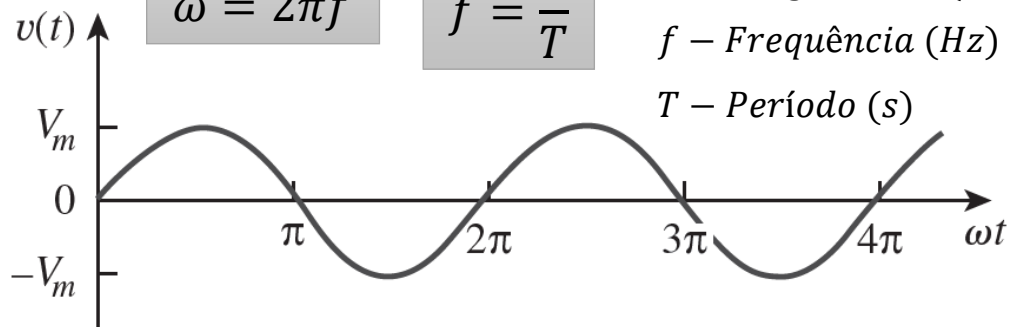
V_m – Amplitude

ω – Frequência angular (rad/s)

ωt – Argumento (rad)

f – Frequência (Hz)

T – Período (s)

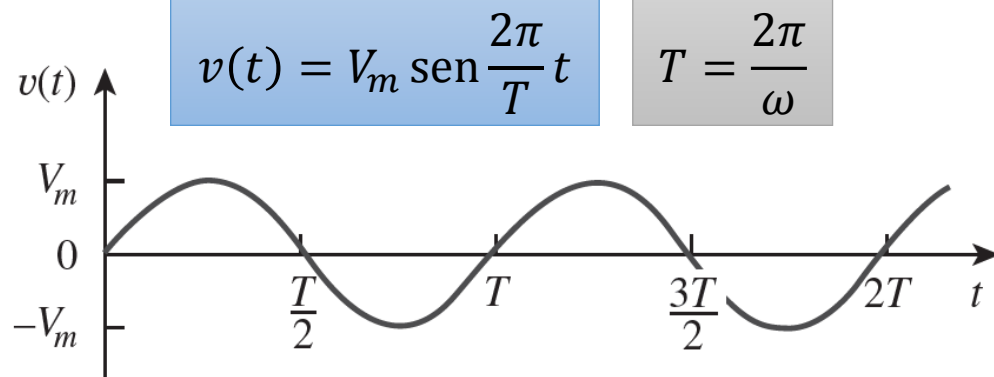


Função Periódica

$$v(t + T) = v(t)$$

$$v(t + T) = V_m \text{sen } \omega(t + T) = V_m \text{sen } \omega \left(t + \frac{2\pi}{\omega} \right)$$

$$V_m \text{sen}(\omega t + 2\pi) = V_m \text{sen } \omega t = v(t)$$

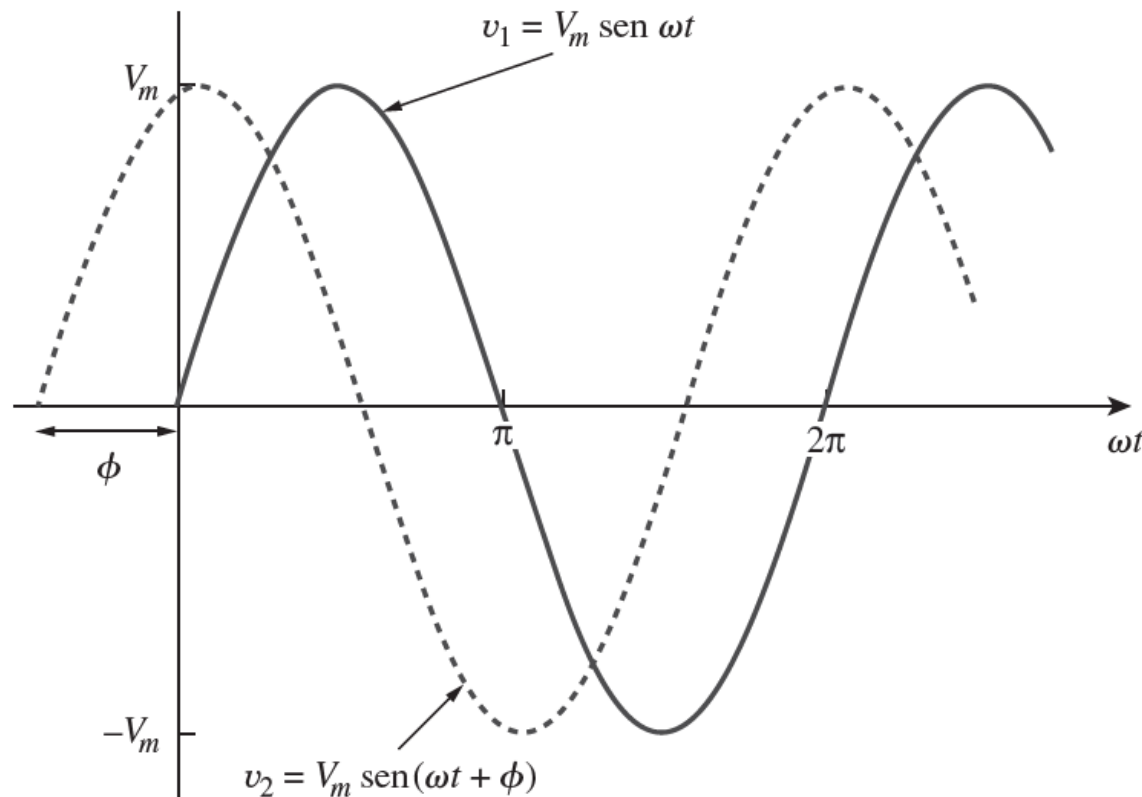


□ Uma senoide é caracterizada por amplitude, frequência e fase.

$$v_1(t) = V_m \text{sen } \omega t$$

$$v_2(t) = V_m \text{sen}(\omega t + \phi)$$

ϕ – Fase (rad)



Sinais em Fase

$$\phi = 0$$

Sinais fora de Fase

$$\phi \neq 0$$

Sinais em Contra-Fase

$$\phi = \pi$$

- Através da fase, funções seno podem ser transformadas em cosseno e vice-versa.

Identidades Trigonômicas

$$\text{sen}(A \pm B) = \text{sen } A \cos B \pm \cos A \text{sen } B$$

$$\text{cos}(A \pm B) = \text{cos } A \cos B \mp \text{sen } A \text{sen } B$$

$$\text{sen}(\omega t \pm 180^\circ) = \text{sen } \omega t \cos 180^\circ \pm \cos \omega t \text{sen } 180^\circ = -\text{sen } \omega t$$

$$\text{cos}(\omega t \pm 180^\circ) = \text{cos } \omega t \cos 180^\circ \mp \text{sen } \omega t \text{sen } 180^\circ = -\text{cos } \omega t$$

$$\text{sen}(\omega t \pm 90^\circ) = \text{sen } \omega t \cos 90^\circ \pm \cos \omega t \text{sen } 90^\circ = \pm \text{cos } \omega t$$

$$\text{cos}(\omega t \pm 90^\circ) = \text{cos } \omega t \cos 90^\circ \mp \text{sen } \omega t \text{sen } 90^\circ = \mp \text{sen } \omega t$$

- ❑ Conjunto numérico (\mathbb{C}) mais abrangente que o dos números Reais (\mathbb{R}).
- ❑ Compreendem valores compostos por uma parte REAL e uma parte IMAGINÁRIA que representa raízes de números negativos: $i = \sqrt{-1}$.
- ❑ Em engenharia utiliza-se j para denotar a parte imaginária, já que i geralmente representa corrente elétrica.

Forma retangular

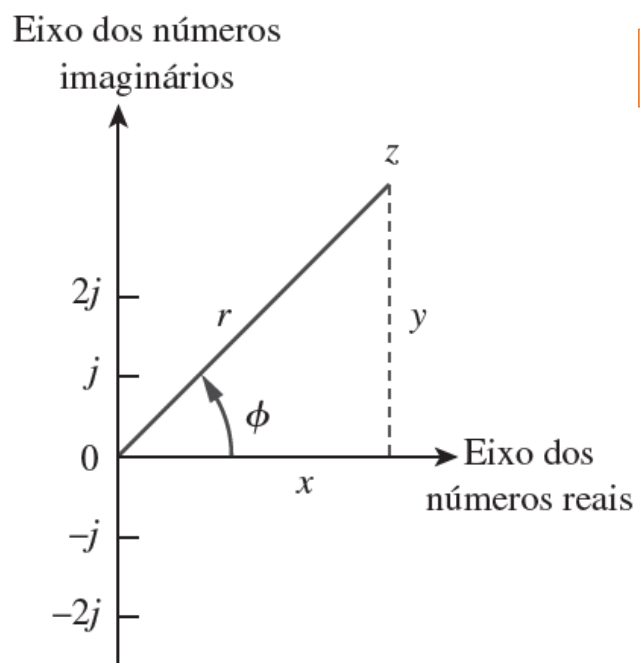
$$z = x + jy$$

Forma polar

$$z = r \angle \phi$$

Forma exponencial

$$z = r e^{j\phi}$$



Relações entre formas retangular, polar e exponencial

$$x = r \cos \phi \quad y = r \sin \phi$$

$$r = \sqrt{x^2 + y^2} \quad \phi = \tan^{-1} \frac{y}{x}$$

$$z = x + jy = r(\cos \phi + j \sin \phi) = r e^{j\phi}$$

$$\cos \phi = \text{Re}\{e^{j\phi}\} \quad \sin \phi = \text{Im}\{e^{j\phi}\}$$

Operações matemáticas.

Adição e Subtração

$$z_1 + z_2 = (x_1 + x_2) + j(y_1 + y_2)$$

$$z_1 - z_2 = (x_1 - x_2) - j(y_1 - y_2)$$

Multiplicação e Divisão

$$z_1 z_2 = r_1 r_2 \angle \phi_1 + \phi_2$$

$$\frac{z_1}{z_2} = \frac{r_1}{r_2} \angle \phi_1 - \phi_2$$

Inverso

$$\frac{1}{z} = \frac{1}{r} \angle -\phi$$

Raiz Quadrada

$$\sqrt{z} = \sqrt{r} \angle \phi/2$$

Complexo Conjugado

$$z = x + jy = r \angle \phi = r e^{j\phi}$$

$$z^* = x - jy = r \angle -\phi = r e^{-j\phi}$$

□ Fasor é uma representação complexa de uma senoide.

$$v(t) = V_m \cos(\omega t + \phi) = \text{Re}(V_m e^{j(\omega t + \phi)}) = \text{Re}(V_m e^{j\phi} e^{j\omega t})$$

Relação de Euler

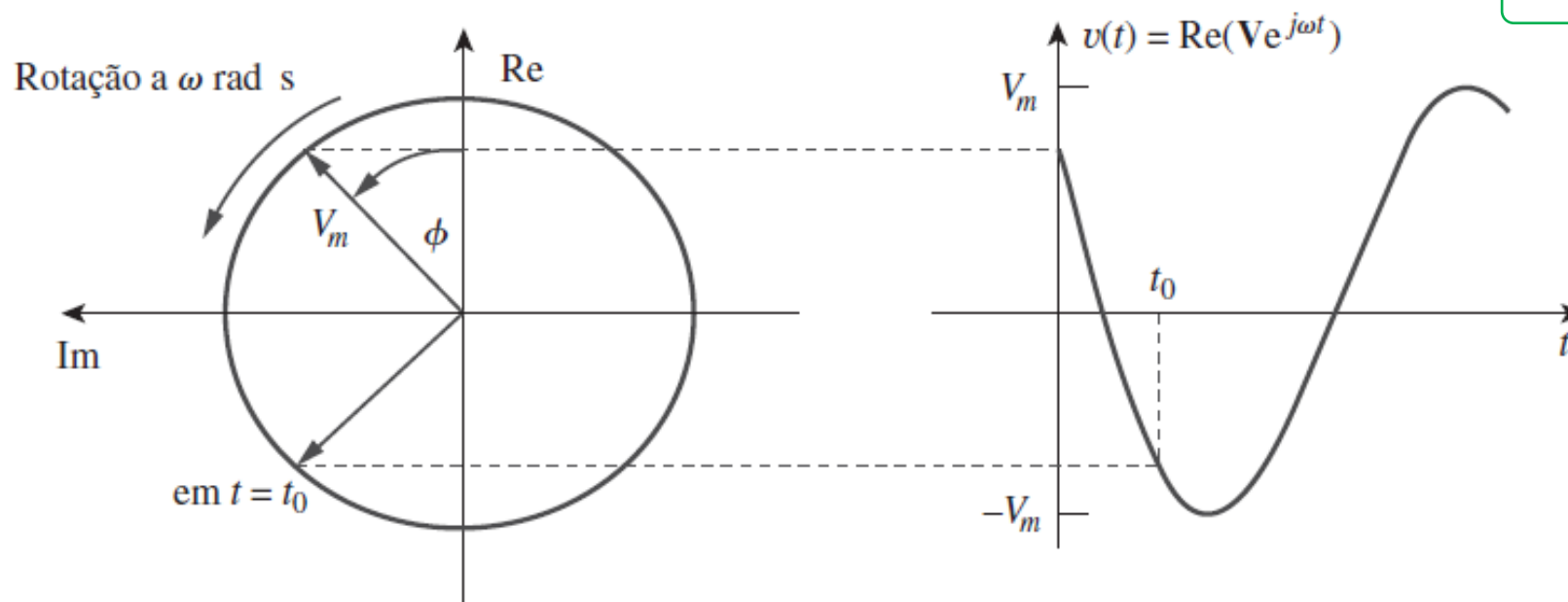
$$e^{j\phi} = \cos \phi + j \sin \phi$$

$$\mathbb{V} = V_m e^{j\phi} = V_m \angle \phi$$

$$v(t) = \text{Re}(\mathbb{V} e^{j\omega t})$$

Fase da Parte Imaginária

$$\pm j = 1 \angle \pm 90^\circ$$



□ Representação Temporal e Representação Fasorial.

Representação Temporal

$$v(t) = V_m \cos(\omega t + \phi)$$

$$v(t) = V_m \sin(\omega t + \phi) = V_m \cos(\omega t + \phi - 90)$$

$$i(t) = I_m \cos(\omega t + \theta)$$

$$i(t) = I_m \sin(\omega t + \theta) = I_m \cos(\omega t + \theta - 90)$$

Domínio do Tempo

Conversão para cosseno

Representação Fasorial

$$\mathbb{V} = V_m \angle \phi$$

$$\mathbb{V} = V_m \angle \phi - 90$$

$$\mathbb{I} = I_m \angle \theta$$

$$\mathbb{I} = I_m \angle \theta - 90$$

Domínio da Frequência

□ Representação Temporal e Representação Fasorial.

Representação Temporal

$$\frac{dv(t)}{dt} = -\omega V_m \text{sen}(\omega t + \phi)$$

Domínio do Tempo

Representação Fasorial

$$\frac{d\mathbb{V}e^{j\omega t}}{dt} = j\omega \mathbb{V}e^{j\omega t}$$

$$j\omega = \omega \angle 90$$

$$\text{Re}(\mathbb{V}e^{j\omega t}) = V_m \cos(\omega t + \phi) = V_m \angle \omega t + \phi$$

$$j\omega \mathbb{V}e^{j\omega t} = \omega \angle 90 \times V_m \angle \omega t + \phi = \omega V_m \angle \omega t + \phi + 90$$

$$\omega V_m \cos(\omega t + \phi + 90) = -\omega V_m \text{sen}(\omega t + \phi)$$

$$\frac{dv(t)}{dt} \Leftrightarrow j\omega \mathbb{V}$$

$$\int v(t) dt \Leftrightarrow \frac{\mathbb{V}}{j\omega}$$

Domínio da Frequência

Exemplo de Aplicação

□ Determine a corrente em um circuito descrito pela equação:

$$4i + 8 \int i(t)dt - 3 \frac{di(t)}{dt} = 50 \cos(2t + 75^\circ)$$

$$i = 1 + j0 = 1 \angle 0^\circ = \mathbb{I}$$

$$\int i(t)dt = \frac{\mathbb{I}}{j\omega}$$

$$\frac{di(t)}{dt} \Leftrightarrow j\omega \mathbb{I}$$

$$50 \cos(2t + 75^\circ) = 50 \angle 75^\circ$$

$$4\mathbb{I} + 8 \frac{\mathbb{I}}{j\omega} - 3j\omega \mathbb{I} = 50 \angle 75^\circ$$

$$\omega = 2 \text{ Hz}$$

Nesse caso ω é conhecido, então é possível obter uma solução particular.

$$4\mathbb{I} + 8 \frac{\mathbb{I}}{j2} - 3j2\mathbb{I} = 50 \angle 75^\circ$$

$$\frac{1}{j} = -j$$

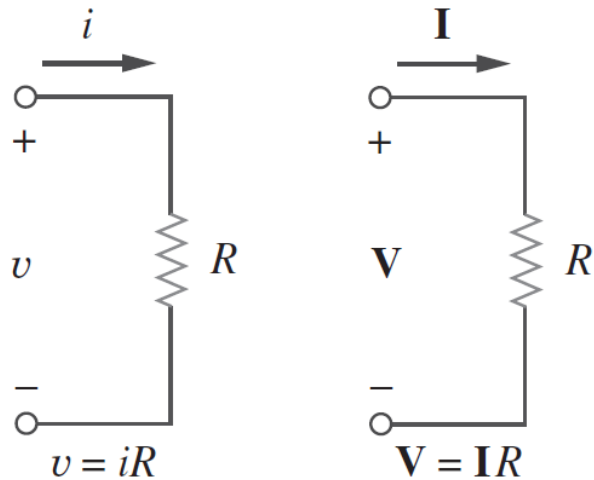
$$\mathbb{I}(4 - j4 - j6) = 50 \angle 75^\circ$$

$$\mathbb{I}(10,77 \angle -68,2^\circ) = 50 \angle 75^\circ$$

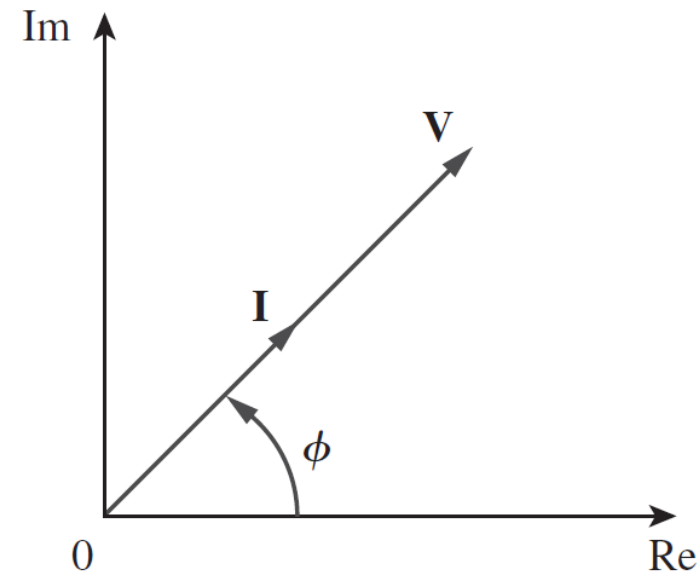
$$\mathbb{I} = \frac{50 \angle 75^\circ}{10,77 \angle -68,2^\circ} = 4,642 \angle 143,2^\circ \text{ A}$$

$$i(t) = 4,642 \cos(2t + 143,2^\circ) \text{ A}$$

Representação da corrente e tensão no RESISTOR.



$$V = RI$$

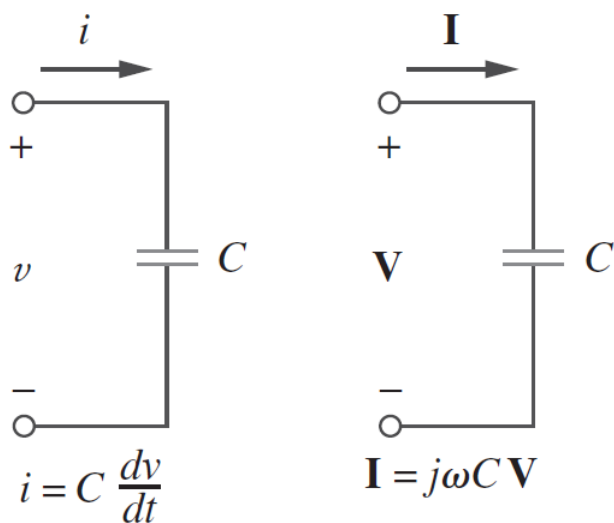


Tensão e Corrente estão em FASE

$$i(t) = I_m \cos(\omega t + \phi) \Leftrightarrow I_m \angle \phi = I$$

$$v(t) = RI_m \cos(\omega t + \phi) \Leftrightarrow V = RI$$

Representação da corrente e tensão no Capacitor.



$$\mathbb{V} = \frac{\mathbb{I}}{j\omega C}$$

$$\mathbb{V} = -j \frac{\mathbb{I}}{\omega C}$$

$$\pm j = 1 \angle \pm 90^\circ$$

$$\mathbb{V} = -j \frac{I_m \angle \phi}{\omega C}$$

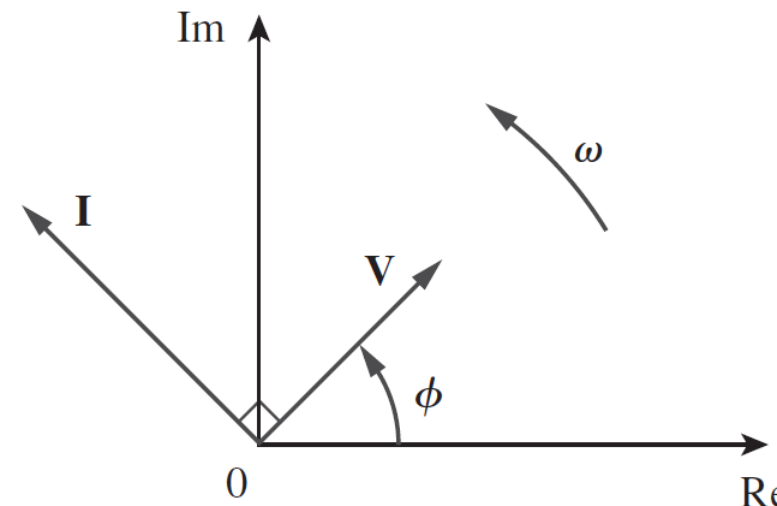
$$\mathbb{V} = \frac{I_m \angle \phi \times 1 \angle -90^\circ}{\omega C}$$

$$\mathbb{V} = \frac{I_m \angle \phi - 90^\circ}{\omega C}$$

$$v(t) = V_m \cos(\omega t + \phi) \Leftrightarrow V_m \angle \phi = \mathbb{V}$$

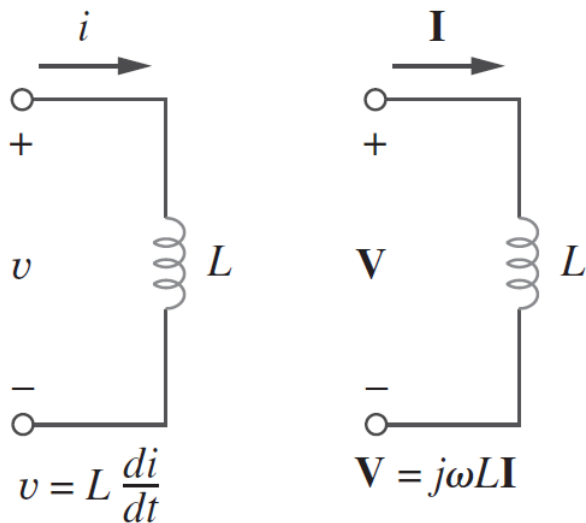
$$i(t) = C \frac{dv(t)}{dt} \Leftrightarrow \mathbb{I} = Cj\omega \mathbb{V} \Leftrightarrow \mathbb{V} = \frac{\mathbb{I}}{j\omega C}$$

$$\frac{dv(t)}{dt} \Leftrightarrow j\omega \mathbb{V}$$



A tensão no capacitor está atrasada em 90°

Representação da corrente e tensão no INDUTOR.



$$V = j\omega LI$$

$$V = j\omega LI_m \angle \phi$$

$$V = \omega LI_m \angle \phi \times 1 \angle 90^\circ$$

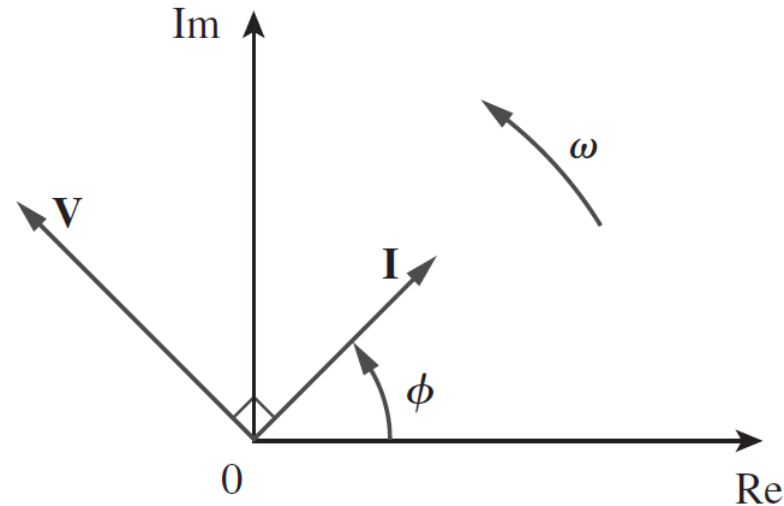
$$V = \omega LI_m \angle \phi + 90^\circ$$

$$\pm j = 1 \angle \pm 90^\circ$$

$$i(t) = I_m \cos(\omega t + \phi) \Leftrightarrow I_m \angle \phi = I$$

$$v(t) = L \frac{di}{dt} \Leftrightarrow V = j\omega LI$$

$$\frac{di}{dt} \Leftrightarrow j\omega I$$



A tensão no indutor está adiantada em 90°

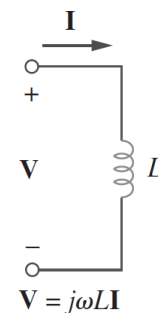
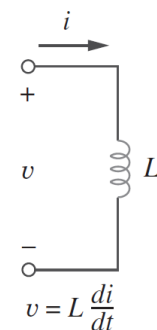
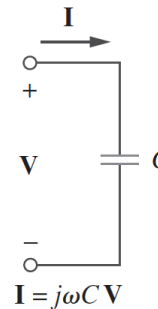
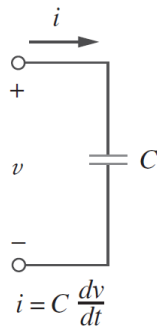
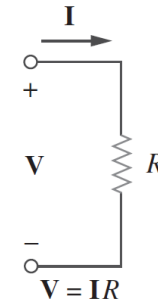
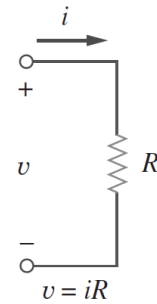
Resumo.

Domínio do Tempo

$$v(t) = Ri(t)$$

$$i(t) = C \frac{dv(t)}{dt}$$

$$v(t) = L \frac{di(t)}{dt}$$



Domínio da Frequência

$$V = RI$$

$$V = \frac{I}{j\omega C}$$

$$V = j\omega LI$$

Exemplo de Aplicação

- Determine a corrente em regime estacionário sobre um indutor de 0,1 H quando submetido a uma tensão $v(t) = 12 \cos(60t + 45^\circ) \text{ V}$.

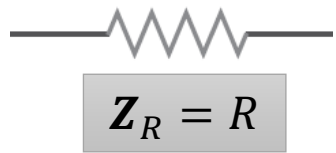
$$\omega = 60 \text{ rad/s}$$

$$V = 12 \angle 45^\circ$$

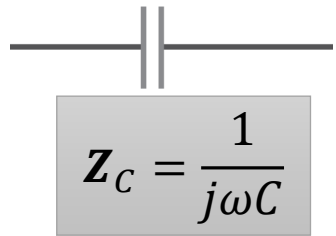
$$V = j\omega L I \quad I = \frac{V}{j\omega L} \quad I = \frac{12 \angle 45^\circ}{j60 \times 0,1} = \frac{12 \angle 45^\circ}{6 \angle 90^\circ} = 2 \angle -45^\circ \text{ A}$$

$$i(t) = 2 \cos(60t - 45^\circ) \text{ A}$$

- Impedância (\mathbf{Z}) é a relação entre a tensão fasorial e a corrente fasorial de um circuito, medida em Ω ;
- A impedância depende da frequência.




$$\mathbb{V} = R\mathbb{I}$$



$$\mathbb{V} = \frac{\mathbb{I}}{j\omega C}$$

$$\mathbb{V} = \mathbf{Z}\mathbb{I}$$



$$\mathbb{V} = j\omega L\mathbb{I}$$

$$\mathbf{Z} = |\mathbf{Z}| \angle \phi$$

$$\mathbf{Z} = R + jX$$

$$R = \text{Re}\{\mathbf{Z}\} = \text{Resist\^encia}$$

$$X = \text{Im}\{\mathbf{Z}\} = \text{Reat\^ancia}$$

$$\mathbf{Z} = \sqrt{R^2 + X^2}$$

$$\phi = \tan^{-1} \frac{X}{R}$$

$$R = |\mathbf{Z}| \cos \phi \quad X = |\mathbf{Z}| \sin \phi$$

$$\text{CC: } \omega \rightarrow 0$$

$$\text{CA: } \omega \rightarrow \infty$$

$$\mathbf{Z}_R = R$$

$$\mathbf{Z}_R = R$$

$$\mathbf{Z}_C = \frac{1}{j\omega C} \rightarrow \infty \quad \mathbf{Z}_C = \frac{1}{j\omega C} \rightarrow 0$$

$$\mathbf{Z}_L = j\omega L \rightarrow 0 \quad \mathbf{Z}_L = j\omega L \rightarrow \infty$$

□ Admitância (\mathbf{Y}) é o inverso da impedância, medida em Siemens (S);

$$\mathbf{Y} = \frac{1}{\mathbf{Z}}$$

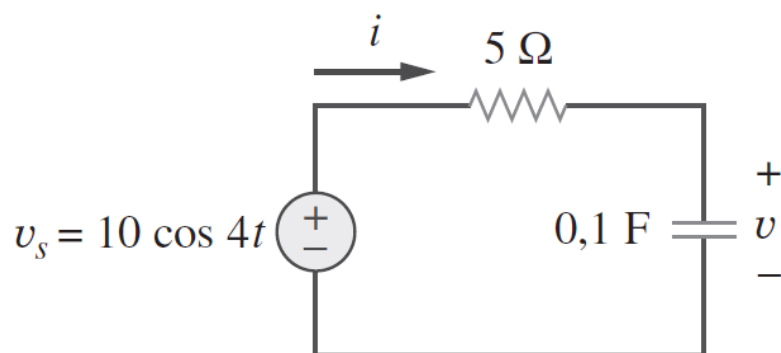
$$\mathbf{Y} = G + jB$$

$$G = \text{Re}\{\mathbf{Y}\} = \textit{Condutância}$$

$$B = \text{Im}\{\mathbf{Y}\} = \textit{Susceptância}$$

Exemplo de Aplicação

□ Calcular \mathbf{Z} , $v(t)$ e $i(t)$ no circuito abaixo.



$$\omega = 4 \text{ rad/s}$$

$$\mathbb{V}_S = 10 \angle 0^\circ$$

$$\mathbf{Z} = \mathbf{Z}_R + \mathbf{Z}_C = R + \frac{1}{j\omega C}$$

$$\mathbf{Z} = 5 + \frac{1}{j4 \times 0,1} = \frac{1}{j0,4}$$

$$\mathbf{Z} = 5 - j2,5 \Omega$$

$$\mathbb{I} = \frac{\mathbb{V}_S}{\mathbf{Z}} = \frac{10 \angle 0^\circ}{5 - j2,5} = \frac{10 \angle 0^\circ}{5,59 \angle -26,57^\circ}$$

$$\mathbb{I} = 1,789 \angle 26,57^\circ \text{ A}$$

$$\mathbb{V} = \mathbb{I} \mathbf{Z}_C = \frac{1,789 \angle 26,57^\circ}{j4 \times 0,1} = \frac{1,789 \angle 26,57^\circ}{0,4 \angle 90^\circ}$$

$$\mathbb{V} = 4,47 \angle -63,43^\circ$$

$$i(t) = 1,789 \cos(4t + 26,57^\circ) \text{ A}$$

$$v(t) = 4,47 \cos(4t - 63,43^\circ) \text{ V}$$

A tensão no capacitor está atrasada em 90°

Exercícios Propostos

1 – Calcule os números complexos.

(a) $[(5 + j2)(-1 + j4) - 5\angle 60^\circ]^*$

(b) $\frac{10 + j5 + 3\angle 40^\circ}{-3 + j4} + 10\angle 30^\circ + j5$

Respostas:

(a) $-15,5 - j13,67$

(b) $8,293 + j7,2$

□ 2 – Represente com notação fasorial.

□ (a) $v(t) = 7 \cos(2t + 40^\circ) V$

□ (b) $i(t) = -4 \sin(10t + 10^\circ) A$

Respostas:

□ (a) $V = 5 \angle 40^\circ V$

□ (b) $I = 4 \angle 100^\circ A$

3 – Determine as senoides representadas pelos seguintes fasores:

(a) $V = -25 \angle 40^\circ V$

(b) $I = j(12 - j5) A$

Respostas:

(a) $v(t) = 25 \cos(\omega t - 140^\circ) V$

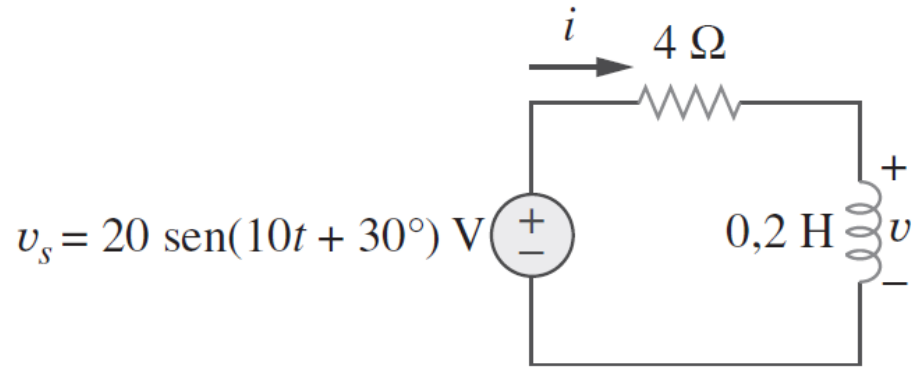
(b) $i(t) = 13 \cos(\omega t + 67,38^\circ) A$

- 4 – Determine a corrente em regime estacionário sobre um capacitor de $50 \mu F$ quando submetido a uma tensão $v(t) = 10 \cos(100t + 30^\circ) V$.

Resposta: $i(t) = 50 \cos(100t + 120^\circ) A$

Exercícios Propostos

5 – Calcular Z , a tensão $v(t)$ e a corrente $i(t)$ no indutor.



Resposta: $v(t) = 8,94 \text{ sen}(10t + 93,43^\circ) \text{ V}$

$$i(t) = 4,47 \text{ sen}(10t + 3,43^\circ) \text{ A}$$

- ❑ J. W. Nilsson, e S. A. Riedel, “Electric Circuits”, 9 ed., New York, Prentice Hall (2011).
- ❑ W. H. Hyat, J. E. Kemmerly, e S. M Durbin, “Análise de Circuitos em Engenharia”, 7 ed., São Paulo, McGraw-Hill (2008).
- ❑ C. K. Alexander, e M. N. O. Sadiku, “Fundamentos de Circuitos Elétricos”, 5 ed., Porto Alegre, AMGH (2013).
- ❑ M. N. O. Sadiku, “Elementos de Eletromagnetismo”, 3 ed., Porto Alegre, Bookman (2004).