

MAT0130 - Equações Diferenciais I

1a. Lista de Exercícios - 08/09/2020

- (1) Verifique que as funções $y_1(x) = \cos(\ln x)$ e $y_2(x) = \sin(\ln x)$, definidas para $x > 0$, são soluções da equação $x^2 y'' + xy' + y = 0$.
- (2) Dada $f : \mathbb{R} \rightarrow \mathbb{R}$ contínua, mostre que $y(x) = \int_0^x \sin(x-t)f(t) dt$ é solução do problema de valor inicial $\begin{cases} y'' + y = f(x) \\ y(0) = y'(0) = 0 \end{cases}$.
- (3) Uma pessoa P , começando na origem, move-se no sentido positivo do eixo x , puxando um peso ao longo da curva C , chamada de **tratriz**, conforme mostra a figura 1. O peso, inicialmente localizado sobre o eixo y em $(0, s)$, é puxado por uma corda de comprimento constante s , a qual é mantida esticada durante todo o movimento. Determine uma equação diferencial para a trajetória do peso. Suponha que a corda seja sempre tangente a C .

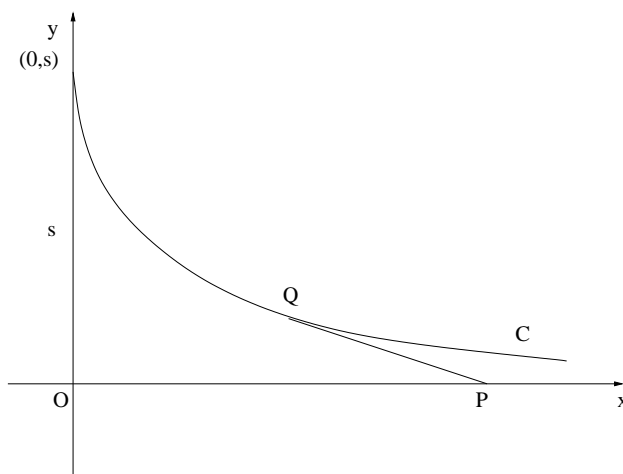


FIGURE 1. Tratriz.

- (4) Conforme ilustrado na figura (5), raios de luz atingem uma curva plana C de maneira que todos os raios paralelos ao eixo x sejam refletidos para um único ponto F . Supondo que o ângulo α de incidência seja igual ao ângulo de reflexão, determine uma equação diferencial que descreva o formato da curva C .

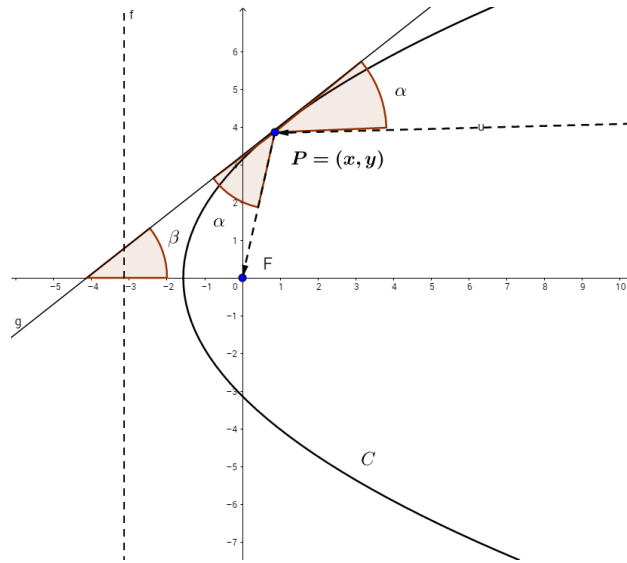


FIGURE 2. Espelho parabólico.

- (5) Suponha que água está saindo de um tanque por um buraco circular em sua base de área A_h . Quando a água vaza pelo buraco, o atrito e a contração da corrente de água nas proximidades do buraco reduzem o volume de água que está vazando do tanque por segundo para $cA_h\sqrt{2gh}$, onde c ($0 < c < 1$) é uma constante empírica. Determine uma equação diferencial para a altura da água h no instante t para um tanque cúbico, como na figura 3. O raio do buraco é de 2 cm.

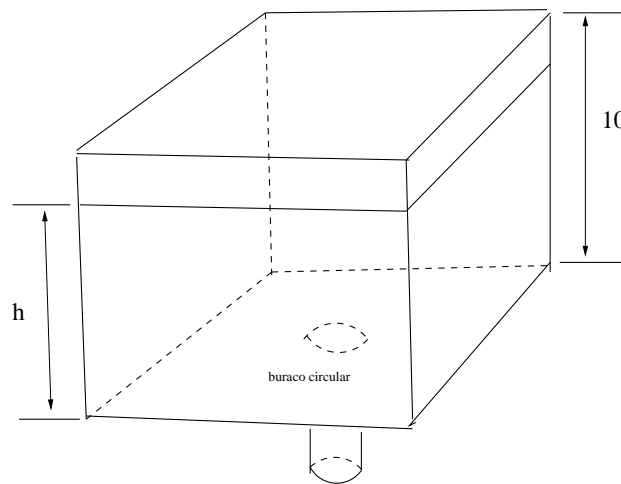


FIGURE 3. Caixa de água.

- (6) (Equações homogêneas) Se $f(t, x)$ é homogênea de grau 0 (isto é, $f(\alpha t, \alpha x) = f(t, x)$, para todo $\alpha > 0$), mostre que a substituição $x = tu$ transforma a equação $\dot{x} = f(t, x)$ numa do tipo considerada no problema anterior.
- (7) Determine todas as soluções das seguintes equações:
- $\dot{x} = te^t$
 - $\dot{x} = t \log(t^2 - 1)$
 - $\dot{x} = x^2 - 4$
 - $\dot{x} = \sec x$
 - $\dot{x} = -(t + 1)x/t$

- (f) $\dot{x} = t^3(x+1)^{-2}$
 (g) $\dot{x} = (x+t)/t$
 (h) $\dot{x} = (x - \sqrt{x^2 + t^2})/t$
 (i) $\dot{x} = \frac{3x^2 - t^2}{2tx}$
 (j) $\frac{dy}{dx} = \frac{4x+y}{y-2x}$
 (k) $(x - \sqrt{xy})\frac{dy}{dx} = y$
 (l) $\frac{dy}{dx} = \frac{x+y+2}{x+1}$
- (8) Resolva cada um dos problemas de valor inicial
 (a) $2xy^3 + 3x^2y^2\frac{dy}{dx} = 0, y(1) = 1$
 (b) $3x^2 + 4xy + (2y + 2x^2)\frac{dy}{dx} = 0, y(0) = 1$
 (c) $3xy + y^2 + (x^2 + xy)\frac{dy}{dx} = 0, y(2) = 1$
 (d) $t^2(1 + y^2) + 2y\frac{dy}{dt} = 0, y(0) = 1$
 (e) $\frac{dy}{dt} = \frac{2t}{y+t^2y}, y(2) = 3$
 (f) $\frac{dy}{dt} = \frac{3t^2+4t+2}{2(y-1)}, y(0) = -1$
 (g) $\frac{dy}{dt} = k(a-y)(b-y), y(0) = 0 \quad (k, a, b > 0)$
 (h) $\frac{dy}{dt} = 1 + \frac{\sqrt{t^2+y^2}}{t}, y(1) = 0$
- (9) Determine a constante a de modo que a equação dada seja exata e resolva a equação resultante:
 (a) $x + ye^{2xy} + axe^{2xy}\frac{dy}{dx} = 0$
 (b) $\frac{1}{x^2} + \frac{1}{y^2} + \frac{(ax+1)}{y^3}\frac{dy}{dx} = 0.$
- (10) Determine todas as funções $f(x)$ tais que a equação diferencial

$$y^2 \operatorname{sen} x + yf(x)\frac{dy}{dx} = 0$$

seja exata. Resolva a equação para essas funções f .

- (11) Mostre que se $\left(\frac{\partial N}{\partial x} - \frac{\partial M}{\partial y}\right)/M$ só depende de y , então a equação $M(x, y) + N(x, y)\frac{dy}{dx} = 0$ admite um fator integrante que só depende de y . Formule (e prove) uma condição suficiente para que o fator integrante dependa apenas de x .
- (12) Determine um fator integrante e resolva:
 (a) $(x^2 + y^2) + (x^3 + 3xy^2 + 2xy)\frac{dy}{dx} = 0$
 (b) $(3y^2 - x^2 + 1) + 2xy\frac{dy}{dx} = 0$
 (c) $(3xy - 4y) + (2x^2 - 4x)\frac{dy}{dx} = 0$
 (d) $(xy^2 + 2) + 3x^2y\frac{dy}{dx} = 0.$
- (13) (a) Uma equação da forma

$$\frac{dy}{dx} + g(x)y = h(x)y^n$$

é denominada uma *equação de Bernoulli*. Aqui, n é uma constante real e f e g são funções contínuas num intervalo (a, b) . Mostre que a mudança $z = y^{1-n}$ transforma uma equação de Bernoulli numa equação linear .

- (b) Resolva as seguintes equações:
 (i) $\frac{dy}{dx} + y = xy^3$
 (ii) $\frac{dy}{dx} - \frac{1}{x}y = y^{\frac{1}{2}}$
 (iii) $\frac{dp}{dt} = \alpha p^{\frac{2}{3}} - \beta p.$

- (14) (a) Uma equação da forma

$$\frac{dy}{dx} = f_1(x) + f_2(x)y + f_3(x)y^2 \quad (*)$$

é denominada uma *equação de Riccati*. Suponha que y_p é uma solução particular de (*). Prove que a mudança $y = y_p + \frac{1}{v}$ transforma (*) na equação linear

$$\frac{dv}{dx} = -(f_2(x) + 2f_3(x)y_p(x))v + f_3(x).$$

- (b) Ache a solução geral de cada uma das seguintes equações:

(i) $y' = xy^2$

(ii) $y' = \frac{2x+3y}{y-3x}$

(iii) $y' + y = y^2$

(iv) $y' = x^2y + 2$

(v) $y = y + \cos x$

(vi) $y' = \frac{x+1}{y^2+1}$

(vii) $y' = \frac{3xy+2}{x^2+1}$

(viii) $y' = \frac{x^2+2y+1}{3y-2x-1}$

(ix) $y' + xy = xy^3$.

- (15) (a) Dado
- $y_0 \in \mathbb{R}$
- , resolva o problema de valor inicial
- $\begin{cases} y' + \frac{2y}{x} = 4x \\ y(1) = y_0 \end{cases}$
- .

- (b) Esboce o gráfico de algumas soluções encontradas no item (a).

- c Para que valores de
- y_0
- o problema de valor inicial
- $\begin{cases} xy' + 2y = 4x^2 \\ y(0) = y_0 \end{cases}$
- tem solução?

- (16) Mostre que os problemas de valor inicial abaixo têm infinitas soluções.

(a) $\begin{cases} y' = 5(y-1)^{\frac{4}{5}} \\ y(0) = 1 \end{cases}$,

(b) $\begin{cases} y' = 3y^{\frac{2}{3}}(3x^2+1) \\ y(0) = 0 \end{cases}$.

- (17) (a) Mostre que toda solução de
- $x^2y' + 2xy = 1$
- , com
- $x > 0$
- , tende a zero quando
- $x \rightarrow +\infty$
- .

- (b) Encontre uma solução da equação acima satisfazendo
- $y(2) = 2y(1)$
- .

- (18) (a) Mostre que toda solução de
- $x^2y' + 2xy = 0$
- , com
- $x > 0$
- , tende a zero quando
- $x \rightarrow +\infty$
- .

- (b) Encontre uma solução da equação acima satisfazendo
- $y(2) = 2y(1)$
- .