

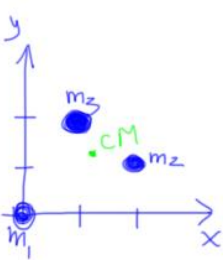
Capítulo 9 – Halliday

Centro de massa

2) Três partículas de massas 3 kg, 4 kg e 8 kg estão posicionadas em (0,0), (2,1) e (1,2) em metros, respectivamente.

- Qual a posição do centro de massa?
- Se a massa 3 aumentar continuamente, o CM se aproxima, distância ou permanece à mesma distância de m3?

mesma distância de m3?



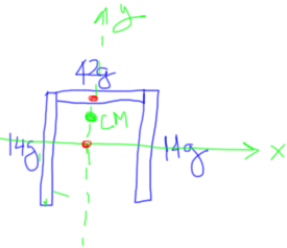
$$a) x_{cm} = \frac{1}{M} \sum_{i=1}^3 m_i x_i = \frac{1}{15} (3 \cdot 0 + 4 \cdot 2 + 8 \cdot 1) = 1,1 \text{ m}$$

$$y_{cm} = \frac{1}{15} (3 \cdot 0 + 4 \cdot 1 + 8 \cdot 2) = 1,3 \text{ m}$$

$$\vec{r}_{cm} = 1,1 \hat{i} + 1,3 \hat{j} \text{ m}$$

b) se aproxima de m3

4) Três barras finas e uniformes, de comprimento  $L = 22 \text{ cm}$ , forma um U invertido. Cada barra vertical tem  $m = 14 \text{ g}$  e a barra superior tem  $m = 42 \text{ g}$ . Quais as coordenadas do centro de massa?



$$x_{cm} = 0 \text{ m}$$

para as barras verticais:  $y_{cm_v} = 0 \text{ m}$

para a barra horizontal:  $y_{cm_h} = 0,11 \text{ m}$

para o sistema:  $x_{cm} = 0 \text{ cm}$

$$y_{cm} = \frac{1}{0,07} (0,028 \cdot 0 + 0,042 \times 0,11) = 0,07 \text{ m}$$

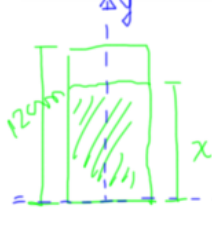
8) Uma lata homogênea tem massa de 0,140 g, altura de 12 cm e contém 0,354 g de refrigerante. Pequenos furos são feitos na base e na tampa (com perda de massa de alumínio desprezível). Qual é a altura  $h$  do centro de massa do sistema:

- no início
- após perder todo o líquido

c) o que acontece com  $h$  enquanto o líquido está escoando?

d) Se  $x$  é a altura de refrigerante que ainda está na lata em um dado instante, determine o valor de  $x$  no instante em que o centro de massa atinge o ponto mais baixo.

valor de  $x$  no instante em que o centro de massa atinge o ponto mais baixo.



a)  $x_{cm} = 0$  (simetria)

$y_{cm} = \frac{h}{2} = 0,06 \text{ m}$  (simetria)

b) só restando a lata:  $x_{cm} = 0 \text{ m}$

$y_{cm} = \frac{h}{2} = 0,06 \text{ m}$

c) enquanto o líquido escoa,  $y_{cm}$  começa a descer e depois volta a subir até chegar a  $0,06 \text{ m}$  quando a lata estiver vazia.

d)  $M$  = massa da lata

$m$  = massa de líquido

$m_i$  = massa inicial de líquido

Em um instante qualquer:  $m = m_i \cdot \frac{x}{h} = m_i \cdot \frac{x}{h}$

$$y_{cm} = \frac{1}{M+m} \left( M \cdot \frac{h}{2} + m \cdot \frac{x}{2} \right)$$

$$\Rightarrow y_{cm} = \frac{1}{M + m_i \cdot \frac{x}{h}} \left( \frac{Mh}{2} + \frac{m_i \cdot x^2}{2h} \right)$$

para encontrar  $x$  que faz com que  $y_{cm}$  seja mínimo:

$$\frac{dy_{cm}}{dx} = 0 \rightarrow \text{e resolver p/ } x$$

$$\frac{dy_{cm}}{dx} = \frac{4Mm_i h(x-h) + 2m_i^2 \cdot x^2}{4(Mh + mx)^2} = 0$$

$$\Rightarrow m_i x^2 + 2Mm_i h - 2Mm_i h = 0$$

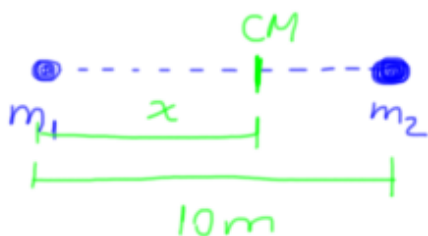
$$\Rightarrow x = \frac{Mh}{m} \left( 1 + \sqrt{1 + \frac{m_i}{M}} \right)$$

Substituindo esse valor de  $x$   
na equação de  $y_{cm}$ :

$$y_{cm} = 4,2 \text{ cm} \rightarrow \text{mais baixo}$$

12) Dois patinadores estão em uma pista de gelo, a 10 m um do outro, e ambos seguram cada um em uma extremidade de uma barra de massa desprezível. Os dois vão se puxando para se encontrarem. Se um tem 40kg e o outro 65 kg, qual a distância percorrida pelo patinador de 40 kg antes que os dois se encontrem?

Como não há forças externas sobre o sistema, o CM permanece parado.



$$m_1 \cdot x = m_2 \cdot (10 - x)$$

$$40x = 65 \cdot (10 - x)$$

$$\Rightarrow \boxed{x = 6,2 \text{ m}}$$