

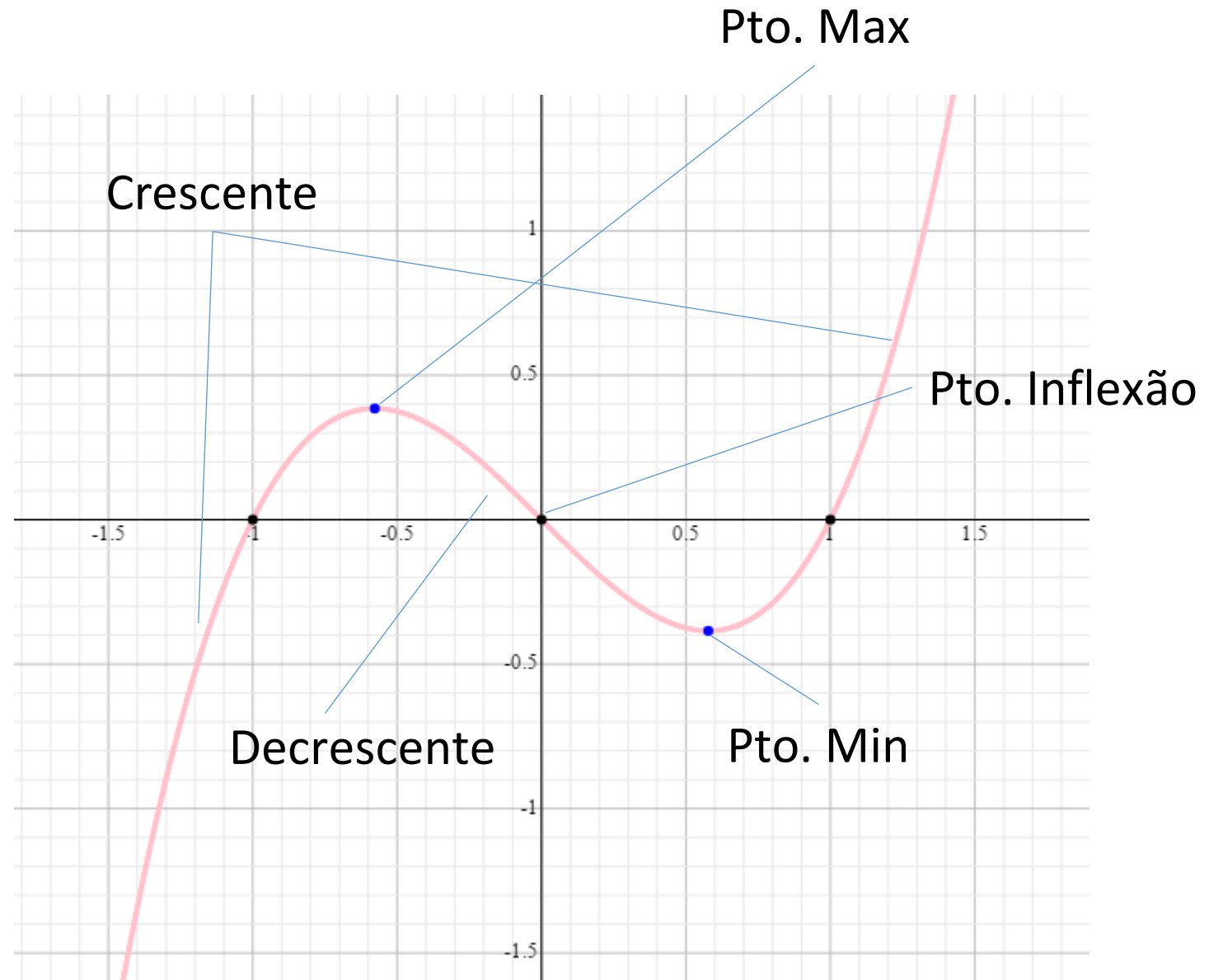
# Aplicações de Derivadas

# Introdução

- Existe uma relação entre  $a(s)$  derivada(s) de uma função e seu comportamento
  - Crescente/decrescente
  - P<sub>MAX</sub>/P<sub>MIN</sub> (local ou global?)
  - Inflexões (concavidades para cima/baixo)
  - Etc...
- $A(s)$  derivada(s) descrevem precisamente o comportamento de qualquer função
- Será que isso tem importância na prática?
  - Pergunte a um analista (sério) de mercado...

# Introdução

$$f(x) = x^3 - x$$



# Derivadas de Ordem Superior (3.5)

- A derivada  $f'$  de uma função também é uma função e pode ou não ser diferenciável em um ponto
- A derivada de uma derivada é chamada de **derivada segunda**. Notação
  - $f''(x)$
  - $y''$
  - $\frac{d^2y}{dx^2}$
- Evidentemente, também é possível existir a terceira, quarta, ..., e-nésima
- Por exemplo, determine as derivadas de todas as ordens para
  - $f(x) = x^5 - 3x^4 + 4x^3 - 2x^2 + x - 8$

# Derivadas de Ordem Superior (3.5)

- Encontre a primeira e segunda derivadas das seguintes funções
  - $f(x) = (x^2 + 2)^5$
  - $f(x) = \frac{x}{2x+1}$
  - $f(x) = \sqrt{2x - 1}$
- Tá... Mas para o que serve isso?!?!?!?!?!?!?!!

# Derivadas de Ordem Superior (3.5)

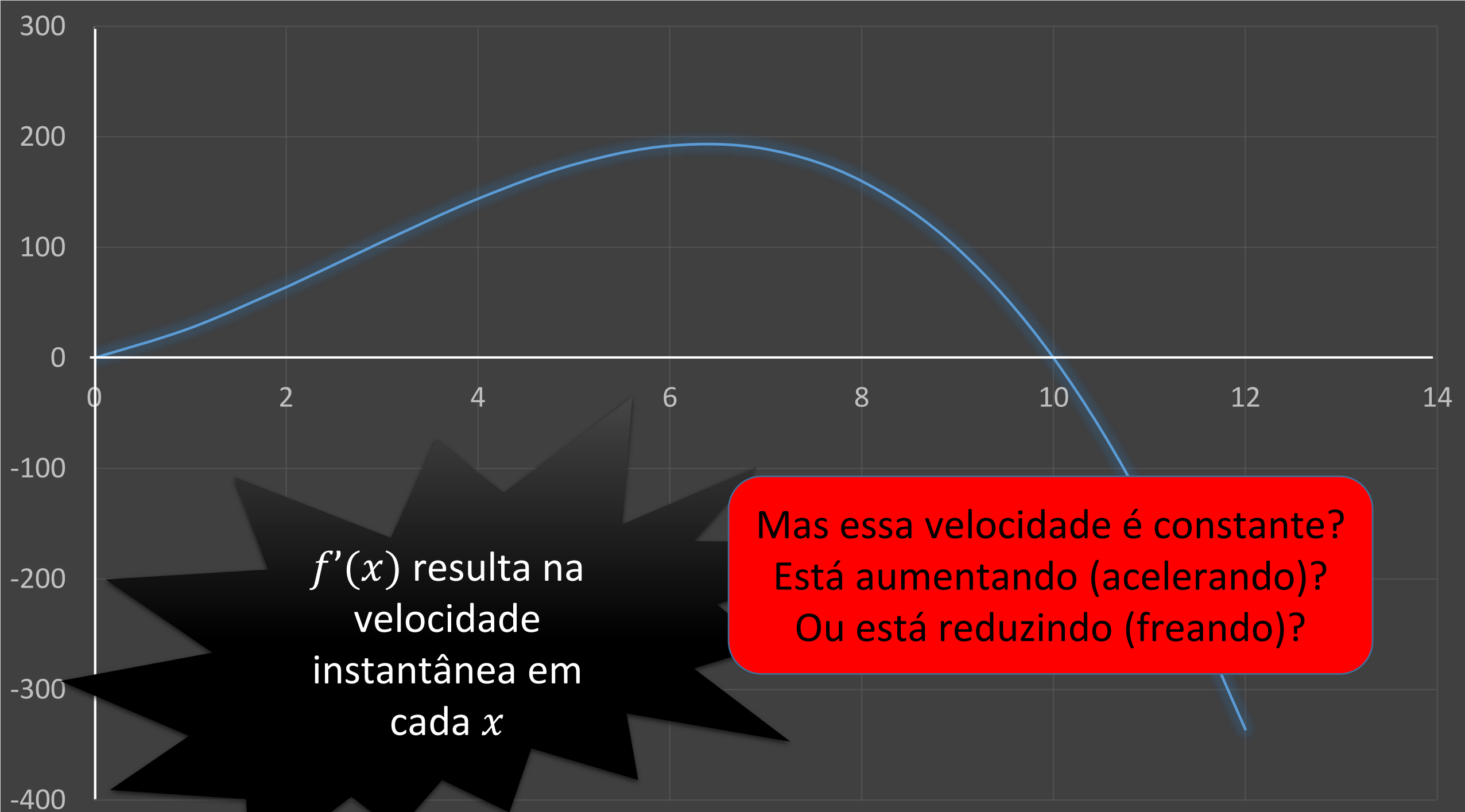
- **Velocidade vs. Aceleração**

- A distância em pés percorrida por um veículo após  $t$  segundos é de

$$s = -t^3 + 8t^2 + 20t \quad (0 \leq t \leq 12)$$

Lembrando, a taxa que expressa deslocamento sobre o tempo é uma grandeza denominada velocidade

Vamos ver o gráfico dessa função...



# Derivadas de Ordem Superior (3.5)

- Velocidade vs. Aceleração

- A distância em pés percorrida por um veículo após  $t$  segundos é de

$$s = f(t) = -t^3 + 8t^2 + 20t \quad (0 \leq t \leq 6)$$

- Calcule  $f'(t)$  de décimo em décimo entre 2 e 3 segundos
- Algo chama sua atenção?



# Derivadas de Ordem Superior (3.5)

$t$	$f(t) = -t^3 + 8t^2 + 20t$		$f(t_1) - f(t_0)$
...	...		...
2	64	↑	3,979
2,1	68,019	↑	4,019
2,2	72,072	↑	4,053
2,3	76,153	↑	4,081
2,4	80,256	↑	4,103
2,5	84,375	↑	4,119
2,6	88,504	↑	4,129
2,7	92,637	↑	4,133
2,8	96,768	↓	4,131
2,9	100,891	↓	4,123
3	105	↓	4,109
...	...		...

# Derivadas de Ordem Superior (3.5)

- Velocidade vs. Aceleração

- A distância em pés percorrida por um veículo após  $t$  segundos é de

$$s = -t^3 + 8t^2 + 20t \quad (0 \leq t \leq 6)$$

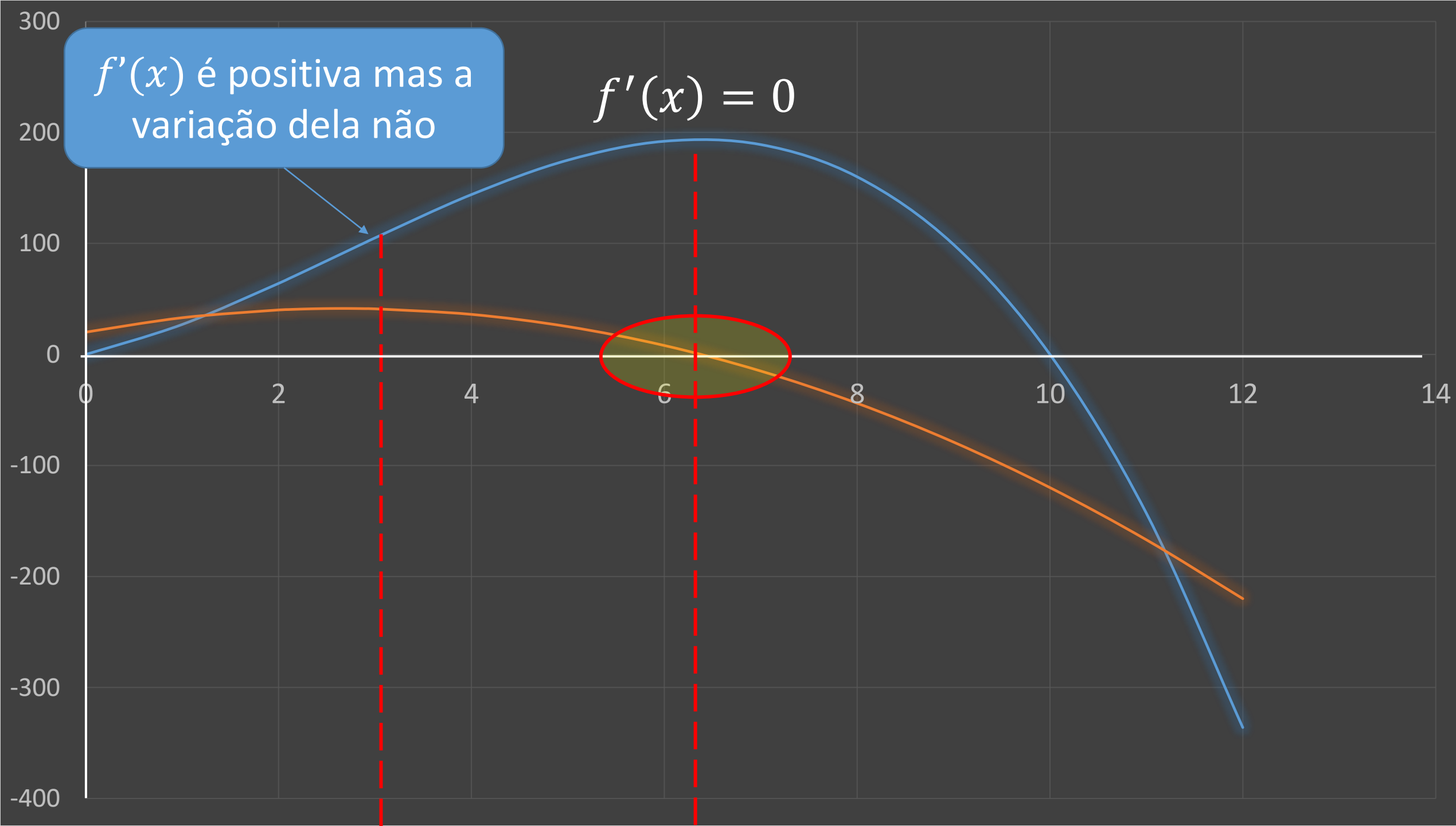
- Encontre a expressão que representa a velocidade instantânea em cada ponto do domínio...
- O que acontece a partir de  $\approx 2,7$  segundos?

# Derivadas de Ordem Superior (3.5)

$t$	$f'(t) = -3t^2 + 16t + 20$	$f'(t_1) - f'(t_0)$
...	...	...
2	40	0,43
2,1	40,37	0,37
2,2	40,68	0,31
2,3	40,93	0,25
2,4	41,12	0,19
2,5	41,25	0,13
2,6	41,32	0,07
2,7	41,33	0,01
2,8	41,28	-0,05
2,9	41,17	-0,11
3	41	-0,17
...	...	...

$f'(x)$  é positiva mas a  
variação dela não

$$f'(x) = 0$$



# Derivadas de Ordem Superior (3.5)

- **Velocidade vs. Aceleração**

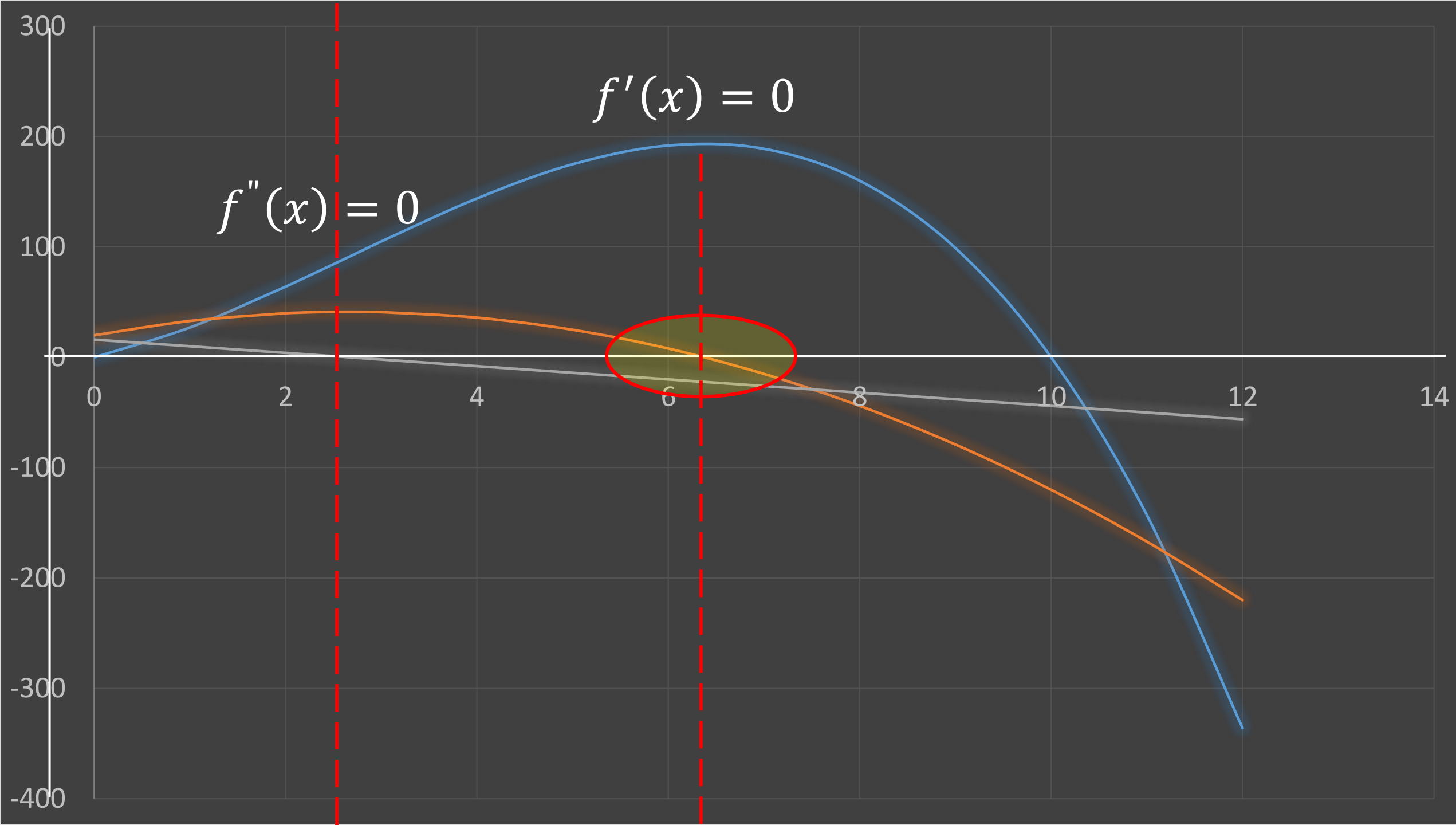
- A distância em pés percorrida por um veículo após  $t$  segundos é de

$$s = -t^3 + 8t^2 + 20t \quad (0 \leq t \leq 6)$$

- Encontre a expressão que representa a aceleração do veículo
- O que acontece a partir de  $\approx 2,7$  segundos?

# Derivadas de Ordem Superior (3.5)

$t$	$f''(t) = -6t + 16$
...	...
2	4
2,1	3,4
2,2	2,8
2,3	2,2
2,4	1,6
2,5	1
2,6	0,4
2,7	-0,2
2,8	-0,8
2,9	-1,4
3	-2
...	...



# Aplicações da 1ª Derivada (4.1)

- A inclinação da reta tangente informa se a variação em  $x$  é positiva ou negativa
  - Lembrem do coeficiente angular das funções de 1º grau
  - Formalmente, o sinal da primeira derivada indica se a função é **crescente** ou **decrescente** em  $x$
- Função estritamente crescente em seu domínio
  - $x_1 < x_2 \Rightarrow f(x_1) < f(x_2)$
- Função crescente em seu domínio
  - $x_1 < x_2 \Rightarrow f(x_1) \leq f(x_2)$



# Aplicações da 1ª Derivada (4.1)

- A inclinação da reta tangente informa se a variação em  $x$  é positiva ou negativa
  - Lembrem do coeficiente angular das funções de 1º grau
  - Formalmente, o sinal da primeira derivada indica se a função é **crecente** ou **decrecente** em  $x$
- Função estritamente decrescente em seu domínio
  - $x_1 < x_2 \Rightarrow f(x_1) > f(x_2)$
- Função decrescente em seu domínio
  - $x_1 < x_2 \Rightarrow f(x_1) \geq f(x_2)$

# Aplicações da 1ª Derivada (4.1)

- Teorema

- Se  $f'(x) > 0$  com qualquer valor de  $x$  em  $(a, b)$ , então  $f$  é crescente em  $(a, b)$
- Se  $f'(x) < 0$  com qualquer valor de  $x$  em  $(a, b)$ , então  $f$  é decrescente em  $(a, b)$
- Se  $f'(x) = 0$  com qualquer valor de  $x$  em  $(a, b)$ , então  $f$  é constante em  $(a, b)$

- Exemplo

- Encontre os intervalos nos quais  $f(x) = x^2 - 4x + 3$  é crescente e os intervalos nos quais é decrescente
- Encontre os intervalos nos quais  $f(x) = x^3$  é crescente e os intervalos nos quais é decrescente

# Aplicações da 1ª Derivada (4.1)

- Procedimento para identificar onde a função é crescente ou decrescente
  - Ache todos os pontos onde  $f'(x) = 0$  ou  $f'$  é descontínua
    - Lembre-se  $f'(a) = \lim_{x \rightarrow a} f(x)$
  - Identifique os intervalos formados por estes pontos
  - Teste um valor de  $x$  para este intervalo, determinando o sinal do  $f'(x_{teste})$ 
    - Se  $f'(x) > 0$ ,  $f$  é crescente
    - Se  $f'(x) < 0$ ,  $f$  é decrescente

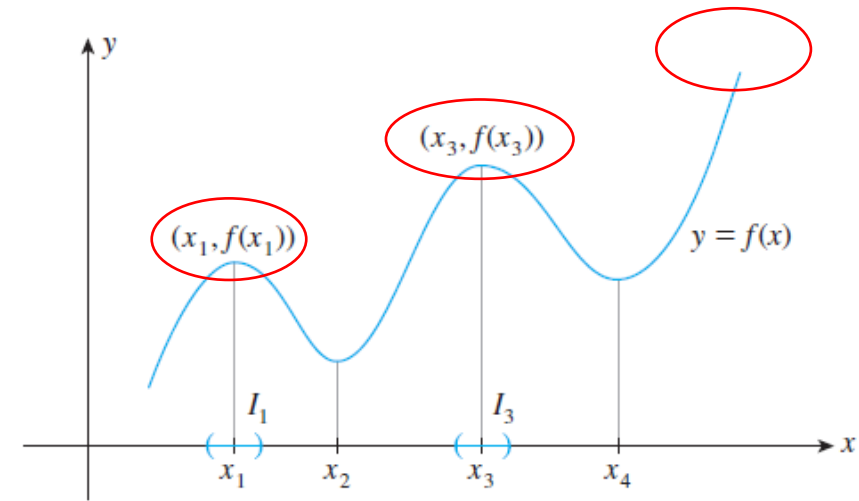
# Aplicações da 1ª Derivada (4.1)

- Exemplo

- $f(x) = x^3 - 3x^2 - 24x + 32$

- $f(x) = x + \frac{1}{x}$

# Aplicações da 1ª Derivada (4.1)



- **Extremos relativos** (vales e picos em um gráfico)

- **Máximo relativo**

- Considere um intervalo  $(a, b)$  ...
- $f$  tem um máximo relativo em um ponto deste intervalo (por exemplo  $x = c$ ) se  $f(x) \leq f(c) \forall x$  em  $(a, b)$

- Ou seja,  $f(c)$  é o maior valor deste intervalo

- Obviamente, o oposto é verdadeiro para os **Mínimos Relativos**

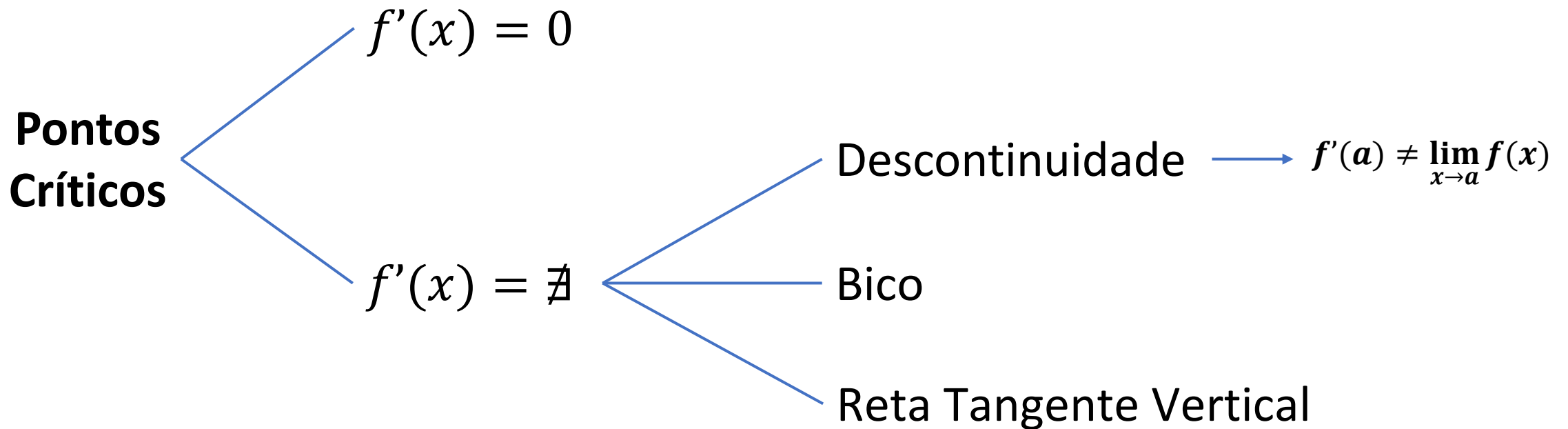
- E por que relativos?

- Porque levam em conta a “vizinhança”

# Aplicações da 1ª Derivada (4.1)

- **Conceito de ponto crítico**

- Qualquer  $x$  do domínio onde  $f'(x) = 0$  ou  $f'(x)$  não existe

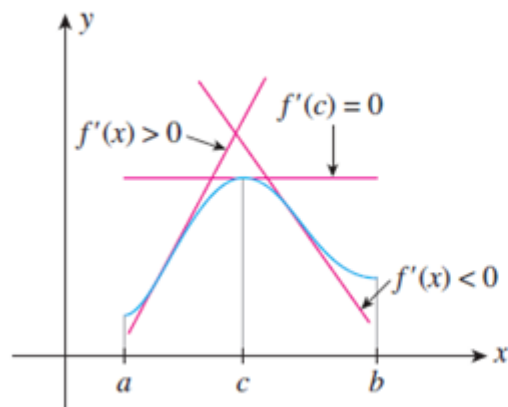


# Aplicações da 1ª Derivada (4.1)

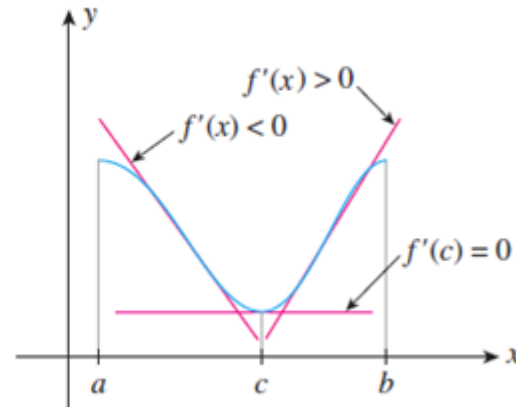
- **Conceito de ponto crítico**

- Qualquer  $x$  do domínio onde  $f'(x) = 0$  ou  $f'(x)$  não existe

- Sinal de  $f'(x)$  - observe as figuras



Máximo  
Relativo



Mínimo  
Relativo

- Nesses casos a inclinação da reta tangente muda quando se passa por  $x = c$
- Podemos ter extremos relativos de uma função diferenciável quando  $f'(c) = 0$
- **Cuidado... “podemos ter”:**
  - Pode ser que a função passe por um ponto onde  $f'(x) = 0$  ou  $f'(x)$  não existe e...
  - O SINAL NÃO MUDE!!!!!!!!!!

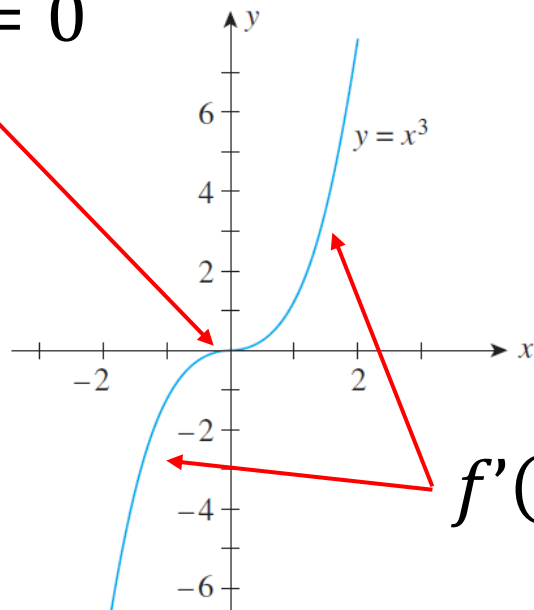
# Aplicações da 1ª Derivada (4.1)

- **Conceito de ponto crítico**

- Qualquer  $x$  do domínio onde  $f'(x) = 0$  ou  $f'(x)$  não existe

- Observe as figuras

$$f'(x) = 0$$



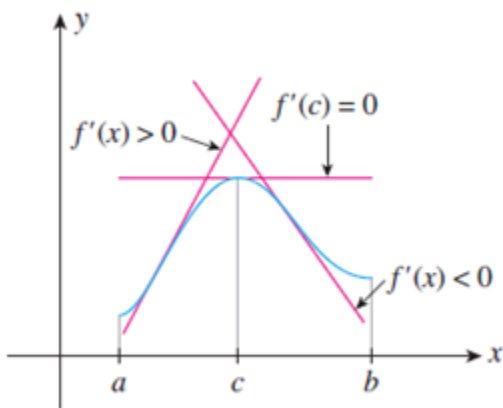
$$f'(x) > 0$$

- Nesses casos a inclinação da reta tangente muda quando se passa por  $x = c$
- Podemos ter extremos relativos de uma função diferenciável quando  $f'(c) = 0$
- **Cuidado... “podemos ter”:**
  - Pode ser que a função passe por um ponto onde  $f'(x) = 0$  ou  $f'(x)$  não existe e...
  - O SINAL NÃO MUDE!!!!!!!!!!

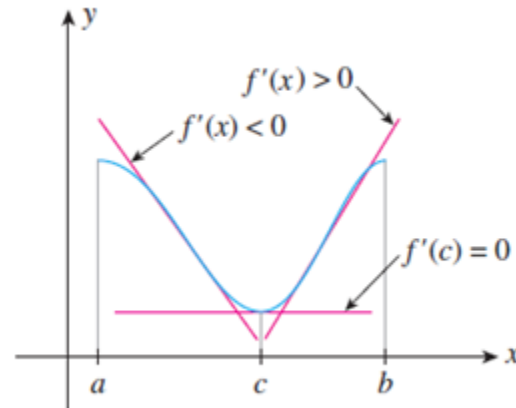


# Aplicações da 1ª Derivada (4.1)

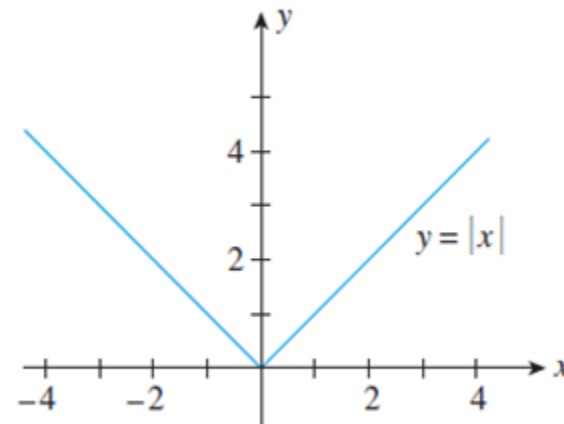
- **Conceito de ponto crítico**
  - Qualquer  $x$  do domínio onde  $f'(x) = 0$  ou  $f'(x)$  não existe
- Observe as figuras



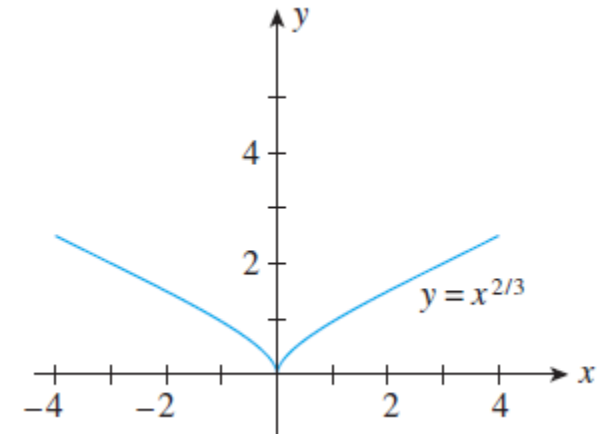
Máximo  
Relativo



Mínimo  
Relativo



$$f'(x) = \nexists$$

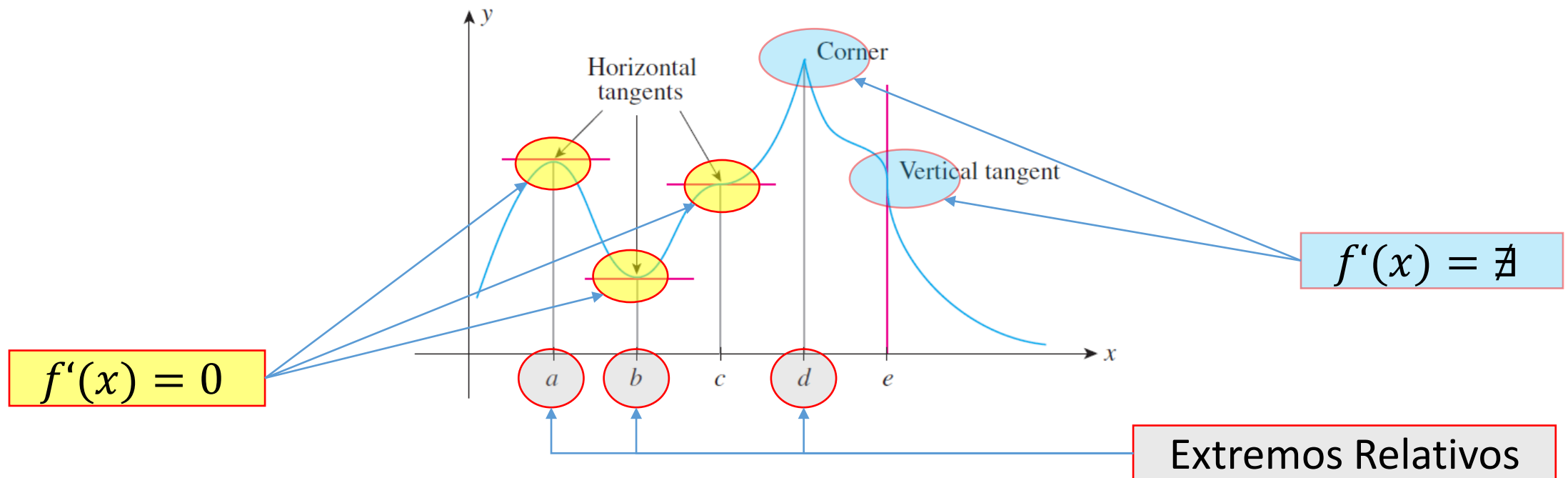


$$f'(x) = \nexists$$

# Aplicações da 1ª Derivada (4.1)

- **Conceito de ponto crítico**

- Um ponto crítico de uma função  $f$  é qualquer ponto  $x$  do domínio onde  $f'(x) = 0$  ou  $f'(x)$  não existe



# Aplicações da 1ª Derivada (4.1)

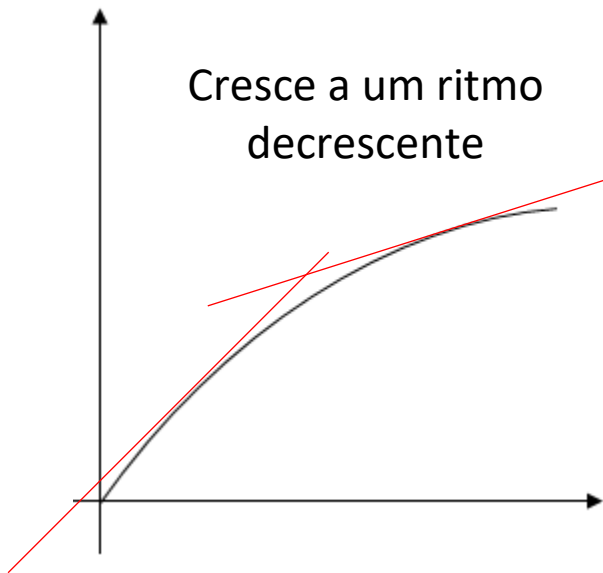
- Teste da Primeira Derivada
  - Determinar os pontos críticos de  $f$ 
    - $f'(x) = 0$  ou  $f'(x)$  não existe
  - Determine o sinal de  $f$  à esquerda e à direita de cada ponto crítico **(até aqui... sem novidades!)**
    - Máximo Relativo -  $f'(x)$  muda de  $+$  para  $-$  ao atravessar o  $x_{crítico}$
    - Mínimo Relativo -  $f'(x)$  muda de  $-$  para  $+$  ao atravessar o  $x_{crítico}$
    - Se  $f'(x)$  não muda de sinal, o ponto crítico não é um extremo relativo

# Aplicações da 1ª Derivada (4.1)

- Esboce os gráficos e indique os pontos críticos
  - $f(x) = x^2 + 3x + 8$
  - $h(t) = -t^2 + 6t + 6$
  - $f(x) = \frac{x+1}{x}$
  - $g(x) = x\sqrt{x-4}$
  - $f(x) = \frac{1}{2}x^4 - 3x^2 + 4x - 8$
  - $f(x) = 3x^5 - 20x^3 + 20$

# Aplicações da 2ª Derivada (4.2)

- Observe as figuras

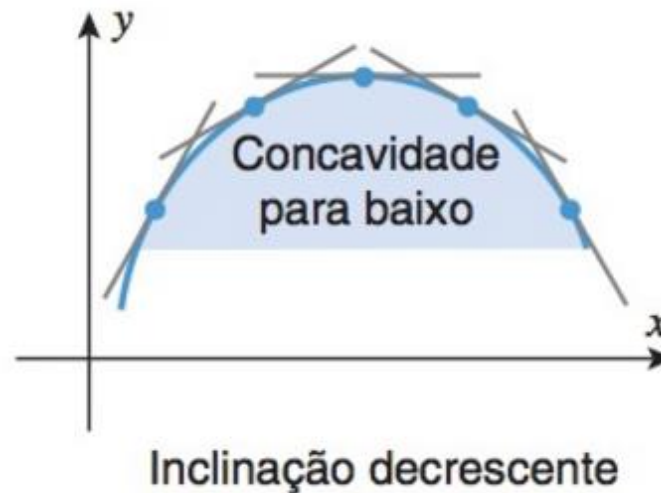
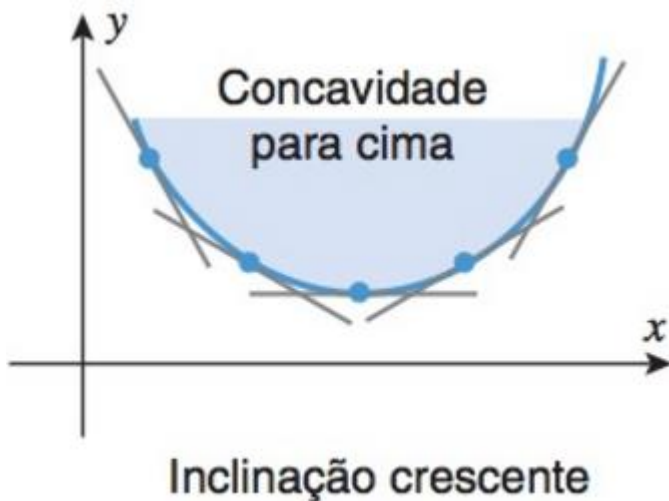


- Em ambos os casos temos  $f'(x) > 0$
- Em ambos os casos, a função é crescente no intervalo  $(0, \infty)$
- Agora imagine que estes gráficos se refiram a dois veículos em movimento ( $S \times t$ )...
- Qual deles está acelerando? Por que?

- Aqui o conceito de concavidade pode ser útil...

# Aplicações da 2ª Derivada (4.2)

- Em um intervalo aberto...
  - $f$  é côncava para cima se a inclinação das retas tangentes ao gráfico de  $f$  estão aumentando com  $x$  (e vice-versa)
  - Nesse caso, o gráfico está sempre acima de suas retas tangentes no intervalo (e vice versa)



# Aplicações da 2ª Derivada (4.2)

- **Atenção...**

- Da mesma forma que o sinal de  $f'$  indica que  $f$  é crescente...
- O sinal de  $f''$  indica se  $f'$  é crescente
- O que importa é... **se  $f$  for duas vezes diferenciável** em um intervalo aberto, segue o teorema
  - a. Se  $f''(x) > 0$  em qualquer  $x$  do intervalo, então  $f$  é côncava para cima nesse intervalo
  - b. Se  $f''(x) < 0$  em qualquer  $x$  do intervalo, então  $f$  é côncava para baixo nesse intervalo
  - c. E se  $f''(x) = 0$ ?

# Aplicações da 2ª Derivada (4.2)

- Como encontrar pontos de inflexão?
  - Calcule  $f''(x)$
  - Determine os pontos **do domínio** de  $f$  para os quais  $f''(x) = 0$  ou  $f''(x)$  não existe
  - Para cada  $f''(x) = 0$  ou  $f''(x)$  não definido, teste um  $f''(a)$  à esquerda e um  $f''(b)$  à direita
    - Haverá um ponto de inflexão se houver mudança de sinal quando se “atravessa” o(s)  $f''(x) = 0$  ou  $f''(x)$  não definido
    - Serão **CANDIDATOS** a ponto de inflexão (**mudança de sinal**)
- **E em funções descontínuas?**



# Aplicações da 2ª Derivada (4.2)

- Exemplos

- $f(x) = x^3 - 3x^2 - 24x + 32$

- $f(x) = x + \frac{1}{x}$

# Aplicações da 2ª Derivada (4.2)

- Como encontrar pontos de inflexão?

- Exemplos

- $f(x) = (x - 1)^{\frac{5}{3}}$

- $f(x) = \frac{1}{x^2+1}$





# Relembrando...

- Como acho extremos relativos de uma função?
  - O que são extremos relativos?
- E pontos de inflexão?
  - O que é um ponto de inflexão?

# Fixando conceitos...

- Exercício: esboce o gráfico de uma função com as seguintes propriedades
  - $f(2) = 4, f'(2) = 0, f''(x) < 0$  em  $(-\infty, \infty)$
  - $f(-2) = 4, f(3) = -2, f'(-2) = 0, f'(3) = 0, f'(x) > 0$  em  $(-\infty, -2)$  e  $(3, \infty)$ ,  
 $f'(x) < 0$  em  $(-2, 3)$  e o ponto de inflexão é  $(1,1)$
  - $f(0) = 0, f'(0) = \nexists, f''(x) < 0$  se  $x \neq 0$

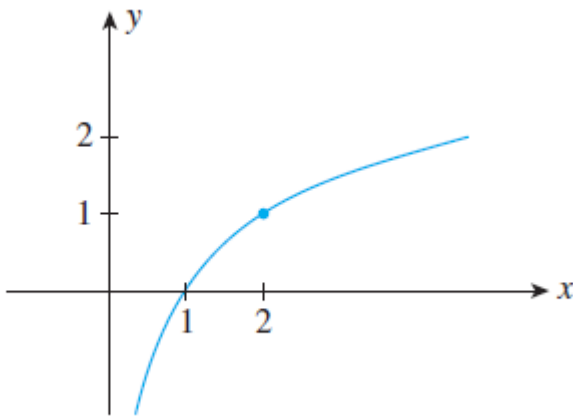
# Um resumo...

Signs of $f'$ and $f''$	Properties of $f$	General Shape of the Graph of $f$
$f'(x) > 0$ $f''(x) > 0$	$f$ is increasing. The graph of $f$ is concave upward.	
$f'(x) > 0$ $f''(x) < 0$	$f$ is increasing. The graph of $f$ is concave downward.	
$f'(x) < 0$ $f''(x) > 0$	$f$ is decreasing. The graph of $f$ is concave upward.	
$f'(x) < 0$ $f''(x) < 0$	$f$ is decreasing. The graph of $f$ is concave downward.	

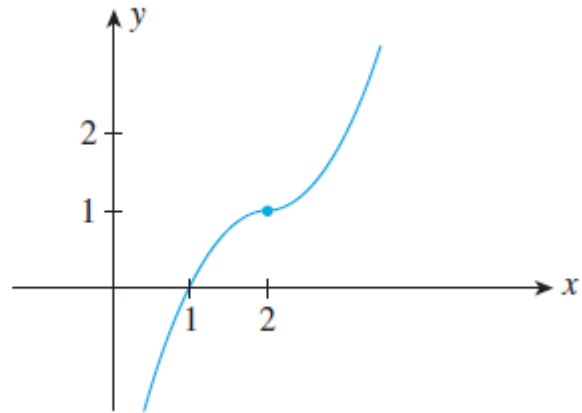
# Aplicações da 2ª Derivada (4.2)

- Exercício:  $f(2) = 1$ ,  $f'(2) > 0$ ,  $f''(2) < 0$

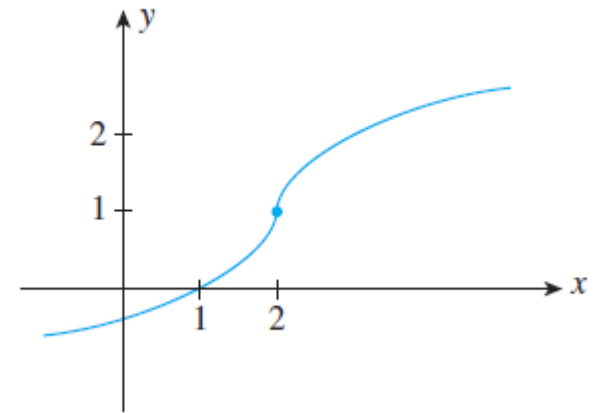
(a)



(b)



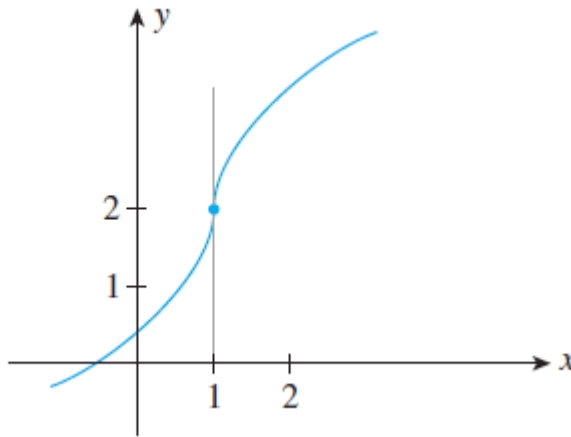
(c)



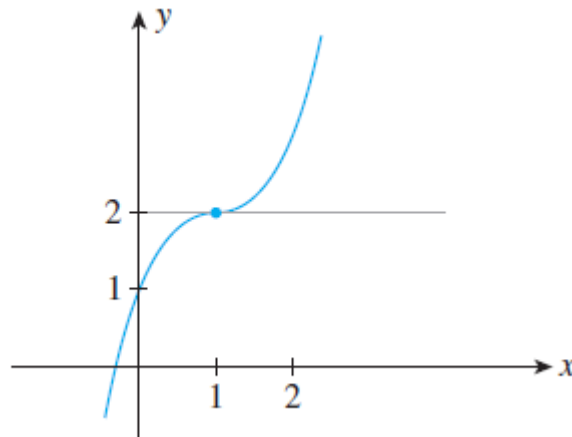
# Aplicações da 2ª Derivada (4.2)

- Exercício:  $f(1) = 2$ ,  $f'(x) > 0$  em  $(-\infty, 1)$  e  $(1, \infty)$  e  $f''(1) = 0$

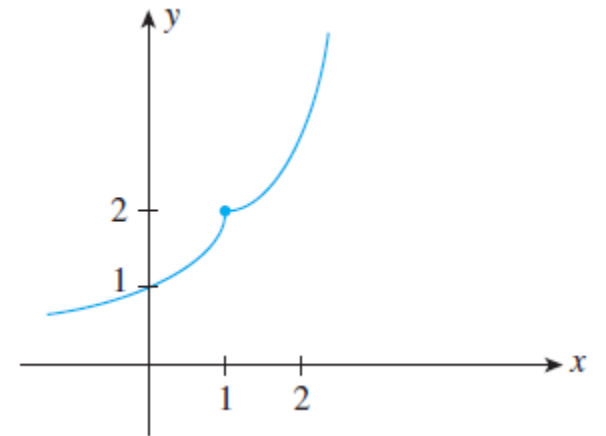
(a)



(b)

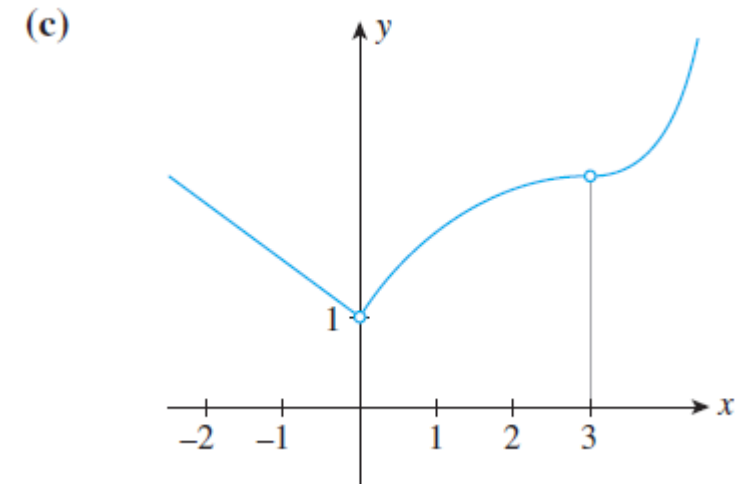
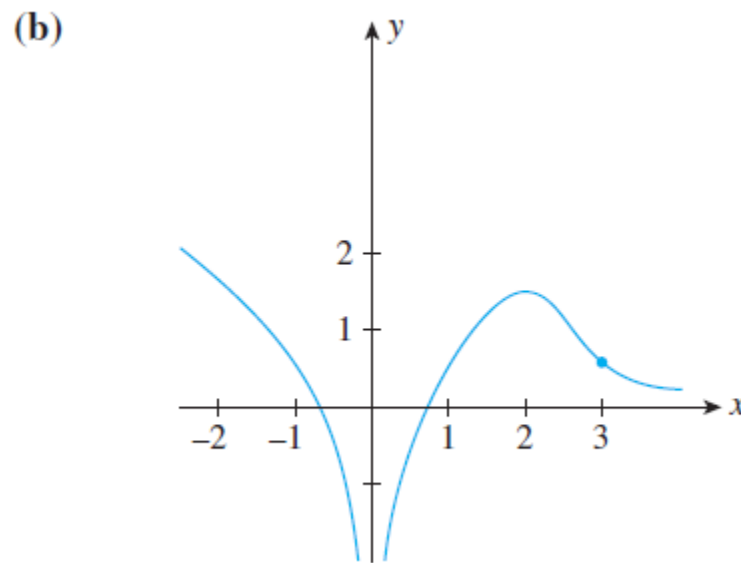
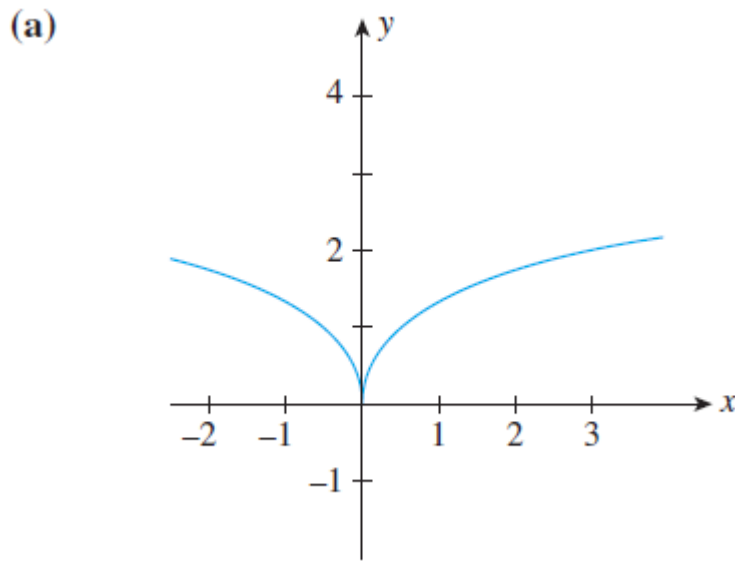


(c)



# Aplicações da 2ª Derivada (4.2)

- Exercício:  $f'(0)$  está indefinida,  $f$  é decrescente em  $(-\infty, 0)$ , é côncavo para baixo em  $(0,3)$  e tem um ponto de inflexão em  $x = 3$





# Esboçando Curvas

- Assíntotas verticais

- Tipicamente presentes em funções racionais do tipo  $f(x) = \frac{P(x)}{Q(x)}$ 
  - No caso,  $P$  e  $Q$  são funções polinomiais
  - $x = a$  será uma AV se  $Q(a) = 0$ , mas  $P(a) \neq 0$
- Apesar de não fazerem parte do gráfico, elas são úteis para seu esboço
- Ocorrem se  $f(x)$  tende a  $\pm\infty$  quando  $x$  se aproxima de determinado valor
- Por exemplo,  $f(x) = \frac{x+1}{x-1}$

# Esboçando Curvas

- Assíntotas horizontais

- Verifique o que acontece com  $f(x) = \frac{x+1}{x-1}$  quando  $x \rightarrow \pm\infty$

- Para Achar uma AH, caso ela exista, é necessário analisar o comportamento final da função

- Uma linha  $y = b$  é uma AH do gráfico de uma função caso

- $\lim_{x \rightarrow \infty} f(x) = b$  ou  $\lim_{x \rightarrow -\infty} f(x) = b$

# Esboçando Curvas

- Encontre assíntotas... Se houver!

- $f(x) = \frac{x-2}{x+2}$

- $f(x) = \frac{1}{1+2x^2}$

- $g(t) = t^3 + t^2 + 1$

# Esboçando Curvas (pg. 295)

- Um guia para esboçar curvas:
  1. Determine o domínio de  $f$
  2. Tente identificar interceptos em ambos os eixos
  3. Verifique o comportamento de  $f$  para grandes valores de  $x$  (**limite no infinito**)
  4. Verifique se há assíntotas verticais (**limites infinitos em algum  $x$** )
  5. Determine os intervalos onde  $f$  é crescente/decrescente (**1ª derivada**)
  6. Localize os extremos relativos (**TPD**)
  7. Determine a concavidade (**2ª derivada**)
  8. Encontre os pontos de inflexão (**2ª derivada**)
  9. Ache alguns pontos adicionais e esboce o gráfico

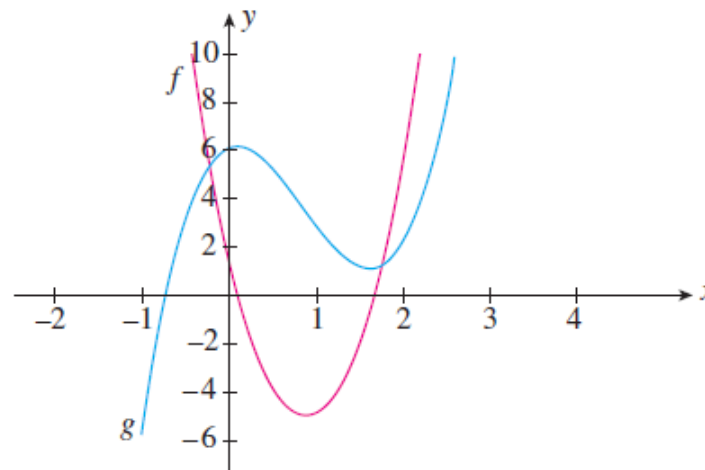
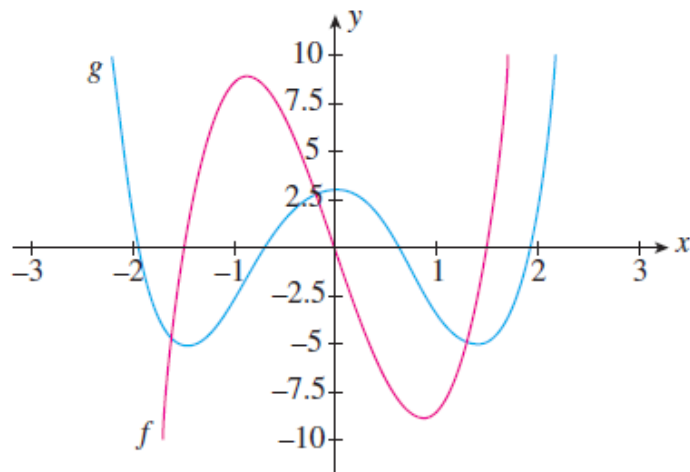
# Esboçando Curvas

- Exemplo: esboce o gráfico de...

- $f(x) = x^3 - 3x^2 - 24x + 32$

- $f(x) = \frac{x+1}{x-1}$

- Exercícios: nos gráficos abaixo indique e justifique qual função é derivada da outra



# Esboçando Curvas

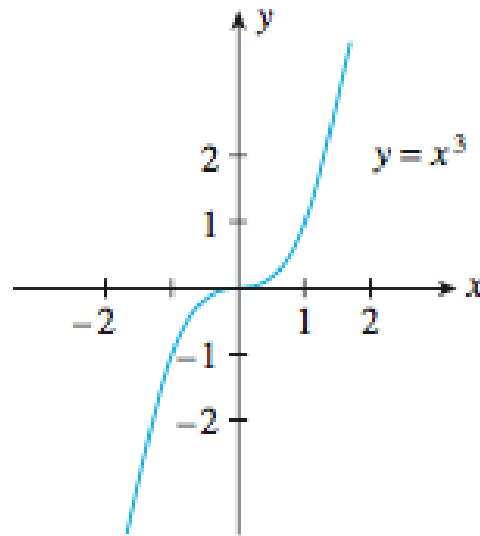
- Exercícios: esboce o gráfico
  - $f(t) = 3t^4 + 4t^3$
  - $f(x) = \sqrt{x^2 - 4}$

# Otimização

- Já discutimos o papel dos extremos relativos da função
- Vejamos agora o que chamamos de **extremos absolutos**
  - Se  $f(x) \leq f(c) \forall x$  no domínio de  $f$ , então  $f(c)$  é chamado valor **máximo absoluto** de  $f$
  - E vice-versa
- Muitas aplicações reais se baseiam nesse conceito

# Otimização

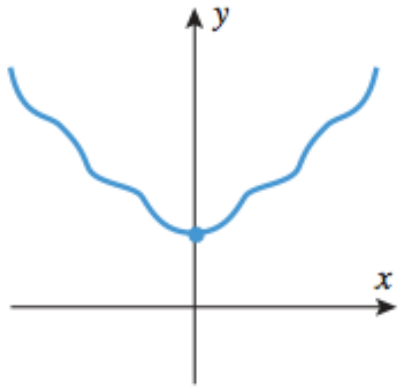
- Uma função pode não ter extremos absolutos



- **Mas** se  $f$  é contínua em um intervalo fechado  $[a, b]$ , então  $f$  tem tanto um máximo e um mínimo absolutos em  $[a, b]$
- **Teorema do Valor Extremo**

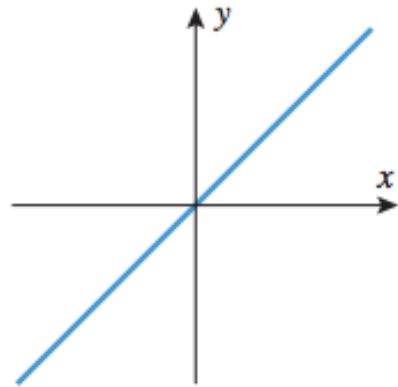


# Otimização



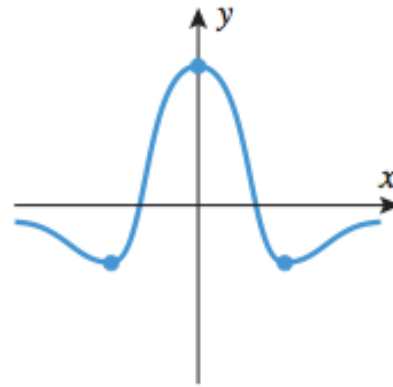
$f$  tem um mínimo absoluto, mas não um máximo absoluto em  $(-\infty, +\infty)$

(a)



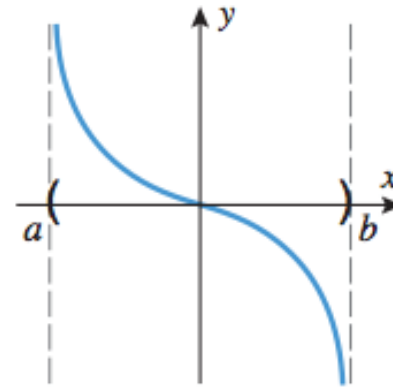
$f$  não tem extremos absolutos em  $(-\infty, +\infty)$

(b)



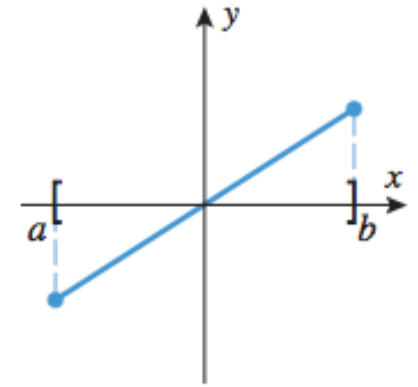
$f$  tem um máximo e um mínimo absolutos em  $(-\infty, +\infty)$

(c)



$f$  não tem extremos absolutos em  $(a, b)$

(d)



$f$  tem um mínimo e um máximo absolutos em  $[a, b]$

(e)

# Otimização

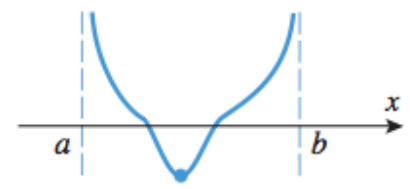
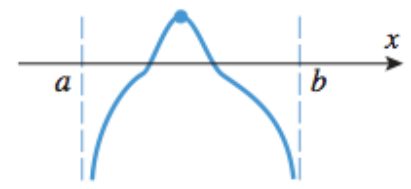
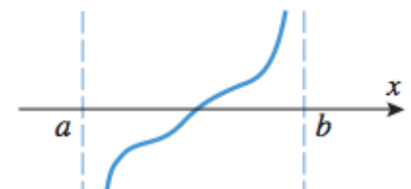
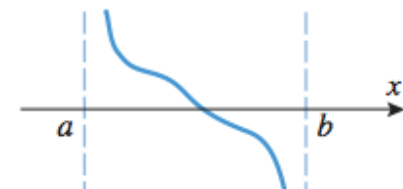
- Procedimento para encontrar extremos absolutos de  $f$  em um intervalo fechado
  - Passo 1 - encontre os pontos críticos de  $f$  em  $(a, b)$
  - Passo 2 - encontre o valor de  $f$  em todos os pontos críticos e nas extremidades  $a$  e  $b$
  - Passo 3 - o maior entre os valores do Passo 2 é o valor máximo absoluto de  $f$  em  $[a, b]$ , e o menor valor é o mínimo absoluto
- Exemplos
  - $f(x) = 3x^4 + 4x^3$  no intervalo  $[-2, 1]$
  - $f(x) = 4x + \frac{1}{x}$  no intervalo  $[1, 4]$

# Otimização

- Procedimento para encontrar extremos absolutos de  $f$  em um intervalo fechado
  - Passo 1 - encontre os pontos críticos de  $f$  em  $(a, b)$
  - Passo 2 - encontre o valor de  $f$  em todos os pontos críticos e nas extremidades  $a$  e  $b$
  - Passo 3 - o maior entre os valores do Passo 2 é o valor máximo absoluto de  $f$  em  $[a, b]$ , e o menor valor é o mínimo absoluto
- Exemplos
  - $f(x) = 3x^4 + 4x^3$  no intervalo  $[-2, 1]$
  - $f(x) = 4x + \frac{1}{x}$  no intervalo  $[1, 4]$

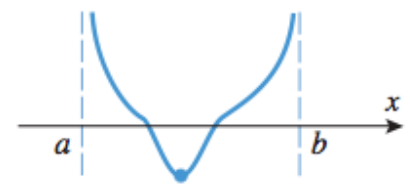
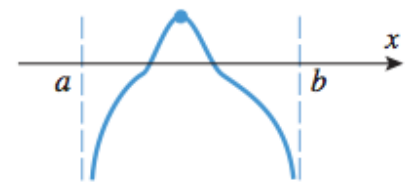
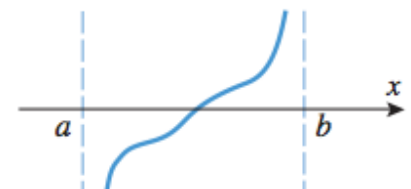
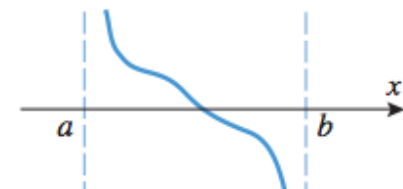
# Otimização

- Extremos absolutos em intervalos **ABERTOS** –  $(a, b)$ 
  - Comportamento similar a  $(-\infty, \infty)$
  - Uma função contínua pode ou não ter extremos absolutos em um intervalo aberto
  - Porém, certas conclusões podem ser tiradas do comportamento de  $f(x)$  quando  $x \rightarrow a^+$  e  $x \rightarrow b^-$ , ou em intervalos do tipo  $(a, \infty)$ ,  $(-\infty, b)$

LIMITES	$\lim_{x \rightarrow a^+} f(x) = +\infty$ $\lim_{x \rightarrow b^-} f(x) = +\infty$	$\lim_{x \rightarrow a^+} f(x) = -\infty$ $\lim_{x \rightarrow b^-} f(x) = -\infty$	$\lim_{x \rightarrow a^+} f(x) = -\infty$ $\lim_{x \rightarrow b^-} f(x) = +\infty$	$\lim_{x \rightarrow a^+} f(x) = +\infty$ $\lim_{x \rightarrow b^-} f(x) = -\infty$
CONCLUSÕES SE $f$ FOR CONTÍNUA EM $(a, b)$	$f$ tem um mínimo absoluto, mas nenhum máximo absoluto em $(a, b)$	$f$ tem um máximo absoluto mas nenhum mínimo absoluto em $(a, b)$	$f$ não tem nem máximo, nem mínimo absolutos em $(a, b)$	$f$ não tem nem máximo, nem mínimo absolutos em $(a, b)$
GRÁFICO				

# Otimização

- Extremos absolutos em intervalos **ABERTOS** –  $(a, b)$ 
  - Exemplo: determine se  $f(x) = \frac{1}{x^2-x}$  tem algum extremo absoluto em  $(0,1)$
  - Dica: verifique o domínio...

LIMITES	$\lim_{x \rightarrow a^+} f(x) = +\infty$ $\lim_{x \rightarrow b^-} f(x) = +\infty$	$\lim_{x \rightarrow a^+} f(x) = -\infty$ $\lim_{x \rightarrow b^-} f(x) = -\infty$	$\lim_{x \rightarrow a^+} f(x) = -\infty$ $\lim_{x \rightarrow b^-} f(x) = +\infty$	$\lim_{x \rightarrow a^+} f(x) = +\infty$ $\lim_{x \rightarrow b^-} f(x) = -\infty$
CONCLUSÕES SE $f$ FOR CONTÍNUA EM $(a, b)$	$f$ tem um mínimo absoluto, mas nenhum máximo absoluto em $(a, b)$	$f$ tem um máximo absoluto mas nenhum mínimo absoluto em $(a, b)$	$f$ não tem nem máximo, nem mínimo absolutos em $(a, b)$	$f$ não tem nem máximo, nem mínimo absolutos em $(a, b)$
GRÁFICO				

# Otimização

- Uma corretora dispõe de 100 apartamentos de dois quartos para alugar. O lucro mensal obtido com o aluguel é dado por
  - $P(x) = -10x^2 + 1.760x - 50.000$
- Quantas unidades devem ser alugadas a fim de maximizar o lucro mensal? Qual é o máximo lucro mensal possível??
  
- A velocidade média de um veículo em um trecho urbano entre 06:00 e 10:00 em um dia útil é aproximada pela função...
  - $f(t) = 20t - 40\sqrt{t} + 50 \quad (0 \leq t \leq 4)$
- Em que horário da manhã o tráfego fica mais lento? Qual a velocidade média de um veículo nesse momento?

# Otimização

- O preço de demanda de uma gravadora de CD's é dada por
  - $p = -0,00042x + 6$  ( $0 \leq x \leq 12.000$ )
- O custo mensal total para a prensagem e embalagem de  $x$  cópias é dada por
  - $C(x) = 600 + 2x - 0,00002x^2$  ( $0 \leq x \leq 20.000$ )
- Qual o nível de produção que maximiza o lucro?
  
- O custo mensal total incorridos por certa empresa para fabricar seu principal produto é dado por  $C(x) = 0,0025x^2 + 80x + 10.000$ 
  - a. Encontre a função de custo médio
  - b. Encontre o nível de produção que resulta no menor custo médio de produção
  - c. Encontre o nível de produção para o qual o custo médio é igual ao custo marginal
  - d. Compare o resultado de  $c$  e  $b$