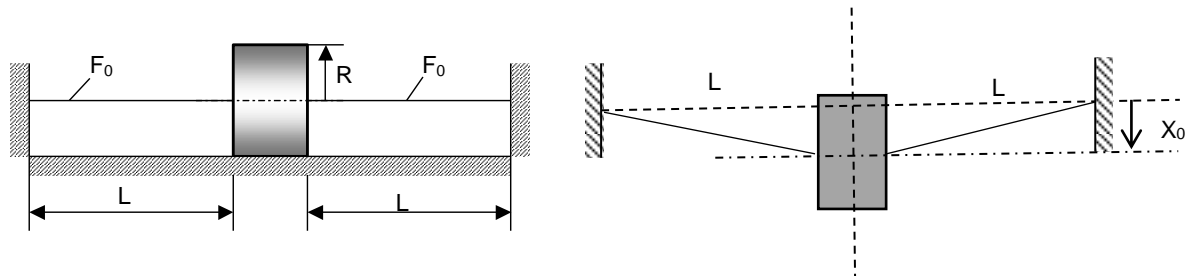
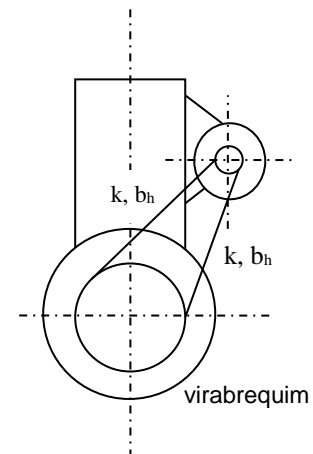


1ª **Questão** – O cilindro homogêneo de material polimérico com massa M e raio R , representado na figura, rola sem escorregar sobre um plano horizontal sob a ação de dois fios flexíveis de massa desprezível e comprimento L , pré-tencionados com uma força F_0 e alinhados com o eixo do cilindro na posição de equilíbrio. Deseja-se determinar o coeficiente de resistência ao rolamento (μ_{rol}) do cilindro sobre o plano. Após um deslocamento horizontal inicial $x_0 \ll L$ do eixo do cilindro, paralelamente a si mesmo, o sistema é deixado livre para oscilar. Pede-se:

- Determinar a equação diferencial do movimento horizontal do eixo do cilindro;
- Calcular a frequência natural de oscilação do sistema;
- Indicar graficamente a evolução esperada no tempo da posição horizontal do eixo do cilindro;
- Sendo dados: $F_0 = M \cdot g$; $L = 50 \text{ cm}$; $x_0 = 4 \text{ cm}$; e medido o tempo total de oscilação até a parada de cerca de 6 segundos, estimar o valor de μ_{rol}



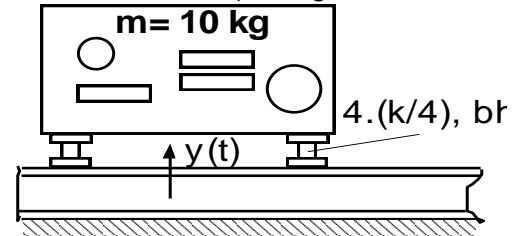
2ª **Questão**: Os virabrequins de motores de combustão interna a pistões alternativos, mesmo quando em regime permanente, apresentam aceleração angular como consequência de seu próprio processo de funcionamento. A figura representa esquematicamente uma polia motora fixada no virabrequim de um motor, a qual aciona, por meio de correia, um gerador de eletricidade preso ao mesmo motor. Sabendo-se que o momento polar de inércia do rotor do gerador em relação ao seu eixo é J ; que o raio da polia no virabrequim é R_1 ; que o raio da polia movida é R_2 ; que a velocidade angular média do virabrequim na condição de estudo é Ω e que a aceleração angular do virabrequim pode ser aproximada por $\alpha(t) = A \cdot \sin(n \cdot \Omega \cdot t / 2)$, onde n é o número de cilindros do motor de quatro tempos, pede-se:



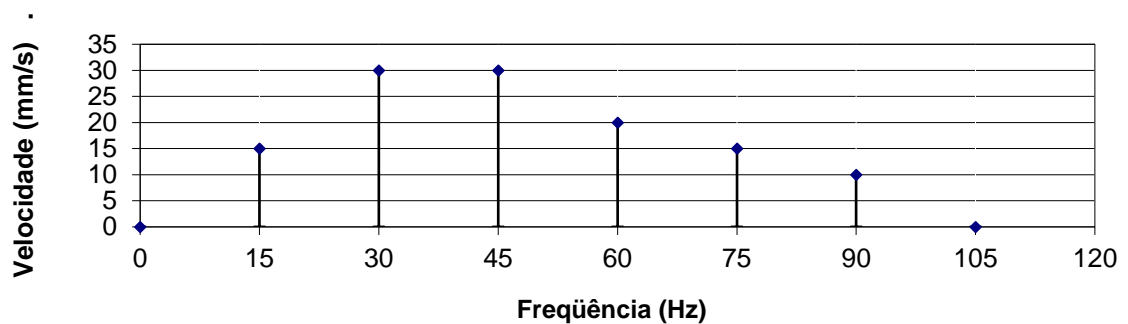
- Calcular a aceleração angular do rotor do alternador supondo que a correia seja inextensível.
- Supondo-se que cada ramo livre da correia tem rigidez k conhecida e coeficiente de histerese b_h , e que a correia é suficientemente pré-tensionada para que seus dois ramos nunca deixem de estar tracionados, determinar a equação diferencial do movimento angular do rotor do alternador.
- Sendo dados: $\Omega = 250 \text{ rad/s}$; $R_1 = 60 \text{ mm}$; $R_2 = 20 \text{ mm}$; $A = 4800 \text{ rad/s}^2$; $n = 4$ cilindros; $J = 4 \cdot 10^{-4} \text{ kg} \cdot \text{m}^2$; $b_h = 0,05$; e o valor da máxima aceleração angular que o rotor do alternador suporta = 1800 rad/s^2 , calcular a máxima rigidez admissível para cada ramo da correia, k .

3ª Questão: Um painel de instrumentos de massa $m= 10 \text{ kg}$ deve ser montado na estrutura de uma máquina que apresenta vibração vertical conforme o espectro discreto de frequências apresentado na figura. Sabendo-se que a máxima velocidade de vibração vertical admissível para o painel em qualquer frequência individual é 1 mm/s , pede-se:

- escrever a equação diferencial do movimento vertical do painel, suposto apoiado em quatro pés (feitos de borracha com coeficiente de histerese $b_h= 0,2$) de rigidez $k/4$ cada;
- determinar a velocidade da vibração vertical do painel em regime permanente na frequência de 30 Hz , supondo k e b_h conhecidos;
- calcular a rigidez k dos 4 coxins de borracha com coeficiente de histerese $b_h=0,2$, para que a velocidade de vibração vertical do painel em qualquer frequência seja menor que 1 mm/s ;

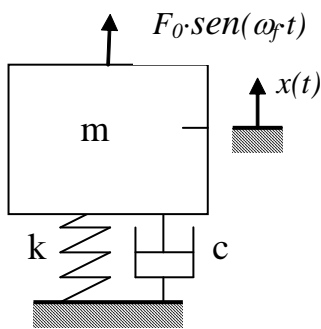


Amplitude de Velocidade



Formulário

Equação diferencial em $x(t)$.



$$m \cdot \ddot{x}(t) + c \cdot \dot{x}(t) + k \cdot x(t) = F_0 \cdot \text{sen}(\omega_f \cdot t)$$

solução da homogênea:

$$x_h(t) = X \cdot e^{-\zeta \cdot \omega t} \cdot \text{sen}(\omega_d \cdot t + \phi) \quad \text{para } \zeta < 1$$

$$\omega = \sqrt{\frac{k}{m}}; \quad \zeta = \frac{c}{2 \cdot \sqrt{k \cdot m}}; \quad \omega_d = \omega \cdot \sqrt{1 - \zeta^2}$$

solução particular:

$$x_p(t) = X_p \cdot \text{sen}(\omega_f \cdot t - \psi);$$

$$X_p = \frac{F_0 / k}{\sqrt{(1 - r^2)^2 + (2 \cdot \zeta \cdot r)^2}}; \quad \tan(\psi) = \frac{2 \cdot \zeta \cdot r}{1 - r^2}; \quad r = \frac{\omega_f}{\omega}$$

Se o material da mola dissipa energia por histerese com coeficiente $b_h \ll 1$, então: $c_{eq} = \frac{b_h \cdot k}{\Omega}$ onde

$\Omega = \omega_f$ para solução particular, ou $\Omega = \omega_d$ para a solução da homogênea.

Energia dissipada em um ciclo por um amortecedor viscoso linear: $E_d = \pi C \omega X^2$, onde C é o coeficiente de amortecimento, ω a frequência angular e X a amplitude da vibração.