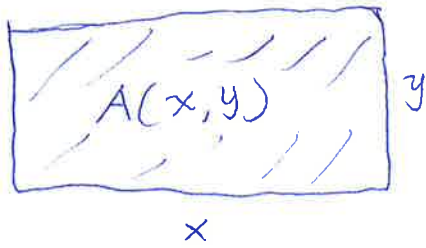


Funções de Varias Variáveis

①

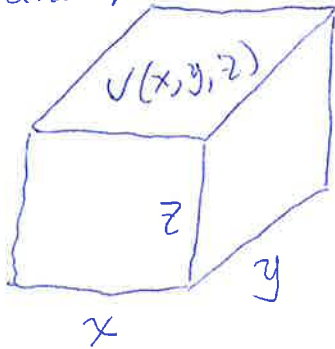
Retângulo



$$A(x, y) = xy$$

A área é uma função de duas variáveis

Paralelepípedo



$$V(x, y, z) = xyz$$

O volume do paralelepípedo é uma função de três variáveis.

$$\bar{x} = \frac{x_1 + x_2 + \dots + x_n}{n}$$

$$\bar{x}(x_1, x_2, \dots, x_n)$$

A média é uma função de n variáveis.

- Definição: Se $f: D \subset \mathbb{R}^2 \rightarrow \mathbb{R}$ tal que
para todo $(x, y) \in D \mapsto f(x, y)$
dizemos que f é uma função real (escalar) de duas variáveis

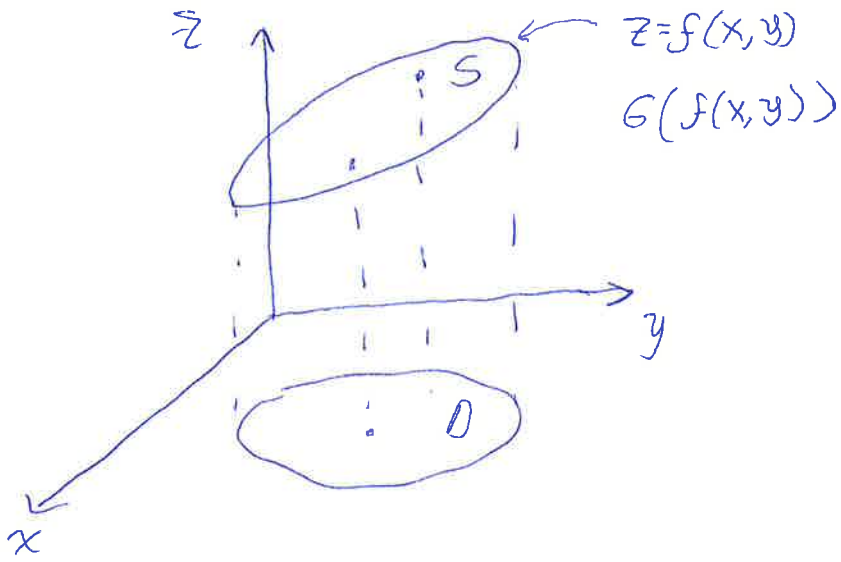
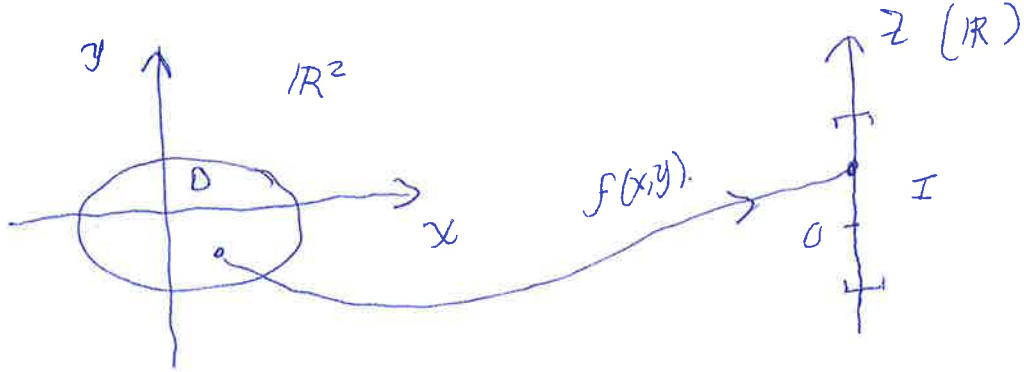
- Definição: Se $f: D \subset \mathbb{R}^3 \rightarrow \mathbb{R}$ tal que
para todo $(x, y, z) \in D \mapsto f(x, y, z)$
dizemos que f é uma função real (escalar) de três variáveis

- Definição: Se $f: D \subset \mathbb{R}^n \rightarrow \mathbb{R}$ tal que
para todo $(x_1, x_2, \dots, x_n) \in D \mapsto f(x_1, x_2, \dots, x_n)$
dizemos que f é uma função real (escalar) de n variáveis

- O gráfico de uma função de duas variáveis pode ser interpretado como uma superfície.

$$f: D \subset \mathbb{R}^2 \rightarrow \mathbb{I} \subset \mathbb{R}$$

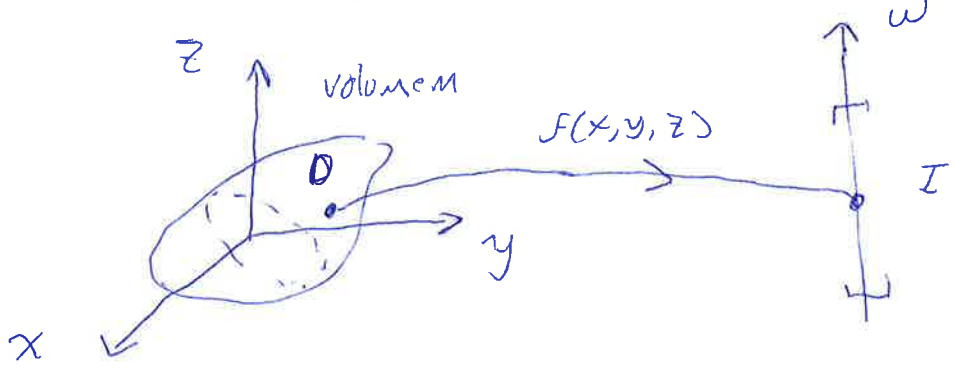
$$(x, y) \in D \mapsto f(x, y) = z$$



- O gráfico de uma função de três variáveis não pode ser representado diretamente.

$$f: D \subset \mathbb{R}^3 \rightarrow \mathbb{I} \subset \mathbb{R}$$

$$(x, y, z) \in D \mapsto f(x, y, z) = w$$



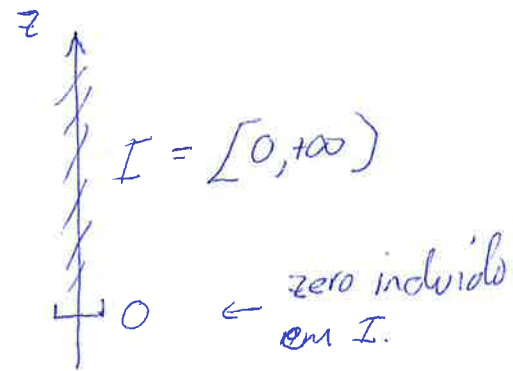
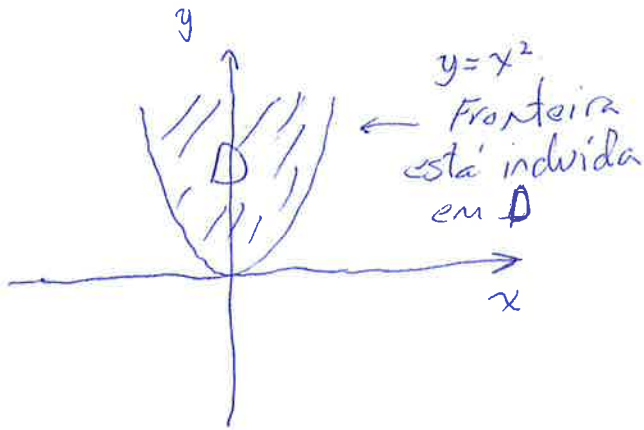
Ex.: Determine o domínio e a imagem das seguintes funções: (3)

a) $f(x, y) = \sqrt{y - x^2}$

b) $f(x, y, z) = \frac{1}{x^2 + y^2 + z^2}$

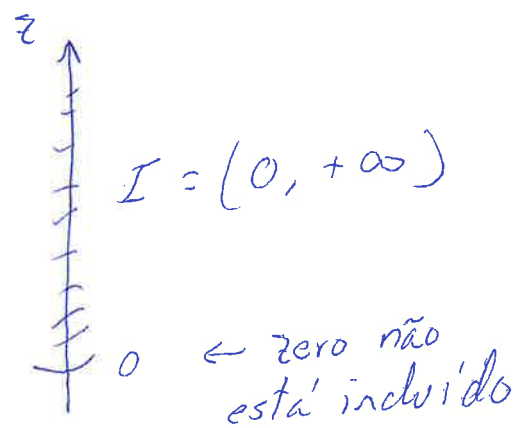
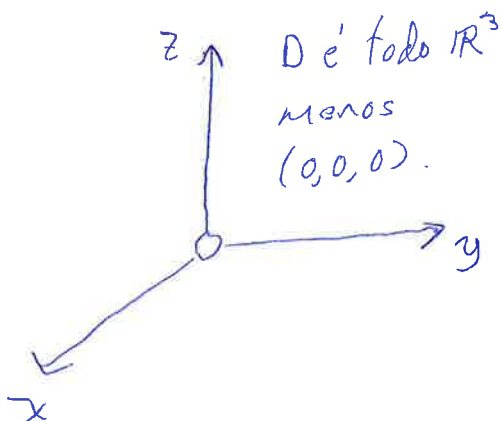
Sol.: a) $D = \{ (x, y) \in \mathbb{R}^2 \mid y - x^2 \geq 0 \}$

$$I = \{ z \in \mathbb{R} \mid z \geq 0 \text{ e } z = \sqrt{y - x^2} \}$$



b) $D = \{ (x, y, z) \in \mathbb{R}^3 \mid x^2 + y^2 + z^2 \neq 0 \}$

$$I = \{ w \in \mathbb{R} \mid w > 0 \text{ e } w = \frac{1}{x^2 + y^2 + z^2} \}$$



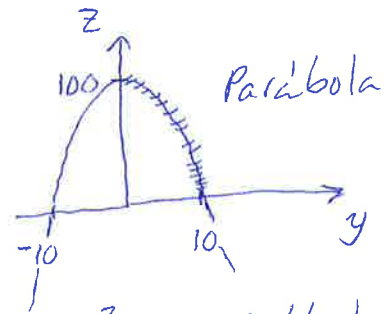
Ex.: Esboce o gráfico da função $f(x,y) = 100 - x^2 - y^2$. (4)

Sol.: $D = \{(x,y) \in \mathbb{R}^2\}$ não existem restrições, todo \mathbb{R}^2

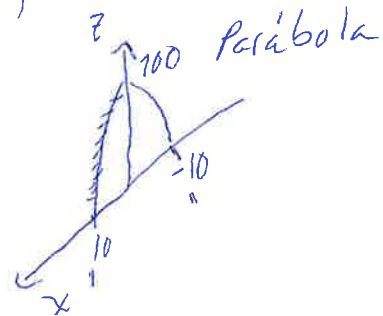
$$I = \{z \in \mathbb{R} \mid z \leq 100 \text{ e } z = 100 - x^2 - y^2\}$$

- Podemos simplificar o gráfico analisando três casos particulares: i) $x=0$, ii) $y=0$ e iii) $z=0$.


i) $\begin{cases} x=0 \\ z=100-x^2-y^2 \end{cases} \Rightarrow z=100-y^2 \Rightarrow$



ii) $\begin{cases} y=0 \\ z=100-x^2-y^2 \end{cases} \Rightarrow z=100-x^2 \Rightarrow$

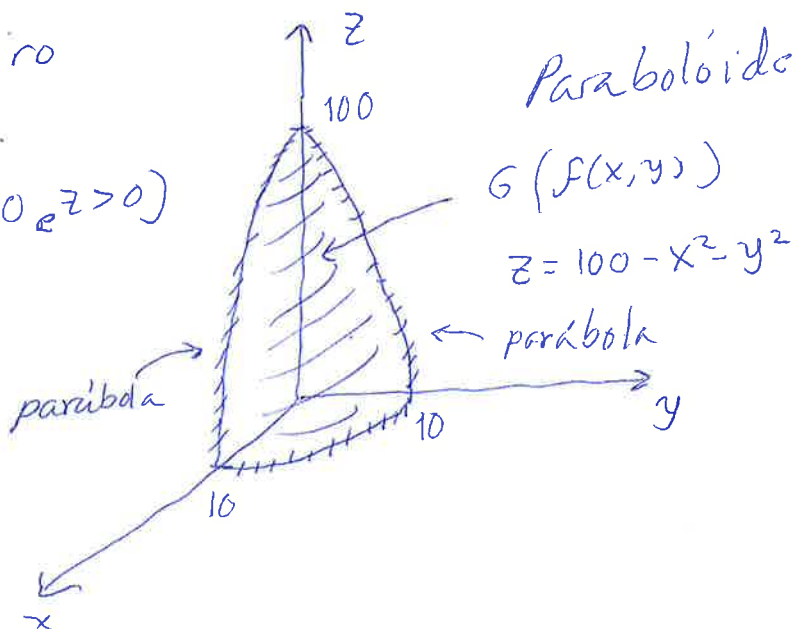


iii) $\begin{cases} z=0 \\ z=100-x^2-y^2 \end{cases} \Rightarrow x^2+y^2=100 \Rightarrow$



- Juntando os gráficos anteriores no primeiro octante.

$(x > 0, y > 0, z > 0)$



Curvas de Nível

$z = f(x, y) \rightarrow$ Eq. que representa uma superfície
 Gráfico da função $f(x, y)$.

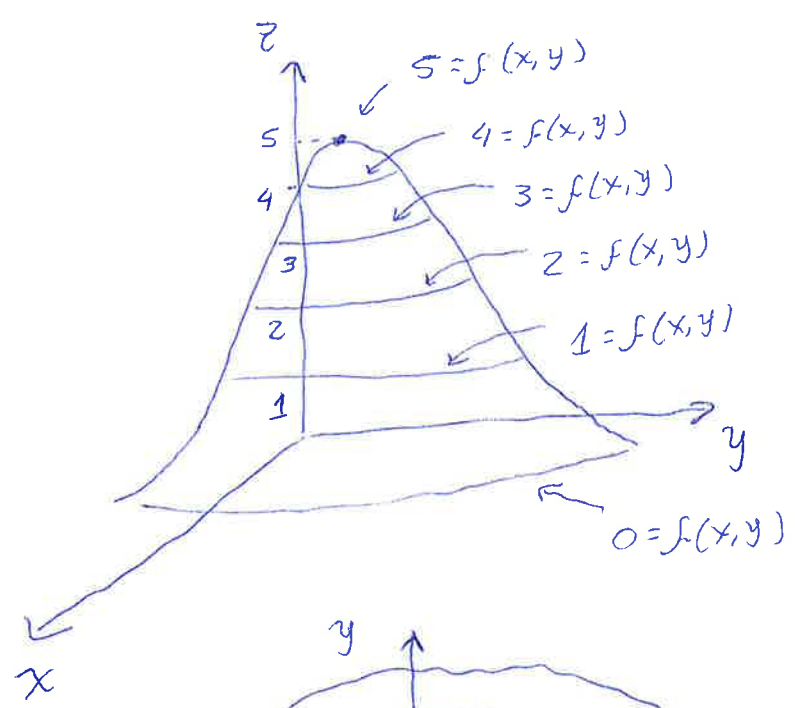
z x, y
 variável dependente duas variáveis independentes

$z = c = h = f(x, y)$

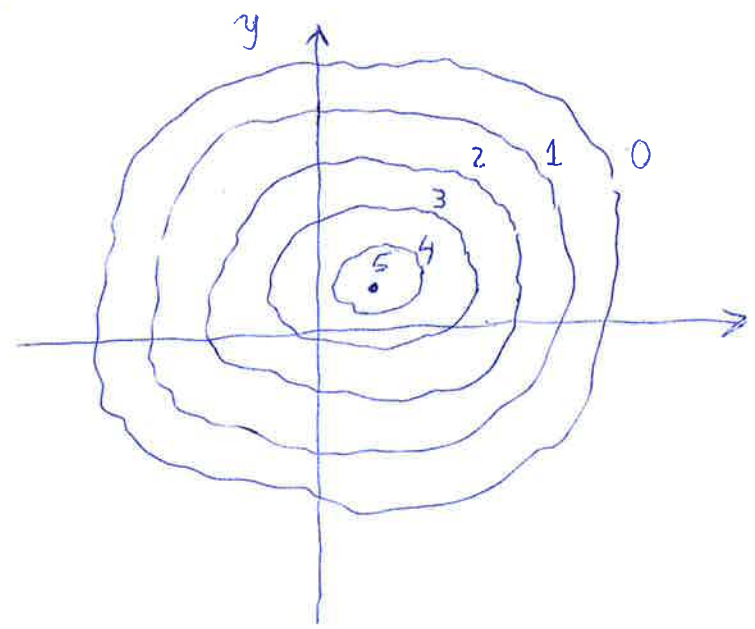
somente uma variável independente

$y(x)$
 $x(y)$

implicitamente temos uma função de uma variável que representa uma curva.



Curvas de Altura constante



Curvas de Nível (Mapa de Contornos)

Projeção no plano xy ($z=0$) das curvas de altura constante.

Ex.: Esboce o gráfico da função $f(x,y) = 7 - 4x - 3y =$ algumas curvas de nível.

(2)

Sol.: $z = f(x,y)$

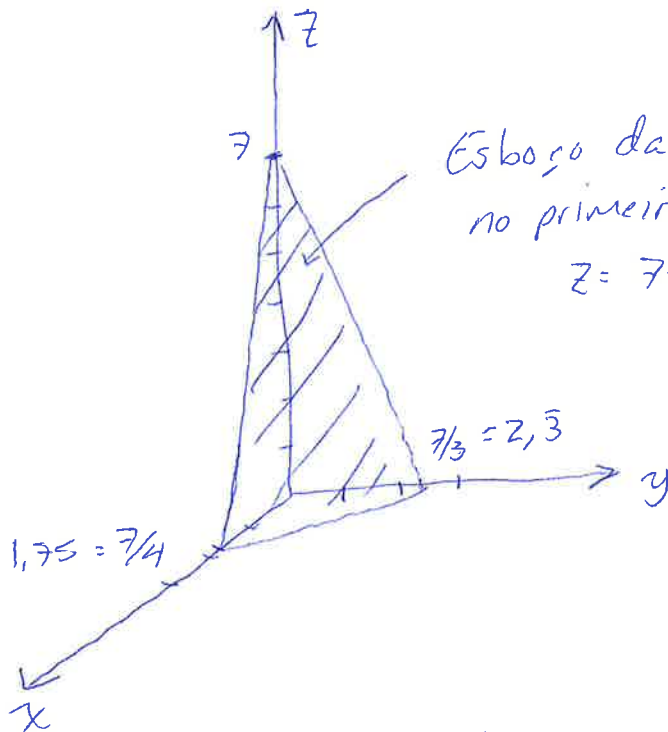
$z = 7 - 4x - 3y$ é a eq. de um plano

Neste caso basta encontrar três pontos do plano

- Se $x=0$ e $y=0 \Rightarrow z = 7 - 4 \cdot 0 - 3 \cdot 0 = 7 \Rightarrow (0, 0, 7)$

$x=0$ e $z=0 \Rightarrow 0 = 7 - 4 \cdot 0 - 3y \Rightarrow y = \frac{7}{3} = 2,3 \Rightarrow (0, \frac{7}{3}, 0)$

$y=0$ e $z=0 \Rightarrow 0 = 7 - 4x - 3 \cdot 0 \Rightarrow x = \frac{7}{4} = 1,75 \Rightarrow (\frac{7}{4}, 0, 0)$



Esboço da parte do plano no primeiro octante

$$z = 7 - 4x - 3y$$

Curvas de Nível : $h = f(x,y)$, $h = cte$

$$h = 7 - 4x - 3y$$

$$3y = -4x + 7 - h$$

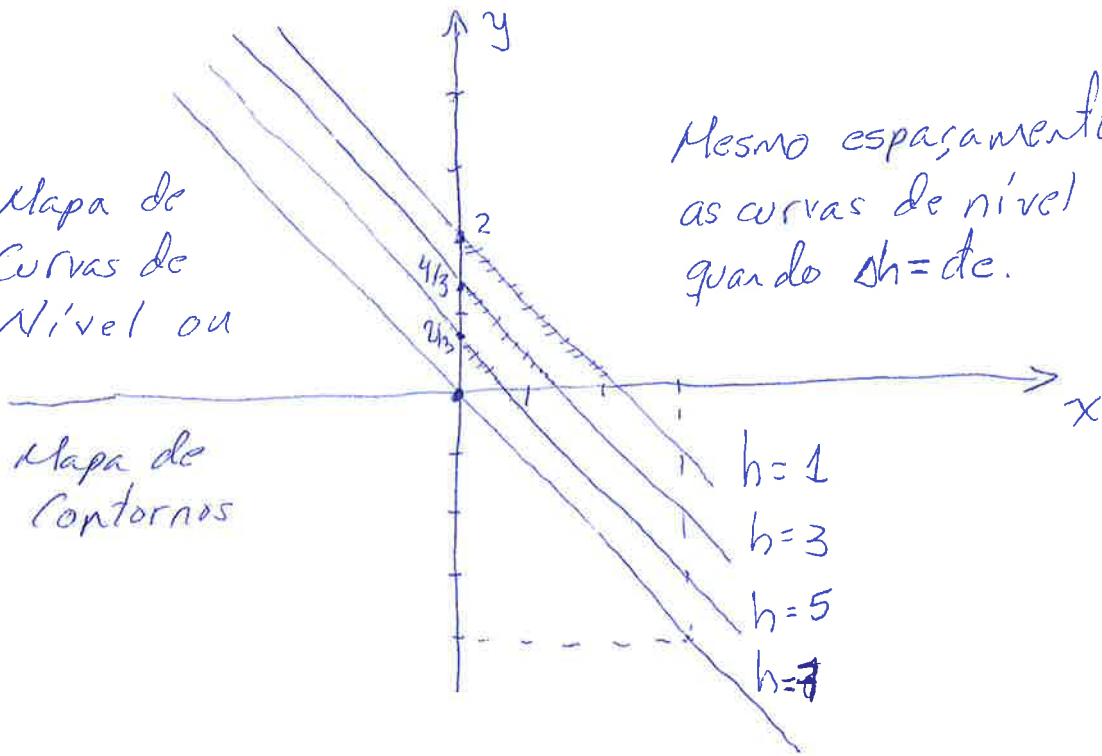
$$y = \underbrace{-\frac{4}{3}}_m x + \underbrace{\frac{7-h}{3}}_b$$

← Todas as Curvas de Nível de um plano são retas paralelas (m não depende de h)

$\Delta h \downarrow$ $h=7 \Rightarrow y(x) = -\frac{4}{3}x, b=0$
 \downarrow $h=5 \Rightarrow y(x) = -\frac{4}{3}x + \frac{2}{3}, b=\frac{2}{3}$
 \downarrow $h=3 \Rightarrow y(x) = -\frac{4}{3}x + \frac{4}{3}, b=\frac{4}{3}$
 \downarrow $h=1 \Rightarrow y(x) = -\frac{4}{3}x + \frac{6}{3}, b=\frac{6}{3}=2$

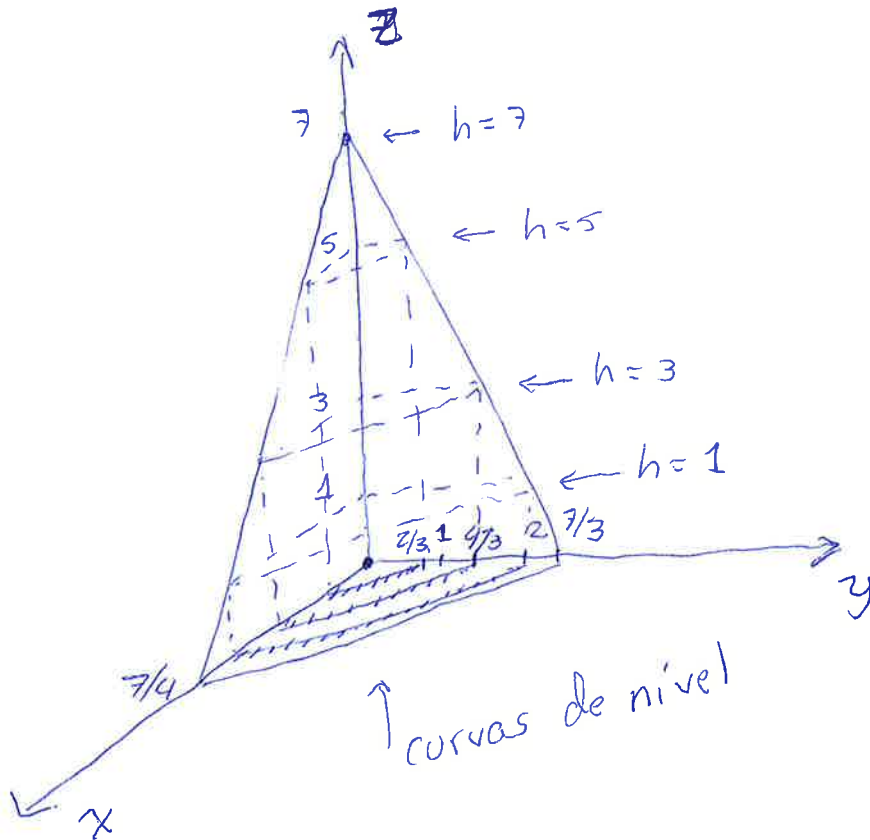
$\Delta h = cte$

Mapa de Curvas de Nível ou

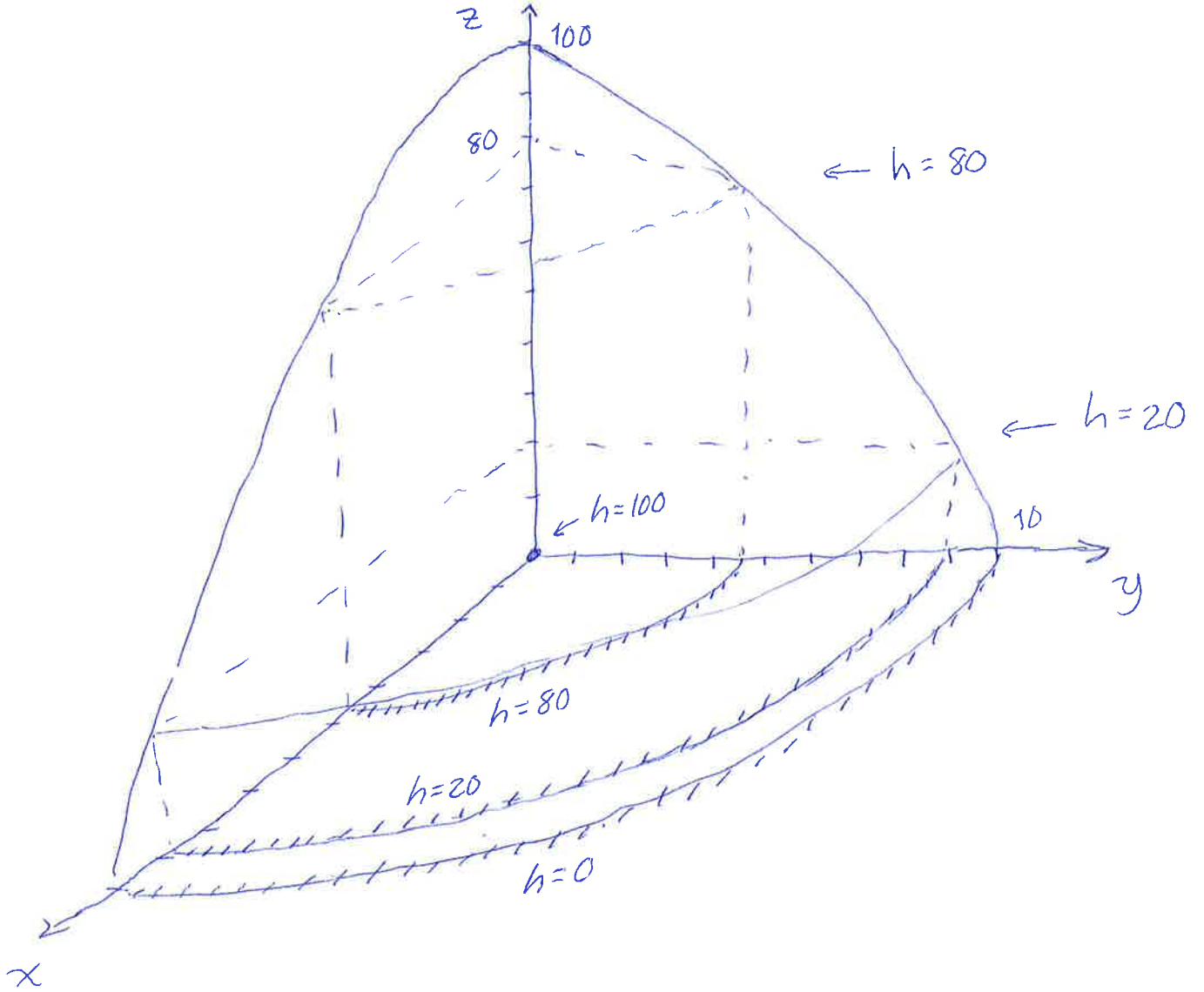


Mesmo espaçamento entre as curvas de nível de um plano quando $\Delta h = cte.$

Mapa de Contornos



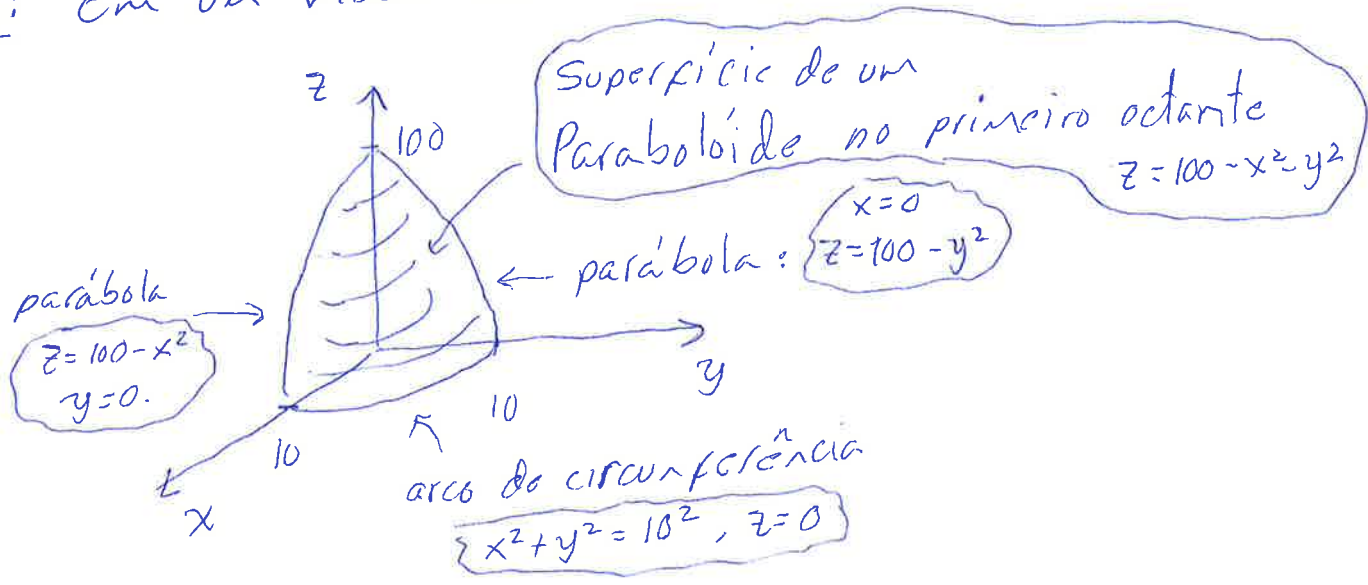
6



Ex. Esboce algumas curvas de nível da função

$$f(x,y) = 100 - x^2 - y^2.$$

Sol.: Em um vídeo anterior esboçamos essa mesma função



Curvas de Nível: $h = f(x,y)$, $h = cte$

$$h = 100 - x^2 - y^2$$

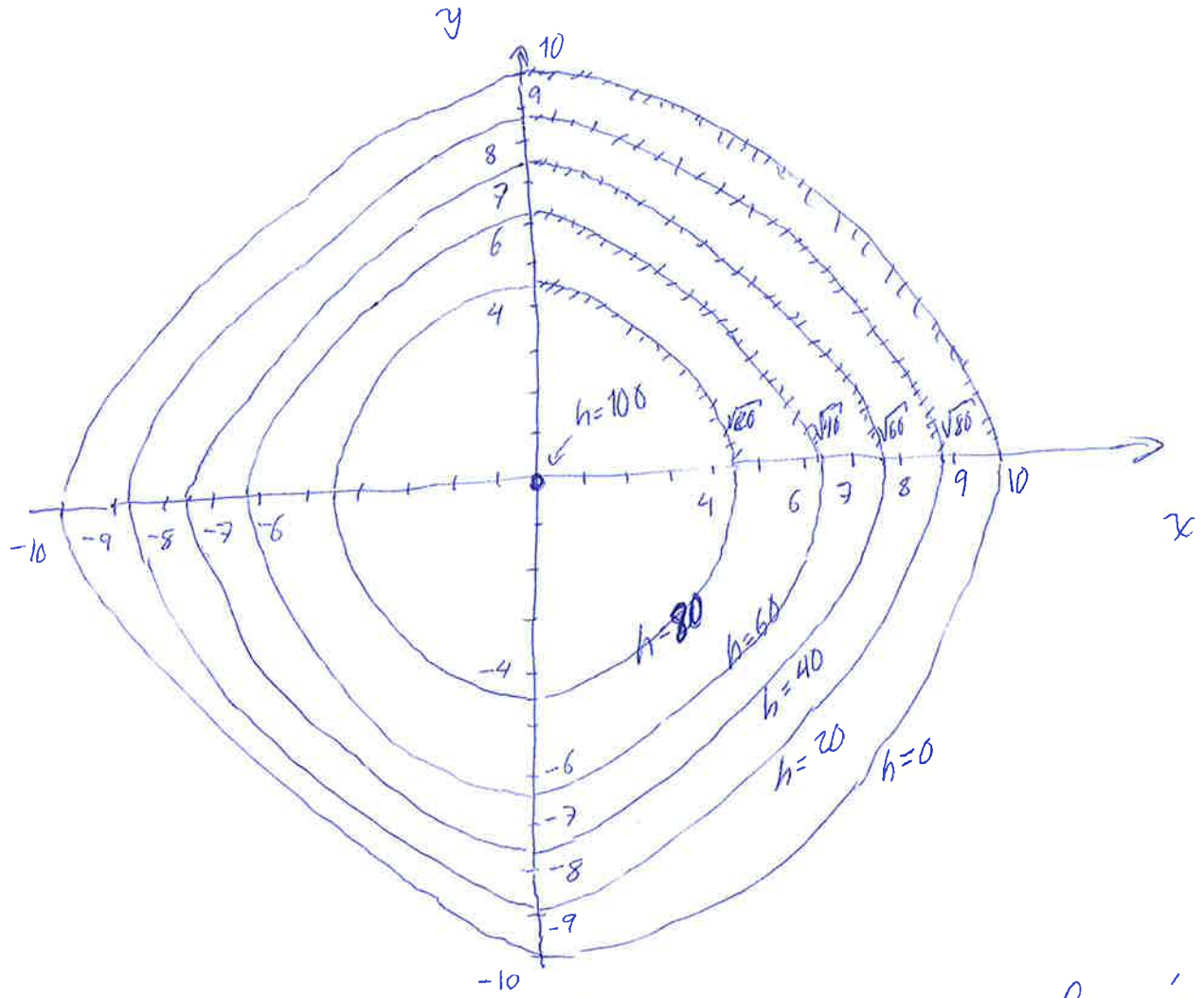
$$x^2 + y^2 = 100 - h$$

$$x^2 + y^2 = R^2, \text{ com } R = \sqrt{100 - h}$$

As curvas de nível são circunferências centradas na origem e com raio $R = \sqrt{100 - h}$.

- $\Delta h \downarrow$ $h = 100 \Rightarrow R = 0 \Rightarrow x^2 + y^2 = 0^2 \Rightarrow (x,y) = (0,0)$
- \downarrow $h = 80 \Rightarrow R = \sqrt{20} \approx 4,5 \Rightarrow x^2 + y^2 = 20$
- \downarrow $h = 60 \Rightarrow R = \sqrt{40} \approx 6,3 \Rightarrow x^2 + y^2 = 40$
- \downarrow $h = 40 \Rightarrow R = \sqrt{60} \approx 7,7 \Rightarrow x^2 + y^2 = 60$
- \downarrow $h = 20 \Rightarrow R = \sqrt{80} \approx 8,9 \Rightarrow x^2 + y^2 = 80$
- \downarrow $h = 0 \Rightarrow R = \sqrt{100} = 10 \Rightarrow x^2 + y^2 = 100$

$\Delta h = cte$



- Note que o espaçamento entre as curvas de nível não é constante.
- Quando as curvas de nível estão mais próximas ($\Delta h = de$) isso significa que a subida é mais "íngreme" (mais abrupta).
- Quando as curvas de nível estão mais afastadas a subida é mais "suave".
- Lembre que as curvas de nível em um plano estão igualmente espaçadas.

Superfícies de Nível

①

- A equação $w = f(x, y, z)$ não conseguimos representar diretamente. Precisariamos 4 eixos perpendiculares entre si dois a dois.

$$w = f(x, y, z) \quad \leftarrow \text{Superfície 4D}$$

uma variável dependente três variáveis independentes

Fixando $w = t = \text{cte}$

$$\text{Superfície de Nível: } t = \boxed{\text{cte} = f(x, y, z)}$$

implicitamente somente duas variáveis independentes

$$\underbrace{x = g(y, z) \quad y = h(x, z) \quad z = \gamma(x, y)}_{\text{Superfícies 3D}}$$

- A superfície 4D pode ser visualizada por um conjunto de superfícies 3D em diferentes valores de w (instantes de tempo, t). Essas superfícies 3D associadas a uma função de três variáveis são chamadas de superfícies de nível.

Ex.: Descreva e esboce algumas superfícies de nível da função $f(x,y,z) = \sqrt{x^2+y^2+z^2}$.

(2)

Sol.: Superfície de Nível: $f(x,y,z) = R = cte$

$$\sqrt{x^2+y^2+z^2} = R$$

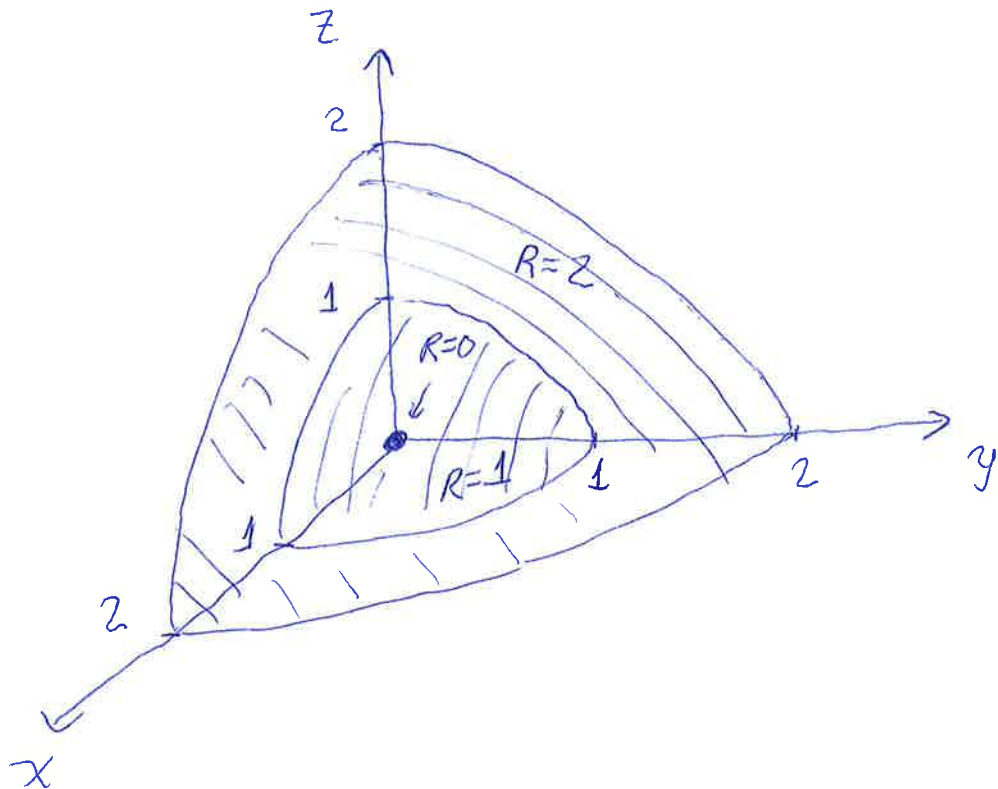
$$x^2+y^2+z^2 = R^2$$

← As superfícies de nível são esferas de raio R e centradas na origem

$$R=0 \Rightarrow x^2+y^2+z^2 = 0^2 \Rightarrow (0,0,0) \text{ único ponto}$$

$$R=1 \Rightarrow x^2+y^2+z^2 = 1^2$$

$$R=2 \Rightarrow x^2+y^2+z^2 = 2^2$$



Funções de Várias Variáveis no Computador

1) $z = f(x, y) = y^2 - x^2$ Paraboloide Hiperbólico

2) $z = f(x, y) = \frac{(x-y)^2}{x^2+y^2}$, $x^2+y^2 \neq 0$

3) $z = f(x, y) = \frac{xy^2}{x^2+y^4}$, $x^2+y^4 \neq 0$

4) $z = f(x, y) = x \ln(y^2 - x)$, $y^2 - x > 0$
 $y^2 > x$

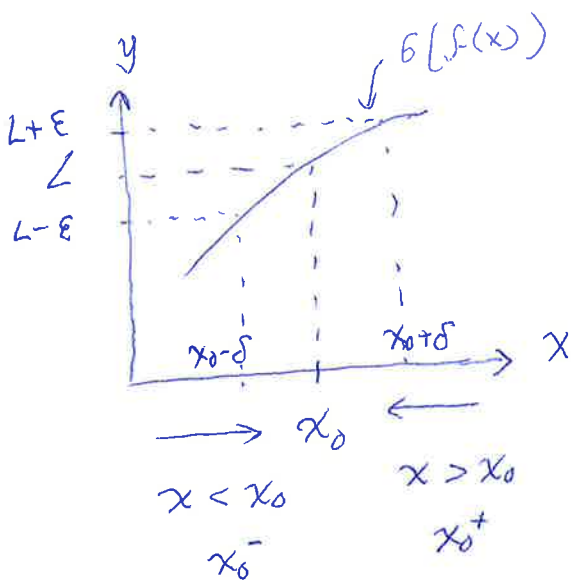
5) $w = f(x, y, z) = \sqrt{x^2 + y^2 + z^2}$

6) $w = f(x, y, z) = x^3 + y^2 - z^2$

7) $w = f(x, y, z) = xyz$

Limites de Funções de Duas Variáveis em um ponto seguindo uma curva ①

Funções de UMA Variável



Das Possibilidades para se aproximar a x_0

① $\lim_{x \rightarrow x_0^+} [f(x)]$

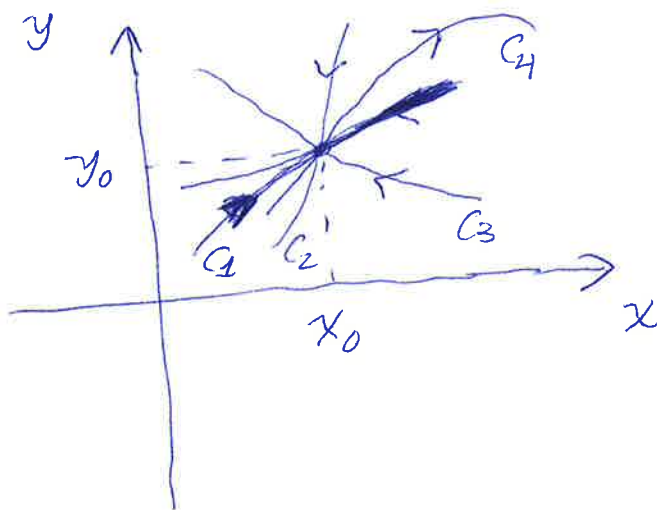
② $\lim_{x \rightarrow x_0^-} [f(x)]$



O limite existe se para todo $\epsilon > 0$ existe δ tal que

$$|x - x_0| < \delta \Rightarrow |f(x) - L| < \epsilon.$$

Para funções de duas variáveis o domínio é bidimensional. Existem infinitas curvas pela quais se pode aproximar de um ponto (x_0, y_0)



- Se o limite

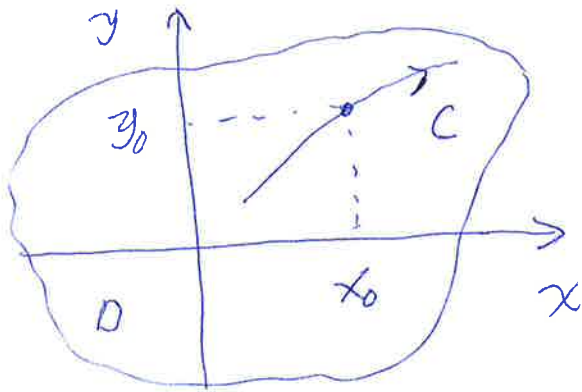
$$\lim [f(x, y)]$$

$$(x, y) \rightarrow (x_0, y_0)$$

existir ele deve ser o mesmo por todas as curvas possíveis

- Por outro lado, basta encontrar que o limite não existe seguindo uma curva ou que tem valor diferente por duas curvas diferentes para afirmar que o limite em geral não existe.

- (2)
- Vamos definir o sentido de calcular o limite de uma função de duas variáveis seguindo uma curva C .



$f(x,y)$ com domínio D

$$\lim [f(x,y)] = ?$$

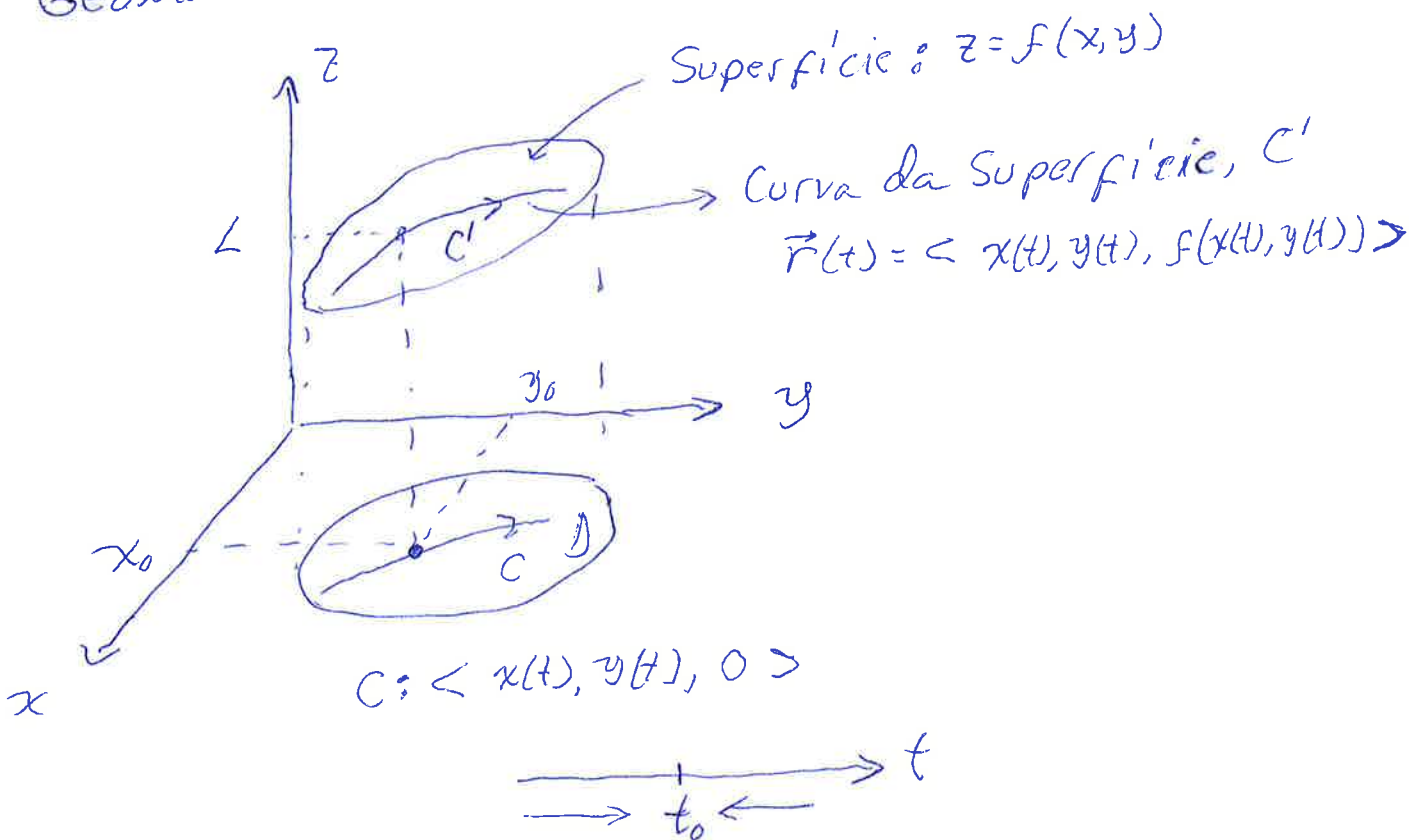
$(x,y) \rightarrow (x_0, y_0)$
Seguindo a curva C

- Vamos supor que a curva C seja lisa e escrita pela função vetorial $\vec{r}(t) = \langle x(t), y(t) \rangle$, com $\vec{r}(t_0) = \langle x_0, y_0 \rangle$
- Nesse caso escrevemos

$$\lim [f(x,y)] = \lim_{t \rightarrow t_0} [f(x(t), y(t))]$$

$(x,y) \rightarrow (x_0, y_0)$
Seguindo a curva C

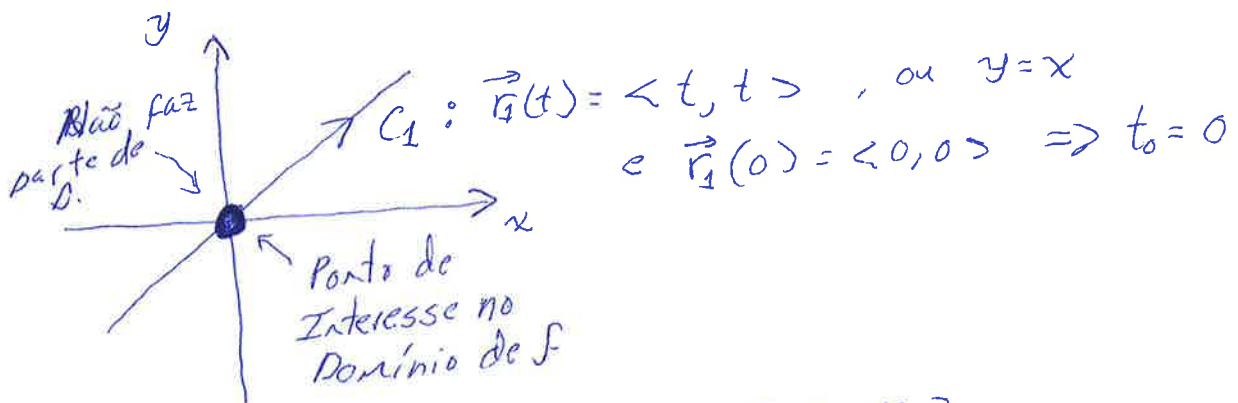
Geometricamente



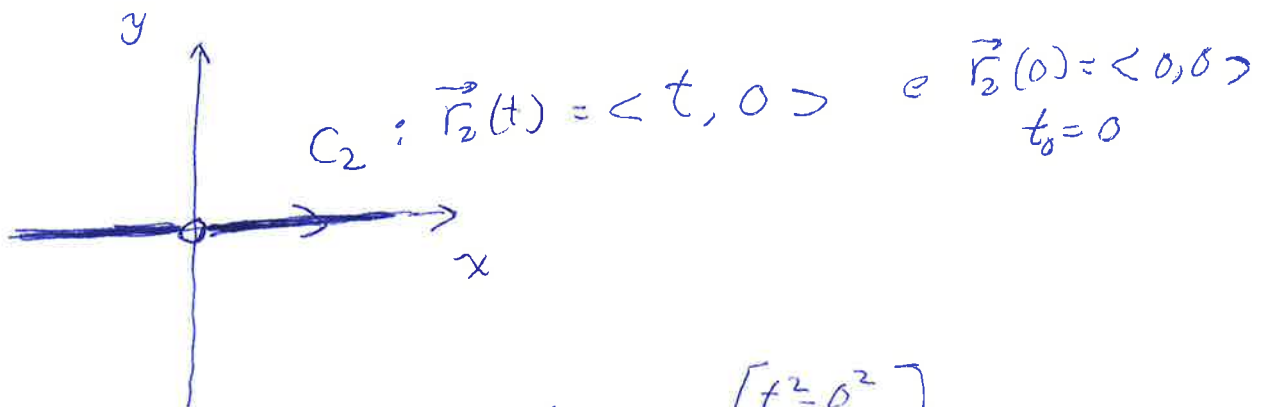
Ex.: Mostre que $\lim_{(x,y) \rightarrow (0,0)} \left(\frac{x^2 - y^2}{x^2 + y^2} \right)$ não existe. (3)

Sol.: $f(x,y) = \frac{x^2 - y^2}{x^2 + y^2}$, não está definida em $(0,0)$

$$D = \{ (x,y) \in \mathbb{R}^2 \mid (x,y) \neq (0,0) \}$$



$$\begin{aligned} \lim_{(x,y) \rightarrow (0,0)} \left[\frac{x^2 - y^2}{x^2 + y^2} \right] &= \lim_{(t,t) \rightarrow (0,0)} \left[\frac{t^2 - t^2}{t^2 + t^2} \right] \\ \text{Seguindo } C_1 &= \lim_{t \rightarrow 0} \left[\frac{0}{2t^2} \right] = 0 \end{aligned}$$



$$\begin{aligned} \lim_{(x,y) \rightarrow (0,0)} \left[\frac{x^2 - y^2}{x^2 + y^2} \right] &= \lim_{(t,0) \rightarrow (0,0)} \left[\frac{t^2 - 0^2}{t^2 + 0^2} \right] \\ \text{Seguindo } C_2 &= \lim_{t \rightarrow 0} [1] = 1 \end{aligned}$$

Logo, como

$$\lim_{\substack{(x,y) \rightarrow (0,0) \\ \text{Seguindo } C_1}} f(x,y) \neq \lim_{\substack{(x,y) \rightarrow (0,0) \\ \text{Seguindo } C_2}} [f(x,y)]$$

\Downarrow
 O limite $\lim_{(x,y) \rightarrow (0,0)} [f(x,y)]$ não existe.

Limite em Funções de Duas Variáveis

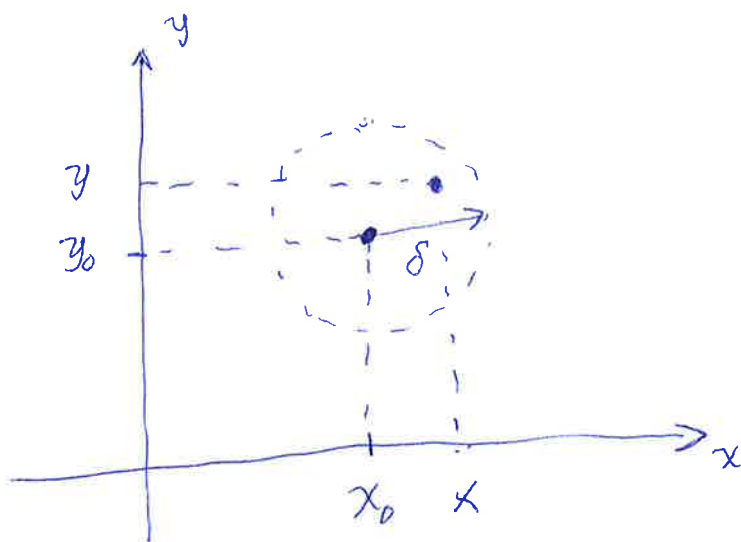
- Em funções de uma variável a ideia de estar perto de um ponto x_0 do domínio era escrita como



$$|x - x_0| < \delta$$

Se usa um intervalo aberto $(x_0 - \delta, x_0 + \delta)$

- Em funções de duas variáveis a ideia de estar perto de um ponto do domínio (x_0, y_0) é escrita como



$$|(x, y) - (x_0, y_0)| < \delta$$

$$\sqrt{(x - x_0)^2 + (y - y_0)^2} < \delta$$

A distância entre (x, y) e (x_0, y_0) é menor que δ .

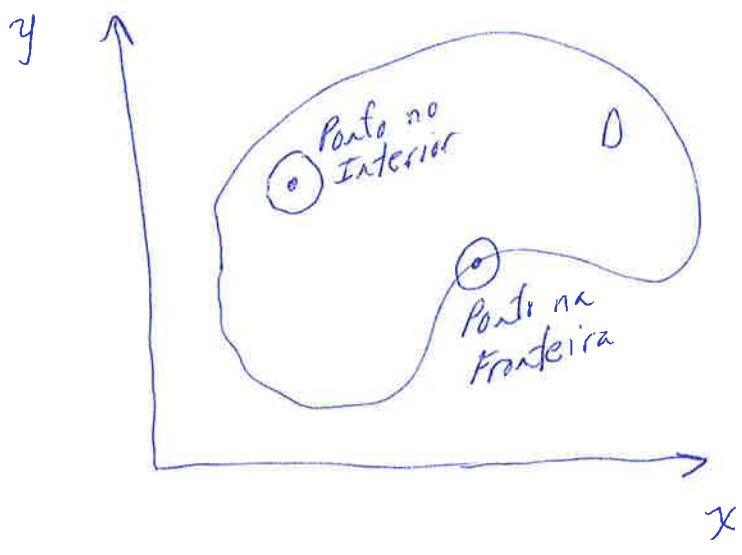


Disco Aberto
Centrado em
 (x_0, y_0) de raio δ
Fronteira NÃO incluída



Disco Fechado
Centrado em
 (x_0, y_0) de raio δ
Fronteira Incluída

- O disco substitui o intervalo em funções de duas variáveis quando comparado a funções de uma variável.



- Um ponto é dito ~~estar~~ estar no interior do domínio quando existe algum disco aberto centrado no ponto que contenha unicamente pontos de D.
- Um ponto é de fronteira quando qualquer disco aberto centrado no ponto contém pontos de D e pontos que não são de D.

Definição de Limite

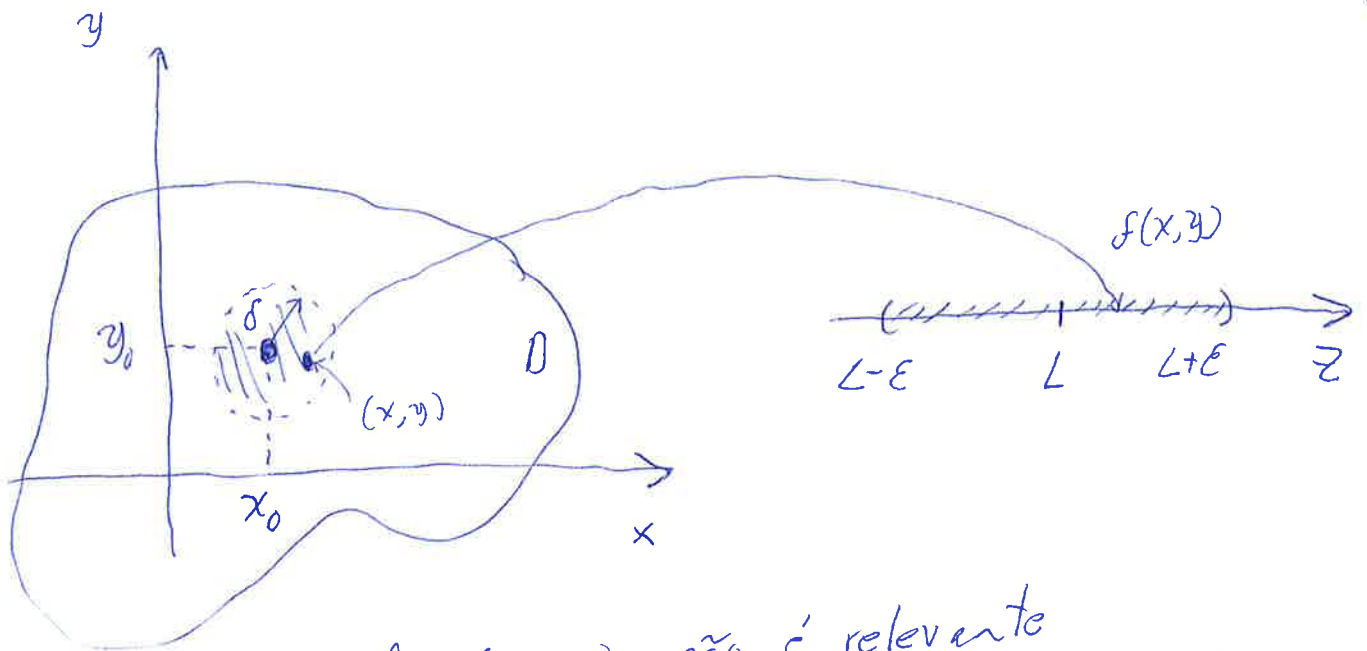
Seja f uma função de duas variáveis e suponha que f esteja definida em todos os pontos de algum disco aberto centrado em (x_0, y_0) , exceto, possivelmente, em (x_0, y_0) .

$$\lim_{(x,y) \rightarrow (x_0,y_0)} [f(x,y)] = L$$

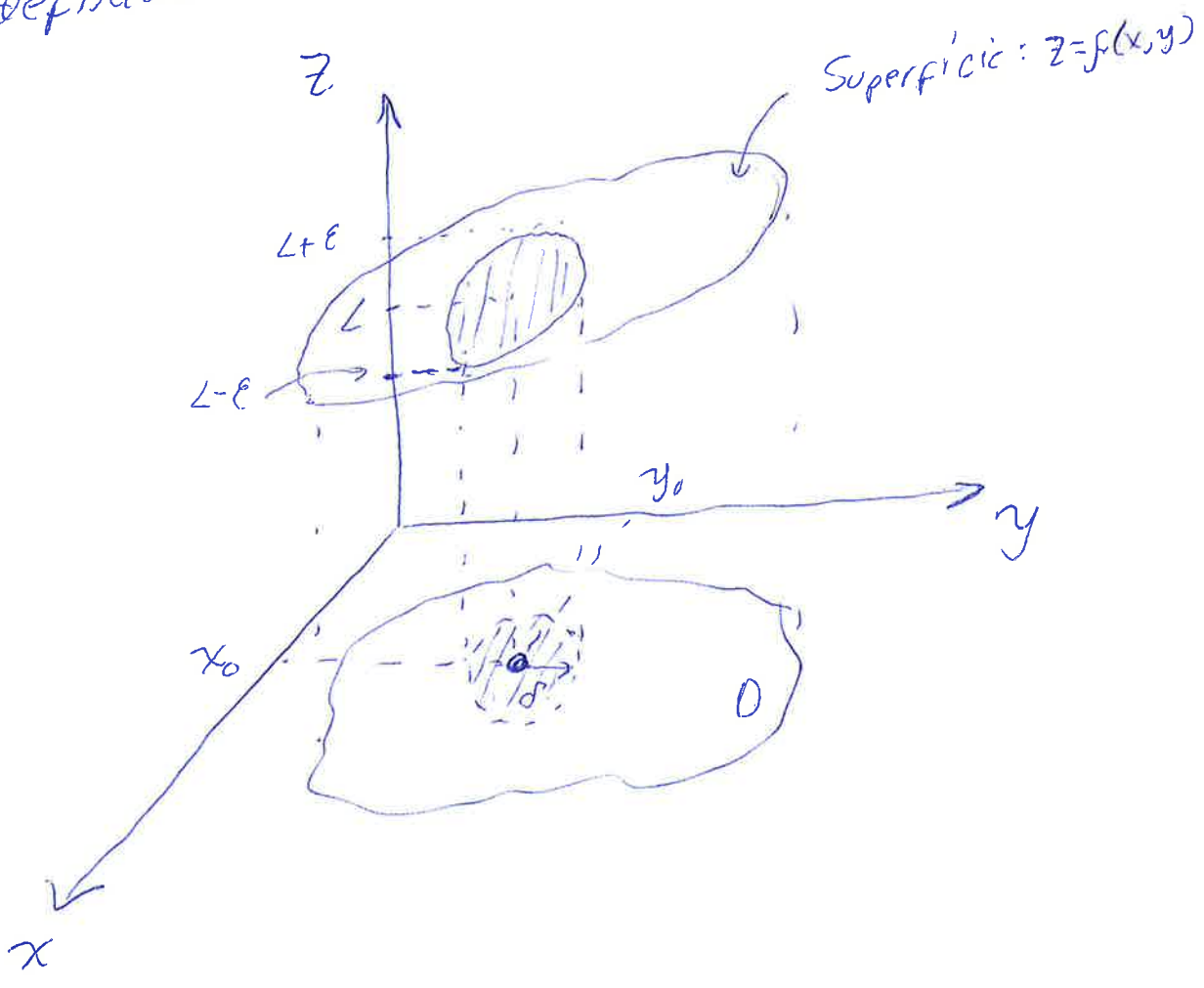
significa que dado $\epsilon > 0$ (arbitrariamente pequeno) existe (podemos encontrar) $\delta > 0$ tal que $f(x,y)$ satisfaça

$$|f(x,y) - L| < \epsilon$$

sempre que $0 < \sqrt{(x-x_0)^2 + (y-y_0)^2} < \delta$.



O ponto (x_0, y_0) não é relevante que satisfaça essa condição (note $\delta > 0$). Isto é, o limite pode existir sem que $f(x, y)$ esteja definido em (x_0, y_0) .



Continuidade em Funções de Duas Variáveis

0

- Em funções de uma variável era dito que $f(x)$ é contínua em x_0 se

$$\lim_{x \rightarrow x_0} [f(x)] = f(x_0)$$

- De forma análoga, uma função de duas variáveis é dita contínua em (x_0, y_0) se

$$\lim_{(x,y) \rightarrow (x_0,y_0)} [f(x,y)] = f(x_0, y_0)$$

- As igualdades anteriores são locais (ponto a ponto). Requerem que o limite exista, a função esteja definida no ponto em que se analisa a continuidade e que os dois sejam iguais.

- A definição pode ser estendida para todos os pontos no interior de um domínio e para os pontos na fronteira do domínio. Neste último caso, a aproximação ao ponto de fronteira deve acontecer por curvas completamente contidas no domínio.

- Pode ser provado que

a) A soma, a diferença ou o produto de funções contínuas são contínuas

b) O quociente de funções contínuas é contínua, exceto onde o denominador for zero

c) A composição de funções contínuas é contínua.

Ex.: Determine se a função ~~$f(x,y) = \frac{\sin(x^2+y^2)}{x^2+y^2}$~~ ~~se $x^2+y^2 \neq 0$~~

(2)

$$f(x,y) = \begin{cases} \frac{\sin(x^2+y^2)}{x^2+y^2} & \text{se } x^2+y^2 \neq 0 \\ 0 & \text{se } x^2+y^2 = 0 \end{cases}$$

é contínua em $(0,0)$.

Sol.: Primeiro devemos calcular o limite

$$\lim_{(x,y) \rightarrow (0,0)} \left[\frac{\sin(x^2+y^2)}{x^2+y^2} \right]$$

- Note que podemos escrever $z = x^2+y^2$ e quando $(x,y) \rightarrow (0,0)$ segue que $z \rightarrow 0$

$$\lim_{(x,y) \rightarrow (0,0)} \left[\frac{\sin(x^2+y^2)}{x^2+y^2} \right] = \lim_{z \rightarrow 0} \left[\frac{\sin(z)}{z} \right] \stackrel{\text{L'Hôpital}}{=} 1$$

- A função está definida em $(0,0)$: $f(0,0) = 0$

- Mas $0 = f(0,0) \neq \lim_{(x,y) \rightarrow (0,0)} [f(x,y)] = 1$, logo a função

NÃO é contínua em $(0,0)$.

- Pode ser definida uma outra função de forma contínua em $(0,0)$:

$$g(x,y) = \begin{cases} \frac{\sin(x^2+y^2)}{x^2+y^2} & \text{se } x^2+y^2 \neq 0 \\ 1 & \text{se } x^2+y^2 = 0 \end{cases}$$

Ex.: Determine se a função $h: \mathbb{R}^+ \times \mathbb{R}^+ \cup \{(0,0)\} \rightarrow \mathbb{R}$ (3)

$$h(x,y) = \begin{cases} \frac{x^2 - xy}{\sqrt{x} - \sqrt{y}} & \text{se } x \neq y \\ 0 & \text{se } x = y \end{cases}$$

é contínua em $(0,0)$.

Sol.: - Primeiro devemos tentar calcular o limite

$$\lim_{(x,y) \rightarrow (0,0)} \left[\frac{x^2 - xy}{\sqrt{x} - \sqrt{y}} \right]$$

Antes vamos racionalizar o denominador

$$\frac{x^2 - xy}{\sqrt{x} - \sqrt{y}} \cdot \left(\frac{\sqrt{x} + \sqrt{y}}{\sqrt{x} + \sqrt{y}} \right) = \frac{x(x-y)(\sqrt{x} + \sqrt{y})}{(x-y)} = x(\sqrt{x} + \sqrt{y})$$

$$\lim_{(x,y) \rightarrow (0,0)} \left[\frac{x^2 - xy}{\sqrt{x} - \sqrt{y}} \right] = \lim_{(x,y) \rightarrow (0,0)} \left[x(\sqrt{x} + \sqrt{y}) \right] \stackrel{\text{Soma e Produto de funções contínuas}}{=} 0(\sqrt{0} + \sqrt{0}) = 0$$

- A função está definida em $(0,0)$

$$h(0,0) = 0$$

$$- h(0,0) = \lim_{(x,y) \rightarrow (0,0)} [h(x,y)]$$

Logo $h(x,y)$ é contínua em $(0,0)$.

Exercícios de Limite em funções de duas Variáveis - I (1)

Ex.: Seja $f(x,y) = \frac{x^2|y|}{x^2+y^2}$, determine $\lim_{(x,y) \rightarrow (0,0)} [f(x,y)]$.

- A função não está definida em (0,0)

Sol.: - Note que $0 \leq \frac{x^2}{x^2+y^2} \leq 1$ em todo \mathbb{R}^2 . Logo podemos usar a ideia do sanduiche com $f(x,y)$.

$$0 \leq \left(\frac{x^2}{x^2+y^2} \right) |y| \leq |y|$$

Multiplicando a desigualdade anterior por $|y| > 0$ (não muda a desigualdade)

$$0 \leq f(x,y) \leq |y|$$

Calculando limite nos três lados da desigualdade

$$\lim_{(x,y) \rightarrow (0,0)} [0] \leq \lim_{(x,y) \rightarrow (0,0)} [f(x,y)] \leq \lim_{(x,y) \rightarrow (0,0)} [|y|]$$

$$0 \leq \lim_{(x,y) \rightarrow (0,0)} [f(x,y)] \leq 0$$

$$\text{Logo } \lim_{(x,y) \rightarrow (0,0)} [f(x,y)] = 0 \quad \square$$

Ex.: Seja $f(x,y) = \frac{x^2y}{x^2+y^2}$, determine $\lim_{(x,y) \rightarrow (0,0)} \left[\frac{x^2y}{x^2+y^2} \right]$. (2)

- A função não está definida em $(0,0)$.

Sol.: - Como y pode ser negativo o procedimento do exercício anterior agora é mais trabalhoso.

- Vamos tentar outro caminho: mudar para coordenadas polares.

$$\begin{cases} x = r \cos(\theta) \\ y = r \sin(\theta) \end{cases}$$

e $\boxed{\text{se } (x,y) \rightarrow (0,0) \Rightarrow r \rightarrow 0}$

$$f(x,y) = \frac{x^2y}{x^2+y^2} \rightarrow f(r,\theta) = \frac{r^2 \cos^2(\theta) r \sin(\theta)}{r^2 \cos^2(\theta) + r^2 \sin^2(\theta)}$$

$$f(r,\theta) = r \cos^2(\theta) \sin(\theta)$$

$$\lim_{(x,y) \rightarrow (0,0)} \left(\frac{x^2y}{x^2+y^2} \right) = \lim_{r \rightarrow 0} [r \cos^2(\theta) \sin(\theta)] = 0$$

Ex.: Calcule $\lim_{(x,y) \rightarrow (0,1)} \left[\frac{x-xy+3}{x^2y+5xy-y^3} \right]$.

Sol.: Neste caso o denominador não se anula em $(0,1)$. Usamos que a função é construída pela soma e produto de funções contínuas, logo é contínua e basta substituir no ponto.

$$\lim_{(x,y) \rightarrow (0,1)} \left[\frac{x-xy+3}{x^2y+5xy-y^3} \right] = \frac{0 - 0 \cdot 1 + 3}{0^2 \cdot 1 + 5 \cdot 0 \cdot 1 - 1^3} = \frac{3}{-1} = -3$$

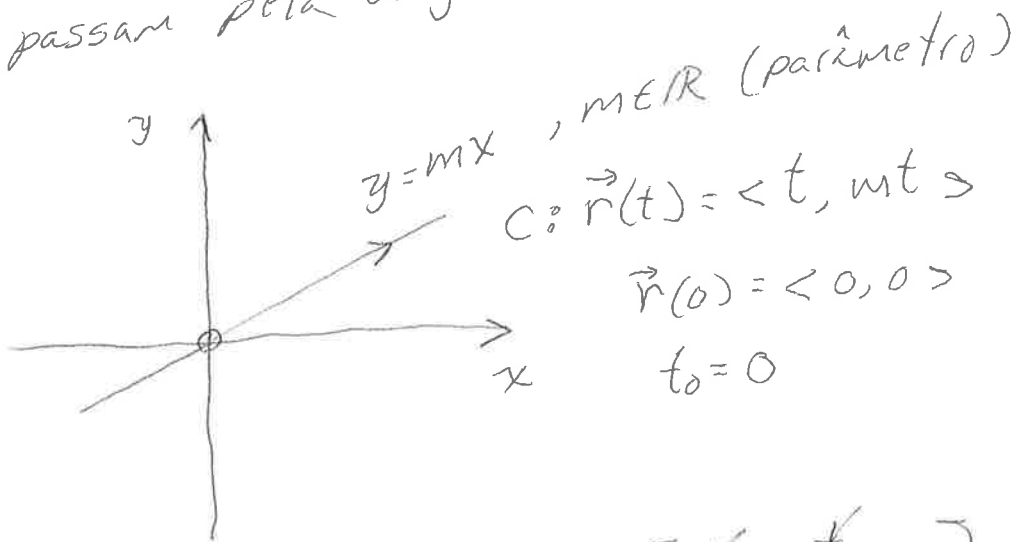
Exercícios de Limite em funções de duas Variáveis - II (4)

Ex.: Determine o limite ou mostre que não existe:

$$\lim_{(x,y) \rightarrow (0,0)} \left[\frac{xy}{x^2+y^2} \right].$$

Sol.: $f(x,y) = \frac{xy}{x^2+y^2}$ não está definida em $(0,0)$

Vamos mostrar que o limite não existe usando retas que passam pela origem.



$$\lim_{(x,y) \rightarrow (0,0)} \left[\frac{xy}{x^2+y^2} \right] = \lim_{t \rightarrow 0} \left[\frac{t \cdot mt}{t^2 + m^2 t^2} \right]$$

Seguindo C

$$= \lim_{t \rightarrow 0} \left[\frac{m}{1+m^2} \right] = \frac{m}{1+m^2}$$

Como o resultado depende de m o limite não existe. Retas distintas levam a resultados diferentes.

Exemplo: $m=0 \Rightarrow \lim_{\substack{(x,y) \rightarrow (0,0) \\ y=0}} [f(x,y)] = 0$

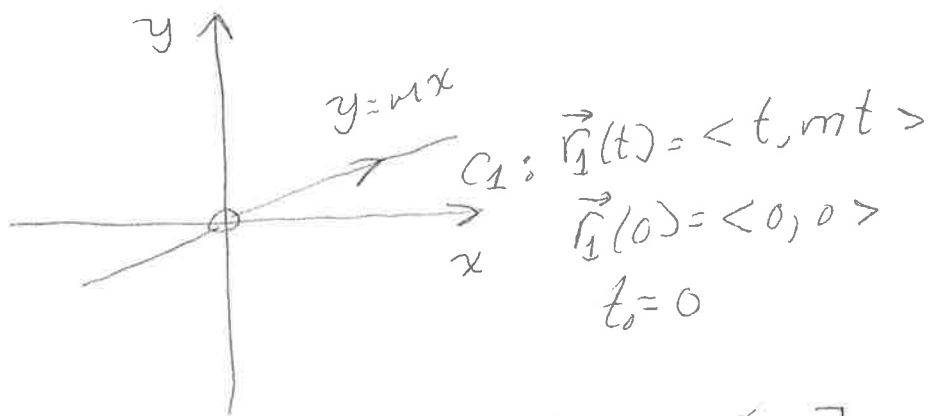
$m=1 \Rightarrow \lim_{\substack{(x,y) \rightarrow (0,0) \\ y=x}} [f(x,y)] = \frac{1}{2}$

Ex.: Determine o limite ou mostre que não existe: (2)

$$\lim_{(x,y) \rightarrow (0,0)} \left[\frac{xy^2}{x^2+y^4} \right].$$

Sol.: $f(x,y) = \frac{xy^2}{x^2+y^4}$, não está definida em $(0,0)$

Vamos tentar provar que o limite não existe usando retas que passam pela origem



$$\lim_{(x,y) \rightarrow (0,0)} \left[\frac{xy^2}{x^2+y^4} \right] = \lim_{t \rightarrow 0} \left[\frac{t \cdot m^2 t^2}{t^2 + m^4 t^4} \right]$$

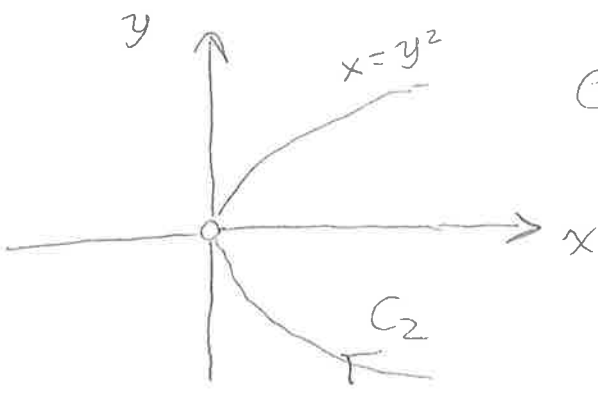
$(x,y) \rightarrow (0,0)$

Seguindo C_1

$$= \lim_{t \rightarrow 0} \left[\frac{m^2 t}{1 + m^4 t^2} \right] = \frac{0}{1+0} = 0$$

- Logo, para todas as retas do tipo o limite é zero independentemente da inclinação. Isso significa que o limite é zero? Não.

- Vamos tentar uma parábola da forma $x = y^2$. Note a falta de simetria $f(x,y) \neq f(y,x)$



$$C_2: \vec{r}_2(t) = \langle t^2, t \rangle$$

$$\vec{r}_2(0) = \langle 0, 0 \rangle$$

$$t_0 = 0$$

$$\lim_{(x,y) \rightarrow (0,0)} \left[\frac{xy^2}{x^2+y^4} \right] = \lim_{t \rightarrow 0} \left[\frac{t^2 \cdot t^2}{t^4 + t^4} \right] = \frac{1}{2}$$

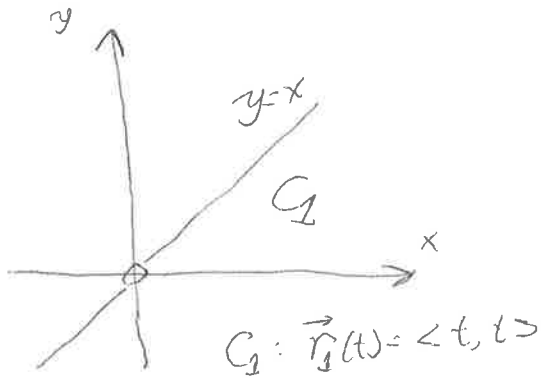
Logo, o limite não existe.

$$0 = \lim_{(x,y) \rightarrow (0,0)} [f(x,y)]_{C_1} \neq \lim_{(x,y) \rightarrow (0,0)} [f(x,y)]_{C_2} = \frac{1}{2}$$


Limites de uma Função de Duas Variáveis no Computador

①

$$2) f(x,y) = \frac{x^2 - y^2}{x^2 + y^2}$$



$$\lim_{\substack{(x,y) \rightarrow (0,0) \\ C_1}} \left[\frac{x^2 - y^2}{x^2 + y^2} \right] = \lim_{t \rightarrow 0} \left(\frac{0}{2t^2} \right) = 0$$

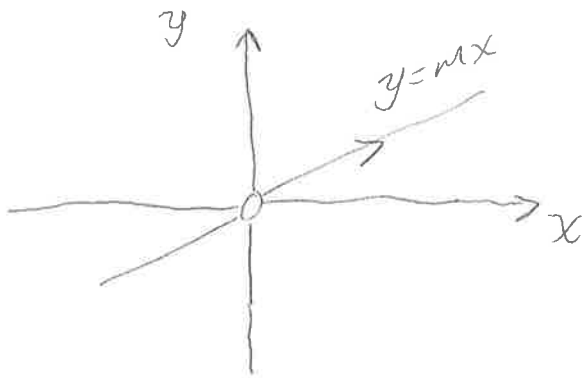


$$\lim_{(x,y) \rightarrow (0,0)} \left[\frac{x^2 - y^2}{x^2 + y^2} \right] = 1$$

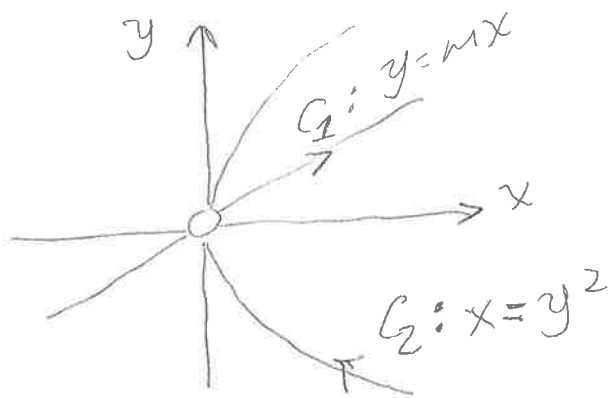
$$1) f(x,y) = \frac{\text{Sen}(x^2 + y^2)}{x^2 + y^2}$$

$$\lim_{(x,y) \rightarrow (0,0)} [f(x,y)] = 1$$

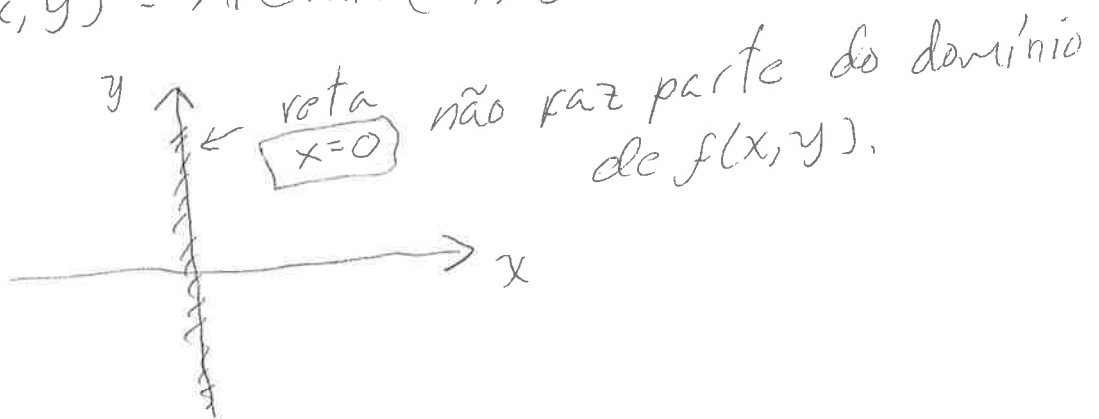
3) $f(x, y) = \frac{xy}{x^2 + y^2}$



4) $f(x, y) = \frac{xy^2}{x^2 + y^4}$



5) $f(x, y) = \text{Arctan}(y/x)$

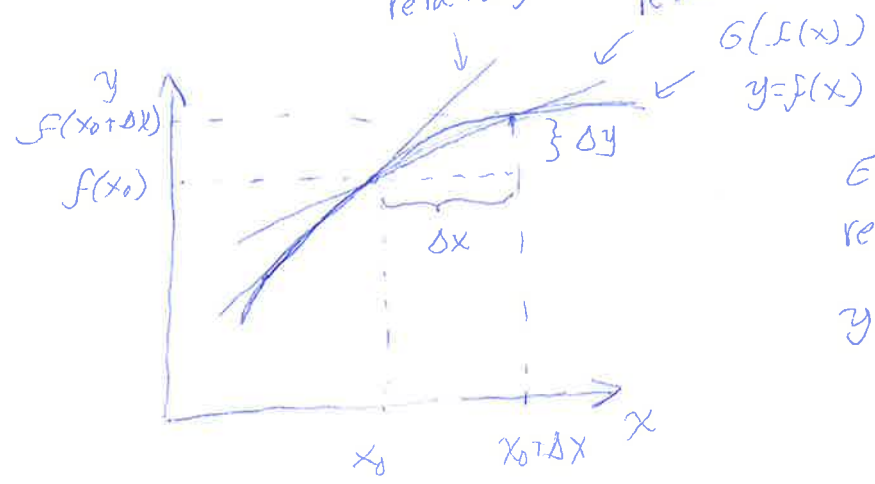


Derivadas Parciais

- Em funções de uma variável a derivada era definida como: $y=f(x)$

$$\left. \frac{df(x)}{dx} \right|_{x=x_0} = \lim_{\Delta x \rightarrow 0} \left[\frac{f(x_0 + \Delta x) - f(x_0)}{\Delta x} \right]$$

Δy
 reta tangente ($\Delta x \rightarrow 0$) reta secante (Δx finito)



Eq. da reta tangente

$$y - f(x_0) = \underbrace{f'(x_0)}_{\text{inclinação}} (x - x_0)$$

- Para funções de duas variáveis: $z=f(x,y)$

a) Fixemos y , isto é, $y=de=y_0$, logo $z=f(x, y_0)=g(x)$

$$\left. \frac{dg(x)}{dx} \right|_{x=x_0} = \lim_{\Delta x \rightarrow 0} \left(\frac{g(x_0 + \Delta x) - g(x_0)}{\Delta x} \right)$$

Δz

Voltando a f

$$\left. \frac{\partial f(x,y)}{\partial x} \right|_{(x,y)=(x_0,y_0)} = \lim_{\Delta x \rightarrow 0} \left[\frac{f(x_0 + \Delta x, y_0) - f(x_0, y_0)}{\Delta x} \right]$$

A expressão anterior define a derivada parcial de f em relação a x no ponto (x_0, y_0) .

$$\left. \frac{\partial f(x,y)}{\partial x} \right|_{(x,y)=(x_0,y_0)} = f_x(x_0, y_0) \quad \text{Notação}$$

(2)
 - O símbolo $\frac{\partial}{\partial x}$ representa a derivada parcial em relação a x de uma função de várias variáveis. O símbolo $\frac{d}{dx}$ representa a derivada de uma função de uma variável.

b) Fixemos x , isto é, $x = \text{cte} = x_0$, logo $z = f(x_0, y) = h(y)$

$$\left. \frac{dh(y)}{dy} \right|_{y=y_0} = \lim_{\Delta y \rightarrow 0} \left[\frac{h(y_0 + \Delta y) - h(y_0)}{\Delta y} \right]$$

Voltando a f

$$\left. \frac{\partial f(x, y)}{\partial y} \right|_{(x, y) = (x_0, y_0)} = \lim_{\Delta y \rightarrow 0} \left[\frac{f(x_0, y_0 + \Delta y) - f(x_0, y_0)}{\Delta y} \right]$$

A expressão anterior define a derivada parcial de f em relação a y no ponto (x_0, y_0) .

Ex.: Seja $f(x, y) = x^2 + 3xy + y - 1$. Encontre $\frac{\partial f}{\partial x}(4, -5)$ e

$$\frac{\partial f}{\partial y}(4, -5).$$

Sol.: Caminho 1

a) Para calcular $\frac{\partial f}{\partial x}$, $y = \text{cte} = -5$

$$f(x, -5) = x^2 - 15x - 6 = g(x)$$

$$\frac{dg(x)}{dx} = 2x - 15$$

$$\frac{dg(4)}{dx} = 2 \cdot 4 - 15 = -7 = \frac{\partial f}{\partial x}(4, -5)$$

b) Para calcular $\frac{\partial f}{\partial y}$, $x = de = 4$

$$f(x, y) = x^2 + 3xy + y - 1$$

$$f(4, y) = 16 + 12y + y - 1$$

$$f(4, y) = 15 + 13y = h(y)$$

$$\frac{dh(y)}{dy} = 13$$

$$\frac{dh(-5)}{dy} = 13 = \frac{\partial f(4, -5)}{\partial y}$$

Caminho 2

$$f(x, y) = x^2 + 3xy + y - 1$$

$$\frac{\partial f}{\partial x}(x, y) = 2x + 3y$$

$$\frac{\partial f}{\partial x}(4, -5) = 8 - 15 = -7$$

$$\frac{\partial f}{\partial y}(x, y) = 3x + 1$$

$$\frac{\partial f}{\partial y}(4, -5) = 12 + 1 = 13$$

As derivadas parciais de uma função de duas variáveis são também funções de duas variáveis.

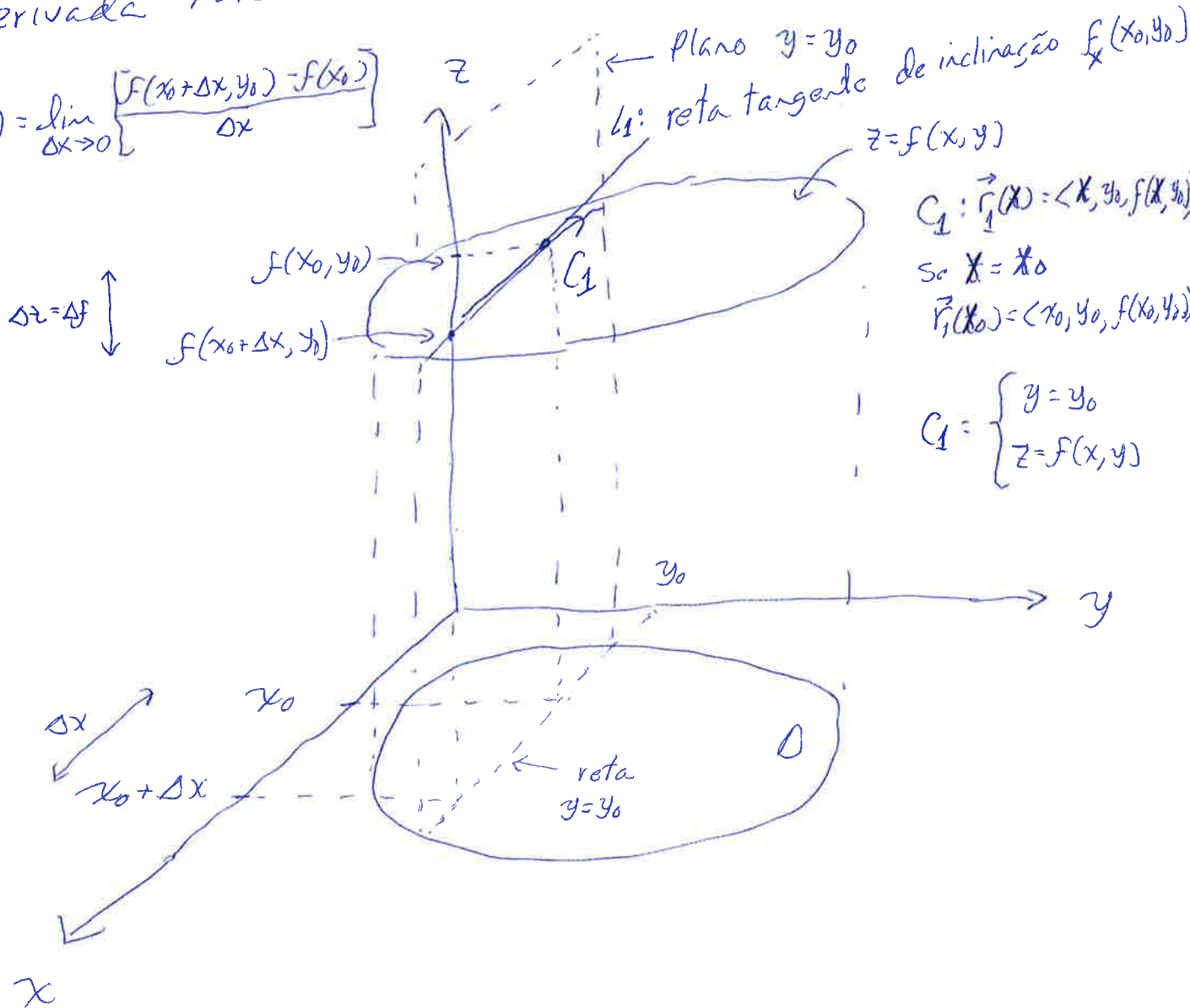
Interpretação Geométrica das Derivadas Parciais ①

$f(x, y) \rightarrow$ função de duas variáveis

$z = f(x, y) \rightarrow$ Eq. da Superfície. Gráfico de f .

- Derivada Parcial de f em relação a x em (x_0, y_0)

$$\frac{\partial f}{\partial x}(x_0, y_0) = \lim_{\Delta x \rightarrow 0} \left\{ \frac{f(x_0 + \Delta x, y_0) - f(x_0, y_0)}{\Delta x} \right\}$$



Equação da Reta L_1

$$\vec{r}_{L_1}(t) = \begin{pmatrix} x_0 \\ y_0 \\ f(x_0, y_0) \end{pmatrix} + \vec{r}'_1(x_0) \cdot t$$

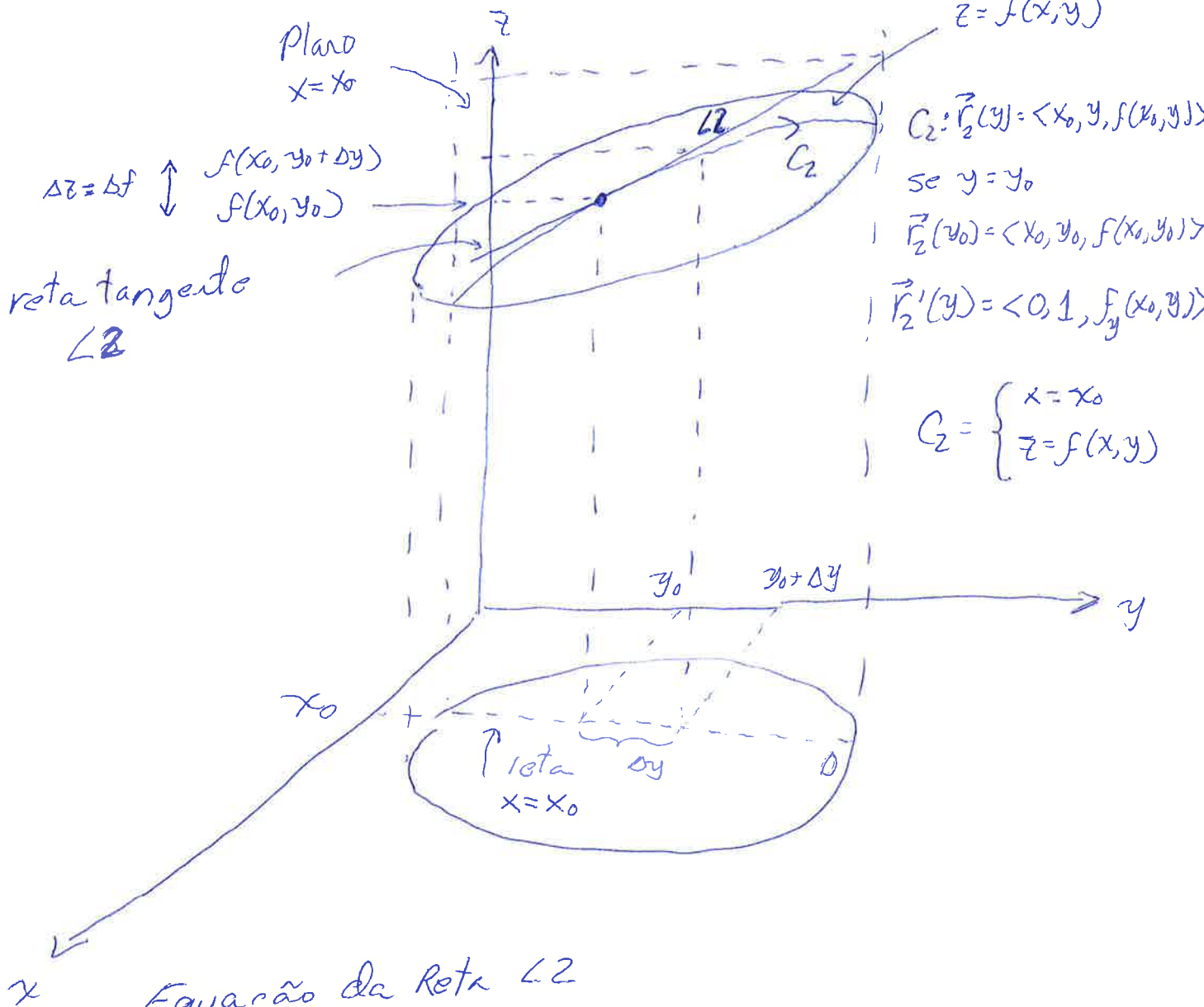
$$\vec{r}_{L_1}(t) = \begin{pmatrix} x_0 \\ y_0 \\ f(x_0, y_0) \end{pmatrix} + \begin{pmatrix} 1 \\ 0 \\ f_x(x_0, y_0) \end{pmatrix} \cdot t$$

$f_x(x_0, y_0)$ determina a inclinação da reta L_1 .

- Derivada Parcial de f em relação a y em (x_0, y_0) . (2)

$$\frac{\partial f}{\partial y}(x_0, y_0) = \lim_{\Delta y \rightarrow 0} \left[\frac{f(x_0, y_0 + \Delta y) - f(x_0, y_0)}{\Delta y} \right]$$

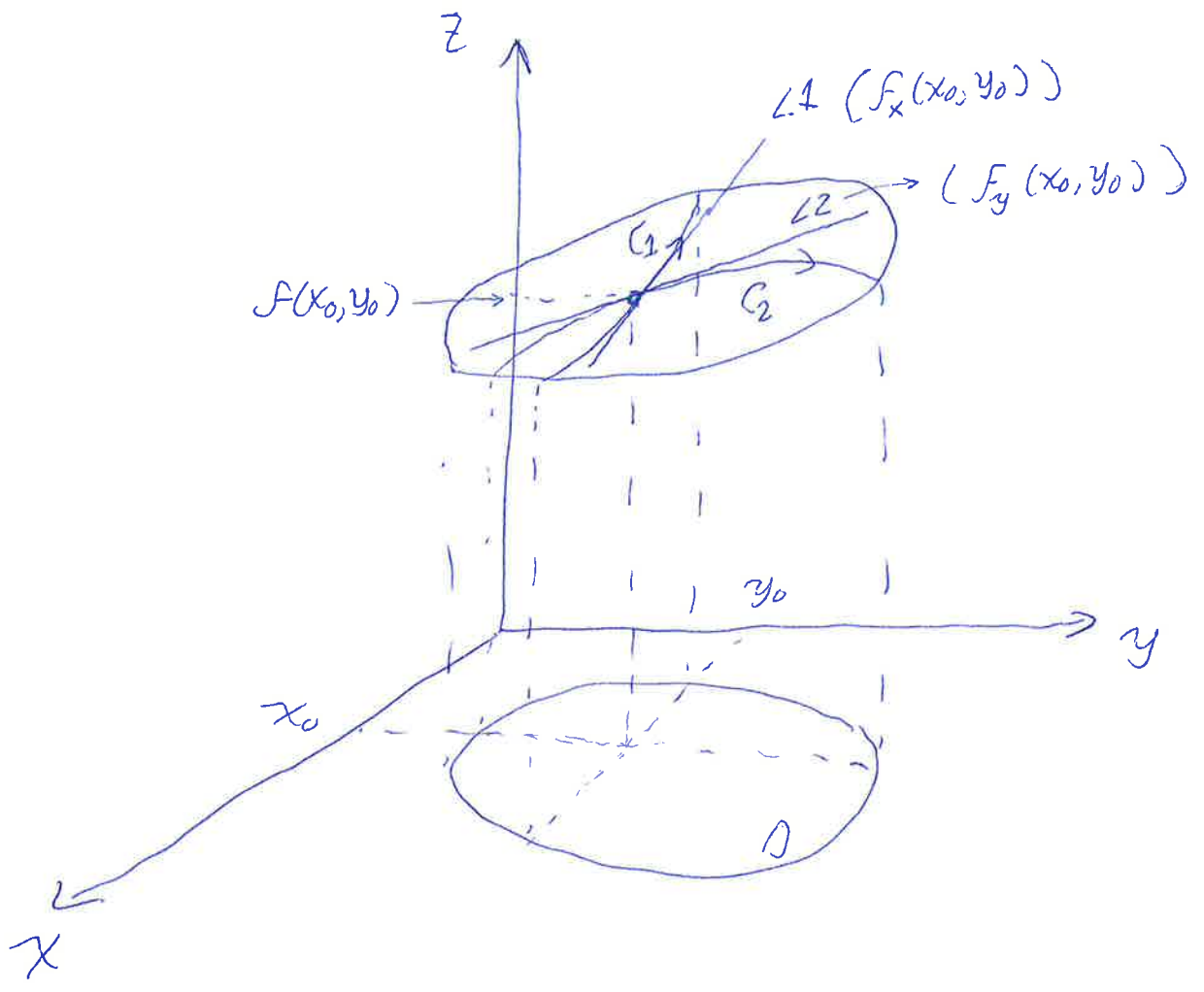
Gráfico de $f =$
Superfície
 $z = f(x, y)$



$$\vec{r}_{L_2}(t) = \underbrace{\begin{pmatrix} x_0 \\ y_0 \\ f(x_0, y_0) \end{pmatrix}}_{\vec{r}_0} + \vec{r}'_2(y) \cdot t$$

$$\vec{r}_{L_2}(t) = \begin{pmatrix} x_0 \\ y_0 \\ f(x_0, y_0) \end{pmatrix} + \begin{pmatrix} 0 \\ 1 \\ f_y(x_0, y_0) \end{pmatrix} \cdot t$$

$f_y(x, y)$ determina a inclinação da reta L_2 .



Derivadas Parciais Aproximadas de Tabelas e Curvas de Nível.

①

Ex.: A tabela mostra alguns valores do índice de sensação térmica (ST) medido em graus Celsius como função da temperatura (T) medida por um termômetro e a umidade relativa do ar (u). Note que $ST(T, u)$.

←
Umidade Relativa (%)

↑
Temperatura (°C)

	50	45	40	35	30
32	39	38	37	36	34
31	38	36	35	34	33
30	36	35	34	33	31
29	34	33	32	31	30
28	33	32	31	29	28

- a) Estime a derivada parcial de ST em relação a T no ponto $(T_0, u_0) = (30^\circ\text{C}, 40\%)$
- b) Estime a derivada parcial de ST em relação a u no ponto $(T_0, u_0) = (30^\circ\text{C}, 40\%)$

Sol.: Note que $ST(30^\circ\text{C}, 40\%) = 34^\circ\text{C}$

$$a) \frac{\partial(ST)}{\partial T}(30^\circ\text{C}, 40\%) \approx \frac{ST(31^\circ\text{C}, 40\%) - ST(29^\circ\text{C}, 40\%)}{31^\circ\text{C} - 29^\circ\text{C}}$$

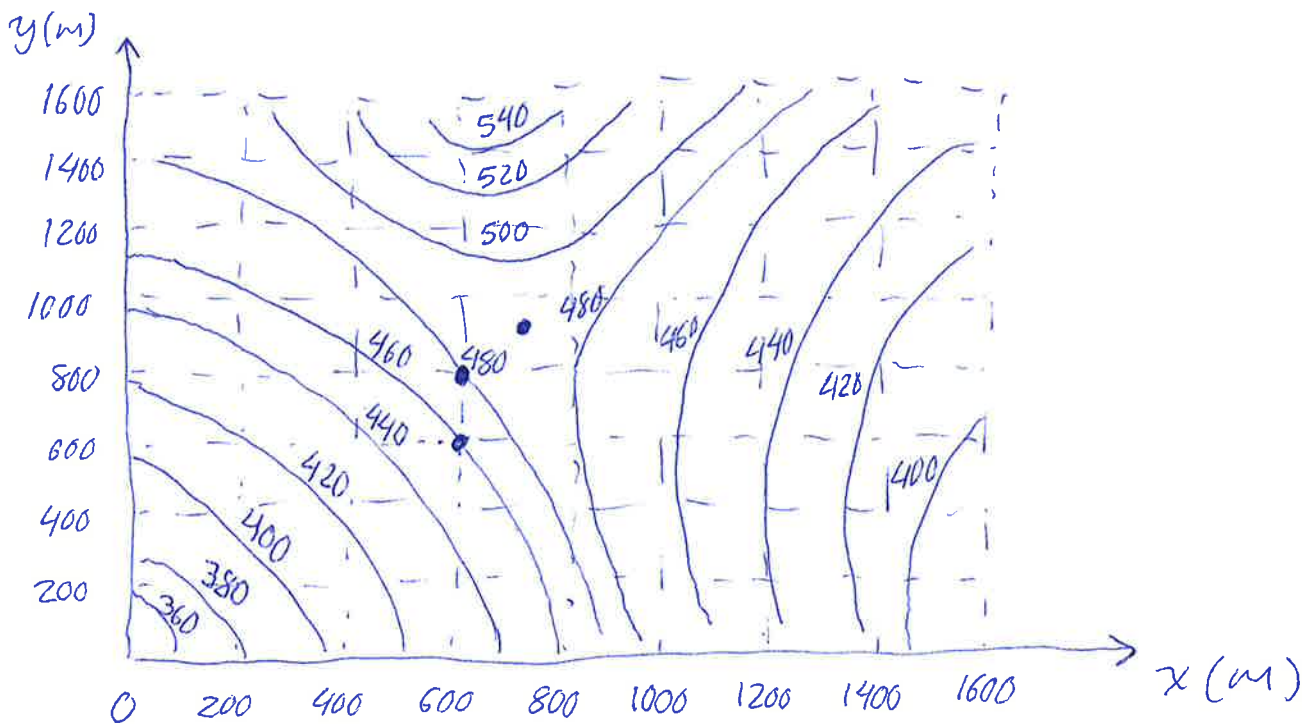
$$\frac{\partial(ST)}{\partial T}(30^\circ\text{C}, 40\%) \approx \frac{(35 - 32)^\circ\text{C}}{2^\circ\text{C}} = \frac{3}{2}$$

$$b) \frac{\partial(ST)}{\partial u} (30^\circ\text{C}, 40\%) \approx \frac{ST(30^\circ\text{C}, 45\%) - ST(30^\circ\text{C}, 35\%)}{45\% - 35\%}$$

(2)

$$\frac{\partial(ST)}{\partial u} (30^\circ\text{C}, 40\%) \approx \frac{(35 - 33)^\circ\text{C}}{10\%} = \frac{2^\circ\text{C}}{10\%} = \frac{1}{5} \frac{^\circ\text{C}}{\%}$$

Ex. Estude o gráfico de curvas de nível de determinada região. O valor da curva de nível representa a altura em metros.



Temas que $h(x, y)$. Estime

a) $h(600, 800)$ e $h(700, 900)$

b) $\frac{\partial h}{\partial x} (600, 600)$ e $\frac{\partial h}{\partial y} (600, 600)$

Sol.: a) $h(600, 800) \approx 480 \text{ m}$ e $h(700, 900) \approx 490 \text{ m}$

b) $\frac{\partial h}{\partial x} (600, 600) \approx \frac{h(700, 600) - h(600, 600)}{\underbrace{700 - 600}_{\Delta x}} = \frac{(480 - 460) \text{ m}}{100 \text{ m}}$

$\frac{\partial h}{\partial x} (600, 600) \approx \frac{20 \text{ m}}{100 \text{ m}} = \frac{1}{5}$

$$\frac{\partial h}{\partial y}(600, 600) \approx \frac{h(600, 800) - h(600, 600)}{(800 - 600) \text{ m}} = \frac{(480 - 460) \text{ m}}{200 \text{ m}} \quad (3)$$

$$\frac{\partial h}{\partial y}(600, 600) \approx \frac{20}{200} = \frac{1}{10}$$

Interpretação Geométrica das Derivadas Parciais no Computador

V179

$$f(x, y) = \frac{1}{2} (x^2 - y^2)$$

$$f_x = x$$

$$f_y = -y$$

Exercícios de Cálculo de Derivadas Parciais V180 ①

Ex.: Seja $f(x,y) = y \sin(xy)$. Encontre $\frac{\partial f}{\partial x}(x,y)$ e

$$\frac{\partial f}{\partial y}(x,y).$$

Sol.: $\frac{\partial f}{\partial x}(x,y) = y \cos(xy) \cdot y$

$$\boxed{\frac{\partial f}{\partial x}(x,y) = y^2 \cos(xy)}$$

$$\frac{\partial f}{\partial y}(x,y) = 1 \cdot \sin(xy) + y \cos(xy) \cdot x$$

$$\boxed{\frac{\partial f}{\partial y}(x,y) = \sin(xy) + xy \cos(xy)}$$

Ex.: Seja $f(x,y) = \frac{zy}{y + \cos(x)}$. Encontre $f'_x(x,y)$ e

$$f'_y(x,y).$$

Sol.: Para encontrar f'_x vamos escrever f como

$$f(x,y) = zy [y + \cos(x)]^{-1}$$

e utilizar a regra da cadeia e a derivada de uma potência

$$f'_x(x,y) = zy (-1) [y + \cos(x)]^{-2} (-1) \sin(x)$$

$$\boxed{f'_x(x,y) = \frac{zy \sin(x)}{[y + \cos(x)]^2}}$$

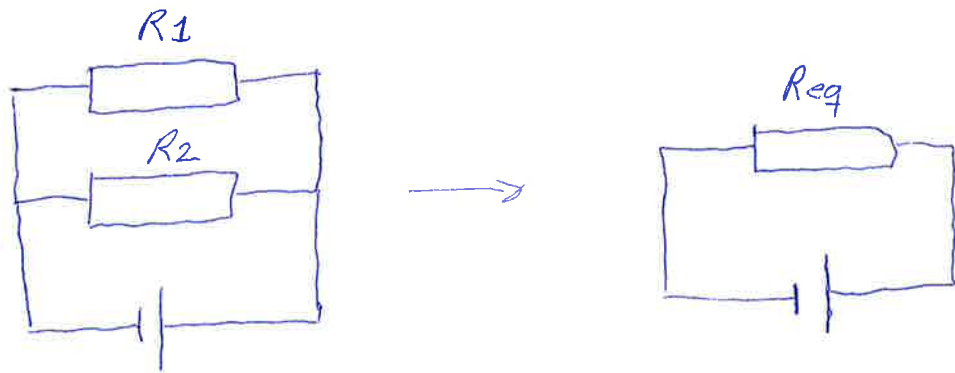
Para encontrar f_y vamos usar a regra do quociente (2) para derivar. Isto é, $\frac{d}{dx} \left[\frac{g(x)}{h(x)} \right] = \frac{g'(x)h(x) - g(x)h'(x)}{[h(x)]^2}$

$$f(x, y) = \frac{2y}{y + \cos(x)}$$

$$f_y(x, y) = \frac{2[y + \cos(x)] - 1 \cdot 2y}{[y + \cos(x)]^2}$$

$$f_y(x, y) = \frac{2\cos(x)}{[y + \cos(x)]^2}$$

Ex.: Calcule a taxa de variação da resistência elétrica equivalente do circuito dado em relação a uma das resistências.



Sol.: Dos cursos de Física sabemos que num circuito em paralelo:

$$\frac{1}{R_{eq}} = \frac{1}{R_1} + \frac{1}{R_2} = \frac{R_1 + R_2}{R_1 R_2}$$

$$R_{eq}(R_1, R_2) = \frac{R_1 R_2}{R_1 + R_2}$$

Queremos calcular $\frac{\partial R_{eq}}{\partial R_1}$

Usando a regra do quociente para derivar

(3)

$$\frac{\partial R_{eq}}{\partial R_1}(R_1, R_2) = \frac{R_2(R_1 + R_2) - 1 \cdot R_1 R_2}{(R_1 + R_2)^2}$$

$$\frac{\partial R_{eq}}{\partial R_1}(R_1, R_2) = \frac{R_2^2}{(R_1 + R_2)^2}$$

Taxa de Variação da Resistência Equivalente em relação ~~ao~~ resistência R_1 .

Derivada Parcial Implícita - I

(1)

- Em Cálculo I estudaram que dada uma eq. do tipo $h(x,y) = cte$ pode não ser possível colocar uma das variáveis em evidência. Mesmo assim em determinados pontos de essa curva é possível encontrar sua inclinação, isto é, $\frac{dy}{dx}$.

Ex.: $x^2 + xy - y^2 = 4$
 $\underbrace{\hspace{10em}}_{h(x,y)} \quad \underbrace{\hspace{2em}}_{cte}$

Queremos achar $\frac{dy}{dx}$, vamos supor $y = f(x)$

$$x^2 + xy(x) - [y(x)]^2 = 4$$

$$\frac{d}{dx} [x^2 + xy(x) - [y(x)]^2] = \frac{d}{dx} [4]$$

$$\underbrace{2x + y(x) + xy'(x)}_{\text{derivada de } x^2 + xy(x)} - \underbrace{2y(x)y'(x)}_{\text{derivada de } [y(x)]^2} = 0$$

$$(x - 2y(x))y'(x) = -y(x) - 2x$$

$$y'(x) = \frac{dy(x)}{dx} = - \frac{2x + y(x)}{x - 2y(x)} \quad \text{se } x \neq 2y$$

$\frac{dy}{dx} = - \left(\frac{2x + y}{x - 2y} \right) \quad \text{se } x \neq 2y$

- Vamos estudar agora a equação $h(x, y, z) = cte$ (2)
 no caso em que não conseguimos colocar uma das
 variáveis em evidência em relação as outras duas.

Ex.: Dada a equação $x^2 + z \operatorname{sen}(xyz) = 0$ determine
 $\frac{\partial z}{\partial x}$ e $\frac{\partial z}{\partial y}$ de forma implícita.

Sol.: $\underbrace{x^2 + z \operatorname{sen}(xyz)}_{h(x, y, z)} = \underbrace{0}_{cte}$

Mas não conseguimos escrever $z = f(x, y)$. Supomos
 que essa função existe implicitamente.

$$x^2 + z(x, y) \operatorname{sen}(xyz(x, y)) = 0$$

$$\frac{\partial}{\partial x} [x^2 + z(x, y) \operatorname{sen}(xyz(x, y))] = \frac{\partial}{\partial x} [0]$$

$$2x + \frac{\partial z}{\partial x} \operatorname{sen}(xyz) + z \cos(xyz) [yz + x \frac{\partial z}{\partial x}] = 0$$

$$[\operatorname{sen}(xyz) + xy z \cos(xyz)] \frac{\partial z}{\partial x} = -2x - y z^2 \cos(xyz)$$

$$\boxed{\frac{\partial z}{\partial x} = - \left(\frac{2x + y z^2 \cos(xyz)}{\operatorname{sen}(xyz) + xy z \cos(xyz)} \right)} \quad \begin{array}{l} \text{se } \operatorname{sen}(xyz) \neq -xy z \cos(xyz) \\ \text{ou } \tan(xyz) \neq -xy z \end{array}$$

$$\frac{\partial}{\partial y} [x^2 + z(x, y) \operatorname{sen}(xyz(x, y))] = \frac{\partial}{\partial y} [0]$$

$$\frac{\partial z}{\partial y} \operatorname{sen}(xyz) + z \cos(xyz) [xz + xy \frac{\partial z}{\partial y}] = 0$$

$$[\operatorname{sen}(xyz) + xy z \cos(xyz)] \frac{\partial z}{\partial y} = -xz \cos(xyz)$$

$$\left(\frac{\partial z}{\partial y} = - \frac{xz^2 \cos(xyz)}{\sin(xyz) + xyz \cos(xyz)} \quad \text{se } \tan(xyz) \neq -xyz \right) \quad (3)$$

Note que o denominador nas duas derivadas parciais é o mesmo.

Derivadas Parciais e Continuidade em Funções de Duas Variáveis

V182

- Para funções de uma variável:

Existe $f'(x_0) \Rightarrow f$ em x_0 é contínua

- Um teorema análogo não é válido para funções de duas, ou mais variáveis:

Existem $f_x(x_0, y_0)$ e $f_y(x_0, y_0) \not\Rightarrow f$ em (x_0, y_0) seja contínua

Estudemos um contra-exemplo. Seja $f(x, y)$ definida como:

$$f(x, y) = \begin{cases} \frac{xy}{x^2 + y^2} & \text{se } x^2 + y^2 \neq 0 \\ 0 & \text{se } x^2 + y^2 = 0 \end{cases}$$

Vamos mostrar que as duas derivadas parciais existem no ponto $(0, 0)$ usando a definição:

$$\left. \frac{\partial f}{\partial x} \right|_{(x_0, y_0)} = \lim_{\Delta x \rightarrow 0} \left[\frac{f(x_0 + \Delta x, y_0) - f(x_0, y_0)}{\Delta x} \right]$$

usaremos que $(x_0, y_0) = (0, 0)$

$$f_x(0, 0) = \lim_{\Delta x \rightarrow 0} \left[\frac{f(0 + \Delta x, 0) - f(0, 0)}{\Delta x} \right]$$

$$f_x(0, 0) = \lim_{\Delta x \rightarrow 0} \left[\frac{0 - 0}{\Delta x} \right] = 0$$

$f_x(0, 0) = 0 \leftarrow$ Existe e é igual a zero

$$\left. \frac{\partial f}{\partial y} \right|_{(x_0, y_0)} = \lim_{\Delta y \rightarrow 0} \left[\frac{f(x_0, y_0 + \Delta y) - f(x_0, y_0)}{\Delta y} \right]$$

$$f_y(0,0) = \lim_{\Delta y \rightarrow 0} \left[\frac{f(0, 0 + \Delta y) - f(0, 0)}{\Delta y} \right]$$

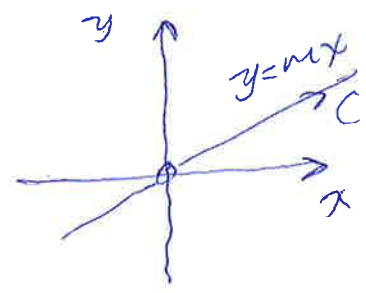
$$f_y(0,0) = \lim_{\Delta y \rightarrow 0} \left[\frac{0 - 0}{\Delta y} \right] = 0$$

$f_y(0,0) = 0$ ← Existe e é igual a zero.

Logo, as duas derivadas parciais existem e são iguais a zero no ponto $(0,0)$. Porém, como tínhamos visto nos vídeos sobre limite, o limite $\lim_{(x,y) \rightarrow (0,0)} \left[\frac{xy}{x^2+y^2} \right]$ não

existe. Isto é, f em $(0,0)$ não é contínua.

Lembrando, para calcular o limite em $(0,0)$ podemos escolher retas que passem por $(0,0)$:



$$C: \vec{r}(t) = \langle t, mt \rangle$$

$$t_0 = 0$$

$$\vec{r}(0) = \langle 0, 0 \rangle$$

$$\lim_{(x,y) \rightarrow (0,0) \text{ seguindo } C} \left[\frac{xy}{x^2+y^2} \right] = \lim_{t \rightarrow 0} \left[\frac{t \cdot mt}{t^2 + m^2 t^2} \right] = \lim_{t \rightarrow 0} \left[\frac{m}{1+m^2} \right] = \frac{m}{1+m^2}$$

Como o resultado depende de m o limite não existe.

Derivadas Parciais de Funções com mais de duas Variáveis

Para uma função de três variáveis, há três derivadas parciais

V183

$$f(x, y, z) \begin{cases} \nearrow f_x(x, y, z) \\ \rightarrow f_y(x, y, z) \\ \searrow f_z(x, y, z) \end{cases}$$

- Para calcular f_x se consideram como constantes y e z
- " " f_y " " " " " " x e z
- " " f_z " " " " " " x e y .

- Em geral, se $f(x_1, x_2, \dots, x_n)$ e queremos calcular $\frac{\partial f}{\partial x_i}$ consideramos constante todas as x_j com $i \neq j$, (e j variam de 1 até n).

Ex.: Seja $f(x, y, z) = x \operatorname{sen}(y + 3z)$. Encontre f_x, f_y e f_z .

Sol.: $f_x(x, y, z) = \operatorname{sen}(y + 3z)$

$$f_y(x, y, z) = x \cos(y + 3z) \cdot 1$$

$$f_z(x, y, z) = x \cos(y + 3z) \cdot 3$$

Ex.: Seja $f(x, y, z) = z \ln(x^2 y \cos(z))$. Determine (2)

f_x, f_y, f_z .

Sol.: $f_x(x, y, z) = \frac{z}{x^2 y \cos(z)} \cdot y \cos(z) \cdot 2x$

$$f_x(x, y, z) = \frac{2z}{x}$$

$$f_y(x, y, z) = \frac{z}{x^2 y \cos(z)} \cdot x^2 \cos(z)$$

$$f_y(x, y, z) = \frac{z}{y}$$

$$f_z(x, y, z) = \ln(x^2 y \cos(z)) + \frac{z}{x^2 y \cos(z)} \cdot x^2 y (-1) \sin(z)$$

$$f_z(x, y, z) = \ln(x^2 y \cos(z)) - \frac{z \sin(z)}{\cos(z)}$$

Resolução de um Sistema de Equações Diferenciais Lineares em Derivadas Parciais de primeira ordem

Ex.: Encontre uma função $f(x,y)$ que satisfaz o sistema de equações lineares em derivadas parciais: ①

$$\begin{cases} \frac{\partial f(x,y)}{\partial x} = x+y & \text{(I)} \\ \frac{\partial f(x,y)}{\partial y} = x & \text{(II)} \end{cases}$$

Sol.: De (II) temos que $\frac{\partial f(x,y)}{\partial y} = x$

$$\frac{\partial f(x,y)}{\partial y} = x$$

$$\int \frac{\partial f(x,y)}{\partial y} = \int x \, dy$$

$$f(x,y) = xy + C(x) \quad \text{(III)}$$

$$\frac{\partial f(x,y)}{\partial x} = y + C'(x) \quad \text{(IV)}$$

Igualando (I) e (IV)

$$x+y = y + C'(x)$$

$$C'(x) = \frac{dC(x)}{dx} = x$$

$$dC(x) = x \, dx$$

$$\int dC(x) = \int x \, dx$$

$$C(x) = \frac{x^2}{2} + D, \quad D \in \mathbb{R}$$

②

Voltando em (III)

$$f(x,y) = xy + \frac{x^2}{2} + D$$

Vamos verificar se a função encontrada satisfaz as duas eq. diferenciais de partida.

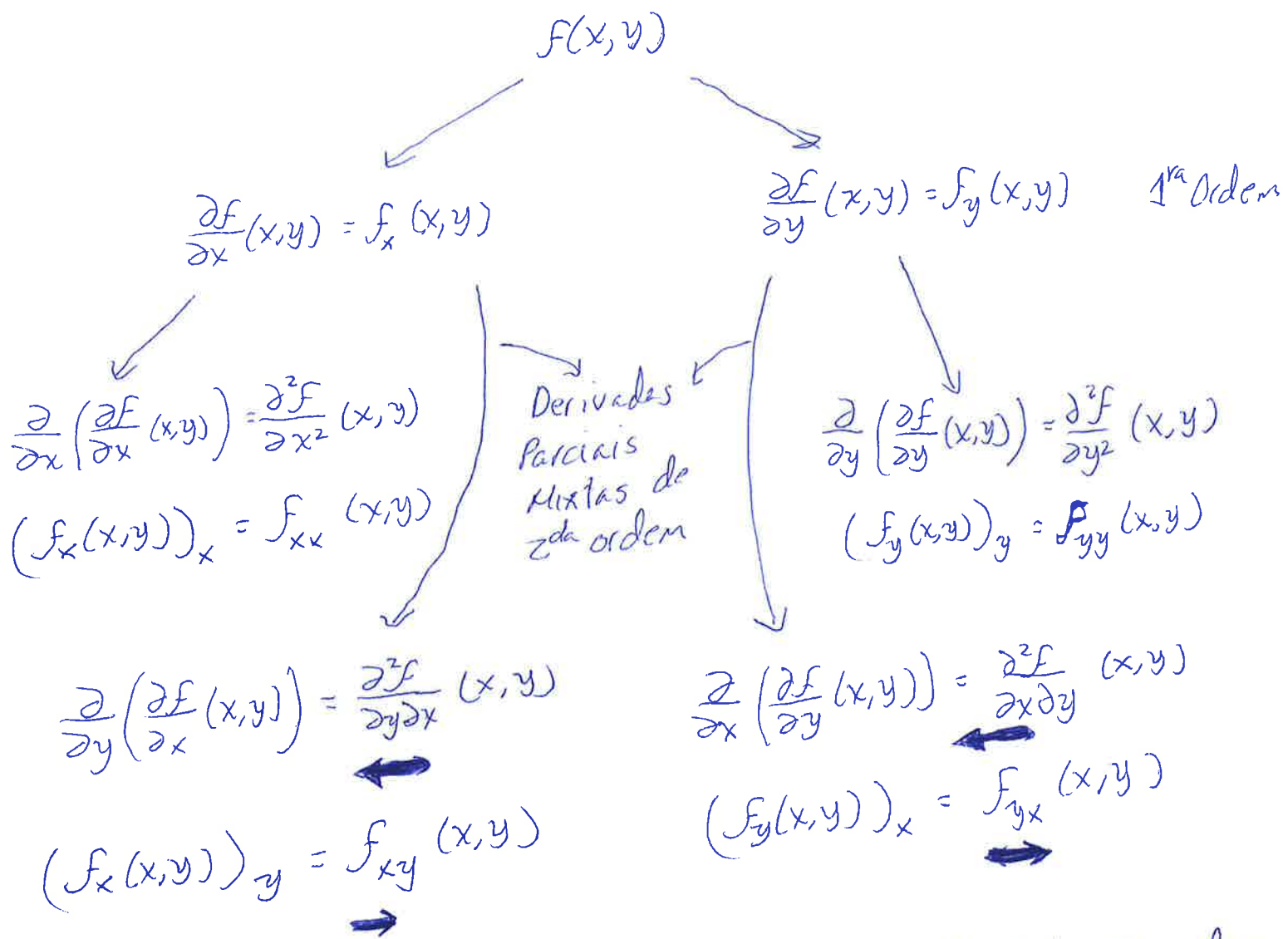
$$\frac{\partial f(x,y)}{\partial x} = y + \frac{2x}{2} = x+y \quad \checkmark$$

$$\frac{\partial f(x,y)}{\partial y} = x \quad \checkmark$$

Logo, a função encontrada é solução do sistema

Derivadas Parciais de Segunda Ordem e Superiores

①



As derivadas parciais de 2ª ordem de $f(x, y)$ podem ser escritas na forma de um determinante.

$$\begin{vmatrix} f_{xx} & f_{xy} \\ f_{yx} & f_{yy} \end{vmatrix}$$

Esse determinante vai ter um papel importante para saber se existe máximo ou mínimo em $f(x, y)$.

Ex.: Seja $f(x,y) = x \cos(y) + y e^x$. Encontre as derivadas parciais de segunda ordem.

Sol.: $f_x(x,y) = \cos(y) + y e^x$
 $f_y(x,y) = -x \sin(y) + e^x$ } Derivadas Parciais de 1ª ordem

$$(f_x)_x = f_{xx}(x,y) = y e^x$$

$$(f_y)_y = -x \cos(y) = f_{yy}(x,y)$$

$$(f_x)_y = f_{xy}(x,y) = -\sin(y) + e^x$$

$$(f_y)_x = f_{yx}(x,y) = -\sin(y) + e^x$$

iguais

Teorema de Clairaut

Seja f uma função de duas variáveis. Se f_{xy} e f_{yx} forem contínuas em algum disco aberto, então $f_{xy} = f_{yx}$ nesse disco.

~~...~~ Pelo momento vamos explorar suas consequências. A prova se encontra no apêndice do Stewart, Vol. 2, (álgebra).

Ex.: Encontre $\frac{\partial^2 w}{\partial x \partial y}$ se $w(x,y) = xy + \frac{e^y}{y^2 + 1}$.

Sol.: Seguindo a notação deveríamos primeiro achar $\frac{\partial w}{\partial y}$ e depois $\frac{\partial}{\partial x} \left(\frac{\partial w}{\partial y} \right) = \frac{\partial^2 w}{\partial x \partial y}$. Chamaremos a essa sequência de 1.

$$\frac{\partial w}{\partial y}(x,y) = x + \frac{e^y[y^2+1] - 2ye^y}{(y^2+1)^2}$$

(3)

$$\frac{\partial}{\partial x} \left(\frac{\partial w}{\partial y} \right) = \frac{\partial^2 w}{\partial x \partial y}(x,y) = 1.$$

Por outro lado, poderíamos ter notado que existem as segundas derivadas parciais de $w(x,y)$ e são contínuas. Com isso, usando o T. de Clairaut $\frac{\partial^2 w}{\partial x \partial y} = \frac{\partial^2 w}{\partial y \partial x}$.

Seqüência 2: Primeiro calculamos $\frac{\partial w}{\partial x}$ e depois $\frac{\partial}{\partial y} \left(\frac{\partial w}{\partial x} \right)$

$$\frac{\partial w}{\partial x}(x,y) = y$$

$$\frac{\partial w}{\partial y}(x,y) = 1.$$

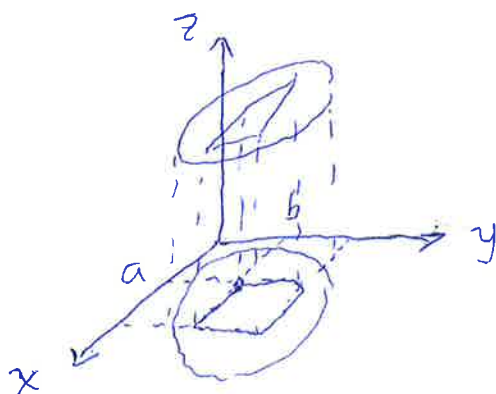
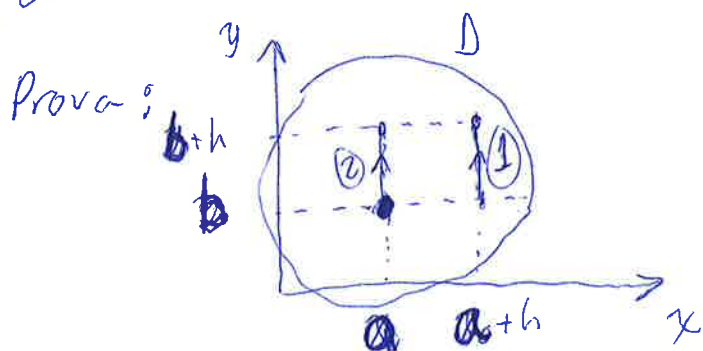
A segunda seqüência é mais fácil de calcular.

Demonstração do Teorema de Clairaut

①

Teorema de Clairaut

Suponha que f esteja definida em um disco D que contenha o ponto (a,b) . Se as funções f_{xy} e f_{yx} forem ambas contínuas em D , então $f_{xy}(a,b) = f_{yx}(a,b)$.




Para pequenos valores de h , $h \neq 0$ considere a diferença

$$\Delta(h) = \underbrace{[f(a+h, b+h) - f(a+h, b)]}_{\textcircled{1}} - \underbrace{[f(a, b+h) - f(a, b)]}_{\textcircled{2}}$$

Defina ~~$g(x) = f(x, b+h) - f(x, b)$~~ $g(x)$

$$g(x) = f(x, b+h) - f(x, b), \text{ logo}$$

$$\Delta(h) = g(a+h) - g(a)$$



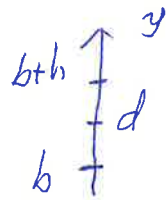
Pelo Teorema do Valor Médio, existe um número c entre a e $a+h$ tal que

$$\Delta(h) = g(a+h) - g(a) = g'(c)h = \underbrace{[f_x(c, b+h) - f_x(c, b)]}_{\textcircled{1}} h$$

Aplicando o Teorema do Valor Médio novamente, agora para f_x na direção y , existe d entre b e $b+h$

tal que

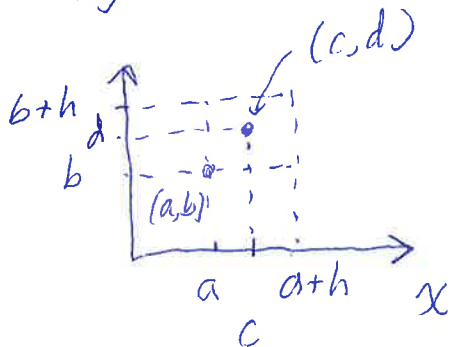
$$f_x(c, b+h) - f_x(c, b) = f_{xy}(c, d) h$$



(2)

logo.

$$\Delta(h) = f_{xy}(c, d) h^2 \Rightarrow \frac{\Delta(h)}{h^2} = f_{xy}(c, d)$$



se $h \rightarrow 0 \Rightarrow (c, d) \rightarrow (a, b)$

Como $f_{xy}(x, y)$ é contínua em (a, b) .

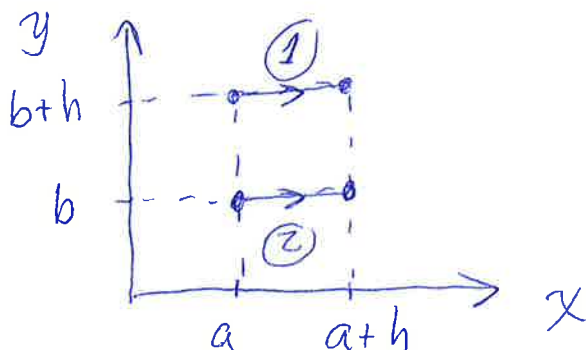
$$\lim_{(c, d) \rightarrow (a, b)} [f_{xy}(c, d)] = f_{xy}(a, b)$$

$$\lim_{\substack{(c, d) \rightarrow (a, b) \\ h \rightarrow 0}} \left(\frac{\Delta(h)}{h^2} \right) = f_{xy}(a, b) \quad (I).$$

Analogamente, escrevendo a função $\Delta(h)$ como

$$\Delta(h) = \underbrace{[f(a+h, b+h) - f(a, b+h)]}_{(1)} - \underbrace{[f(a+h, b) - f(a, b)]}_{(2)}$$


Trocaram de lugar



Defina $\delta(y) = f(a+h, y) - f(a, y)$, logo

(3)

$$\Delta(h) = \delta(b+h) - \delta(b)$$




Se existir $\delta'(y)$, pelo Teorema do Valor Médio, existirá um número (e) entre b e $b+h$ tal que

$$\Delta(h) = \delta'(b+h) - \delta(b) = \delta'(e)h$$

mas $\delta'(e) = f_y(a+h, e) - f_y(a, e)$

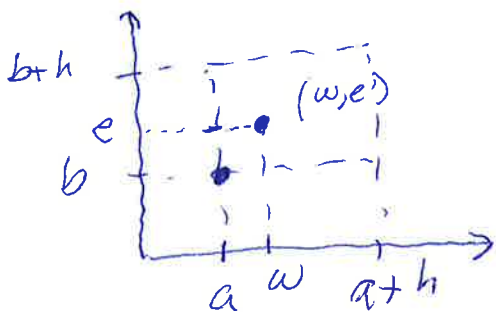
logo $\Delta(h) = [f_y(a+h, e) - f_y(a, e)]h$

A função $f_y(x, e)$ não depende de y , logo considere agora o intervalo . Aplicando o Teorema do Valor Médio a $f_y(x, e)$, supondo que existe $f_{yx}(x, e)$, existirá um ponto w entre a e $a+h$ tal que

$$f_y(a+h, e) - f_y(a, e) = f_{yx}(w, e) \cdot h$$

Logo $\Delta(h) = f_{yx}(w, e) \cdot h^2$

e $f_{yx}(w, e) = \frac{\Delta(h)}{h^2}$



Se $h \rightarrow 0$

\Downarrow

$(w, e) \rightarrow (a, b)$

Como, por hipótese, $f_{yx}(x,y)$ é contínua em (a,b)

(4)

$$\lim_{(w,e) \rightarrow (a,b)} [f_{yx}(w,e)] = f_{yx}(a,b)$$

mas $f_{yx}(w,e) = \frac{\Delta(h)}{h^2}$, logo

$$\lim_{h \rightarrow 0} \left[\frac{\Delta(h)}{h^2} \right] = f_{yx}(a,b). \quad (\text{II})$$

De (I) e (II) temos que

$$f_{xy}(a,b) = f_{yx}(a,b)$$



Exercícios de Derivadas Parciais de Ordem Superior ①

Ex.: Seja $f(x, y, z) = 1 - 2xy^2z + x^2y$. a) Calcule f_{yxz} e

f_{yzx} . b) Calcule f_{zyx} .

Sol.: a) Vamos calcular f_{yxz}

$$f_y(x, y, z) = -4xy^2z + x^2$$

$$f_{yx}(x, y, z) = -4yz + 2x$$

$$f_{yxz}(x, y, z) = -4y$$

Vamos calcular f_{yzx}

$$f_y(x, y, z) = -4xy^2z + x^2$$

$$f_{yz}(x, y, z) = -4xy$$

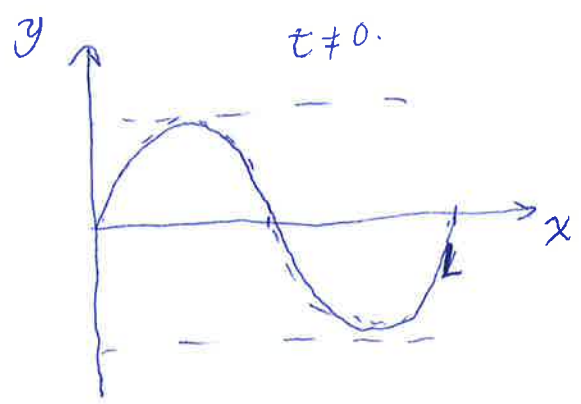
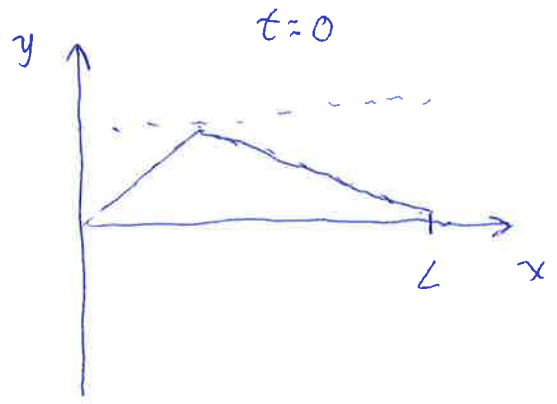
$$f_{yzx}(x, y, z) = -4y$$

$f_{yxz} = f_{yzx}$
Teorema de Clairaut

Ex.: Mostre que a função $y(x, t) = \sin(x - vt)$ é uma solução da equação diferencial em derivadas parciais para uma onda unidimensional:

$$\frac{\partial^2 y(x, t)}{\partial t^2} = v^2 \frac{\partial^2 y(x, t)}{\partial x^2}$$

$v \rightarrow$ velocidade de propagação da onda na direção do eixo x .



Sol.:

$$y(x,t) = \text{sen}(x-vt)$$

$$\begin{cases} y_x(x,t) = \text{cos}(x-vt) \\ y_{xp}(x,t) = -\text{sen}(x-vt) \end{cases}$$

$$\begin{cases} y_{xt}(x,t) = -v \text{cos}(x-vt) \\ y_{tt}(x,t) = -v^2 \text{sen}(x-vt) \end{cases}$$

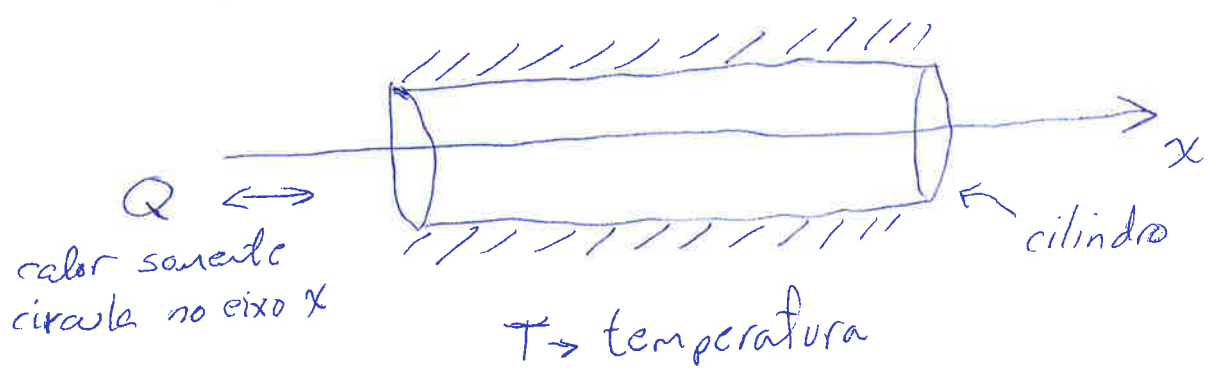
$$y_{tt} = v^2 y_{xx} \quad \checkmark$$

Ex.: Mostre que a função $T(x,t) = e^{-\alpha^2 t} \text{sen}(x)$ é uma solução da equação diferencial em derivadas parciais de condução de calor:

$$\alpha^2 T_{xx}(x,t) = T_t(x,t)$$

α^2
difusividade térmica

Isolado Termicamente



Sol.:

$$T(x,t) = e^{-\alpha^2 t} \text{sen}(x)$$

$$T_t(x,t) = -\alpha^2 e^{-\alpha^2 t} \text{sen}(x)$$

$$T_x(x,t) = e^{-\alpha^2 t} \cos(x)$$

$$T_{xx}(x,t) = -e^{-\alpha^2 t} \text{sen}(x)$$

$$\alpha^2 T_{xx} = T_t \quad \checkmark$$



Diferenciabilidade de Funções de Duas Variáveis (2)

- Em funções de uma variável diferenciabilidade era equivalente a existência da derivada da função em um ponto do domínio.

- $f(x)$ é diferenciável em x_0 se existe $f'(x_0)$, isto é

$$\lim_{\Delta x \rightarrow 0} \left[\frac{f(x_0 + \Delta x) - f(x_0)}{\Delta x} \right] = f'(x_0), \quad f'(x_0) \in \mathbb{R}$$

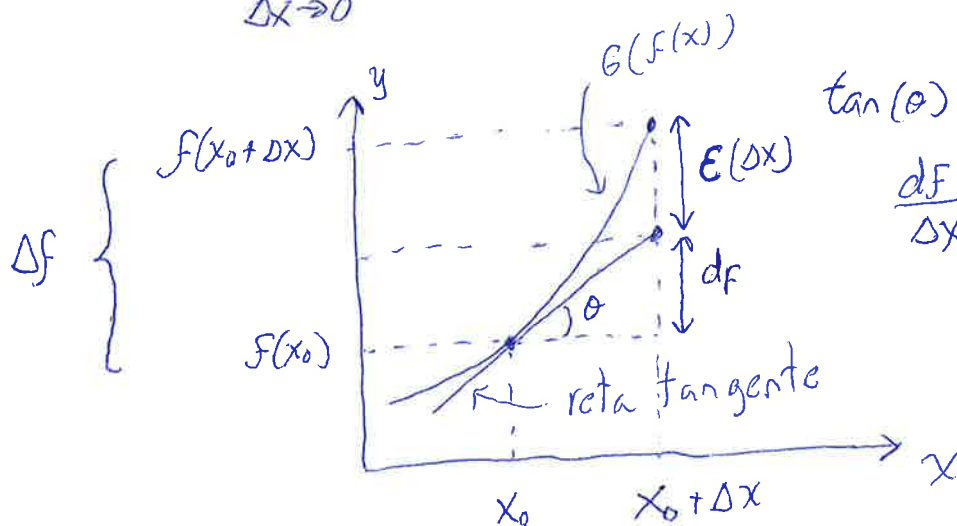
Mas isso é equivalente a

$$\lim_{\Delta x \rightarrow 0} \left[\frac{f(x_0 + \Delta x) - f(x_0) - f'(x_0) \Delta x}{\Delta x} \right] = 0$$

$f(x_0 + \Delta x) - f(x_0) = \Delta F \rightarrow$ incremento de f

$f'(x_0) \Delta x = df \rightarrow$ diferencial de f

$$\lim_{\Delta x \rightarrow 0} \left(\frac{\Delta F - df}{\Delta x} \right) = 0$$



$$\tan(\theta) = f'(x_0)$$

$$\frac{df}{dx} = f'(x_0)$$

$$df = f'(x_0) \Delta x$$

Se $\Delta x \rightarrow 0 \Rightarrow df \rightarrow \Delta F$

$$\lim_{\Delta x \rightarrow 0} \left(\frac{\Delta F - df}{\Delta x} \right) = 0$$

$$\lim_{\Delta x \rightarrow 0} \left(\frac{E(\Delta x)}{\Delta x} \right) = 0$$

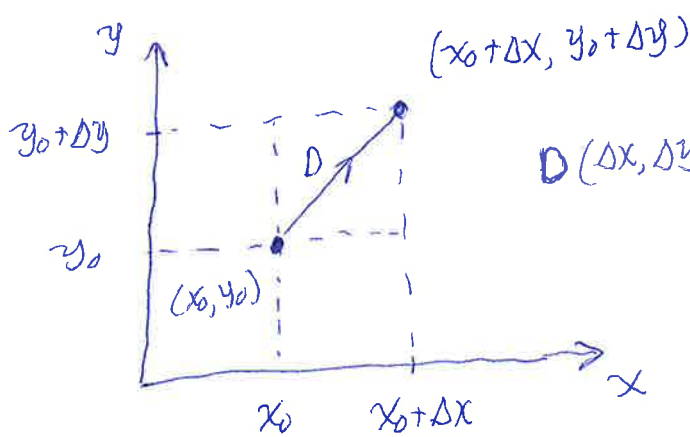
$$\Delta f = df + \boxed{E(\Delta x)} \text{ erro} \quad (2)$$

$$f(x_0 + \Delta x) - f(x_0) = f'(x_0)\Delta x + E(\Delta x)$$

Quando $\Delta x \rightarrow 0$, o erro tende a zero mais rapidamente que a distância Δx .

$$\underbrace{f(x_0 + \Delta x)}_{\text{curva}} \approx \underbrace{f(x_0) + f'(x_0)\Delta x}_{\text{reta}}$$

Para funções de duas variáveis não basta exigir a existência das duas derivadas parciais, pois queremos ~~que uma~~ função diferenciável ^{em um ponto} seja contínua no mesmo ponto. Vimos um exemplo em um vídeo anterior, onde existiam as duas derivadas parciais, porém a função não era contínua em um ponto.



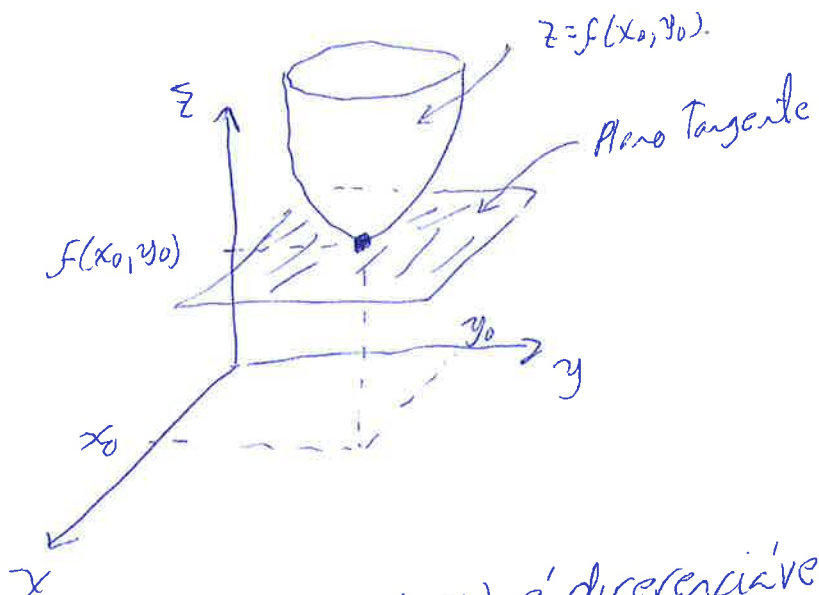
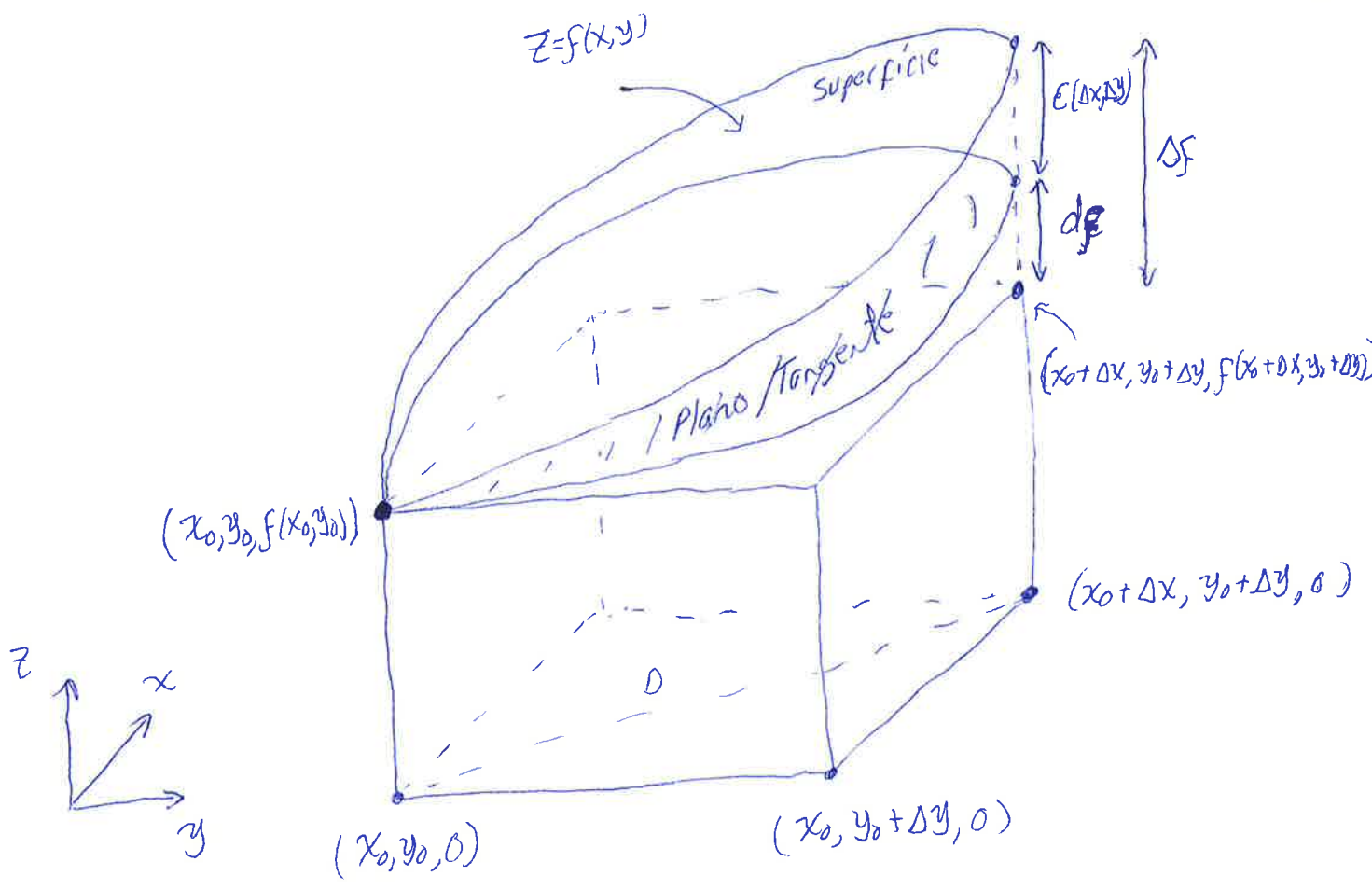
$$D(\Delta x, \Delta y) = \sqrt{\Delta x^2 + \Delta y^2}$$

$$\Delta f = f(x_0 + \Delta x, y_0 + \Delta y) - f(x_0, y_0)$$

$$df = f_x(x_0, y_0)\Delta x + f_y(x_0, y_0)\Delta y$$

$$\Delta f = df + \underbrace{E(\Delta x, \Delta y)}_{\text{erro}}$$

$$\lim_{(\Delta x, \Delta y) \rightarrow (0,0)} \frac{E(\Delta x, \Delta y)}{D} = 0$$



Definição: Dizemos que $f(x,y)$ é diferenciável em (x_0, y_0) se $f_x(x_0, y_0)$ e $f_y(x_0, y_0)$ existirem e

$$\lim_{(\Delta x, \Delta y) \rightarrow (0,0)} \left(\frac{\Delta f - f_x(x_0, y_0) \Delta x - f_y(x_0, y_0) \Delta y}{\sqrt{\Delta x^2 + \Delta y^2}} \right) = 0$$

Exemplo de Função NÃO Diferenciável

(1)

Definição: $f(x,y)$ é diferenciável em (x_0, y_0) se $f_x(x_0, y_0)$ e $f_y(x_0, y_0)$ existirem e

$$\lim_{(\Delta x, \Delta y) \rightarrow (0,0)} \left(\frac{\Delta f - f_x(x_0, y_0) \Delta x - f_y(x_0, y_0) \Delta y}{\sqrt{\Delta x^2 + \Delta y^2}} \right) = 0$$

Ex.: Mostre que f não é diferenciável em $(0,0)$:

$$f(x,y) = \begin{cases} \frac{x^3}{x^2+y^2} & \text{se } (x,y) \neq (0,0) \\ 0 & \text{se } (x,y) = (0,0) \end{cases}$$

Sol.: Primeiro, vamos mostrar que f é contínua em $(0,0)$.

$$\lim_{(x,y) \rightarrow (0,0)} \left(\frac{x^3}{x^2+y^2} \right) = \lim_{(x,y) \rightarrow (0,0)} \left(x \cdot \frac{x^2}{x^2+y^2} \right)$$

mas $\frac{x^2}{x^2+y^2} \leq 1$

$$\lim_{(x,y) \rightarrow (0,0)} \left(\frac{x^3}{x^2+y^2} \right) = \lim_{(x,y) \rightarrow (0,0)} \left(x \cdot \frac{x^2}{x^2+y^2} \right) = 0$$

limitado
não vai a ∞

como $\lim_{(x,y) \rightarrow (0,0)} [f(x,y)] = f(0,0) = 0$ a função é contínua em $(0,0)$.

Quando $(x,y) \neq (0,0)$ a função é formada a partir de funções contínuas, logo será contínua também.

- Segundo, vamos mostrar $f_x(0,0)$ existe

(2)

$$f_x(0,0) = \lim_{\Delta x \rightarrow 0} \left(\frac{f(0+\Delta x, 0) - f(0,0)}{\Delta x} \right)$$
$$= \lim_{\Delta x \rightarrow 0} \left(\frac{\frac{\Delta x^3}{\Delta x^2 + 0^2} - 0}{\Delta x} \right) = 1$$

logo $f_x(0,0) = 1$

- Terceiro, vamos mostrar que $f_y(0,0)$ existe

$$f_y(0,0) = \lim_{\Delta y \rightarrow 0} \left(\frac{f(0, 0+\Delta y) - f(0,0)}{\Delta y} \right)$$
$$= \lim_{\Delta y \rightarrow 0} \left(\frac{\frac{0^3}{0^2 + \Delta y^2} - 0}{\Delta y} \right) = \lim_{\Delta y \rightarrow 0} \left(\frac{0^3}{\Delta y^3} \right) = 0$$

logo $f_y(0,0) = 0$

- Quarto, vamos mostrar que o limite a seguir não existe. ^{o mesmo da definição de diferenciabilidade}

$$\lim_{(\Delta x, \Delta y) \rightarrow (0,0)} \left(\frac{\Delta f - f_x(x_0, y_0) \Delta x - f_y(x_0, y_0) \Delta y}{\sqrt{\Delta x^2 + \Delta y^2}} \right)$$

$$\Delta f = f(0+\Delta x, 0+\Delta y) - f(0,0)$$

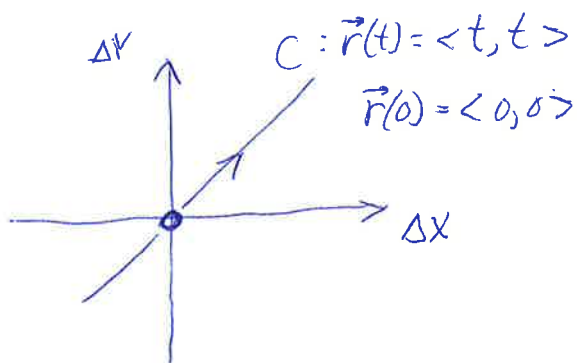
$$\Delta f = \frac{\Delta x^3}{\Delta x^2 + \Delta y^2} - 0 = \frac{\Delta x^3}{\Delta x^2 + \Delta y^2}$$

$$f_x(0,0) \Delta x = 1 \cdot \Delta x = \Delta x$$

$$f_y(0,0) \Delta y = 0 \cdot \Delta y = 0$$

$$\lim_{(\Delta x, \Delta y) \rightarrow (0,0)} \left(\frac{\frac{\Delta x^3}{\Delta x^2 + \Delta y^2} - \Delta x - 0}{\sqrt{\Delta x^2 + \Delta y^2}} \right) = \quad (3)$$

$$= \lim_{(\Delta x, \Delta y) \rightarrow (0,0)} \left(\frac{\frac{\Delta x^3 - \Delta x(\Delta x^2 + \Delta y^2)}{\Delta x^2 + \Delta y^2}}{\sqrt{\Delta x^2 + \Delta y^2}} \right) = \lim_{(\Delta x, \Delta y) \rightarrow (0,0)} \left(\frac{-\Delta x \Delta y^2}{(\Delta x^2 + \Delta y^2) \sqrt{\Delta x^2 + \Delta y^2}} \right)$$



$$\lim_{(t,t) \rightarrow (0,0)} \left(\frac{-t \cdot t^2}{(t^2 + t^2) \sqrt{t^2 + t^2}} \right) = \lim_{t \rightarrow 0} \left(\frac{-t}{2\sqrt{2}|t|} \right)$$

$$\text{Se } t > 0 \Rightarrow |t| = t \Rightarrow \lim_{t \rightarrow 0^+} \left(\frac{-t}{2\sqrt{2}t} \right) = -\frac{1}{2\sqrt{2}}$$

$$\text{Se } t < 0 \Rightarrow |t| = -t \Rightarrow \lim_{t \rightarrow 0^-} \left(\frac{-t}{2\sqrt{2}(-t)} \right) = \frac{1}{2\sqrt{2}}$$

Logo, o limite não existe. A função dada não é diferenciável em $(0,0)$, mesmo sendo contínua em $(0,0)$ e existindo as derivadas parciais em $(0,0)$.

Diferenciabilidade implica Continuidade

①

{ Teorema: Se f for diferenciável em (x_0, y_0) então f será contínua em (x_0, y_0)

Prova: Por hipóteses, existem $f_x(x_0, y_0)$ e $f_y(x_0, y_0)$ e

$$\lim_{(\Delta x, \Delta y) \rightarrow (0,0)} \left(\frac{\Delta f - f_x(x_0, y_0) \Delta x - f_y(x_0, y_0) \Delta y}{\sqrt{\Delta x^2 + \Delta y^2}} \right) = 0$$

onde $\Delta f = f(x_0 + \Delta x, y_0 + \Delta y) - f(x_0, y_0)$

$$\text{mas } \lim_{(\Delta x, \Delta y) \rightarrow (0,0)} [f_x(x_0, y_0) \Delta x + f_y(x_0, y_0) \Delta y] = 0$$

$$\text{e } \lim_{(\Delta x, \Delta y) \rightarrow (0,0)} (\sqrt{\Delta x^2 + \Delta y^2}) = 0$$

$$\lim_{(\Delta x, \Delta y) \rightarrow (0,0)} (\sqrt{\Delta x^2 + \Delta y^2}) \lim_{(x,y) \rightarrow (0,0)} \left(\frac{\Delta f - f_x(x_0, y_0) \Delta x - f_y(x_0, y_0) \Delta y}{\sqrt{\Delta x^2 + \Delta y^2}} \right) = 0$$

$$\lim_{(\Delta x, \Delta y) \rightarrow (0,0)} \left[\sqrt{\Delta x^2 + \Delta y^2} \left(\frac{\Delta f - f_x(x_0, y_0) \Delta x - f_y(x_0, y_0) \Delta y}{\sqrt{\Delta x^2 + \Delta y^2}} \right) \right] = 0$$

$$\lim_{(\Delta x, \Delta y) \rightarrow (0,0)} [\Delta f - f_x(x_0, y_0) \Delta x - f_y(x_0, y_0) \Delta y] = 0$$

$$\lim_{(\Delta x, \Delta y) \rightarrow (0,0)} [\Delta f] = \lim_{(\Delta x, \Delta y) \rightarrow (0,0)} [f_x(x_0, y_0) \Delta x + f_y(x_0, y_0) \Delta y] = 0$$

$$\lim_{(\Delta x, \Delta y) \rightarrow (0,0)} (\Delta f) = 0$$

$$\lim_{(\Delta x, \Delta y) \rightarrow (0,0)} [f(x_0 + \Delta x, y_0 + \Delta y) - f(x_0, y_0)] = 0 \quad (2)$$

$$\lim_{(\Delta x, \Delta y) \rightarrow (0,0)} [f(x_0 + \Delta x, y_0 + \Delta y)] = f(x_0, y_0)$$

Mas, esta última igualdade significa que f é contínua em (x_0, y_0) .

Teorema: Se todas as derivadas parciais de f existirem e forem contínuas em um ponto, então f será diferenciável nesse ponto.

$f(x, y)$ existem e são contínuas em (x_0, y_0)
 f_x e f_y

$\Rightarrow f$ é diferenciável em (x_0, y_0)

~~(*)~~

- A prova deste Teorema pode ser estudada no Guidorizzi, "Um Curso de Cálculo", Vol. 2, 5ª Edição, pag. 195.
- Um exemplo de função diferenciável em $(0,0)$, porém em que $f_x(0,0)$ e $f_y(0,0)$ não são contínuas é


$$f(x, y) = \begin{cases} (x^2 + y^2) \operatorname{sen} \left(\frac{1}{x^2 + y^2} \right) & \text{se } (x, y) \neq (0, 0) \\ 0 & \text{se } (x, y) = (0, 0) \end{cases}$$

Ex.: Seja $f(x, y, z) = x^2 + 2xy + z^3$. Em que pontos f é diferenciável?

$$f_x(x, y, z) = 2x + 2y$$

$$f_y(x, y, z) = 2x$$

$$f_z(x, y, z) = 3z^2$$

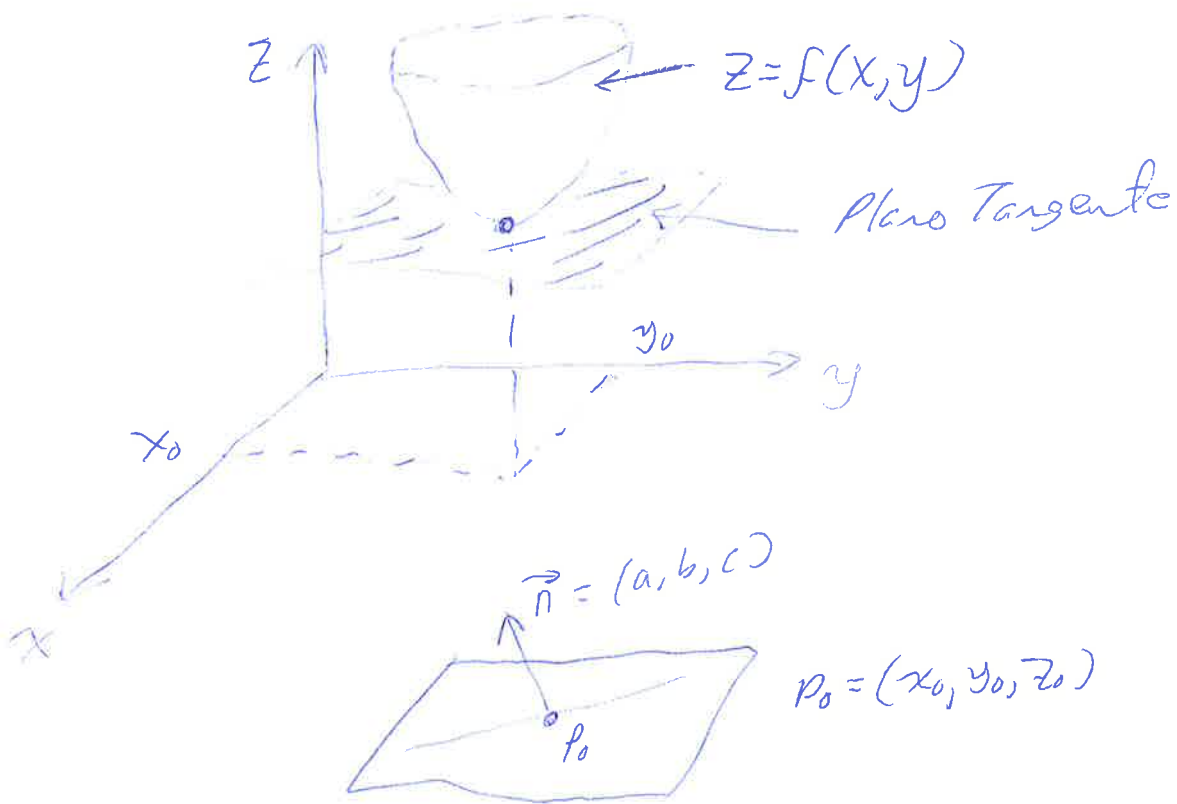


Existem e são contínuas em todo \mathbb{R}^3



f é diferenciável em todo \mathbb{R}^3 .

Equação do Plano Tangente em um ponto de $z=f(x,y)$ (1)



- Eq. do Plano é: $a(x-x_0) + b(y-y_0) + c(z-z_0) = 0$
ou supondo $c \neq 0$

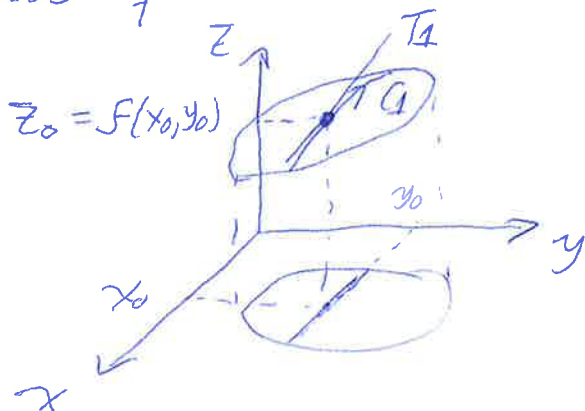
$$z-z_0 = \left(-\frac{a}{c}\right)(x-x_0) + \left(-\frac{b}{c}\right)(y-y_0)$$

$$z-z_0 = A(x-x_0) + B(y-y_0) \quad (I)$$

- Note que quando $y=y_0$, a eq. do plano se transforma na eq. de uma reta:

$$z-z_0 = A(x-x_0) \quad (II)$$

- Mas quando definirmos $\frac{\partial f}{\partial x}(x_0, y_0)$, $y=cde=y_0$



e a equação da reta T_1 pode ser escrita como

$$T_1 = \begin{cases} y=y_0 \\ z-z_0 = f'_x(x_0, y_0)(x-x_0) \end{cases}$$

- Comparando a equação de T_1 com **II**

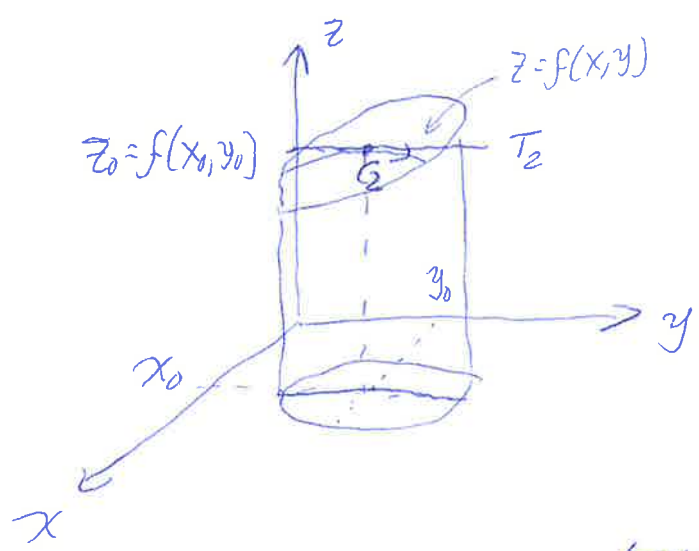
$$A = f_x(x_0, y_0)$$

- De forma análoga, em **I**, se $x = x_0$, a eq. do plano fica $z - z_0 = B(y - y_0)$ **(III)**

- Na definição de $\frac{\partial f}{\partial y}(x_0, y_0)$, fixamos $x = x_0$

e a eq. da reta T_2 pode ser escrita como

$$T_2 = \begin{cases} x = x_0 \\ z - z_0 = f_y(x_0, y_0)(y - y_0) \end{cases}$$



- Comparando T_2 com **(III)**

$$B = f_y(x_0, y_0)$$

- Logo, se a função f for diferenciável no ponto (x_0, y_0) a equação do plano tangente será

$$z = \underbrace{f(x_0, y_0)}_{z_0} + f_x(x_0, y_0)(x - x_0) + f_y(x_0, y_0)(y - y_0)$$

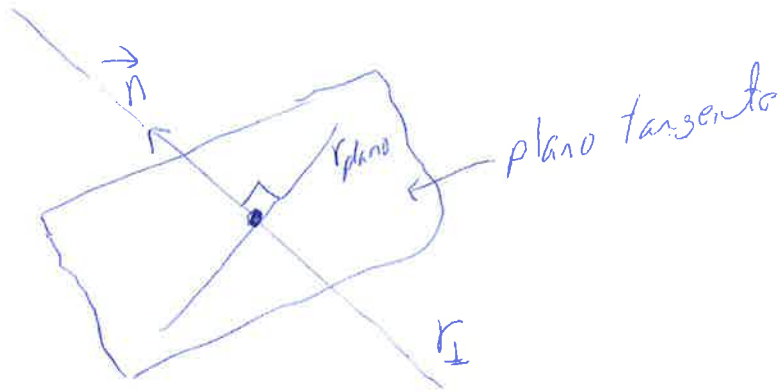
- Se re-escrevermos a eq. do plano tangente como

$$f_x(x_0, y_0)(x - x_0) + f_y(x_0, y_0)(y - y_0) - 1 \cdot (z - z_0) = 0$$

notaremos que um vetor normal ao plano é

$$\vec{n} = (f_x(x_0, y_0), f_y(x_0, y_0), -1)$$

3



Logo, as equações paramétricas de uma reta (r_I) perpendicular ao plano tangente serão

$$\vec{r}_I(t) = \vec{r}_0 + \vec{n} \cdot t, \quad t \in \mathbb{R}$$

$$\begin{pmatrix} x(t) \\ y(t) \\ z(t) \end{pmatrix} = \begin{pmatrix} x_0 \\ y_0 \\ f(x_0, y_0) \end{pmatrix} + \begin{pmatrix} f_x(x_0, y_0) \\ f_y(x_0, y_0) \\ -1 \end{pmatrix} t$$

Exemplo de Plano Tangente e Reta Normal

①

Ex.: Encontre as equações do plano tangente e da reta normal ao gráfico da função $f(x,y) = \frac{1}{\sqrt{x^2+y^2}}$ no ponto $(4,3)$.

Sol.: A função f está bem definida no ponto $(4,3)$.

$$f(x,y) = (x^2+y^2)^{-1/2} \rightarrow \boxed{f(4,3) = \frac{1}{\sqrt{4^2+3^2}} = \frac{1}{5}}$$

$$f_x(x,y) = -\frac{1}{2} (x^2+y^2)^{-3/2} \cdot 2x = \frac{-x}{(x^2+y^2)^{3/2}}$$

$$f_x(x,y) = \frac{-x}{(x^2+y^2)^{3/2}} \rightarrow f_x(4,3) = \frac{-4}{(4^2+3^2)^{3/2}} = \frac{-4}{5^3}$$

$$\boxed{f_x(4,3) = \frac{-4}{125}}$$

Por simetria

$$f_y(x,y) = \frac{-y}{(x^2+y^2)^{3/2}}$$

$$\rightarrow f_y(4,3) = \frac{-3}{(4^2+3^2)^{3/2}} = \frac{-3}{5^3}$$

$$\boxed{f_y(4,3) = \frac{-3}{125}}$$

OK

A equação do plano tangente, como $f_x(x,y)$ e $f_y(x,y)$ existem e são contínuas em $(4,3)$ f será diferenciável em $(4,3)$, será da forma

$$z = f(x_0, y_0) + f_x(x_0, y_0)(x-x_0) + f_y(x_0, y_0)(y-y_0)$$

$$z = f(4,3) + f_x(4,3)(x-4) + f_y(4,3)(y-3)$$

$$\boxed{z = \frac{1}{5} - \frac{4}{125}(x-4) - \frac{3}{125}(y-3)}$$

A equação da reta normal ao plano tangente (2)

$$\vec{r}_\perp(t) = \vec{r}_0 + \vec{n} \cdot t, \quad t \in \mathbb{R}, \quad \vec{n} = (f_x(x_0, y_0), f_y(x_0, y_0), -1)$$

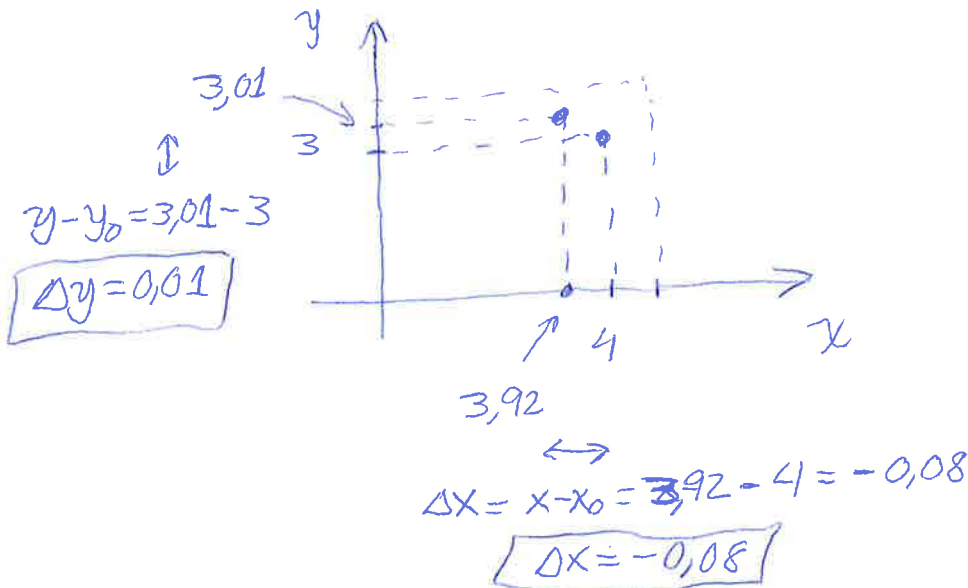
$$\begin{pmatrix} x(t) \\ y(t) \\ z(t) \end{pmatrix} = \begin{pmatrix} 4 \\ 3 \\ \frac{1}{5} \end{pmatrix} + \begin{pmatrix} -\frac{4}{125} \\ -\frac{3}{125} \\ -1 \end{pmatrix} t$$

$$r_\perp \begin{cases} x(t) = 4 - \frac{4}{125}t \\ y(t) = 3 - \frac{3}{125}t \\ z(t) = \frac{1}{5} - t \end{cases} \quad t \in \mathbb{R}$$

Ex.: Para a mesma função do exemplo anterior use uma aproximação linear para estimar $f(3,92; 3,01)$. Compare o erro cometido com a aproximação linear com a distância entre os pontos $(4,3)$ e $(3,92; 3,01)$.

Sol.: $f(x,y) = \frac{1}{\sqrt{x^2+y^2}}, \quad f(4,3) = \frac{1}{5}$

$L(x,y) = z = \frac{1}{5} - \frac{4}{125}(x-4) - \frac{3}{125}(y-3)$ equação do plano tangente em $(4,3)$



- Seguindo a linearização (equação do plano)

(3)

$$L(3,92; 3,01) = \frac{1}{5} - \frac{4}{125}(-0,08) - \frac{3}{125}(0,01)$$

$$L(3,92; 3,01) = 0,20232$$

- O valor exato seguindo f é

$$f(3,92; 3,01) = \frac{1}{\sqrt{(3,92)^2 + (3,01)^2}} = 0,202334$$

$$\text{Erro} = |f - L| = |0,202334 - 0,20232|$$

$$\text{Erro} = 0,0000142382$$

- Distância entre $(4; 3)$ e $(3,92; 3,01)$

$$D = \sqrt{(-0,08)^2 + (0,01)^2}$$

$$D = 0,0806226$$

$$\text{Erro Relativo} = \frac{\text{Erro}}{D} = \frac{0,0000142382}{0,0806226}$$

$$\text{Erro Relativo} = 0,018 \%$$

O erro cometido usando a linearização é muito menor que a distância entre os pontos $(4, 3)$ e $(3,92; 3,01)$. Justamente pelo fato de f ser diferenciável em $(4, 3)$.

Diferenciabilidade no Computador

(1)

1) $F(x,y) = 9 - x^2 - y^2$

$$F_x(x,y) = -2x$$

$$F_y(x,y) = -2y$$

$$F_x(0,0) = 0$$

$$F_y(0,0) = 0$$

Eq. do Plano Tangente

$$z - z_0 = \underbrace{f_x(x_0, y_0)}_0 (x - \underbrace{x_0}_0) + \underbrace{f_y(x_0, y_0)}_0 (y - \underbrace{y_0}_0)$$

$$z_0 = f(0,0) = 9$$

$z = 9 \rightarrow \vec{r}(x,y) = \langle x, y, 9 \rangle$
campo vatorial

2) $f(x,y) = \begin{cases} \frac{x^3}{x^2+y^2} & \text{se } (x,y) \neq (0,0) \\ 0 & \text{se } (x,y) = (0,0) \end{cases}$

Mostramos em um vídeo anterior que f é contínua em $(0,0)$, existem as derivadas parciais

$$F_x(0,0) = 1 \text{ e } f_y(0,0) = 0$$

Porém, f não é diferenciável em $(0,0)$.

A eq. do plano seria

$$z = \underbrace{z_0}_0 + \underbrace{f_x(0,0)}_1 (x - \underbrace{x_0}_0) + \underbrace{f_y(0,0)}_0 (y - \underbrace{y_0}_0)$$

$z = x \rightarrow \vec{r}(x,y) = \langle x, y, x \rangle$

O plano $\boxed{z=x}$ é secante com a superfície $z=f(x,y)$ (2)

$$3) \quad f(x,y) = \begin{cases} \frac{xy}{x^2+y^2} & \text{se } (x,y) \neq (0,0) \\ 0 & \text{se } (x,y) = (0,0) \end{cases}$$

Mostramos em um vídeo anterior que

$$f_x(0,0) = 0 \quad \text{e} \quad f_y(0,0) = 0, \quad \text{porém}$$

$\lim_{(x,y) \rightarrow (0,0)} \left(\frac{xy}{x^2+y^2} \right)$ não existe, logo f não é contínua em $(0,0)$.

A eq. do plano seria

$$z = \underbrace{z_0}_0 + \underbrace{f_x(0,0)}_0 (x - \underbrace{x_0}_0) + \underbrace{f_y(0,0)}_0 (y - \underbrace{y_0}_0)$$

→ $\boxed{z=0}$ → $\vec{r}(x,y) = \langle x, y, 0 \rangle$

Regra da Cadeia

①

Sejam duas
~~duas~~ funções de uma variável

$$f: A \subset \mathbb{R} \rightarrow \mathbb{R}$$
$$x \in A \mapsto f(x)$$

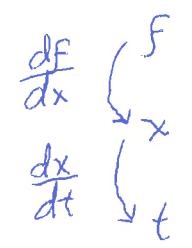
$$e g: B \subset \mathbb{R} \rightarrow C \subset A \subset \mathbb{R}$$
$$t \in B \mapsto g(t)$$

A função composta $f \circ g(t) = f(g(t)) = F(t)$ será

$$F: B \subset \mathbb{R} \rightarrow \mathbb{R}$$
$$t \in B \mapsto f(g(t))$$

- Em outras palavras, se $y = f(x)$ e $x = g(t)$ então
 $y = f(x = g(t)) = F(t)$. Queremos derivar F em relação
a t , isto pode ser feito pela REGRA da CADEIA

$$\frac{dF(t)}{dt} = \left(\frac{df(x)}{dx} \right) \cdot \left(\frac{dx(t)}{dt} \right)$$



Devem existir
 $f'(x)$ e $x'(t)$
ou $f(x)$ e $x(t)$ são
diferenciáveis

Ex. Seja $f(x) = x^2$ e $x(t) = \text{sen}(t)$. a) Determine
a função composta $F(t) = f(x(t))$. b) Encontre a
derivada de $F(t)$ em relação a t .

Sol.: a) $F(x(t)) = \text{sen}^2(t) = F(t)$

$$b) \frac{dF(t)}{dt} = \left(\frac{df(x)}{dx} \right) \cdot \left(\frac{dx(t)}{dt} \right)$$

$$= 2x \cdot \cos(t)$$

$$\frac{dF(t)}{dt} = 2 \cdot \text{sen}(t) \cos(t)$$

- Suponha agora que seja dada uma função de duas variáveis $f(x,y)$ e duas funções de uma variável $x(t)$ e $y(t)$. Isto é

$$f: D \subset \mathbb{R}^2 \rightarrow \mathbb{R}$$

$$(x,y) \in D \mapsto f(x,y)$$

$$x: I \subset \mathbb{R} \rightarrow X \subset \mathbb{R}$$

$$t \in I \mapsto x(t)$$

$$y: I \subset \mathbb{R} \rightarrow Y \subset \mathbb{R}$$

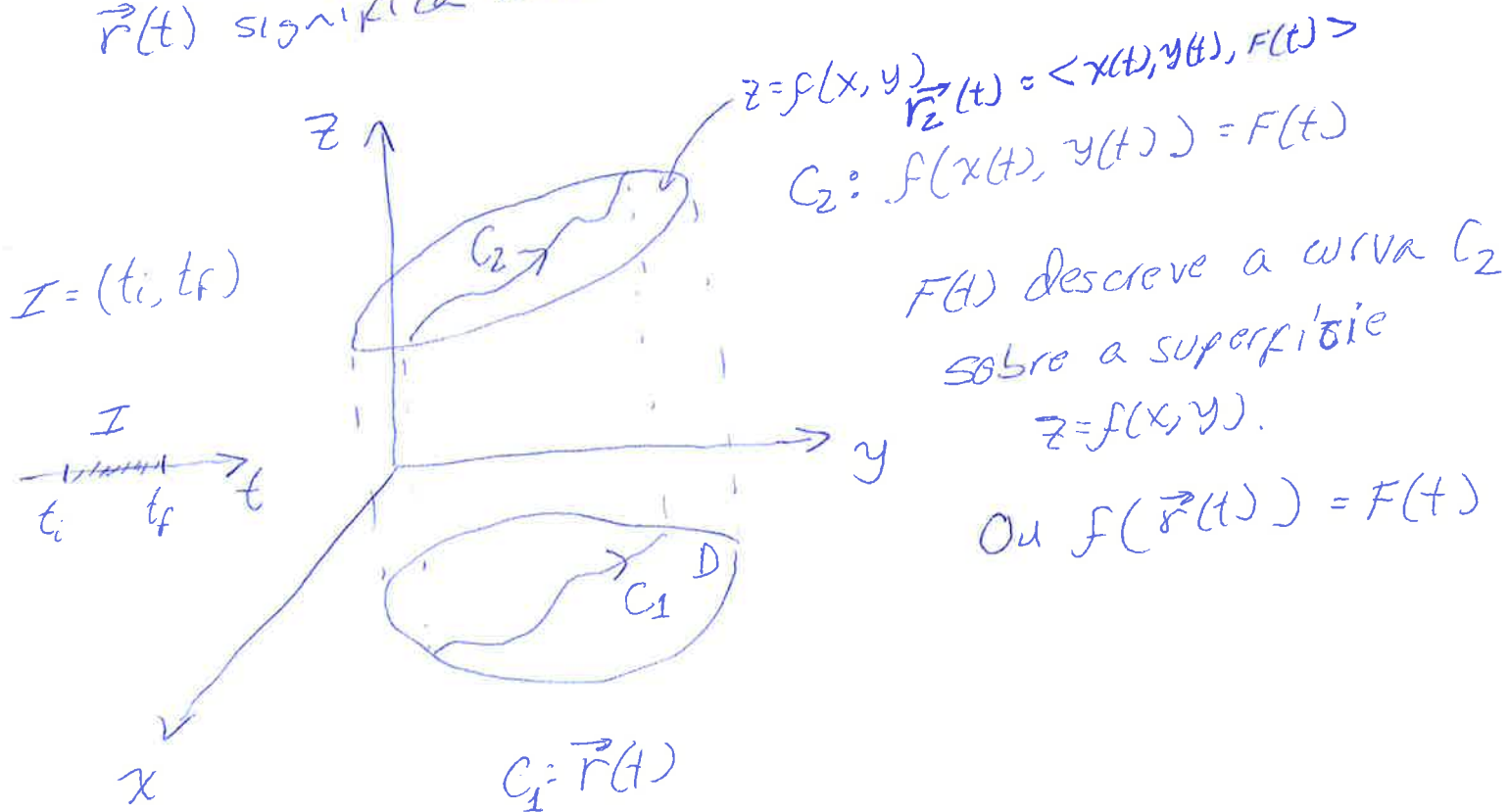
$$t \in I \mapsto y(t)$$

Se $(X \times Y) \subset D$ podemos escrever $f(x(t), y(t)) = F(t)$

$$F: I \subset \mathbb{R} \rightarrow \mathbb{R}$$

$$t \in I \mapsto f(x(t), y(t))$$

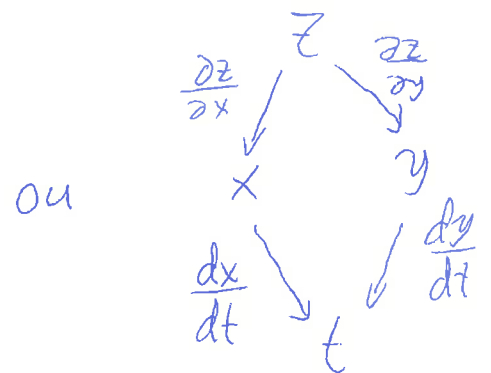
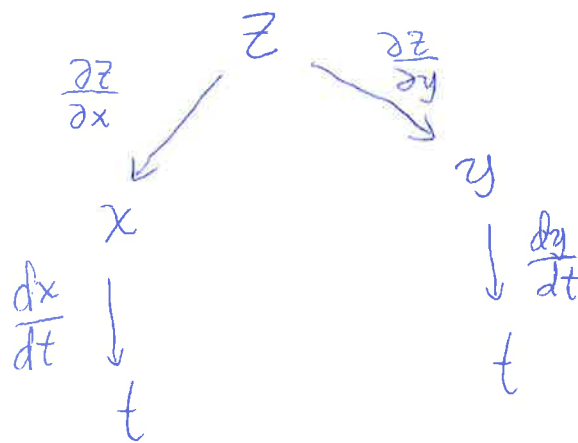
- Gráficamente, as duas funções $x(t)$ e $y(t)$ podem ser escritas como uma função vetorial $\vec{r}(t) = \langle x(t), y(t) \rangle$. $\vec{r}(t)$ significa uma curva no domínio de $f(x,y)$.



Teorema: Se $x(t) = y(t)$ forem diferenciáveis em t (3) e se $f(x, y)$ for diferenciável no ponto $(x, y) = (x(t), y(t))$, então $z = f(x(t), y(t))$ será diferenciável em t e

$$\frac{dz}{dt} = \frac{\partial f}{\partial x} \frac{dx}{dt} + \frac{\partial f}{\partial y} \frac{dy}{dt}$$

onde as derivadas comuns são calculadas em t e as parciais são calculadas em (x, y) .



Ideia da Demonstração

$$\Delta f^{(x_0, y_0)} = f(x_0 + \Delta x, y_0 + \Delta y) - f(x_0, y_0)$$

$$\Delta f^{(x_0, y_0)} \approx df^{(x_0, y_0)} = \frac{\partial f}{\partial x}(x_0, y_0) \Delta x + \frac{\partial f}{\partial y}(x_0, y_0) \Delta y$$

quando $(\Delta x, \Delta y) \rightarrow (0, 0)$.

$$\frac{\Delta f}{\Delta t} \approx \frac{\partial f}{\partial x} \frac{\Delta x}{\Delta t} + \frac{\partial f}{\partial y} \frac{\Delta y}{\Delta t}$$

$$\lim_{\Delta t \rightarrow 0} \left(\frac{\Delta f}{\Delta t} \right) = \frac{\partial f}{\partial x} \lim_{\Delta t \rightarrow 0} \left(\frac{\Delta x}{\Delta t} \right) + \frac{\partial f}{\partial y} \lim_{\Delta t \rightarrow 0} \left(\frac{\Delta y}{\Delta t} \right)$$

$$\frac{df}{dt} = \frac{\partial f}{\partial x} \frac{dx}{dt} + \frac{\partial f}{\partial y} \frac{dy}{dt}$$



Exemplos do Uso da Regra da Cadeia - I

(1)

Ex. Sejam $z = f(x, y) = x/y$, $x(t) = 2 \cos(t)$ e $y(t) = \sin(t)$.

Determine $\frac{dz}{dt}$.

Sol: $\vec{r}(t) = \langle 2 \cos(t), \sin(t) \rangle$

O gráfico de $\vec{r}(t)$ é uma elipse no plano xy .

$$\vec{r}'(t) = \langle -2 \sin(t), \cos(t) \rangle = \langle x'(t), y'(t) \rangle$$

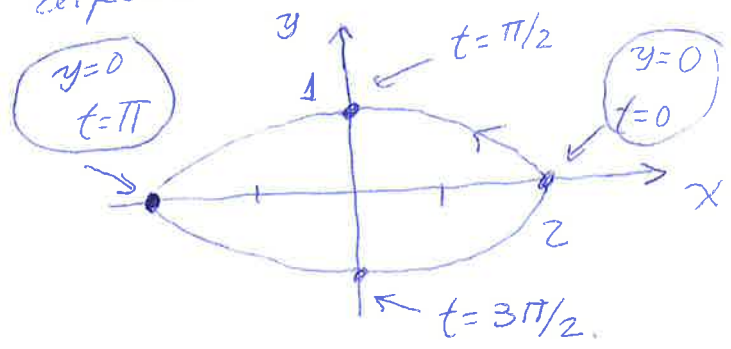
$\vec{r}(t)$ é diferenciável.

Por outro lado $f(x, y) = x/y$ está bem definida se $y \neq 0$ e suas derivadas parciais são

$$f_x(x, y) = \frac{1}{y}$$

$$f_y(x, y) = -\frac{x}{y^2}$$

As derivadas parciais são contínuas se $y \neq 0$.
 f será diferenciável se $y \neq 0$.



- Logo, se $t \in (0, \pi)$ ou $t \in (\pi, 2\pi)$ (Intervalos Abertos) podemos fazer a composição e derivar seguindo a regra da cadeia

$$f(\vec{r}(t)) = f(x(t), y(t)) = F(t)$$

(2)

$$F(t) = \frac{2 \cos(t)}{\sin(t)}$$

- Caminho-1

derivando diretamente

$$\frac{dF(t)}{dt} = \frac{-2 \sin(t) \sin(t) - \cos(t) 2 \cos(t)}{\sin^2(t)}$$

$$\boxed{\frac{dF(t)}{dt} = \frac{-2}{\sin^2(t)}} \quad \begin{array}{l} t \in (0, \pi) \text{ ou} \\ t \in (\pi, 2\pi) \end{array}$$

- Caminho-2: Usando a Regra da Cadeia

$$\frac{dF(t)}{dt} = \left(\frac{\partial F}{\partial x}\right) \left(\frac{dx}{dt}\right) + \left(\frac{\partial F}{\partial y}\right) \left(\frac{dy}{dt}\right)$$

$$\frac{dF(t)}{dt} = \frac{1}{y} [-2 \sin(t)] + \frac{-x}{y^2} [\cos(t)]$$

Mas $y(t) = \sin(t)$ e $x(t) = 2 \cos(t)$

$$\frac{dF(t)}{dt} = \frac{-2 \sin(t)}{\sin(t)} + \frac{-2 \cos(t)}{\sin^2(t)} \cos(t)$$

$$\frac{dF(t)}{dt} = -2 - \frac{2 \cos^2(t)}{\sin^2(t)} = \frac{-2 \sin^2(t) - 2 \cos^2(t)}{\sin^2(t)}$$

$$\boxed{\frac{dF(t)}{dt} = \frac{-2}{\sin^2(t)}}$$

Exemplo do Uso da Regra da Cadeia - II

(1)

Ex.: Sejam $w = 5 \cos(xy) - \sin(xz)$, $x = 1/t$, $y = t$ e $z = t^3$. Determine $\frac{dw}{dt}$.

Sol.: Note que temos uma função de três variáveis $f(x, y, z) = 5 \cos(xy) - \sin(xz)$ e uma curva do espaço tridimensional $\vec{r}(t) = \langle \frac{1}{t}, t, t^3 \rangle$. Devemos ter $t \neq 0$ para $\vec{r}(t)$ ser contínua. f é contínua em todo \mathbb{R}^3 . Vamos achar as derivadas:

$$\vec{r}'(t) = \left\langle -\frac{1}{t^2}, 1, 3t^2 \right\rangle = \langle x'(t), y'(t), z'(t) \rangle$$

$$\frac{\partial f}{\partial x}(x, y, z) = -5y \sin(xy) - z \cos(xz)$$

$$\frac{\partial f}{\partial y}(x, y, z) = -5x \sin(xy)$$

$$\frac{\partial f}{\partial z}(x, y, z) = -x \cos(xz)$$

- $\vec{r}'(t)$ é contínua se $t \neq 0 \Rightarrow \vec{r}(t)$ é diferenciável se $t \neq 0$

- $\frac{\partial f}{\partial x}, \frac{\partial f}{\partial y}, \frac{\partial f}{\partial z}$ são contínuas em todo $\mathbb{R}^3 \Rightarrow f$ é diferenciável em todo \mathbb{R}^3 .

Se $t \neq 0$ podemos construir a função composta

$$w = f(\vec{r}(t)) = f(x(t), y(t), z(t)) = w(t)$$

$$w(t) = 5 \cos\left(\frac{1}{t} \cdot t\right) - \sin\left(\frac{1}{t} \cdot t^3\right)$$

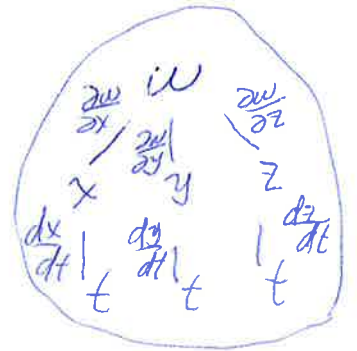
$$w(t) = 5 \cos(1) - \sin(t^2), \quad t \neq 0$$

Caminho-1: Derivar diretamente

$$\frac{dw(t)}{dt} = -\cos(t^2) \cdot 2t = \boxed{-2t \cos(t^2)}, \quad t \neq 0$$

Caminho-2: Usando a Regra da Cadeia

$$\frac{dw}{dt} = \left(\frac{\partial f}{\partial x}\right) \left(\frac{dx}{dt}\right) + \left(\frac{\partial f}{\partial y}\right) \left(\frac{dy}{dt}\right) + \left(\frac{\partial f}{\partial z}\right) \left(\frac{dz}{dt}\right)$$



$$\frac{dw}{dt} = (-5y \sin(xy) - z \cos(xz)) \left(-\frac{1}{t^2}\right) + (-5x \sin(xy)) \cdot 1 + (-x \cos(xz)) \cdot 3t^2.$$

Mas $x = \frac{1}{t}$, $y = t$ e $z = t^3$

$$\frac{dw}{dt} = (-5t \sin(1) - t^3 \cos(t^2)) \left(-\frac{1}{t^2}\right) + (-5 \frac{1}{t} \sin(1)) + \left(-\frac{1}{t} \cos(t^2)\right) \cdot 3t^2$$

$$\frac{dw}{dt} = \frac{5}{t} \sin(1) + t \cos(t^2) - \frac{5}{t} \sin(1) - 3t \cos(t^2)$$

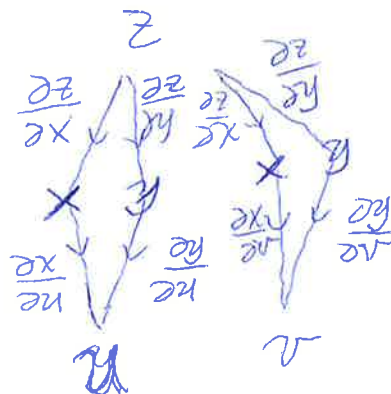
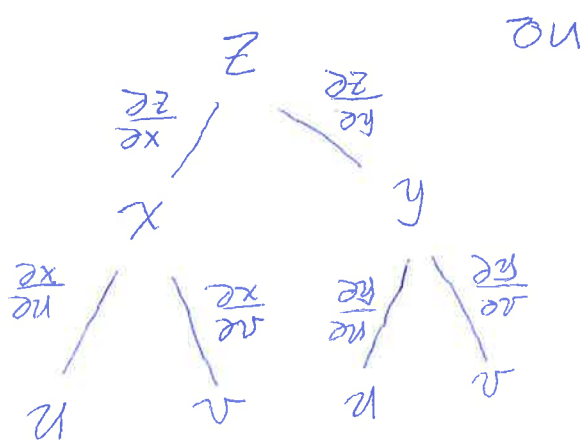
$$\boxed{\frac{dw}{dt} = -2t \cos(t^2)}$$

Regra da Cadeia para Derivadas Parciais

①

Suponha agora que $f(x, y)$ e que $x(u, v)$ e $y(u, v)$.
Podemos pensar na função composta:

$$f(x(u, v), y(u, v)) = F(u, v) = z$$



Queremos achar $\frac{\partial F}{\partial u}$ e $\frac{\partial F}{\partial v}$.

Teorema: Se $x(u, v)$ e $y(u, v)$ tiverem derivadas parciais de primeira ordem no ponto (u, v) , e se $z = f(x, y)$ for diferenciável no ponto $(x, y) = (x(u, v), y(u, v))$, então $z = f(x(u, v), y(u, v))$ terá derivadas parciais de primeira ordem no ponto (u, v) dadas por

$$\frac{\partial z}{\partial u} = \left(\frac{\partial z}{\partial x} \right) \left(\frac{\partial x}{\partial u} \right) + \left(\frac{\partial z}{\partial y} \right) \left(\frac{\partial y}{\partial u} \right) \quad (\#)$$

$$\frac{\partial z}{\partial v} = \left(\frac{\partial z}{\partial x} \right) \left(\frac{\partial x}{\partial v} \right) + \left(\frac{\partial z}{\partial y} \right) \left(\frac{\partial y}{\partial v} \right) \quad (\#)$$

Prova: Vamos demonstrar somente a fórmula (I), (II) a fórmula (II) é feita de forma análoga.

Se v for constante, $v=v_0$, x e y dependem de uma única variável $x(u, v_0)$ e $y(u, v_0)$. Faça a mudança $u=t$, $x(t)$ e $y(t)$ e aplique o teorema anterior sobre regra da cadeia: $f(x(t), y(t)) = z$

$$\frac{dz}{dt} = \left(\frac{\partial z}{\partial x}\right) \left(\frac{dx}{dt}\right) + \left(\frac{\partial z}{\partial y}\right) \frac{dy}{dt}$$

volte a u ($t=u$) e note que as derivadas normais

$\frac{dx}{dt}$ e $\frac{dy}{dt}$ devem ser trocadas pelas derivadas

parciais $\frac{\partial x}{\partial u}$ e $\frac{\partial y}{\partial u}$. Isto é:

$$\frac{dz}{dt} \rightarrow \frac{\partial z}{\partial u}$$

$$\frac{dx}{dt} \rightarrow \frac{\partial x}{\partial u}$$

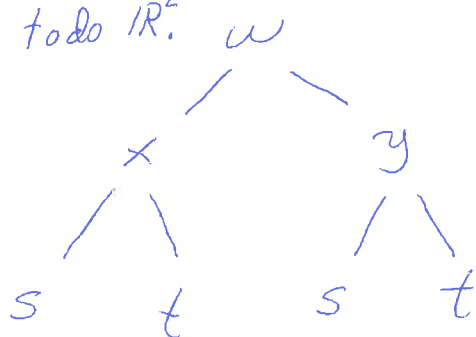
$$\frac{dy}{dt} \rightarrow \frac{\partial y}{\partial u}$$

$$\frac{\partial z}{\partial u} = \left(\frac{\partial z}{\partial x}\right) \left(\frac{\partial x}{\partial u}\right) + \left(\frac{\partial z}{\partial y}\right) \left(\frac{\partial y}{\partial u}\right)$$



Ex.: Use a regra da cadeia para determinar $\frac{\partial w}{\partial s}$ e $\frac{\partial w}{\partial t}$, onde $w(x, y) = x/y$ e $x(s, t) = se^t$ e $y(s, t) = 1 + se^{-t}$.

Sol.: Note que w não está definida em $y=0$. Existem as derivadas parciais de primeira ordem de x e y em relação a s e t em todo \mathbb{R}^2 .



$$\frac{\partial w}{\partial t} = \left(\frac{\partial w}{\partial x}\right)\left(\frac{\partial x}{\partial t}\right) + \left(\frac{\partial w}{\partial y}\right)\left(\frac{\partial y}{\partial t}\right)$$

$$w(x,y) = \frac{x}{y} \begin{cases} \rightarrow \frac{\partial w}{\partial x} = \frac{1}{y} \\ \rightarrow \frac{\partial w}{\partial y} = -\frac{x}{y^2} \end{cases}$$

$$x(s,t) = set \begin{cases} \rightarrow \frac{\partial x}{\partial t} = set \\ \rightarrow \frac{\partial x}{\partial s} = e^t \end{cases}$$

$$y(s,t) = 1 + se^{-t} \begin{cases} \rightarrow \frac{\partial y}{\partial t} = -se^{-t} \\ \rightarrow \frac{\partial y}{\partial s} = e^{-t} \end{cases}$$

$$\frac{\partial w}{\partial t} = \left(\frac{1}{y}\right) set + \left(-\frac{x}{y^2}\right)(-se^{-t})$$

$$\frac{\partial w}{\partial t} = \frac{set}{1+se^{-t}} + \frac{(set)^2 \cdot e^{-t}}{[1+se^{-t}]^2} = \frac{set[1+se^{-t}] + s^2}{[1+se^{-t}]^2}$$

$$\frac{\partial w}{\partial t} = \frac{set + 2s^2}{[1+se^{-t}]^2} = \frac{s(s+et)}{[1+se^{-t}]^2}$$

$$\frac{\partial w}{\partial s} = \left(\frac{\partial w}{\partial x}\right)\left(\frac{\partial x}{\partial s}\right) + \left(\frac{\partial w}{\partial y}\right)\left(\frac{\partial y}{\partial s}\right)$$

$$\frac{\partial w}{\partial s} = \left(\frac{1}{y}\right) e^t + \left(-\frac{x}{y^2}\right) e^{-t} \\ = \frac{e^t}{1+se^{-t}} - \frac{set e^{-t}}{[1+se^{-t}]^2} = \frac{e^t + s - s}{[1+se^{-t}]^2} =$$

$$\frac{\partial w}{\partial s} = \frac{e^t}{[1+se^{-t}]^2}$$

Exemplo do Uso da Regra da Cadeia - III

(1)

Ex. Expresse $\frac{\partial w}{\partial r}$ e $\frac{\partial w}{\partial t}$ em termos de r e t se

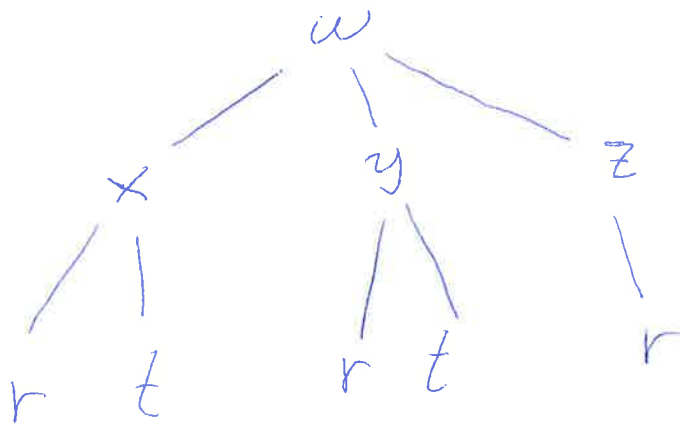
$$w(x, y, z) = x + 2y + z^2, \quad x(r, t) = r/t, \quad y(r, t) = r^2 + \ln(t)$$

e $z(r) = 2r$.

Sol.: w é diferenciável em todo \mathbb{R}^3

~~x~~ x é diferenciável se $t \neq 0$, $D_x = \{(r, t) \in \mathbb{R}^2 \mid t \neq 0\}$
 ~~y~~ y é " " ~~em todo \mathbb{R}^2~~ $D_y = \{(r, t) \in \mathbb{R}^2 \mid t > 0\}$
 z é " " em todo \mathbb{R}^2 .

A função composta $w(x(r, t), y(r, t), z(r, t))$ terá como domínio $\{(r, t) \in \mathbb{R}^2 \mid t > 0\}$



← derivada normal

$$\frac{\partial w}{\partial r} = \left(\frac{\partial w}{\partial x}\right)\left(\frac{\partial x}{\partial r}\right) + \left(\frac{\partial w}{\partial y}\right)\left(\frac{\partial y}{\partial r}\right) + \left(\frac{\partial w}{\partial z}\right)\left(\frac{dz}{dr}\right)$$

Três Somandos

$$w(x, y, z) = x + 2y + z^2 \begin{cases} \rightarrow \frac{\partial w}{\partial x} = 1 \\ \rightarrow \frac{\partial w}{\partial y} = 2 \\ \rightarrow \frac{\partial w}{\partial z} = 2z \end{cases}$$

$$x(r, t) = \frac{r}{t} \rightarrow \frac{\partial x}{\partial r} = \frac{1}{t}$$
$$\rightarrow \frac{\partial x}{\partial t} = -\frac{r}{t^2}$$

$$y(r, t) = r^2 + \ln(t) \rightarrow \frac{\partial y}{\partial r} = 2r$$
$$\rightarrow \frac{\partial y}{\partial t} = \frac{1}{t}$$

$$z(r) = 2r \rightarrow \frac{dz}{dr} = 2$$

$$\frac{\partial w}{\partial r} = 1 \cdot \frac{1}{t} + 2 \cdot 2r + 2z \cdot 2 = \frac{1}{t} + 4r + 4z$$

$$\frac{\partial w}{\partial r} = \frac{1}{t} + 12r$$

$$\frac{\partial w}{\partial t} = \left(\frac{\partial w}{\partial x}\right) \left(\frac{\partial x}{\partial t}\right) + \left(\frac{\partial w}{\partial y}\right) \left(\frac{\partial y}{\partial t}\right)$$

← Somente dois
Somandos.

$$\frac{\partial w}{\partial t} = 1 \left(-\frac{r}{t^2}\right) + 2 \cdot \frac{1}{t} = \frac{-r}{t^2} + \frac{2}{t} = \frac{-r+2t}{t^2}$$

$$\frac{\partial w}{\partial t} = \frac{-r+2t}{t^2}$$

Derivação Implícita usando a Regra da Cadeia (1)

V199

Teorema: Se a equação $f(x,y)=c$ definir y implicitamente como uma função diferenciável de x , e se $\frac{\partial f}{\partial y} \neq 0$, então

$$\frac{dy}{dx} = - \frac{\partial f / \partial x}{\partial f / \partial y}$$

Prova: $f(x,y) = c \leftarrow$ Eq. em duas variáveis, c é constante

$$z = f(x,y)$$

$y = g(x) \leftarrow$ implicitamente

$$\begin{array}{c} z \\ / \quad \backslash \\ x \quad y \\ | \quad | \\ x \quad x \end{array} \quad (z=c) \quad \frac{dz}{dx} = \underbrace{\left(\frac{\partial f}{\partial x}\right)}_0 \underbrace{\left(\frac{dx}{dx}\right)}_1 + \left(\frac{\partial f}{\partial y}\right) \left(\frac{dy}{dx}\right)$$

$$0 = \frac{\partial f}{\partial x} + \frac{\partial f}{\partial y} \left(\frac{dy}{dx}\right)$$

$$\left(\frac{\partial f}{\partial y}\right) \frac{dy}{dx} = - \frac{\partial f}{\partial x} \quad \text{se } \frac{\partial f}{\partial y} \neq 0$$

$$\boxed{\frac{dy}{dx} = - \frac{\partial f / \partial x}{\partial f / \partial y}} \quad \blacksquare$$

Ex.: Encontre $\frac{dy}{dx}$ se $y^2 - x^2 = \sin(xy)$.

Sol.: $y^2 - x^2 = \sin(xy)$ Não é possível colocar $x(y)$ em evidência.

$$\underbrace{y^2 - x^2 - \sin(xy)}_{f(x,y)} = \underbrace{0}_c \quad (\text{forma } f(x,y) = c)$$

$$f(x, y) = y^2 - x^2 - \text{sen}(xy)$$

$$\frac{\partial f}{\partial x}(x, y) = -2x - y \cos(xy)$$

$$\frac{\partial f}{\partial y}(x, y) = 2y - x \cos(xy)$$

$$\frac{dy}{dx} = - \frac{\frac{\partial f}{\partial x}}{\frac{\partial f}{\partial y}}$$

Se $2y \neq x \cos(xy)$

$$\frac{dy}{dx} = - \frac{-2x - y \cos(xy)}{2y - x \cos(xy)} = \frac{2x + y \cos(xy)}{2y - x \cos(xy)} \quad \square$$

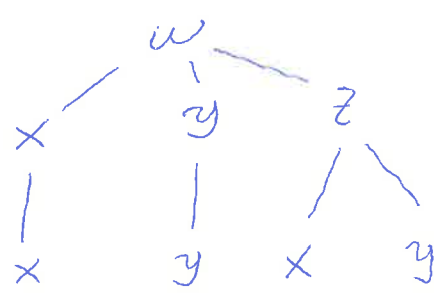
Teorema: Se a equação $f(x, y, z) = c$ definir z implicitamente como uma função diferenciável de x e y , e se $\frac{\partial f}{\partial z} \neq 0$, então

$$\frac{\partial z}{\partial x} = - \frac{\partial f / \partial x}{\partial f / \partial z} \quad \text{e} \quad \frac{\partial z}{\partial y} = - \frac{\partial f / \partial y}{\partial f / \partial z}$$

Prova: $f(x, y, z) = c \leftarrow$ Eq. em três variáveis, c é constante

$$w = f(x, y, z)$$

$z = g(x, y) \rightarrow$ implicitamente



$$\frac{\partial w}{\partial x} = \frac{\partial w}{\partial x} \left(\frac{dx}{dx} \right) + \frac{\partial w}{\partial y} \frac{dy}{dx} + \frac{\partial w}{\partial z} \left(\frac{\partial z}{\partial x} \right)$$

$$\frac{\partial w}{\partial x} = 0 = \frac{\partial w}{\partial x} + \frac{\partial w}{\partial z} \left(\frac{\partial z}{\partial x} \right)$$

$(c = w)$
 $\frac{\partial z}{\partial x} = - \frac{\frac{\partial w}{\partial x}}{\frac{\partial w}{\partial z}}$ se $\frac{\partial w}{\partial z} \neq 0$

$$\frac{\partial w}{\partial y} = \frac{\partial w}{\partial x} \left(\frac{\partial x}{\partial y} \right) + \frac{\partial w}{\partial y} \left(\frac{\partial y}{\partial y} \right) + \frac{\partial w}{\partial z} \frac{\partial z}{\partial y}$$

$$\frac{\partial w}{\partial y} = 0 = \frac{\partial w}{\partial x} + \frac{\partial w}{\partial z} \frac{\partial z}{\partial y}$$

(w=c)

se $\frac{\partial w}{\partial z} \neq 0$

$$\frac{\partial z}{\partial y} = - \frac{\frac{\partial w}{\partial x}}{\frac{\partial w}{\partial z}}$$

Ex.: Seja $yz - \ln(z) = x + y$. Encontre $\frac{\partial z}{\partial x}$ e $\frac{\partial z}{\partial y}$.

Sol.: $yz - \ln(z) = x + y$

$$yz - \ln(z) - x - y = 0$$

$f(x, y, z) = c$

$$f(x, y, z) = yz - \ln(z) - x - y$$

$$\frac{\partial f}{\partial x}(x, y, z) = -1$$

$$\frac{\partial f}{\partial y}(x, y, z) = z - 1$$

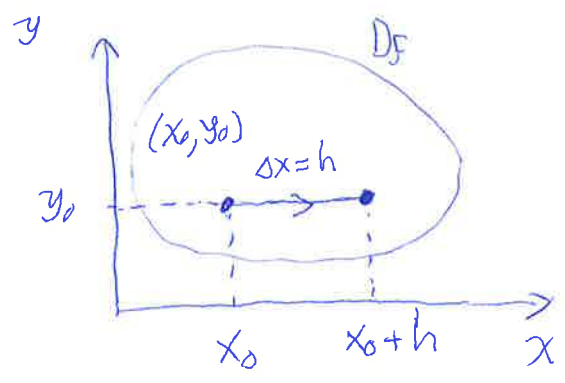
$$\frac{\partial f}{\partial z}(x, y, z) = y - \frac{1}{z}$$

$$\frac{\partial z}{\partial x} = - \frac{\frac{\partial f}{\partial x}}{\frac{\partial f}{\partial z}} = - \frac{-1}{y - \frac{1}{z}} = \frac{z}{yz - 1}$$

$$\frac{\partial z}{\partial y} = - \frac{\frac{\partial f}{\partial y}}{\frac{\partial f}{\partial z}} = - \frac{(z-1)}{y - \frac{1}{z}} = \frac{z(1-z)}{yz - 1}$$

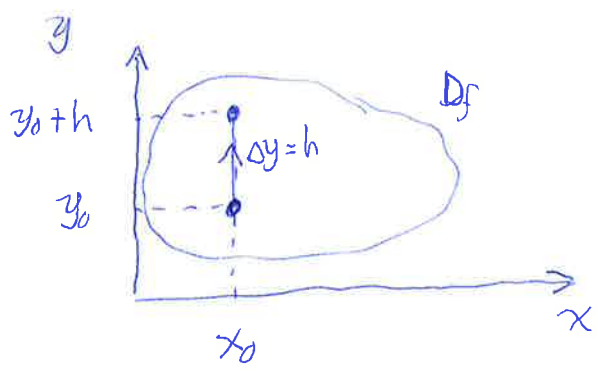
se $y \neq \frac{1}{z}$

Derivadas Direcionais



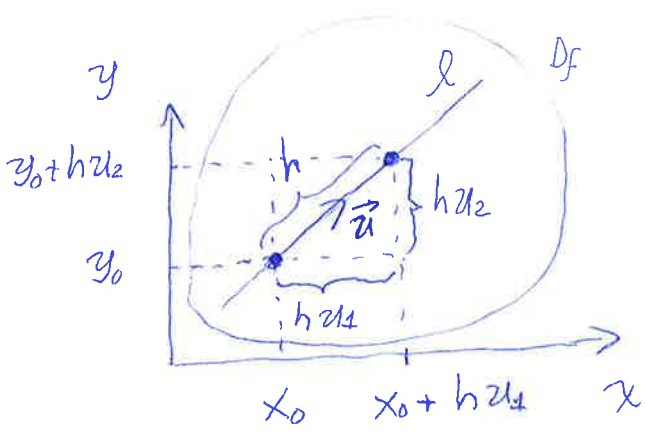
$$\frac{\partial f(x_0, y_0)}{\partial x} = \lim_{h \rightarrow 0} \left[\frac{f(x_0+h, y_0) - f(x_0, y_0)}{h} \right]$$

$$\vec{u} = (1, 0) = \vec{i}$$



$$\frac{\partial f(x_0, y_0)}{\partial y} = \lim_{h \rightarrow 0} \left[\frac{f(x_0, y_0+h) - f(x_0, y_0)}{h} \right]$$

$$\vec{u} = (0, 1) = \vec{j}$$



$$\begin{cases} x(h) = x_0 + h u_1 \\ y(h) = y_0 + h u_2 \\ h \in \mathbb{R} \end{cases}$$

Eq. Paramétricas da reta l , com parâmetro h .

$$\vec{u} = (u_1, u_2) \text{ e } |\vec{u}| = 1 \text{ (unitário)}$$

$$\sqrt{u_1^2 + u_2^2} = 1$$

$$(x_0 + h u_1, y_0 + h u_2) - (x_0, y_0) = (h u_1, h u_2) = h (u_1, u_2)$$

$$|h(u_1, u_2)| = |h| |(u_1, u_2)| = |h| \cdot 1 = |h|$$

Definição: A derivada direcional de $f(x, y)$ na direção e sentido do vetor unitário $\vec{u} = (u_1, u_2)$, será denotada e definida como (em (x_0, y_0)):

$$D_{\vec{u}} f(x_0, y_0) = \lim_{h \rightarrow 0} \left[\frac{f(x_0 + h u_1, y_0 + h u_2) - f(x_0, y_0)}{h} \right]$$

desde que o limite exista.

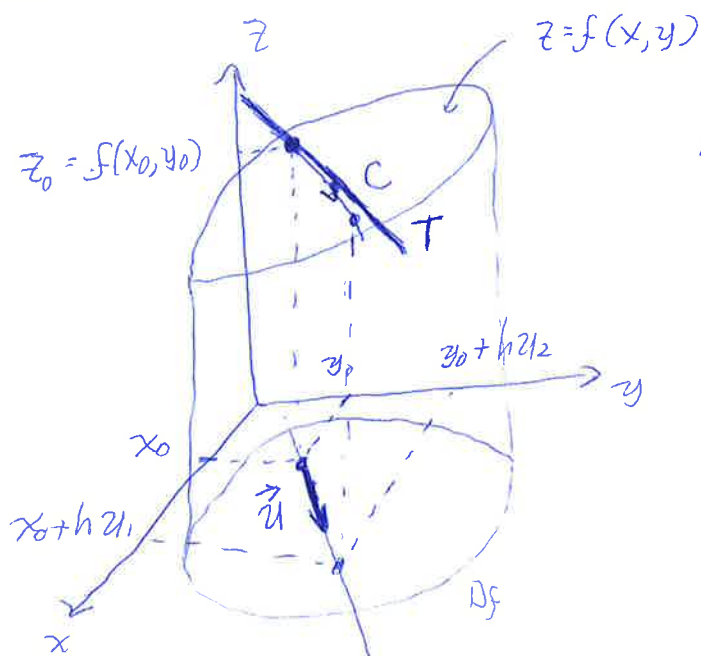
Note que se $\vec{u} = (1, 0) = \vec{i}$ então

$$D_{\vec{i}} f(x_0, y_0) = \frac{\partial f(x_0, y_0)}{\partial x}$$

e se $\vec{u} = (0, 1) = \vec{j}$, então

$$D_{\vec{j}} f(x_0, y_0) = \frac{\partial f(x_0, y_0)}{\partial y}$$

As derivadas parciais são casos particulares de derivadas direcionais.



A derivada direcional indica a inclinação da reta tangente T a curva C no ponto $(x_0, y_0, f(x_0, y_0))$.

Teorema: Se $f(x, y)$ é uma função diferenciável, então a derivada direcional na direção de qualquer vetor unitário $\vec{u} = (u_1, u_2)$ pode ser calculada como

$$D_{\vec{u}} f(x, y) = f_x(x, y) u_1 + f_y(x, y) u_2$$

Prova: Vamos definir a função $g(h)$ de uma única variável

$$g(h) = f(x_0 + h u_1, y_0 + h u_2)$$

Pela definição de derivada direcional

$$D_{\vec{u}} f(x_0, y_0) = \lim_{h \rightarrow 0} \left(\frac{f(x_0 + h u_1, y_0 + h u_2) - f(x_0, y_0)}{h} \right) = \lim_{h \rightarrow 0} \left(\frac{g(h) - g(0)}{h} \right) = g'(0)$$

Logo, temos que

$$\boxed{D_{\vec{u}} f(x_0, y_0) = g'(0)} \quad (\text{I})$$

Por outro lado, podemos escrever

$$g(h) = f(x, y) \text{ onde } x(h) = x_0 + h u_1 \text{ e } y(h) = y_0 + h u_2$$

Usando a Regra da Cadeia

$$g'(h) = \left(\frac{\partial f}{\partial x}\right) \left(\frac{dx}{dh}\right) + \left(\frac{\partial f}{\partial y}\right) \left(\frac{dy}{dh}\right)$$

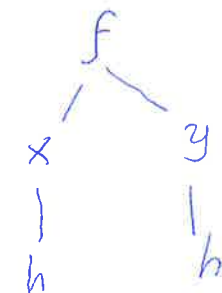
$$g'(h) = f_x(x, y) u_1 + f_y(x, y) u_2$$

Se $h=0$ então $x(0) = x_0$ e $y(0) = y_0$

$$\boxed{g'(0) = f_x(x_0, y_0) u_1 + f_y(x_0, y_0) u_2} \quad (\text{II})$$

Comparando (I) e (II)

$$D_{\vec{u}} f(x_0, y_0) = f_x(x_0, y_0) u_1 + f_y(x_0, y_0) u_2$$



Exemplos de Cálculo da Derivada Direcional, Vetor Gradiente ①

V201

Ex. Encontre a derivada de $f(x,y) = xe^y + \cos(xy)$ no ponto $(2,0)$ na direção do vetor $\vec{v} = (3,4)$.

Sol.: O vetor \vec{v} não é unitário

$$|\vec{v}| = \sqrt{3^2 + 4^2} = 5$$

$$\vec{u} = \frac{\vec{v}}{|\vec{v}|} = \frac{1}{5} (3, -4) \text{ é um vetor unitário}$$

$$f(x,y) = xe^y + \cos(xy)$$

$$f_x(x,y) = e^y - y \sin(xy)$$

$$f_y(x,y) = xe^y - x \sin(xy)$$

$$f_x(2,0) = e^0 - 0 \sin(2 \cdot 0) = 1$$

$$f_y(2,0) = 2e^0 - 2 \sin(2 \cdot 0) = 2$$

$$D_{\vec{u}} f(x_0, y_0) = f_x(x_0, y_0) u_1 + f_y(x_0, y_0) u_2$$

$$D_{\vec{u}} f(2,0) = \underbrace{f_x(2,0)}_1 \cdot \frac{3}{5} + \underbrace{f_y(2,0)}_2 \cdot \left(-\frac{4}{5}\right)$$

$$D_{\vec{u}} f(2,0) = \frac{3}{5} - \frac{8}{5} = -1 \quad \square$$

A derivada direcional pode ser escrita como o produto escalar de dois vetores

$$D_{\vec{u}} f(x_0, y_0) = f_x(x_0, y_0) u_1 + f_y(x_0, y_0) u_2 \\ = \underbrace{\langle f_x(x_0, y_0), f_y(x_0, y_0) \rangle}_{\vec{\nabla} f(x_0, y_0)} \cdot \underbrace{\langle u_1, u_2 \rangle}_{\vec{u}}$$

$$\vec{\nabla} f(x_0, y_0) = \langle f_x(x_0, y_0), f_y(x_0, y_0) \rangle$$

vetor gradiente de $f(x, y)$ em (x_0, y_0) .

O símbolo $\vec{\nabla}$ pode ser pensado como um operador

$$\vec{\nabla}: f \rightarrow \vec{\nabla} f$$
$$f(x, y) \mapsto \langle f_x(x, y), f_y(x, y) \rangle$$

A uma função de duas variáveis associa um campo vetorial

Com isto

$$D_{\vec{u}} f(x, y) = \vec{\nabla} f(x_0, y_0) \cdot \vec{u}$$

Ex.: Determine a derivada direcional da função $f(x, y, z) = xe^y + ye^z + ze^x$ no ponto $(0, 0, 0)$ e na direção do vetor $\vec{v} = (5, 1, -2)$.

Sol.: $|\vec{v}| = \sqrt{5^2 + 1^2 + (-2)^2} = \sqrt{25 + 1 + 4} = \sqrt{30}$

$$\vec{u} = \frac{1}{|\vec{v}|} \cdot \vec{v} = \frac{1}{\sqrt{30}} (5, 1, -2)$$

$$\vec{\nabla} f = (f_x, f_y, f_z)$$

$$f_x = e^y + ze^x \quad f_y = xe^y + e^z \quad f_z = ye^z + e^x$$

$$\vec{\nabla} f = (e^y + ze^x, xe^y + e^z, ye^z + e^x)$$

$$\vec{\nabla} f(0, 0, 0) = (1, 1, 1)$$

$$D_{\vec{u}} f(0, 0, 0) = \vec{\nabla} f(0, 0, 0) \cdot \vec{u} = \begin{pmatrix} 1 \\ 1 \\ 1 \end{pmatrix} \cdot \frac{1}{\sqrt{30}} \begin{pmatrix} 5 \\ 1 \\ -2 \end{pmatrix} = \frac{1}{\sqrt{30}} (5 + 1 - 2)$$

$$D_{\vec{u}} f(0, 0, 0) = \frac{4}{\sqrt{30}}$$

Extremos da Derivada Direcional

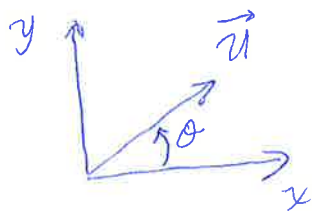
V202

①

- Em funções de duas variáveis o domínio de f é um subconjunto de \mathbb{R}^2 e a direção \vec{u} pode ser escrita como

$$\vec{u} = (u_1, u_2) = (\cos(\theta), \sin(\theta))$$

$$|\vec{u}| = 1$$



- Como $D_{\vec{u}} f(x,y) = \vec{\nabla} f \cdot \vec{u}$

$$D_{\vec{u}} f(x,y) = |\vec{\nabla} f| \cdot \underbrace{|\vec{u}|}_{1} \cos(\theta)$$

$$D_{\vec{u}} f(x,y) = |\vec{\nabla} f| \cos(\theta)$$

- Se $|\vec{\nabla} f| \neq 0$, ou $\vec{\nabla} f \neq \vec{0}$, o valor máximo da derivada direcional acontece quando $\theta = 0$, isto é, quando a direção ^{esentido} de \vec{u} e $\vec{\nabla} f$ coincidem. E o valor máximo é

$$|\vec{\nabla} f|.$$

- Se $|\vec{\nabla} f| \neq 0$, o valor mínimo acontece quando $\theta = \pi$, isto é, a direção de \vec{u} e $\vec{\nabla} f$ coincidem, porém apontam em sentidos contrários. O valor mínimo é $-|\vec{\nabla} f|$.

- Se $|\vec{\nabla} f| \neq 0$ e $\vec{u} \perp \vec{\nabla} f \Rightarrow D_{\vec{u}} f(x,y) = 0$ (Nessa direção f não varia)

- Seja $f(x,y) = xy$, no ponto $(0,0)$ encontre o gradiente

$$\vec{\nabla} f = (f_x, f_y) = (y, x), \quad \vec{\nabla} f(0,0) = \vec{0} \Rightarrow D_{\vec{u}} f(0,0) = 0$$

Porém, isso não significa que f seja constante perto de $(0,0)$. Somente tem sentido de procurar máximo ou mínimo da derivada direcional quando

$$\vec{\nabla}f \neq \vec{0}.$$

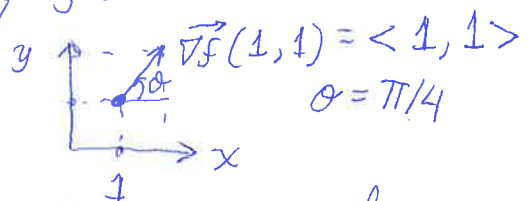
Ex.: Encontre as direções nas quais $f(x,y) = \frac{1}{2}(x^2+y^2)$ no ponto $(1,1)$:

- Cresce mais rapidamente, qual é o máximo?
- Decresce mais rapidamente, qual é o mínimo?
- Não varia

Sol.: $\vec{\nabla}f = \langle f_x, f_y \rangle = \langle x, y \rangle$

$$\vec{\nabla}f(1,1) = \langle 1, 1 \rangle$$

$$|\vec{\nabla}f(1,1)| = \sqrt{1^2+1^2} = \sqrt{2}$$



a) A derivada direcional é máxima quando os vetores \vec{u} e $\vec{\nabla}f$ coincidem em direção e sentido. Isto é, formando um ângulo de 45° com o eixo x . Ou $\vec{u} = \frac{1}{\sqrt{2}} \langle 1, 1 \rangle$. O valor do máximo é $\sqrt{2}$.

b) \vec{u} e $\vec{\nabla}f$ mesma direção, sentidos contrários. Isto é, $\vec{u} = -\frac{1}{\sqrt{2}} \langle 1, 1 \rangle$. O valor do mínimo da derivada direcional é $-\sqrt{2}$.

c) $\vec{\nabla}f \cdot \vec{u} = 0 = D_{\vec{u}}f(x,y)$ (f não varia)

$$\frac{1}{\sqrt{2}} \begin{pmatrix} 1 \\ 1 \end{pmatrix} \cdot \begin{pmatrix} u_1 \\ u_2 \end{pmatrix} = 0 \Rightarrow u_1 + u_2 = 0 \Rightarrow u_1 = -u_2$$

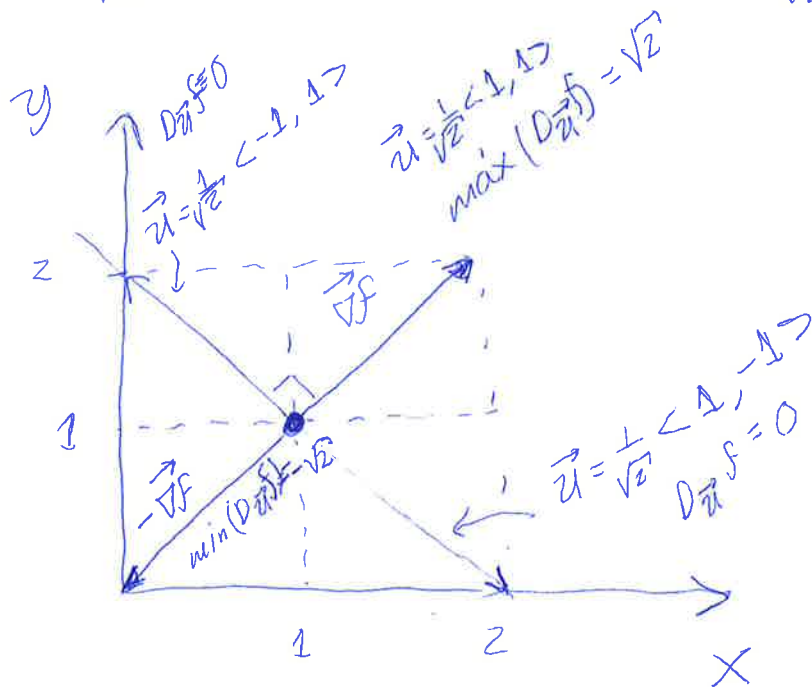
Adicionalmente $|\vec{u}| = 1$, logo $\sqrt{u_1^2 + u_2^2} = 1$, isto é

$$\sqrt{u_1^2 + u_2^2} = 1 \Rightarrow \sqrt{2} |u_2| = 1 \Rightarrow |u_2| = \frac{1}{\sqrt{2}}$$

$$\text{pegando } u_2 = \frac{1}{\sqrt{2}} \Rightarrow u_1 = -\frac{1}{\sqrt{2}} \Rightarrow \boxed{\vec{u} = \frac{1}{2} \langle -1, 1 \rangle}$$

se $u_2 = -\frac{1}{\sqrt{2}} \Rightarrow u_1 = \frac{1}{\sqrt{2}} \Rightarrow \vec{u} = \frac{1}{\sqrt{2}} \langle 1, -1 \rangle$

(3)



Vetor Gradiente é Perpendicular às Superfícies de Nível

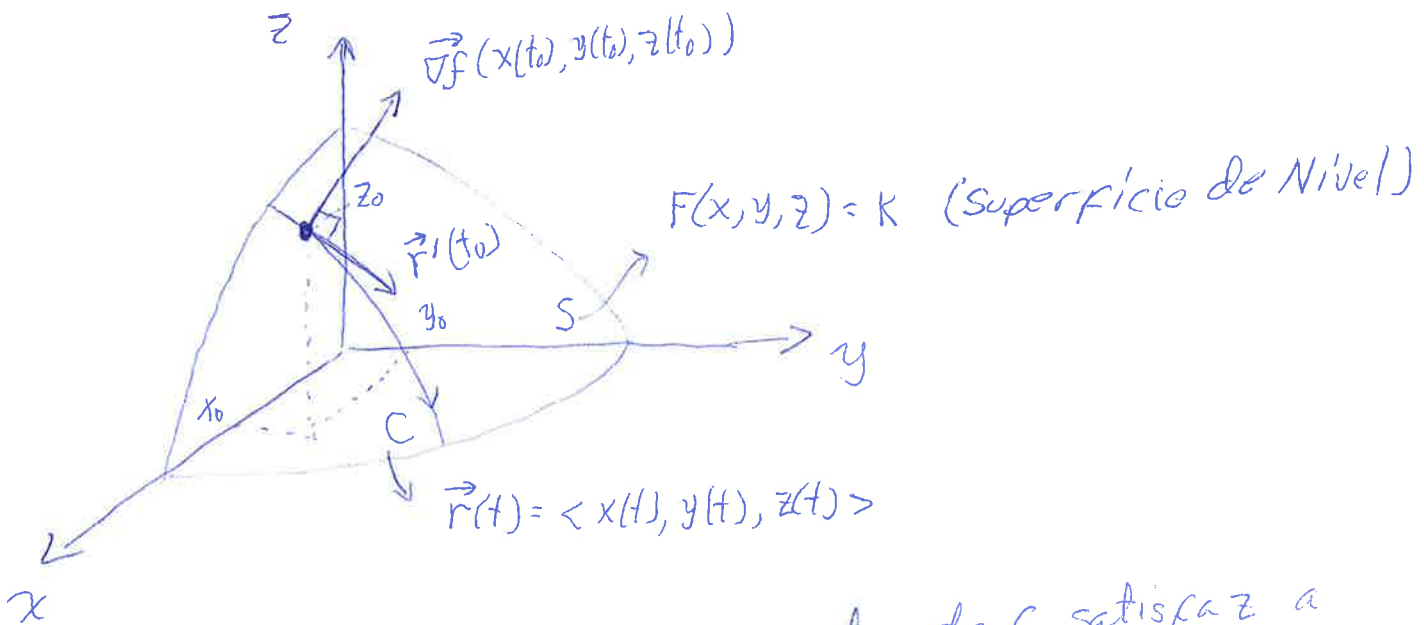
v203

①

- S é a superfície com equação $F(x, y, z) = k$. Isto é, S é uma superfície de nível da função F .
- $P = (x_0, y_0, z_0)$ um ponto de S .
- C é uma curva (arbitrária) na superfície S e passa por P .

$$C: \vec{r}(t) = \langle x(t), y(t), z(t) \rangle$$

$$\vec{r}(t_0) = \langle x(t_0), y(t_0), z(t_0) \rangle = \langle x_0, y_0, z_0 \rangle = P$$



Como C pertence a S , qualquer ponto de C satisfaz a equação de S :

$$F(x(t), y(t), z(t)) = k$$

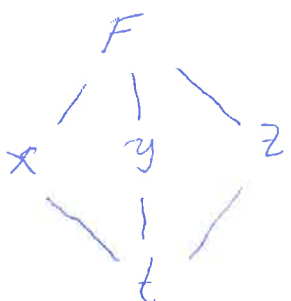
Vamos usar a regra da cadeia para derivar em relação a t .
Supondo $F(x, y, z)$ e $x(t), y(t), z(t)$ diferenciáveis.

$$\frac{d}{dt} [F(x(t), y(t), z(t))] = \frac{d}{dt} (k) = 0$$

$$\frac{\partial F}{\partial x} \frac{dx}{dt} + \frac{\partial F}{\partial y} \frac{dy}{dt} + \frac{\partial F}{\partial z} \frac{dz}{dt} = 0$$

$$F_x x'(t) + F_y y'(t) + F_z z'(t) = 0$$

$$\langle F_x, F_y, F_z \rangle \cdot \langle x'(t), y'(t), z'(t) \rangle = 0$$



$$\vec{\nabla} F \cdot \vec{r}'(t) = 0, \quad \forall t \in \mathbb{R}$$

(2)

Se $t = t_0$

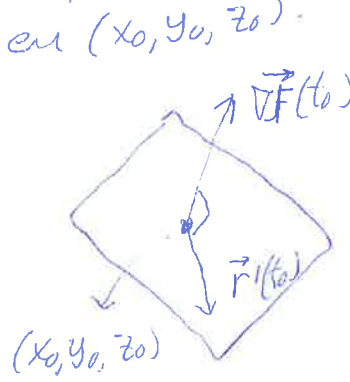
$$\vec{\nabla} F(t_0) \cdot \vec{r}'(t_0) = 0$$

se $\vec{\nabla} F(t_0) \neq \vec{0} \Downarrow$

$$\vec{\nabla} F(t_0) \perp \vec{r}'(t_0)$$

O vetor gradiente é perpendicular ao vetor tangente de qualquer curva C na superfície de S e que passe por P .

- Equação do Plano Tangente a Superfície de Nível $F(x, y, z) = k$ em (x_0, y_0, z_0) .



$$F_x(x_0, y_0, z_0)(x - x_0) + F_y(x_0, y_0, z_0)(y - y_0) + F_z(x_0, y_0, z_0)(z - z_0) = 0$$

$$\vec{\nabla} F(x_0, y_0, z_0) \cdot [\vec{r}(t) - \vec{r}(t_0)] = 0$$

- Note que quando a superfície S é o gráfico da função $f(x, y)$ podemos escrever $F(x, y, z) = f(x, y) - z = 0$ e

$\vec{\nabla} F = \langle f_x, f_y, -1 \rangle$. Logo a eq. da plano ^{se escreve como} tangente _{tinhamos encontrado anteriormente.}

$$f_x(x_0, y_0)(x - x_0) + f_y(x_0, y_0)(y - y_0) - 1(z - z_0) = 0$$

$$\text{ou } z = z_0 + f_x(x_0, y_0)(x - x_0) + f_y(x_0, y_0)(y - y_0)$$

- Também podemos escrever as equações paramétricas da reta normal ao plano tangente como

$$\vec{r}(\lambda) = \vec{r}(t_0) + \vec{\nabla} F(x(t_0), y(t_0), z(t_0)) \lambda, \quad \lambda \in \mathbb{R}$$

reta normal $\vec{\nabla} F$ é paralelo a esta reta

Isto é

(3)

$$\begin{cases} x(\lambda) = x_0 + F_x(x_0, y_0, z_0) \lambda \\ y(\lambda) = y_0 + F_y(x_0, y_0, z_0) \lambda \\ z(\lambda) = z_0 + F_z(x_0, y_0, z_0) \lambda \end{cases} \quad \text{ou} \quad \frac{x-x_0}{F_x(x_0, y_0, z_0)} = \frac{y-y_0}{F_y(x_0, y_0, z_0)} = \frac{z-z_0}{F_z(x_0, y_0, z_0)}$$

Ex.: Encontre uma equação do plano tangente e da reta normal à superfície $x+y+z = e^{xyz}$ no ponto $(0,0,1)$.

Sol.: $F(x,y,z) = x+y+z - e^{xyz} = 0 \leftarrow$ Superfície de Nível $K=0$

$$F_x = 1 - yz e^{xyz} \rightarrow F_x(0,0,1) = 1 - 0e^0 = 1$$

$$F_y = 1 - xz e^{xyz} \rightarrow F_y(0,0,1) = 1 - 0e^0 = 1$$

$$F_z = 1 - xy e^{xyz} \rightarrow F_z(0,0,1) = 1 - 0e^0 = 1$$

Logo, $\vec{\nabla}F(0,0,1) = \langle 1, 1, 1 \rangle$ e a eq. do plano tangente é

$$1(x-0) + 1(y-0) + 1(z-1) = 0$$

$$\boxed{x+y+z=1} \quad \text{eq. do plano tangente}$$

- A eq. da reta normal: $\vec{r}(\lambda) = \vec{r}(t_0) + \vec{\nabla}F(t_0) \lambda$

$$\begin{pmatrix} x(\lambda) \\ y(\lambda) \\ z(\lambda) \end{pmatrix} = \begin{pmatrix} 0 \\ 0 \\ 1 \end{pmatrix} + \begin{pmatrix} 1 \\ 1 \\ 1 \end{pmatrix} \lambda$$

$$\begin{cases} x(\lambda) = \lambda \\ y(\lambda) = \lambda \\ z(\lambda) = 1 + \lambda \end{cases}$$

$$\lambda \in \mathbb{R}$$

$$\text{ou} \quad \frac{x-0}{1} = \frac{y-0}{1} = \frac{z-1}{1}$$

$$\boxed{x=y=z-1}$$

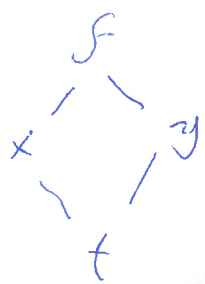
Vetor Gradiente e Perpendicular as Curvas de Nível ①

v2024

- Suponha que a eq. $f(x,y) = k$ define uma curva de nível da função f que passa pelo ponto (x_0, y_0) . Imagine que a ^{mesma} curva pode ser parametrizada pela função vetorial $\vec{r}(t) = \langle x(t), y(t) \rangle$, onde $\vec{r}(t_0) = \langle x(t_0), y(t_0) \rangle = \langle x_0, y_0 \rangle$. Logo

$$f(x(t), y(t)) = k$$

Se $f(x,y)$ e $x(t)$ e $y(t)$ forem diferenciáveis podemos usar a regra da cadeia



$$\frac{d}{dt} [f(x(t), y(t))] = \frac{d}{dt} (k) = 0$$

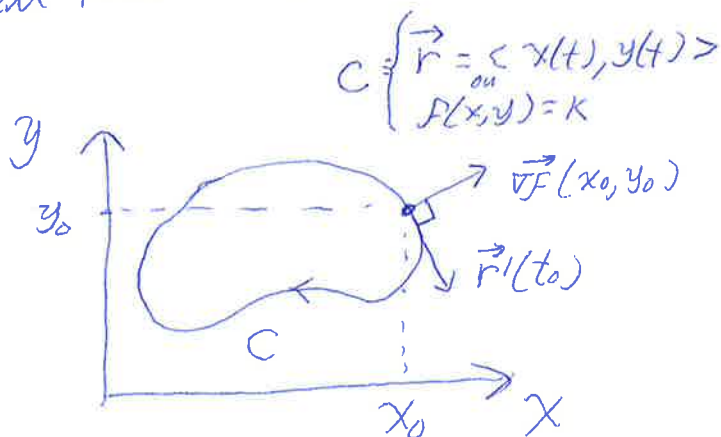
$$\frac{\partial f}{\partial x} \cdot \frac{dx}{dt} + \frac{\partial f}{\partial y} \cdot \frac{dy}{dt} = 0$$

$$\left\langle \frac{\partial f}{\partial x}, \frac{\partial f}{\partial y} \right\rangle \cdot \left\langle \frac{dx}{dt}, \frac{dy}{dt} \right\rangle = 0$$

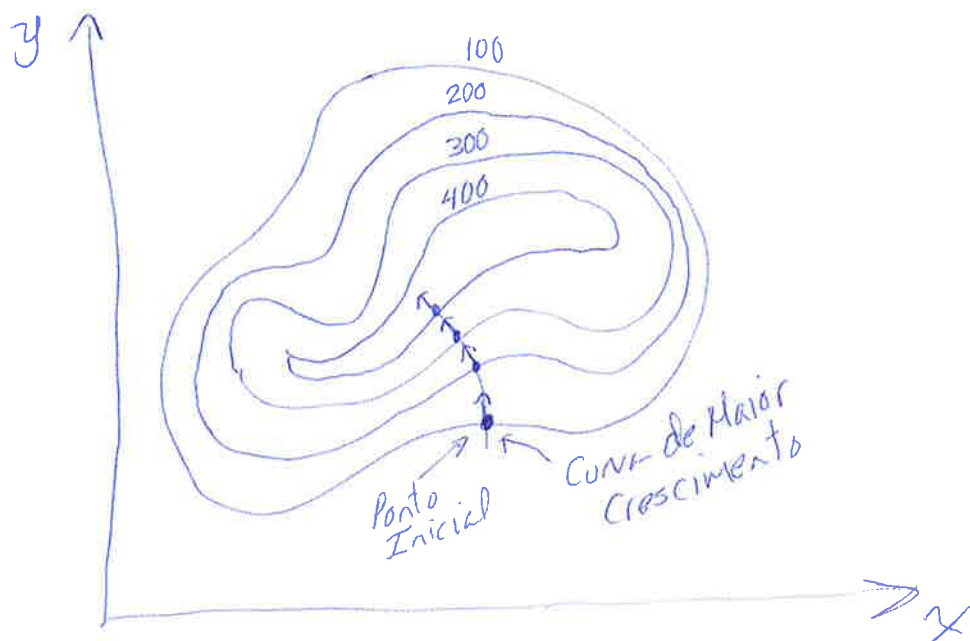
$$\vec{\nabla} f \cdot \vec{r}'(t) = 0$$

$$\text{Se } \vec{\nabla} f \neq 0 \Rightarrow \vec{\nabla} f \perp \vec{r}'(t), \forall t \in \mathbb{R} \\ \text{e } \vec{r}'(t) \neq 0$$

Isto é, o vetor gradiente é perpendicular a ~~uma~~ a uma curva de nível lisa em todos os pontos desta. Em particular em (x_0, y_0) .



Com um conjunto de curvas de nível, podemos seguir ao vetor gradiente para esboçar a curva de maior crescimento. ~~Esboço~~ (No domínio de $f(x,y)$). (2)



- Em um mapa de contorno real usualmente os rios seguem as curvas de maior crescimento.

- Resumo da Importância do Vetor Gradiente

- Por um lado ele indica a direção de máxima variação da derivada direcional e por outro lado ele é perpendicular as superfícies de nível (se $f(x,y,z)$) ou as curvas de nível (se $f(x,y)$).

- Esses resultados são de esperar, pois se nos movemos seguindo uma superfície (ou uma curva) de nível a função f não muda. A máxima variação acontece justamente andando perpendicularmente a estas.

Vetor Gradiente no Computador

V205

(1)

$$f(x,y) = xy$$

$$\vec{\nabla} f(x,y) = \langle f_x, f_y \rangle = \langle y, x \rangle$$

- O vetor gradiente é perpendicular as curvas de nível
- Quanto maior o vetor gradiente mais próximas encontramos as curvas de níveis. Maior é o crescimento de f .