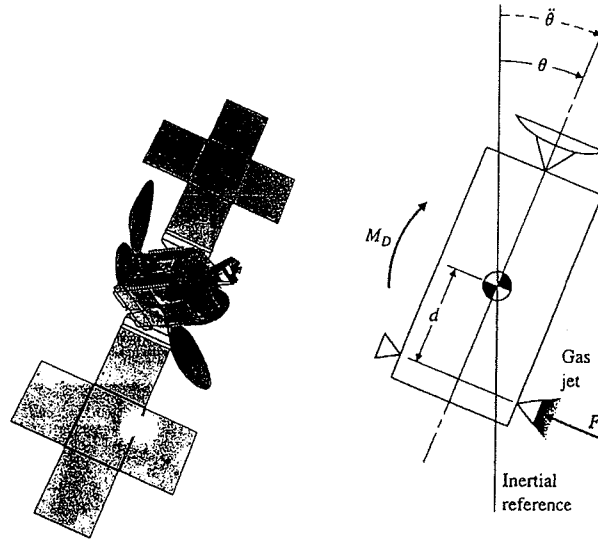


Nome: _____

NUSP: _____

PMR2360 - Controle e Automação I
Prova 1 - 01 de Outubro de 2010
Duração da prova - 80 minutos

Satélites (Veja figura abaixo) requerem usualmente controle de atitude de tal maneira que as antenas, sensores e painéis solares estejam orientados apropriadamente. Muitas vezes, ao invés do movimento de atitude nos três eixos, realiza-se a análise em cada eixo separado.



A figura ilustra o diagrama esquemático de um satélite que pode-se movimentar apenas no eixo perpendicular à esta folha de papel. O ângulo θ é medido em relação a um referencial inercial. O sinal de controle provém de pequenos jatos que produzem um momento igual a $F_c \times d$ em torno do centro de gravidade.

Momentos representando distúrbios são representados por M_d .

A equação de movimento do satélite pode então ser representada por:

$$F_c(t)d + M_D(t) = I\ddot{\theta}(t) \quad (1)$$

onde I é o momento de inércia.

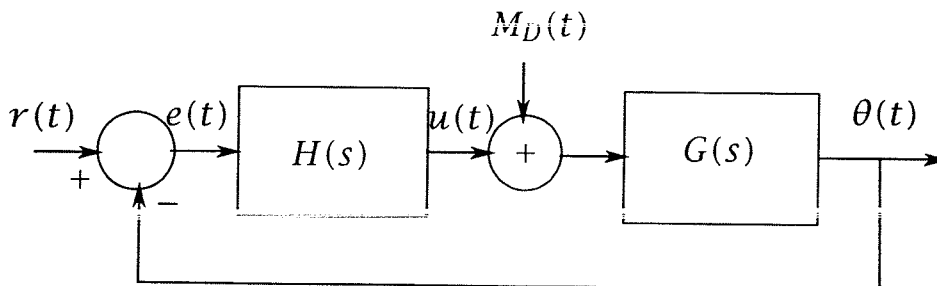
A função de transferência do sistema malha aberta pode ser escrita como:

$$\Theta(s) = \frac{1}{I} \frac{1}{s^2} U(s) + \frac{1}{I} \frac{1}{s^2} M_D(s). \quad (2)$$

onde $U(s) = F_c(s)d$

[Q. 1] (1.0pt) Considerando somente a entrada $U(s)$, calcule a resposta no domínio do tempo para uma entrada degrau $u(t) = A$.

[Q. 2] (1.0pt) Deseja-se projetar um sistema de controle em malha fechada como mostrado na figura abaixo.



As seguintes especificações são requeridas:

- Erro estacionário nulo para entrada do tipo degrau $R(s) = A/s$ e distúrbio do tipo degrau $M_D(s) = B/s$,
- Tempo de assentamento $t_s < 4seg$,
- Máximo sobresinal $M_p < 5\%$.

Desenhe o lugar geométrico no plano s que contenham os pólos do sistema de 2a. ordem padrão que satisfaçam os requisitos de tempo de assentamento t_s e máximo sobresinal M_p . (OBS: sistema de 2a. ordem padrão é dado por $\frac{\omega_n^2}{s^2 + 2\zeta\omega_n s + \omega_n^2}$)

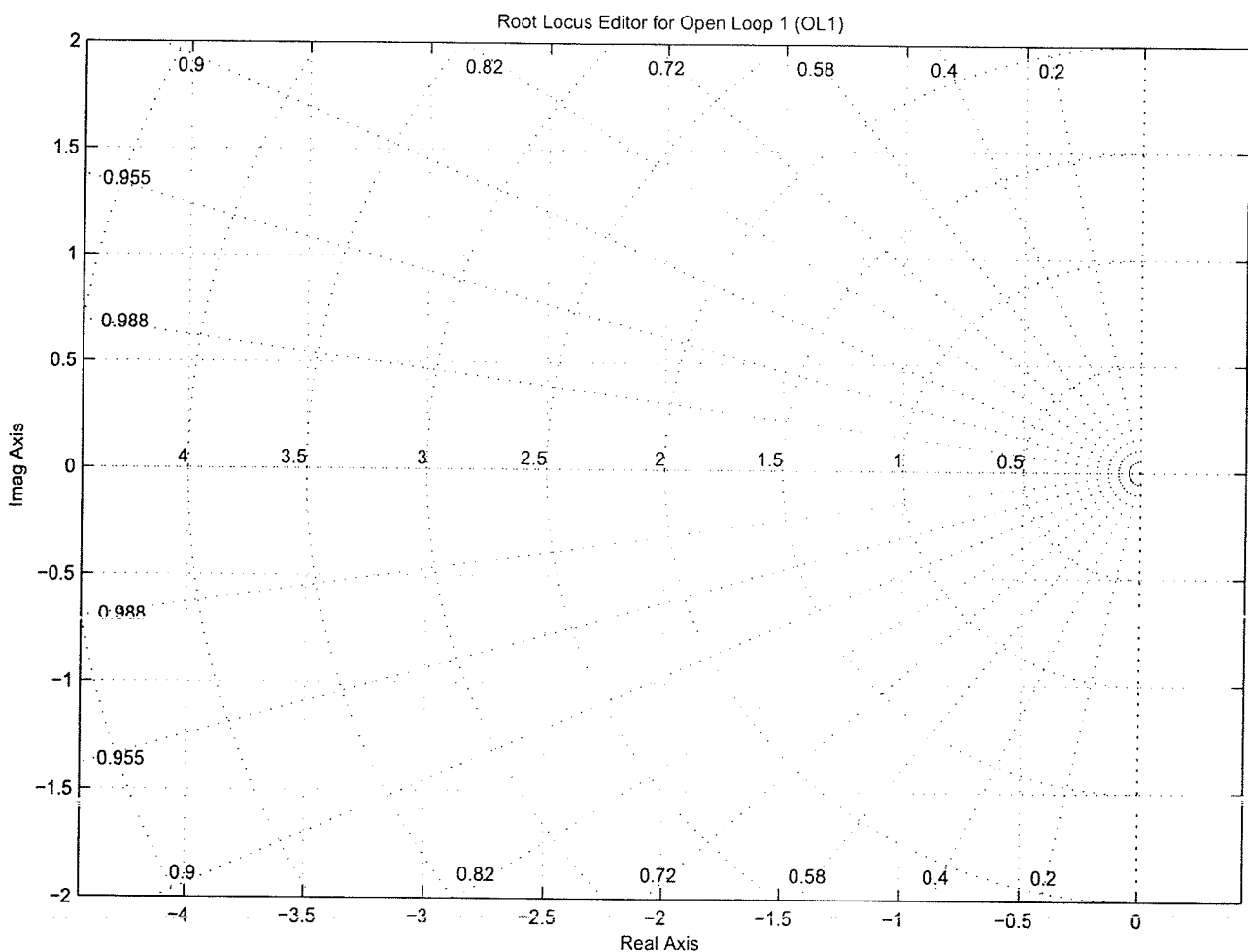
[Q. 3] (3.0pt) Inicialmente, deseja-se projetar um sistema de controle proporcional $H(s) = K_p$.

- (0.5pt) Qual a faixa de valores de K_p em que o sistema é estável ?
- (0.5pt) Utilizando este controlador é possível fazer com que o erro estacionário seja nulo para uma entrada degrau $R(s) = A/s$ e para um distúrbio do tipo degrau $M_D(s) = B/s$?
- (1.0pt) Desenhe o lugar das raízes em função de K_p . Considere $I = 1$.
- (1.0pt) Qual a faixa de valores de K_p que satisfazem as especificações de controle desejadas.

[Q. 4] (3.0pt) Deseja-se agora utilizar um controlador proporcional derivativo $H(s) = (K_p + K_D s)$.

- (0.5pt) Qual a faixa de valores de K_p (em função de K_D e I) em que o sistema é estável ?
- (0.5pt) Utilizando este controlador é possível fazer com que o erro estacionário seja nulo para uma entrada degrau $R(s) = A/s$ e para um distúrbio do tipo degrau $M_D(s) = B/s$?
- (1.0pt) Desenhe o lugar das raízes em função de K_p . Considere $I = 1$ e $K_p/K_D = 1$. Dica: o LR possui uma circunferência.
- (1.0pt) Determine a faixa de valores de K_p e K_D (considerando $K_p/K_D = 1$) que satisfazem as especificações desejadas.

[Q. 5] (2.0pt) Considere agora que haja uma variação paramétrica no momento de inércia $I = [1, 2]$. Determine a faixa de valores de K_p e K_D (considerando $K_p/K_D = 1$) que satisfazem as especificações desejadas.



[Q.1] (1.0pt) Considerando $U(s)$ calcule $\Theta(t)$
 para $u(t) = A$

$$\Theta(s) = \frac{1}{I} \frac{1}{s^2} U(s) \quad U(s) = \frac{A}{s}$$

$$\Theta(s) = \frac{1}{I} \frac{A}{s^3}$$

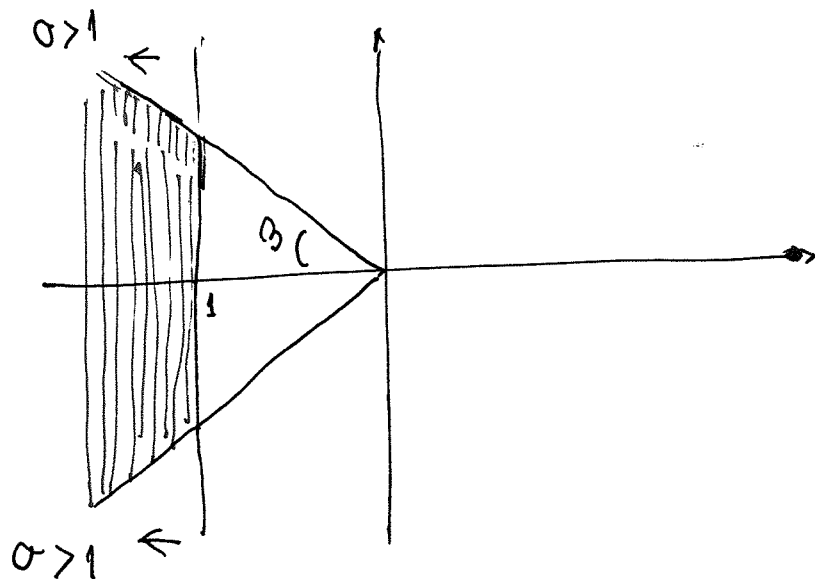
$$f(t) = \frac{1}{2} t^2 \Leftrightarrow F(s) = \frac{1}{s^3}$$

$$\Theta(t) = \frac{A}{I} \frac{1}{2} t^2$$

[Q.2] (1.0pt) O lugar geométrico só depende
 das especificações transitórias

$$t_s < 4 \text{ seg} \Rightarrow |\sigma| > 1$$

$$M_p < 5\% \Rightarrow \beta < 46.37^\circ$$



[Q3] (3.0pt) Controlador Proporcional K_p , $H(s) = K_p$

(a) (0.5pt) Qual a faixa de valores de K_p em que o sistema é estável?

Equação característica $F(s) = 1 + G(s)H(s) = 1 + K_p \cdot \frac{1}{s} \cdot \frac{1}{s^2} =$
 $= \frac{K_p + I s^2}{I s^2} = 0$

$$s^2 = -\frac{K}{I} \Rightarrow s = \pm \sqrt{\frac{K_p}{I}} j$$

raízes imaginárias

Desta forma, para qualquer valor de $K > 0$ o sistema é oscilatório, ou seja, marginalmente estável.

(b) (0.5pt)

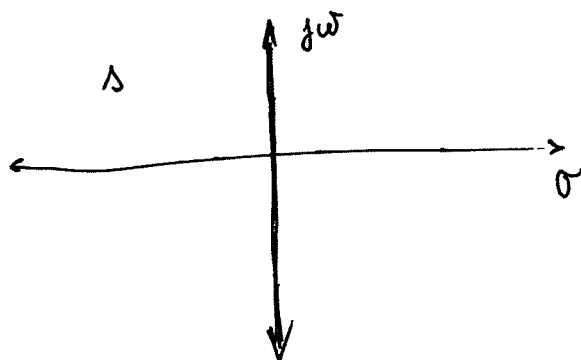
Como o sistema é marginalmente estável a resposta é negativa

(c) (1.0pt)

O Lugar das Raízes pode ser deduzido através da equação deduzida no item (a) $s = \pm \sqrt{\frac{K_p}{I}} j$ com $I = 1$

$$s = \pm \sqrt{K_p} j$$

ou seja, o Lugar das Raízes é o eixo imaginário



(d) (1.0pt) Para qualquer valor de $K_p > 0$ o sistema é marginalmente estável, ou seja, não existe nenhum valor de $K_p > 0$ que satisfaça

[Q4] (3.0 pt) Controlador Proporcional Derivativo

$$H(s) = (K_p + K_D s)$$

(a) (0.5 pt) Faixa de valores de K_p (em função de K_D e I) em que o sistema é estável?

$$F(s) = 1 + G(s)H(s) = 1 + \frac{1}{I} \cdot \frac{1}{s^2} \cdot (K_p + K_D s) = \frac{I s^2 + K_D s + K_p}{I s^2}$$

ou $F(s) = I s^2 + K_D s + K_p$

Tabulação de Routh-Hurwitz

$$s^2 \quad I \quad K_p$$

$$s^1 \quad K_D \quad 0$$

$$s^0 \quad \frac{K_p K_D - I \times 0}{K_D} = \frac{K_p \cdot K_D}{K_D} = K_p \quad 0$$

O critério de Estabilidade de Routh-Hurwitz

estabelece que o número de trocas de sinal na 1ª coluna na tabulação indica ~~que~~ o número de pólos no semi-plano direito

Se $K_p, K_D > 0$ não haverá trocas de sinal na primeira coluna.

Desta forma, o sistema é estável para $K_p, K_D > 0$

(b) (0.5 pt) Erro estacionário nulo para entrada degrau $R(s) = \frac{A}{s}$
 Erro estacionário para ~~entrada~~ distúrbio degrau $\frac{B}{s}$

$$M(s) = \frac{B}{s}$$

• Para $R(s) = \frac{A}{s}$ $E(s) = \frac{1}{1 + G(s)H(s)} \cdot R(s) = \frac{I s^2}{I s^2 + K_D s + K_p}$

$$e_{ss} = \lim_{t \rightarrow \infty} e(t) = \lim_{s \rightarrow 0} s E(s) = \lim_{s \rightarrow 0} s \cdot \frac{I s^2}{I s^2 + K_D s + K_p} \cdot \frac{A}{s} = 0$$

para o distúrbio $M_D(s) = \frac{B}{s}$

$$\Theta(s) = \frac{G(s)}{1 + G(s)H(s)} \quad M_D(s) = \frac{1}{Is^2 + K_Ds + K_P} \cdot M_D(s)$$

$$E(s) = -\Theta(s)$$

$$E(s) = -\frac{1}{Is^2 + K_Ds + K_P} \cdot M_D(s)$$

$$e_{ss} = \lim_{t \rightarrow \infty} e(t) = \lim_{s \rightarrow 0} s E(s) = -s \cdot \frac{1}{Is^2 + K_Ds + K_P} \cdot \frac{B}{s} = -\frac{1}{K_P}$$

não consegue anular o distúrbio

(c) (1.0pt) Lugar das Raízes $I=1, K_P/K_D=1$

O sistema em malha aberta é dado por:

$$G(s)H(s) = \frac{1}{I} \frac{1}{s^2} \cdot (K_P + K_Ds) \quad \text{com } I=1 \quad K_P/K_D=1 \Rightarrow K=K_P=K_D$$

$$G(s)H(s) = \frac{K \cdot 1}{s^2} (1+s) \quad \text{zero } s=-1$$

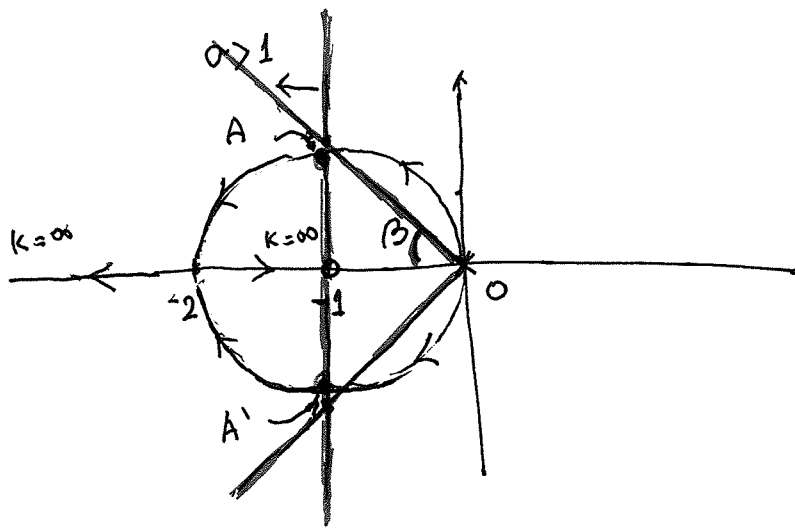
pólos duplos em $s=0$

Os pontos de saída (breakaway point) e de chegada podem ser definidos pela equação $\frac{dK}{ds} = 0$ utilizando a equação característica $F(s) = 1 + G(s)H(s)$

Neste caso $F(s) = 1 + \frac{K}{s^2} (1+s) = 0 \Rightarrow K_P = \frac{-s^2}{s+1} \Rightarrow$

$$\frac{dK}{ds} = \frac{-2s(s+1) + s^2 \cdot 1}{(s+1)^2} = \frac{-2s^2 - 2s + s^2}{(s+1)^2} = \frac{s(2-s)}{(s+1)^2} \Rightarrow$$

Solução $s=0, s=-2$



A circunferência tem centro em -1 e raio $= 1$

d-) (1.0pt) Determine a faixa de valores de K_p e K_D ($K_p = 1$)
que satisfazem as especificações desejadas K_D

Houve um erro na especificação estática dos requisitos de controle já que o controlador PD não consegue anular o erro estático para $M_o(s) = \frac{B}{s}$

Desta forma a resposta: não existe valores de K_p e K_D e a mais correta.

Se for desconsiderado a parte estática

a solução corresponde a valores de K cujo limite inferior são os pontos A e A' na figura acima

Os pontos A e A' correspondem ao cruzamento da reta vertical correspondente a $\sigma = -1$ e a circunferência

$$A \cong -1 + 1j \quad \text{o que corresponde a} \quad K = K_p = K_D \cong 1.97$$

$$A' \cong -1 - 1j$$

ou seja a solução completa seria

$$K = K_p = K_D > 1.97$$

[Q5] (2.0pt) Variação paramétrica $I = [1.0, 2.0]$

Se o valor de I variar o formato do lugar das raízes não varia apenas os valores de K variam

Se for utilizado os requisitos estáticos não haverá obviamente nenhum valor de $K = K_p = K_D$ que satisfaça os requisitos

Se for utilizado somente os requisitos de resposta transitória os pontos que definem o limite inferior de K que satisfaçam os requisitos de resposta transitória são os mesmos pontos A e A'

$$\text{Para } I=1 \Rightarrow K = 1.97$$

$$\text{Para } I=2 \Rightarrow K = 3.94$$

ou seja a solução seria dada por

$$K = K_p = K_D > 3.94$$

|
———h