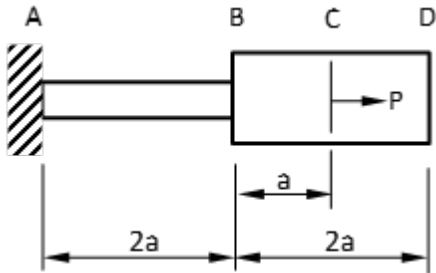




**PME3210 – Mecânica dos Sólidos I – Prova Substitutiva – 11/07/2017**  
**Duração: 100 minutos**

**Não é permitido o uso de equipamentos eletrônicos durante a prova!**

**1ª Questão ( 2,0 pontos )**



A barra reta da figura, engastada em A e livre em D, é formada pela união dos segmentos prismáticos AB, de comprimento  $2a$  e área de seção transversal  $S$ , e BD, de comprimento  $2a$  e área de seção transversal  $4S$ . O material do qual é fabricada possui relação tensão-deformação não-linear dada por  $\sigma = K\epsilon^n$ , onde  $K$  e  $n$  são constantes obtidas experimentalmente. A barra sofre a ação do carregamento  $P$  na seção transversal C. Nessas condições pedem-se:

- o alongamento da barra na extremidade D;
- considerando que a tensão de cisalhamento máxima admissível é  $\tau_a = \frac{3P}{4S}$ , determine o fator de segurança ao cisalhamento nas mesmas condições de carregamento e vinculação.

**Resolução**

(a)

O deslocamento em D será idêntico ao de C, pois a força normal no trecho CD é nula (não há força externa aplicada). Assim:

$$\delta_D = \delta_C$$

Para obter a relação entre o alongamento e a força normal, utilizamos a equação constitutiva não-linear do material:

$$\sigma = K\epsilon^n \rightarrow \frac{N}{A} = K \left( \frac{\delta}{L} \right)^n \rightarrow \delta = \left( \frac{N}{AK} \right)^{\frac{1}{n}} L$$

Utilizando os dados do problema temos:

$$\delta_D = \delta_{AB} + \delta_{BC} = \left( \frac{P}{SK} \right)^{\frac{1}{n}} \cdot 2a + \left( \frac{P}{4SK} \right)^{\frac{1}{n}} \cdot a$$

$$\delta_D = a \cdot \left( \frac{P}{SK} \right)^{\frac{1}{n}} \left[ 2 + \frac{1}{2^{\frac{1}{n}}} \right] \Rightarrow$$

$$\delta_D = a \cdot \left( \frac{P}{SK} \right)^{\frac{1}{n}} \left[ \frac{2^{\frac{n+2}{n}} + 1}{2^{\frac{2}{n}}} \right]$$

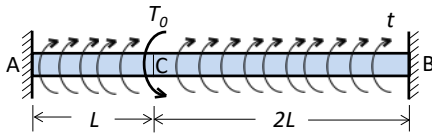
(b)

As máximas tensões de cisalhamento devido a esforços de tração ocorrem em planos a  $45^\circ$  em relação ao eixo da barra (direção longitudinal) e valem  $\frac{\sigma_{max}}{2}$

$$\sigma_{max} = \frac{P}{S} \rightarrow \tau_{max} = \frac{P}{2S}$$
$$f_s = \frac{\tau_a}{\tau_{max}} = \frac{\frac{3P}{4S}}{\frac{P}{2S}} = \frac{3}{2}$$



2ª Questão ( 4,0 pontos )



O eixo prismático da figura é composto por um material com módulo de elasticidade a cisalhamento  $G$  e está engastado em A e em B. O momento polar da seção transversal do eixo em relação ao seu centroide é  $I_P$ . No ponto C do eixo há um torque concentrado aplicado, de magnitude  $T_0$  e sentido indicado na figura. Ao longo do eixo está aplicado um torque uniformemente distribuído, de magnitude  $t = T_0/3L$  e sentido indicado na figura. Pede-se:

- determinar os torques reativos em A e B e
- determinar o ângulo de giro em C.

**Resolução:**

DCL

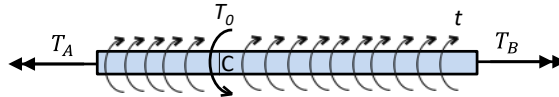
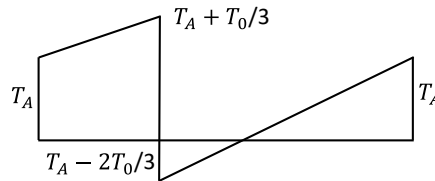


Diagrama de momento de torção:



i) Equilíbrio:

$$\Sigma M = 0 \Rightarrow -T_A + T_0 - t \cdot 3L + T_B = 0$$
$$\Rightarrow T_A = T_B$$

ii) Compatibilidade de giro:

$$\phi_{AC} + \phi_{CB} = 0$$

iii) Relações entre torque e giro:

$$\phi_{AC} = \frac{1}{GI_P} \int_0^L \left( T_A + \frac{T_0}{3L} x \right) dx = \frac{L}{GI_P} \left( T_A + \frac{T_0}{6} \right)$$
$$\phi_{CB} = \frac{1}{GI_P} \int_0^{2L} \left( T_A - \frac{2T_0}{3L} + \frac{T_0}{3L} x \right) dx = \frac{L}{GI_P} \left( 2T_A - \frac{2T_0}{3} \right)$$

Aplicado as relações iii na equação de compatibilidade ii:

$$\Rightarrow T_A + \frac{T_0}{6} + 2T_A - \frac{2T_0}{3} = 0$$



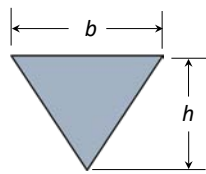
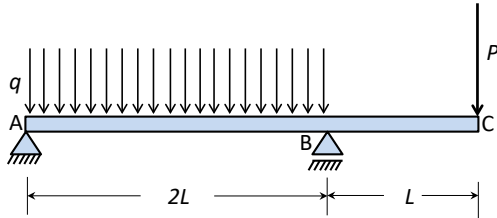
$$\Rightarrow T_A = \frac{T_0}{6} \Rightarrow T_B = \frac{T_0}{6}$$

Aplicando o resultado em uma das relações ii:

$$\phi_c = \phi_{AC} = \frac{L}{GI_p} \left( \frac{T_0}{6} + \frac{T_0}{6} \right) \Rightarrow \phi_c = \frac{T_0 L}{3GI_p}$$

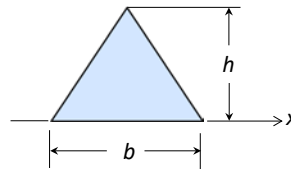


3ª Questão ( 4,0 pontos )



A viga da figura está submetida a uma carga distribuída de intensidade  $q=750\text{N/m}$  no trecho entre a articulação A e o apoio simples B e a uma carga concentrada  $P=150\text{N}$  aplicada à sua extremidade C conforme a figura. A seção transversal dessa viga é um triângulo isósceles de base  $b=4\text{cm}$  e altura  $h=3\text{cm}$ . O comprimento total da barra é  $3L$ , sendo  $L=1\text{m}$ . Sabendo que a tensão admissível do material à tração é  $\sigma_t = 400\text{MPa}$  e a tensão admissível à compressão é  $\sigma_c = 300\text{MPa}$ , pede-se determinar o fator de segurança.

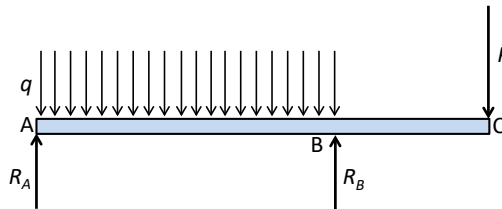
Dados:



$$I_x = \frac{bh^3}{12}$$

**Resolução:**

DCL:



Equilíbrio:

$$\begin{aligned}\Sigma F_v = 0 &\Rightarrow R_A + R_B = 2qL + P \\ \Sigma M_B = 0 &\Rightarrow -R_A 2L + q 2L^2 - PL = 0 \\ &\Rightarrow R_A = qL - \frac{P}{2} \Rightarrow R_B = qL + \frac{3P}{2} \\ &\Rightarrow R_A = 675\text{N} \Rightarrow R_B = 975\text{N}\end{aligned}$$

Os pontos em que podem ocorrer máximos locais do módulo do momento fletor são o ponto B e o ponto do trecho AB em que a cortante é nula e chamaremos de D. Vamos calcular o momento fletor apenas nesses pontos:

$$M_B = -PL = -150\text{Nm}$$

A força cortante em um ponto genérico do trecho AB é dada por:

$$V(x) = R_A - qx$$



Então:

$$V(x) = 0 \Rightarrow x = \frac{R_A}{q} \Rightarrow x = 0,9$$

e, assim,

$$M_D = 0,9R_A - q \frac{0,9^2}{2}$$
$$\Rightarrow M_D = 303,75 \text{ Nm}$$

Para calcular as tensões é necessário, primeiro, calcular o momento de inércia em relação ao eixo horizontal que passa pelo centroide. Como a coordenada vertical do centroide em relação à face superior da seção é  $h/3$ , então, pelo teorema dos eixos paralelos,

$$I = \frac{bh^3}{12} - \frac{bh}{2} \times \left(\frac{h}{3}\right)^2 = \frac{bh^3}{36}$$

$$I = 3 \text{ cm}^4 = 3 \times 10^{-8} \text{ m}^4$$

Na seção  $D$  o momento fletor é positivo, então a máxima tensão de compressão ocorrerá na face superior e será:

$$\sigma = \frac{M_D h}{I \cdot 3} = \frac{303,75 \times 10^{-2}}{3 \times 10^{-8}} \times 10^{-6} = 101,25 \text{ MPa}$$

que corresponde a um fator de segurança:

$$FS_1 = \frac{\sigma_C}{\sigma} = \frac{300}{101,25} \cong 3$$

e a máxima tensão de tração ocorrerá na base:

$$\sigma = \frac{M_D 2h}{I \cdot 3} = \frac{303,75 \times 2 \times 10^{-2}}{3 \times 10^{-8}} \times 10^{-6} = 202,5 \text{ MPa}$$

que corresponde a um fator de segurança:

$$FS_2 = \frac{\sigma_t}{\sigma} = \frac{400}{202,5} \cong 2$$

Já na seção  $B$  o momento fletor é negativo, então a máxima tensão de compressão ocorrerá na base e será:

$$\sigma = \frac{M_B 2h}{I \cdot 3} = \frac{150 \times 2 \times 10^{-2}}{3 \times 10^{-8}} \times 10^{-6} = 100 \text{ MPa}$$



que corresponde a um fator de segurança:

$$FS_3 = \frac{\sigma_c}{\sigma} = \frac{300}{100} = 3$$

e a máxima tensão de tração ocorrerá na face superior:

$$\sigma = \frac{M_B h}{I} = \frac{150 \times 10^{-2}}{3 \times 10^{-8}} \times 10^{-6} = 50 \text{ MPa}$$

que corresponde a um fator de segurança:

$$FS_4 = \frac{\sigma_t}{\sigma} = \frac{400}{50} = 8$$

O fator de segurança da estrutura será o menor valor encontrado. Portanto:

$$FS \cong 2$$