

SMA0300-Geometria Analítica - Aula 6

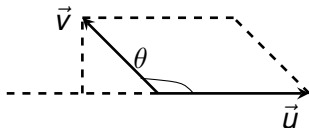
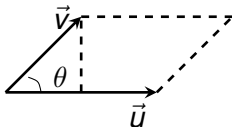
Roberta Wik Atique

Produto Vetorial

Definição: O produto vetorial de \vec{u} por \vec{v} é o vetor, indicado por $\vec{u} \wedge \vec{v}$, tal que:

- 1 Se (\vec{u}, \vec{v}) é LD então $\vec{u} \wedge \vec{v} = \vec{0}$.
- 2 Se (\vec{u}, \vec{v}) é LI e θ é a medida angular entre \vec{u} e \vec{v} então
 - a **Módulo:** $\|\vec{u} \wedge \vec{v}\| = \|\vec{u}\| \|\vec{v}\| \sin \theta$,
 - b **Direção:** $\vec{u} \wedge \vec{v}$ é ortogonal a \vec{u} e a \vec{v} ,
 - c **Sentido:** $(\vec{u}, \vec{v}, \vec{u} \wedge \vec{v})$ é uma base positiva.

Observação 1: Caso (\vec{u}, \vec{v}) LI: considere o paralelogramo $ABCD$ onde $\vec{u} = \overrightarrow{AB}$ e $\vec{v} = \overrightarrow{AC}$. Então $\|\vec{u} \wedge \vec{v}\|$ é a área do paralelogramo. De fato, $\|\vec{u}\|$ é a base e se θ for um ângulo agudo $\|\vec{v}\| \sin \theta$ é a altura. Se θ for um ângulo obtuso $\|\vec{v}\| \sin(\pi - \theta) = \|\vec{v}\| \sin \theta$ é a altura.

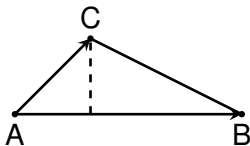


Observação 2: Se (\vec{u}, \vec{v}) LI então $\vec{u} \wedge \vec{v} \neq \vec{0}$ (por que?). Logo

$$\vec{u} \wedge \vec{v} = \vec{0} \Leftrightarrow (\vec{u}, \vec{v}) \text{ é LD}$$

Observação 3: Seja h a altura do triângulo ABC relativa ao lado AB . Então

$$h = \frac{\|\vec{AB} \wedge \vec{AC}\|}{\|\vec{AB}\|}$$



De fato, $\frac{\|\vec{AB} \wedge \vec{AC}\|}{2} = \frac{\|\vec{AB}\| h}{2}$.

Exercício 1: O triângulo ABC tem área 4. Sendo $\vec{u} = \overrightarrow{AB}$ e $\vec{v} = \overrightarrow{AC}$, calcule $\|\vec{u} \wedge \vec{v}\|$.

Exercício 2: Seja E uma base ortonormal. A medida angular entre os vetores unitários \vec{u} e \vec{v} é $\pi/6$ e $\vec{u} \wedge \vec{v}$ e $(2, 2, 1)_E$ são de mesmo sentido. Determine as coordenadas de $\vec{u} \wedge \vec{v}$ na base E .

$$\vec{u} \wedge \vec{v} = \alpha(2, 2, 1) = (2\alpha, 2\alpha, \alpha)$$

$$\|\vec{u} \wedge \vec{v}\| = \|\vec{u}\| \|\vec{v}\| \sin(\pi/6) = \frac{1}{2}$$

$$\frac{1}{2} = \sqrt{4\alpha^2 + 4\alpha^2 + \alpha^2} = 3|\alpha|$$

Portanto $\alpha = \pm 1/6$. Como $\vec{u} \wedge \vec{v}$ e $(2, 2, 1)_E$ são de mesmo sentido, $\alpha = 1/6$ e $\vec{u} \wedge \vec{v} = (1/3, 1/3, 1/6)_E$.

Proposição: Seja $B = (\vec{i}, \vec{j}, \vec{k})$ uma base ortonormal positiva. Se $\vec{u} = (x_1, y_1, z_1)_B$ e $\vec{v} = (x_2, y_2, z_2)_B$ então

$$\vec{u} \wedge \vec{v} = (y_1 z_2 - y_2 z_1, x_2 z_1 - x_1 z_2, x_1 y_2 - x_2 y_1)$$

Para decorar:

$$\vec{u} \wedge \vec{v} = \det \begin{pmatrix} \vec{i} & \vec{j} & \vec{k} \\ x_1 & y_1 & z_1 \\ x_2 & y_2 & z_2 \end{pmatrix}$$

Seja $\vec{w} = (y_1 z_2 - y_2 z_1, x_2 z_1 - x_1 z_2, x_1 y_2 - x_2 y_1)$.

Prova:

- 1 Caso (\vec{u}, \vec{v}) LD. Então (x_1, y_1, z_1) e (x_2, y_2, z_2) são proporcionais e o determinante acima é nulo.
- 2 Caso (\vec{u}, \vec{v}) LI.

a Seja θ medida angular entre \vec{u} e \vec{v} .

$$1 = \sin^2 \theta + \cos^2 \theta = \frac{\|\vec{u} \wedge \vec{v}\|^2}{\|\vec{u}\|^2 \|\vec{v}\|^2} + \frac{(\vec{u} \cdot \vec{v})^2}{\|\vec{u}\|^2 \|\vec{v}\|^2}.$$

$$\|\vec{u} \wedge \vec{v}\|^2 + (\vec{u} \cdot \vec{v})^2 = \|\vec{u}\|^2 \|\vec{v}\|^2.$$

$$\begin{aligned} \|\vec{u} \wedge \vec{v}\|^2 &= (x_1^2 + y_1^2 + z_1^2)(x_2^2 + y_2^2 + z_2^2) - (x_1 x_2 + y_1 y_2 + z_1 z_2)^2 \\ &= x_1^2 y_2^2 + x_1^2 z_2^2 + y_1^2 x_2^2 + y_1^2 z_2^2 + z_1^2 x_2^2 + z_1^2 y_2^2 - 2x_1 x_2 y_1 y_2 - \\ &\quad - 2x_1 x_2 z_1 z_2 - 2y_1 y_2 z_1 z_2. \end{aligned}$$

$$= (x_1 y_2 - x_2 y_1)^2 + (x_1 z_2 - x_2 z_1)^2 + (y_1 z_2 - y_2 z_1)^2$$

$$= \|(y_1 z_2 - y_2 z_1, x_2 z_1 - x_1 z_2, x_1 y_2 - x_2 y_1)\|^2 = \|\vec{w}\|^2.$$

b $(y_1z_2 - y_2z_1, x_2z_1 - x_1z_2, x_1y_2 - x_2y_1) \cdot (x_1, y_1, z_1) =$
 $x_1y_1z_2 - x_1y_2z_1 + y_1x_2z_1 - y_1x_1z_2 + z_1x_1y_2 - z_1x_2y_1 = 0.$

$(y_1z_2 - y_2z_1, x_2z_1 - x_1z_2, x_1y_2 - x_2y_1) \cdot (x_2, y_2, z_2) = 0.$

c Seja $E = (\vec{u}, \vec{v}, \vec{w})$.

$$M_{BE} = \begin{pmatrix} x_1 & x_2 & y_1z_2 - y_2z_1 \\ y_1 & y_2 & x_2z_1 - x_1z_2 \\ z_1 & z_2 & x_1y_2 - x_2y_1 \end{pmatrix}$$

$$\det M_{BE} = (y_1z_2 - y_2z_1) \begin{vmatrix} y_1 & y_2 \\ z_1 & z_2 \end{vmatrix} -$$

$$(x_2z_1 - x_1z_2) \begin{vmatrix} x_1 & x_2 \\ z_1 & z_2 \end{vmatrix} + (x_1y_2 - x_2y_1) \begin{vmatrix} x_1 & x_2 \\ y_1 & y_2 \end{vmatrix}$$

$$= (y_1z_2 - y_2z_1)^2 + (x_1z_2 - x_2z_1)^2 + (x_1y_2 - x_2y_1)^2 > 0.$$

Portanto E é base positiva.

Exercício: Calcule $\vec{u} \wedge \vec{v}$ onde $\vec{u} = (6, -2, -4)$ e $\vec{v} = (1, -2, 1)$.

$$\vec{u} \wedge \vec{v} = \begin{vmatrix} \vec{i} & \vec{j} & \vec{k} \\ 6 & -2 & -4 \\ 1 & -2 & 1 \end{vmatrix} = \vec{i} \begin{vmatrix} -2 & -4 \\ -2 & 1 \end{vmatrix} - \vec{j} \begin{vmatrix} 6 & -4 \\ 1 & 1 \end{vmatrix} + \vec{k} \begin{vmatrix} 6 & -2 \\ 1 & -2 \end{vmatrix}$$

$$\vec{u} \wedge \vec{v} = -10\vec{i} - 10\vec{j} - 10\vec{k} = (-10, -10, -10)$$

Proposição: Sejam $\vec{u}, \vec{v}, \vec{w} \in V^3$ e $\lambda \in \mathbb{R}$.

a $\vec{u} \wedge \vec{v} = -\vec{v} \wedge \vec{u}$.

b $\vec{u} \wedge (\lambda \vec{v}) = (\lambda \vec{u}) \wedge \vec{v} = \lambda(\vec{u} \wedge \vec{v})$.

c $\vec{u} \wedge (\vec{v} + \vec{w}) = \vec{u} \wedge \vec{v} + \vec{u} \wedge \vec{w}$.

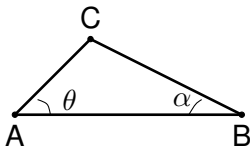
d $(\vec{u} + \vec{v}) \wedge \vec{w} = \vec{u} \wedge \vec{w} + \vec{v} \wedge \vec{w}$

Exercício 1: Prove que se (\vec{u}, \vec{v}) é LI e $\vec{w} \wedge \vec{u} = \vec{w} \wedge \vec{v} = \vec{0}$ então $\vec{w} = \vec{0}$.

Vimos na observação 2 que $\vec{w} \wedge \vec{u} = \vec{0} \Leftrightarrow (\vec{w}, \vec{u})$ é LD.

Analogamente, (\vec{w}, \vec{v}) é LD. Assim \vec{w} é um vetor paralelo a \vec{u} e a \vec{v} . Observe que $\vec{u} \neq \vec{0}$ e $\vec{v} \neq \vec{0}$. Se $\vec{w} \neq \vec{0}$ então teremos 3 vetores não nulos e paralelos entre si, logo (\vec{u}, \vec{v}) é LD, contrariando a hipótese.

Exercício 2: Demonstre a lei dos senos, segunda a qual, em qualquer triângulo, são iguais as razões entre os senos dos ângulos internos e as medidas dos respectivos lados opostos.



$$\|\vec{AB} \wedge \vec{AC}\| = \|\vec{AB}\| \|\vec{AC}\| \sin \theta$$

$$\|\vec{BA} \wedge \vec{BC}\| = \|\vec{BA}\| \|\vec{BC}\| \sin \alpha$$

$$\vec{BA} \wedge \vec{BC} = \vec{BA} \wedge (\vec{BA} + \vec{AC}) = \vec{BA} \wedge \vec{BA} + \vec{BA} \wedge \vec{AC} = -\vec{AB} \wedge \vec{AC}$$

$$\|\vec{AB}\| \|\vec{AC}\| \sin \theta = \|\vec{BA}\| \|\vec{BC}\| \sin \alpha$$

$$\frac{\sin \theta}{\|\vec{BC}\|} = \frac{\sin \alpha}{\|\vec{AC}\|}$$