

ACH2043

INTRODUÇÃO À TEORIA DA COMPUTAÇÃO

Aula 5

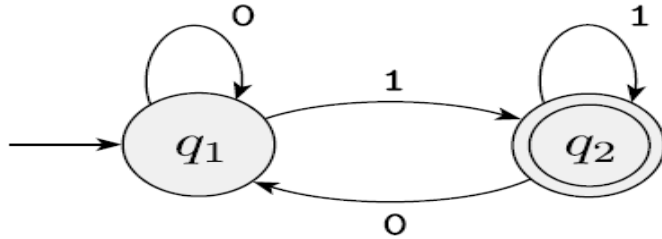
Equivalência entre AFNs e AFDs

Profa. Ariane Machado Lima
ariane.machado@usp.br

Aula passada

Aulas passadas

AFD

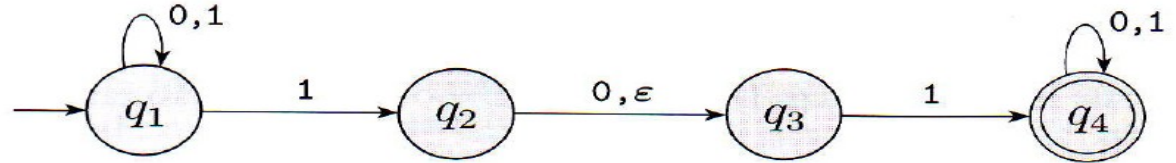


Para cada par (estado atual, próximo símbolo) está DETERMINADO qual é o próximo estado

Um *autômato finito* é uma 5-upla $(Q, \Sigma, \delta, q_0, F)$, onde

1. Q é um conjunto finito conhecido como os *estados*,
2. Σ é um conjunto finito chamado o *alfabeto*,
3. $\delta: Q \times \Sigma \rightarrow Q$ é a *função de transição*,¹
4. $q_0 \in Q$ é o *estado inicial*, e
5. $F \subseteq Q$ é o *conjunto de estados de aceitação*.²

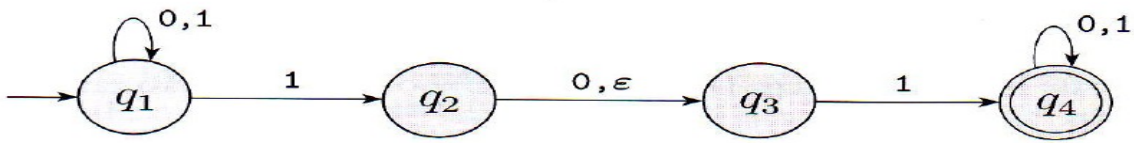
AFN



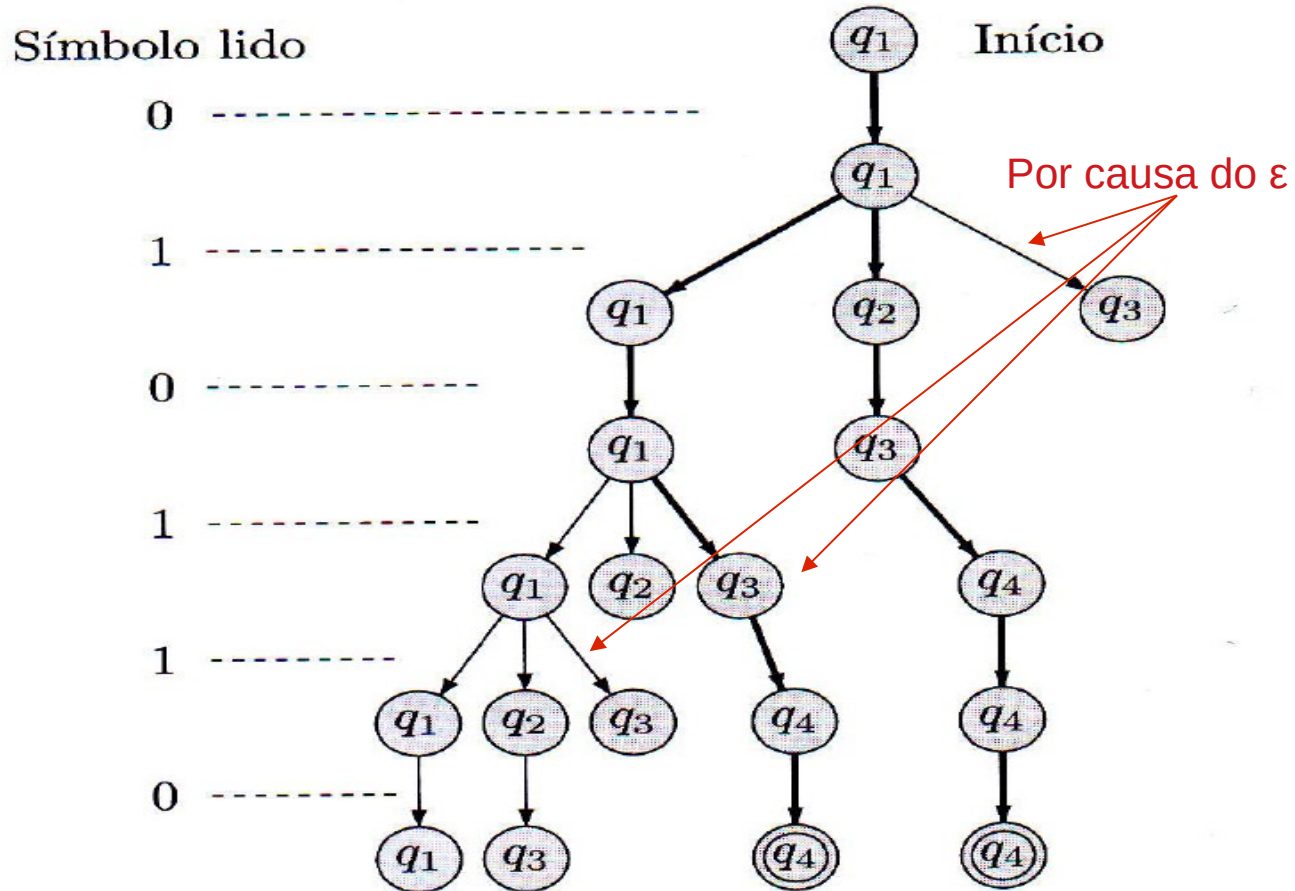
Para cada par (estado atual, próximo símbolo – incluindo ϵ) há um conjunto de estados possíveis

Um *autômato finito não-determinístico* é uma 5-upla $(Q, \Sigma, \delta, q_0, F)$, onde

1. Q é um conjunto finito de estados,
2. Σ é um alfabeto finito,
3. $\delta: Q \times \Sigma_\epsilon \rightarrow \mathcal{P}(Q)$ é a função de transição,
4. $q_0 \in Q$ é o estado inicial, e
5. $F \subseteq Q$ é o conjunto de estados de aceitação.



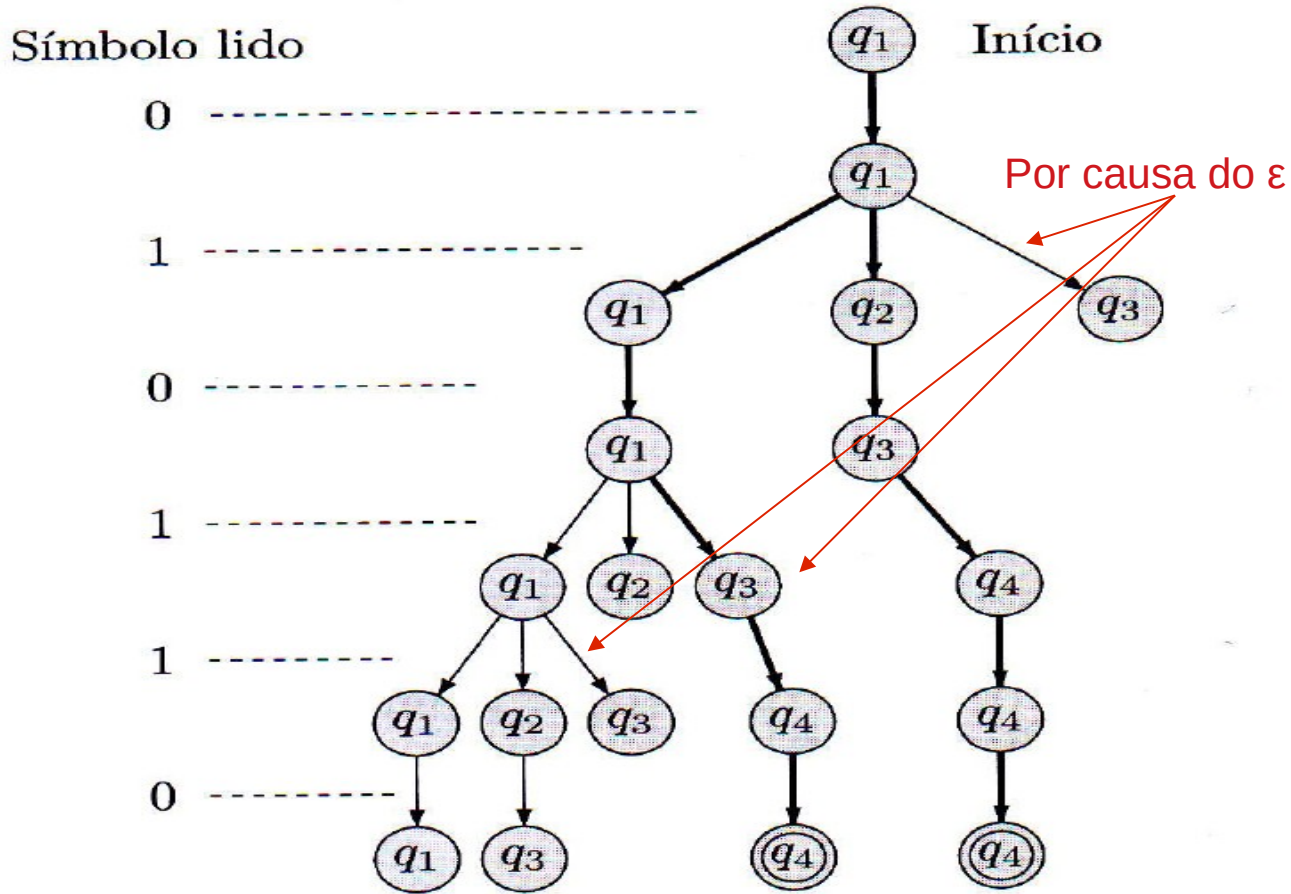
Essa cadeia
010110 é
aceita por
esse AFN ?



Qual a complexidade (tempo) de análise de uma cadeia por um **AFN**?

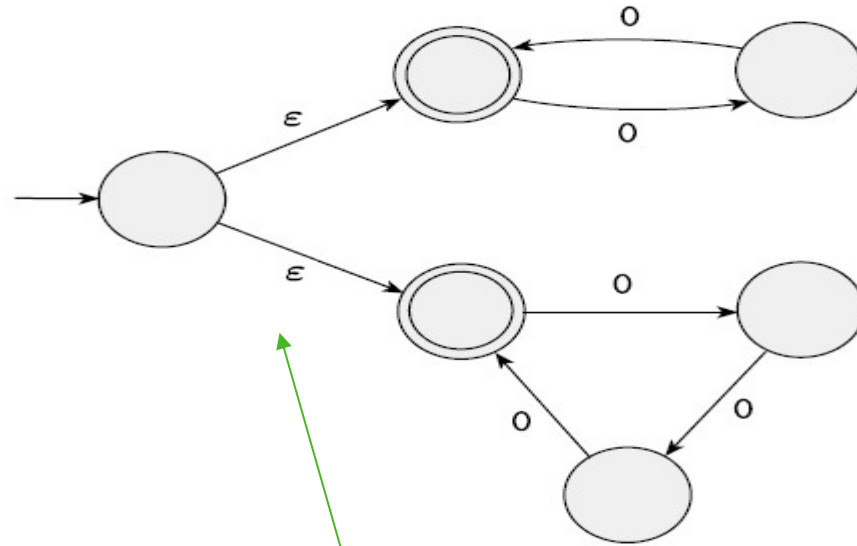
$O(n * |Q|)$

Cada “nó” dessa árvore poderia ter no máximo $|Q|$ filhos, e poderíamos descartar nós repetidos em um mesmo nível



Exercício

- Desenhe um AFN para a linguagem formada por sequências formadas apenas por zeros, mas que contenham o nr de zeros sendo um múltiplo de 2 **ou** múltiplo de 3



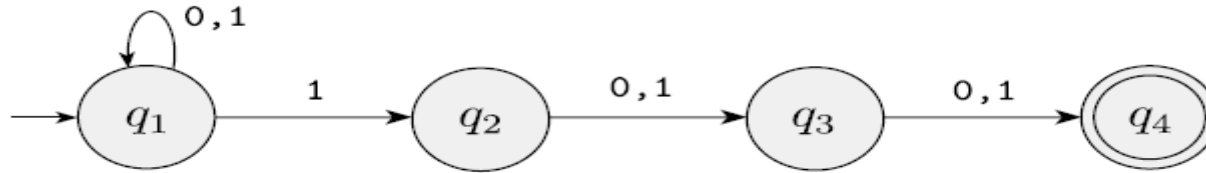
$$L = \{w \mid w \in 0^* \text{ e } |w| = 2 \cdot i, i = 0, 1, \dots\} \cup \{w \mid w \in 0^* \text{ e } |w| = 3 \cdot i, i = 0, 1, \dots\}$$

Exercícios

- 1) Desenhe um AFN para a linguagem formada por sequências binárias que contenham 1 na antepenúltima posição

Exercícios

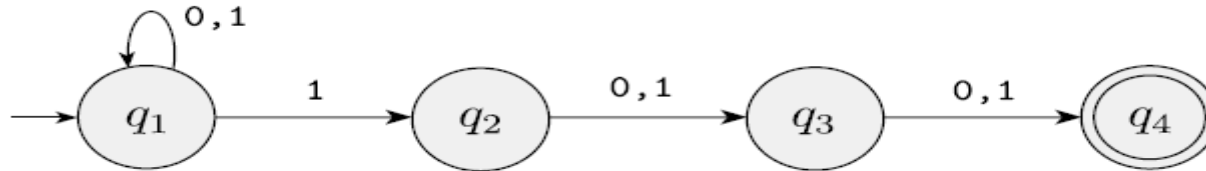
- 1) Desenhe um AFN para a linguagem formada por sequências binárias que contenham 1 na antepenúltima posição



Onde está o não determinismo?

Exercícios

- 1) Desenhe um AFN para a linguagem formada por sequências binárias que contenham 1 na antepenúltima posição



Onde está o não determinismo?

q1 tem duas opções de próximo estado se ler o símbolo "1"

* : 0 ou mais vezes

+ : 1 ou mais vezes

Ex: $1^*(001^+)^*$

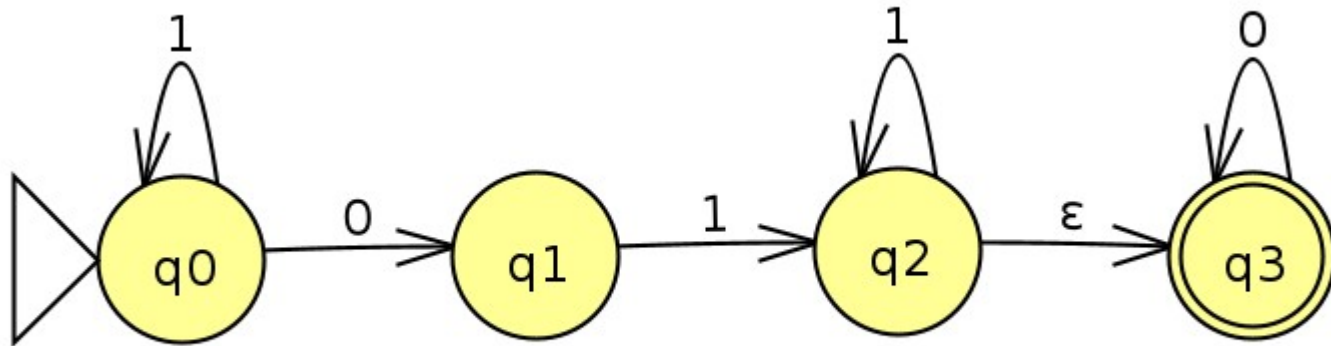
Exercícios

2) Desenhe o diagrama de estados de um AFN que reconheça a linguagem $1^*01^+0^*$

* : 0 ou mais vezes
+ : 1 ou mais vezes
Ex: $1^*(001^+)^*$

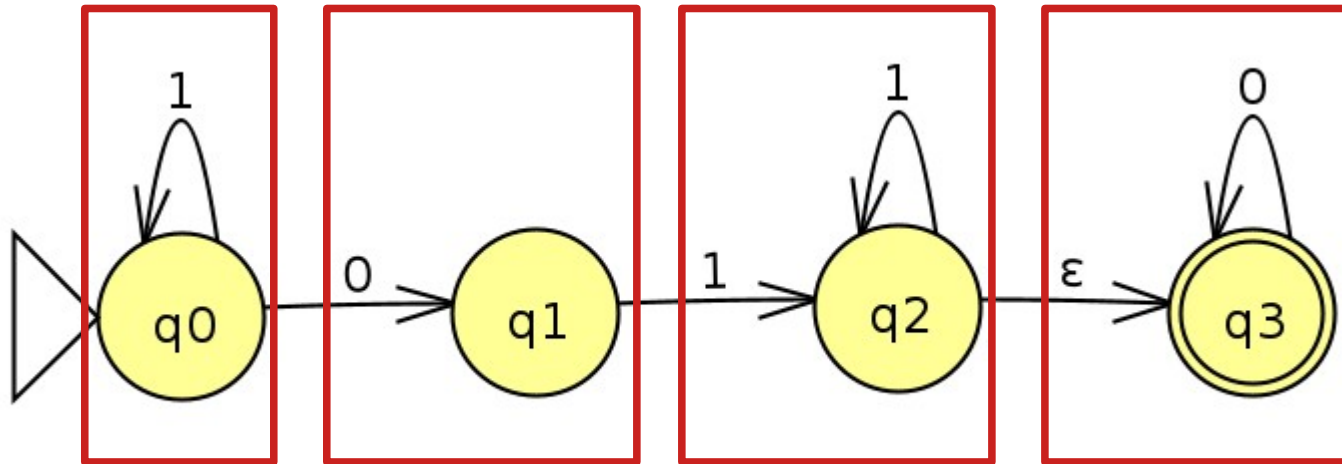
Exercícios

2) Desenhe o diagrama de estados de um AFN que reconheça a linguagem $1^*01^+0^*$



Exercícios

2) Desenhe o diagrama de estados de um AFN que reconheça a linguagem $1^*01^+0^*$



1^* (no
estado
inicial)

0

1^+

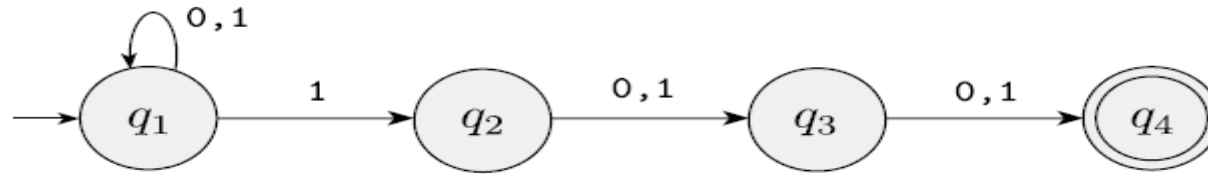
0^*

Aula de Hoje

- Equivalência entre AFDs e AFNs
- Fechamentos de linguagens regulares

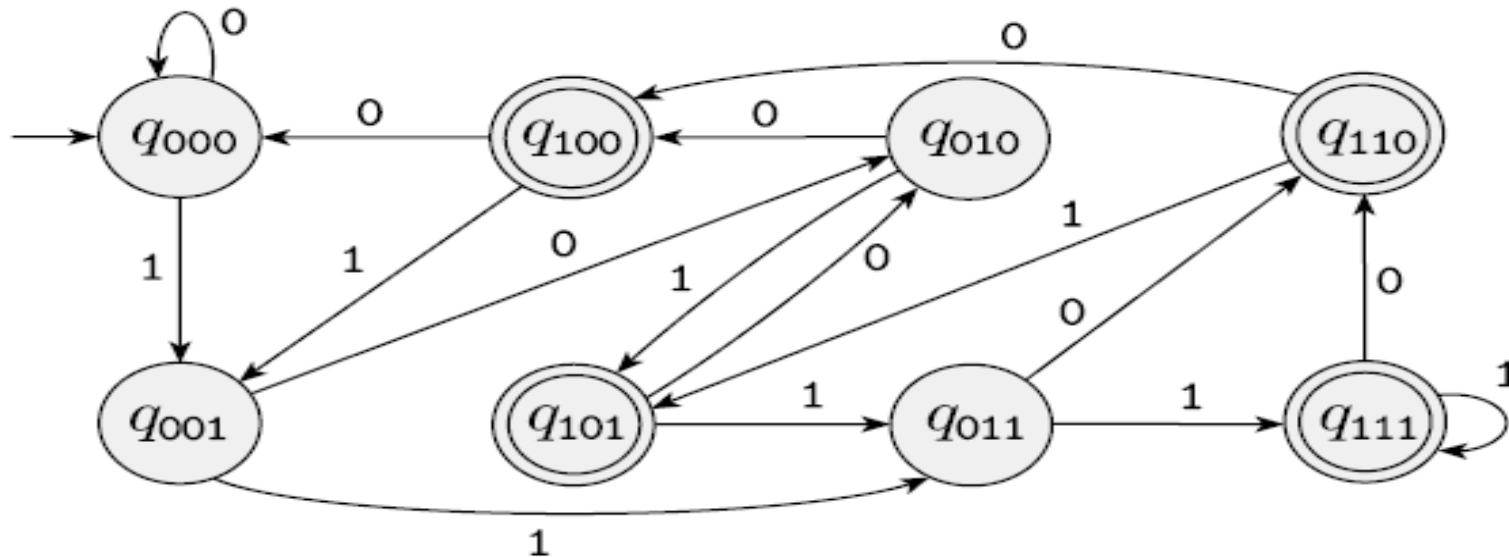
Exercício da aula passada

- Desenhe um AFN para a linguagem formada por sequências binárias que contenham 1 na antepenúltima posição



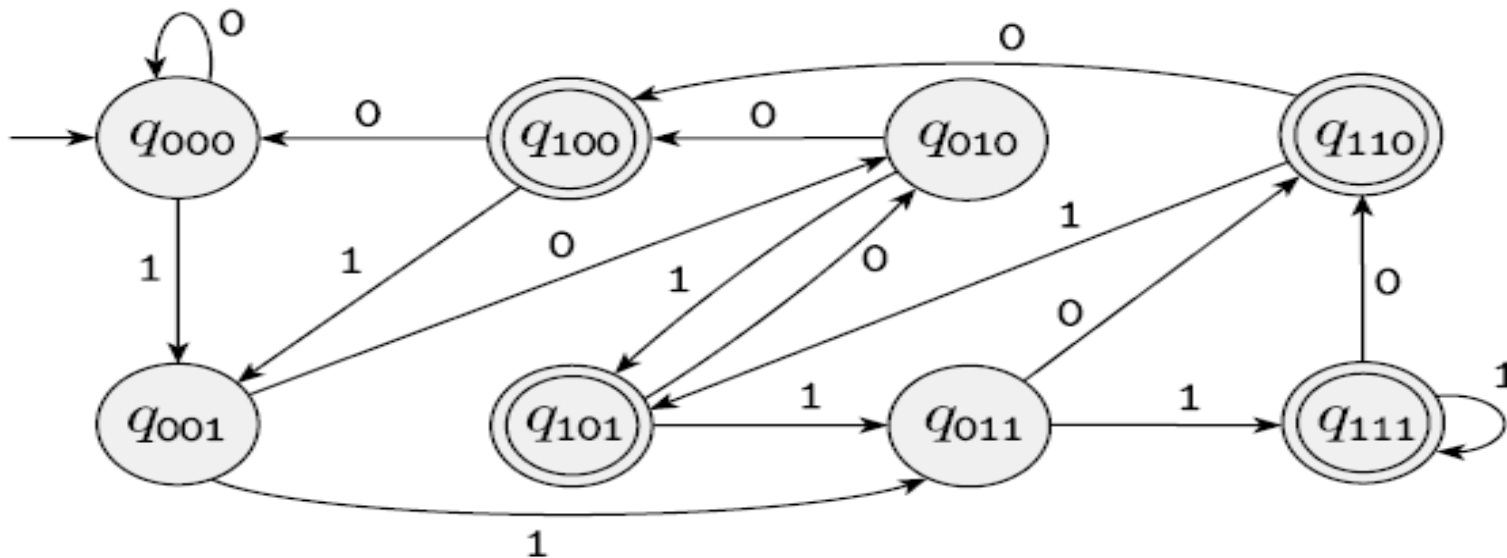
Daria para escrever um **AFD** para essa linguagem? (sequências binárias que contenham 1 na antepenúltima posição)

Daria para escrever um **AFD** para essa linguagem? (sequências binárias que contenham 1 na antepenúltima posição)



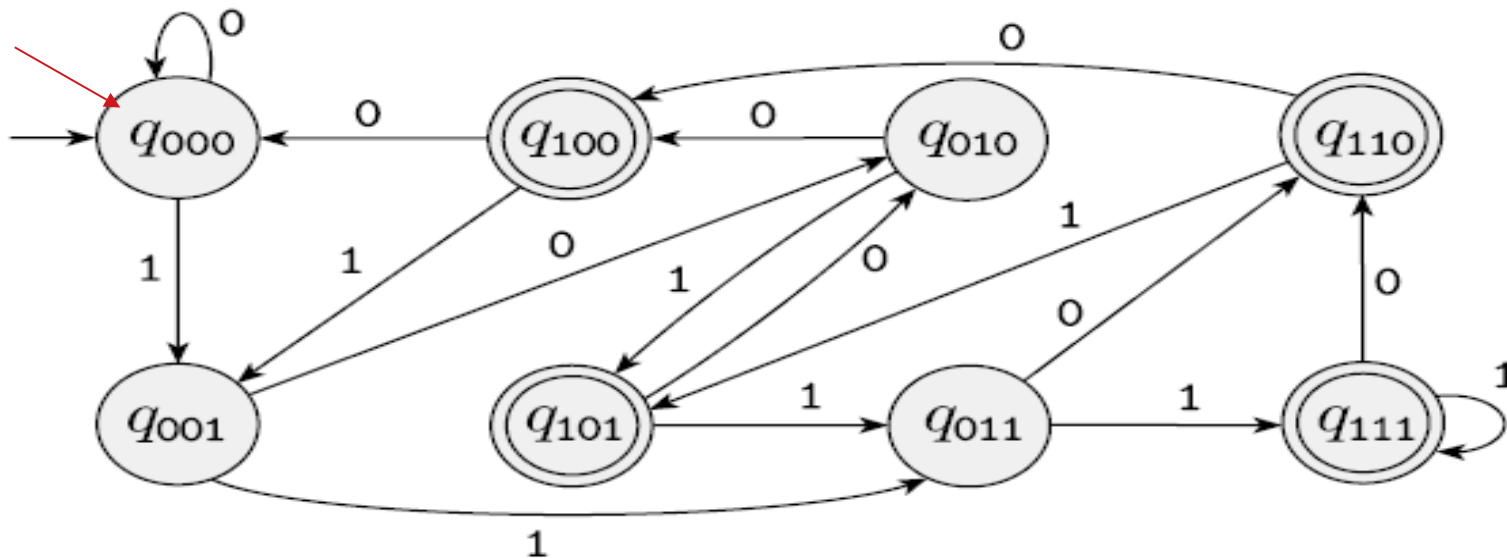
Daria para escrever um **AFD** para essa linguagem? (sequências binárias que contenham 1 na antepenúltima posição)

Ex: 010111



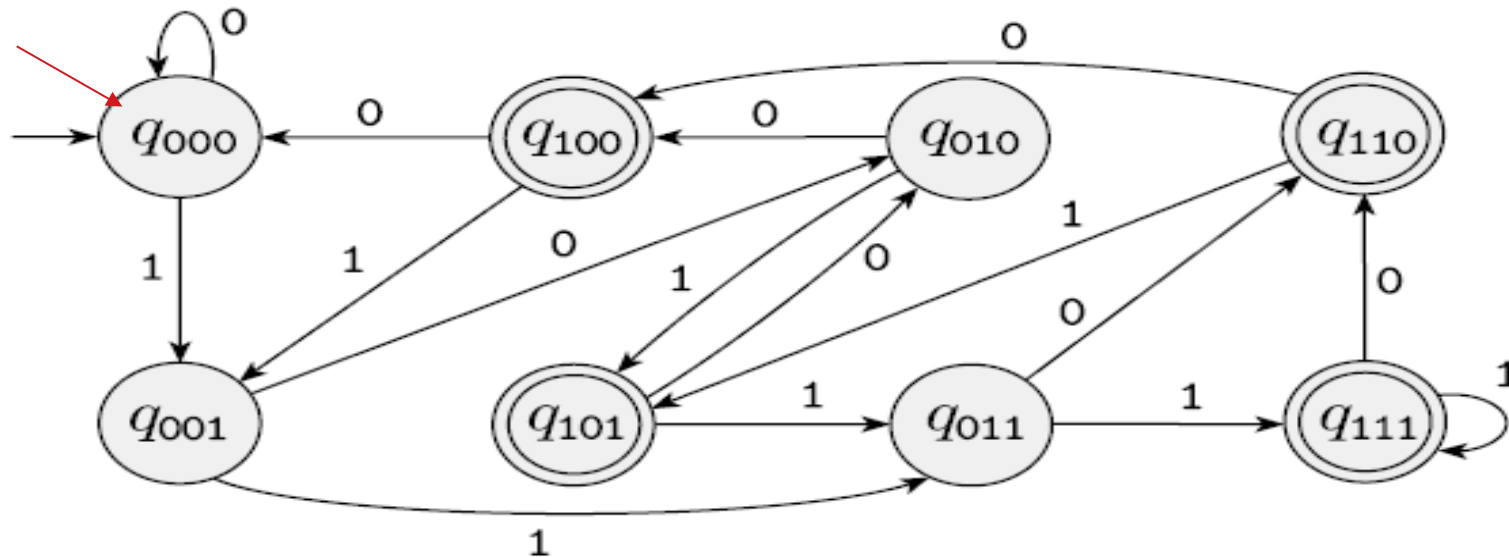
Daria para escrever um **AFD** para essa linguagem? (sequências binárias que contenham 1 na antepenúltima posição)

Ex: 010111



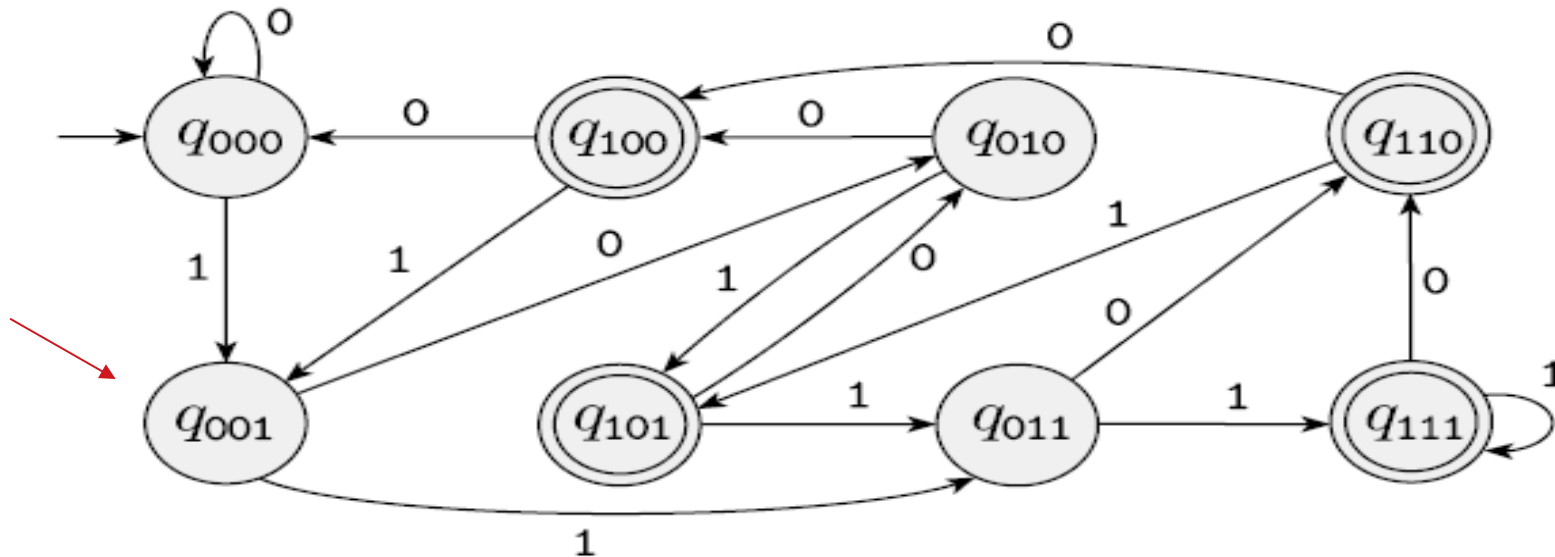
Daria para escrever um **AFD** para essa linguagem? (sequências binárias que contenham 1 na antepenúltima posição)

Ex: 010111



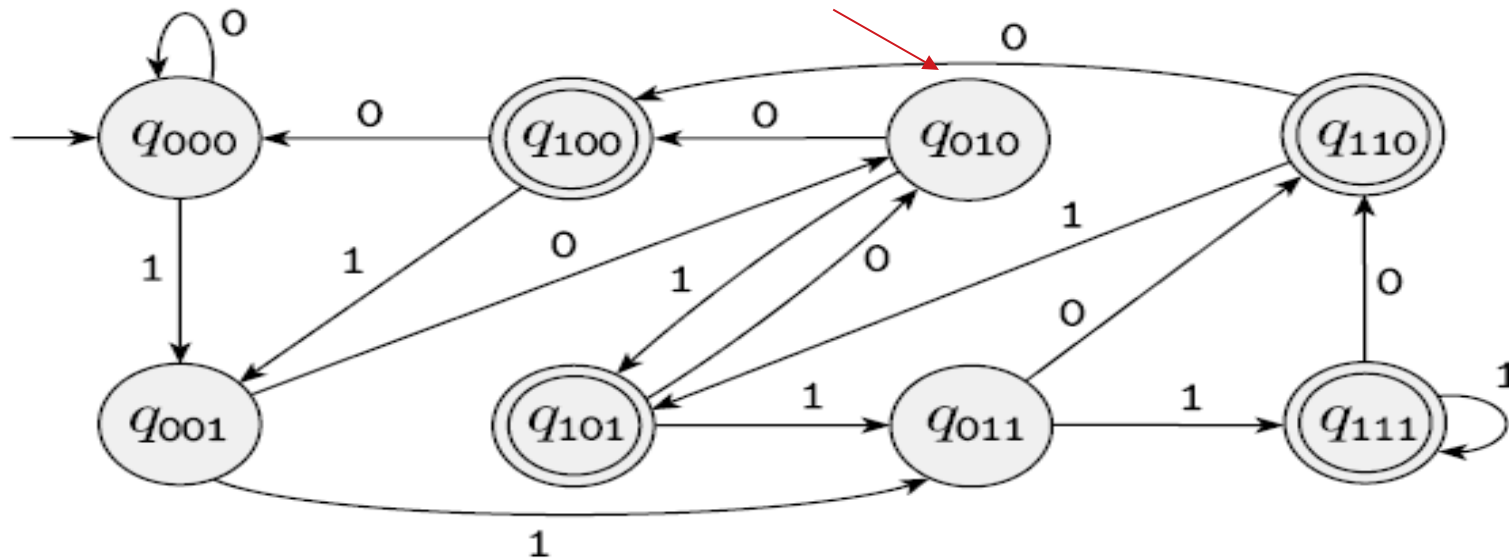
Daria para escrever um **AFD** para essa linguagem? (sequências binárias que contenham 1 na antepenúltima posição)

Ex: 010111



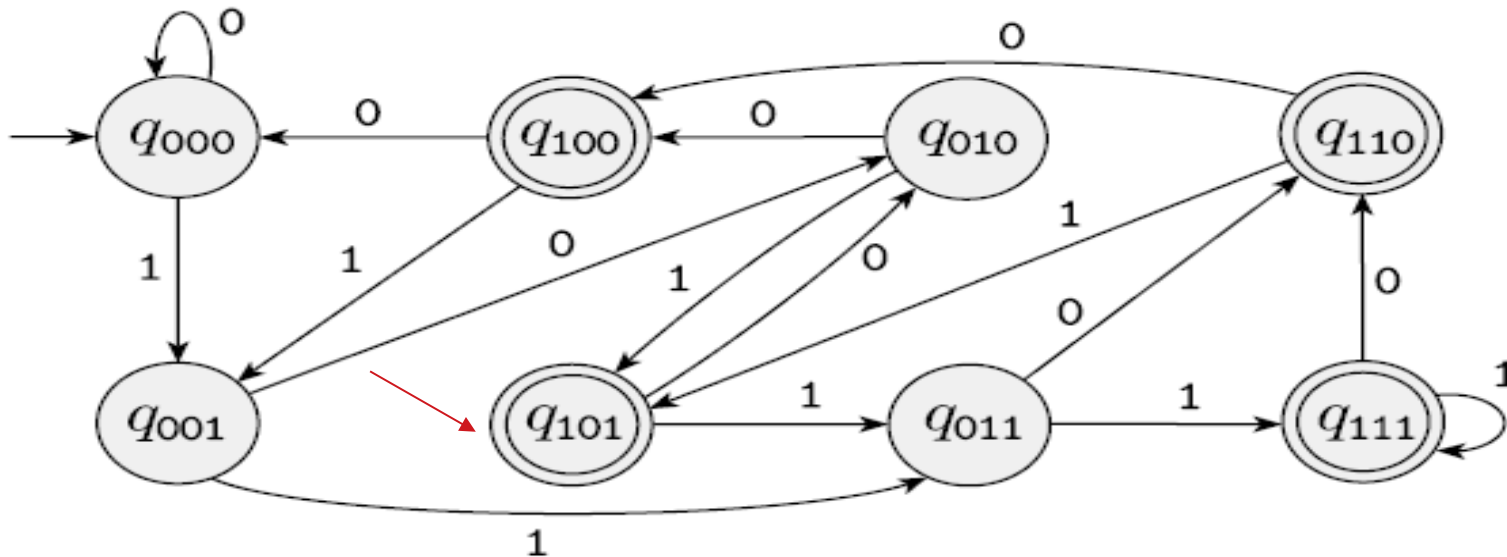
Daria para escrever um **AFD** para essa linguagem? (sequências binárias que contenham 1 na antepenúltima posição)

Ex: 010111



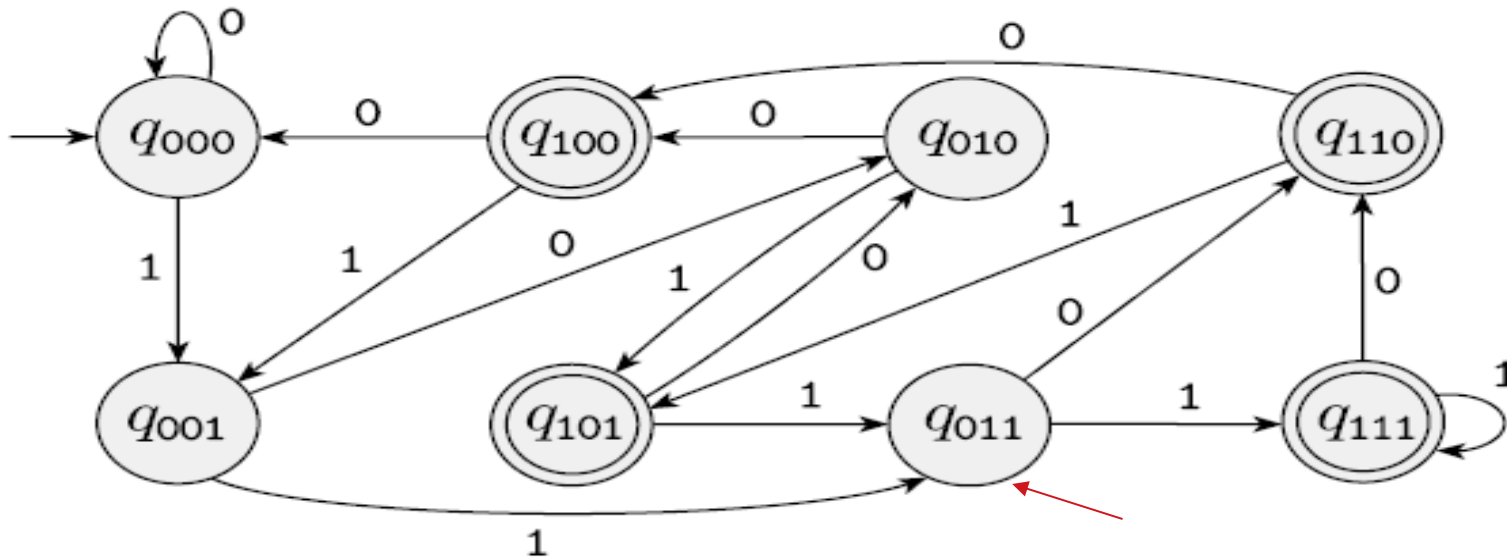
Daria para escrever um **AFD** para essa linguagem? (sequências binárias que contenham 1 na antepenúltima posição)

Ex: 010111



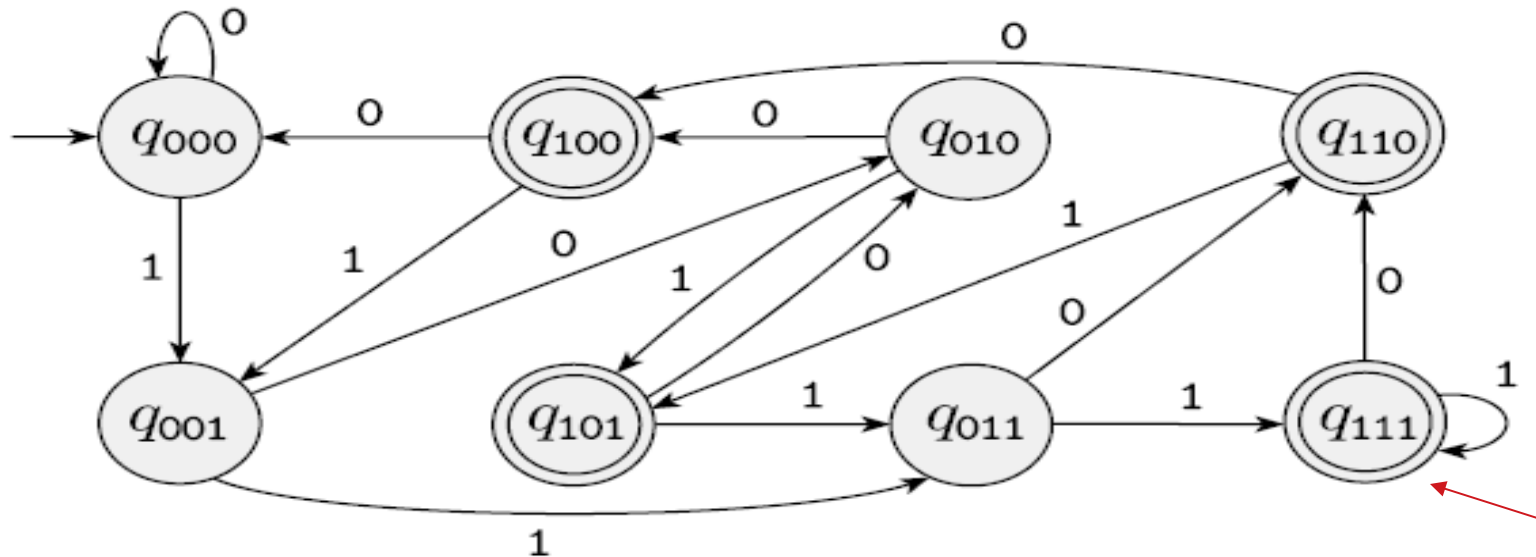
Daria para escrever um **AFD** para essa linguagem? (sequências binárias que contenham 1 na antepenúltima posição)

Ex: 010111



Daria para escrever um **AFD** para essa linguagem? (sequências binárias que contenham 1 na antepenúltima posição)

Ex: 010111



Moral da estória: muitas vezes é bem mais fácil projetar um AFN do que um AFD...

... embora um AFD seja mais eficiente...

Equivalência entre AFDs e AFNs

AFDs e AFNs

- Quem reconhece mais linguagens?

AFDs e AFNs

- Quem reconhece mais linguagens?
- Os dois reconhecem a mesma classe de linguagens

Equivalência entre AFDs e AFNs

- Duas máquinas são **equivalentes** se elas reconhecem a mesma linguagem

TEOREMA 1.39

Todo autômato finito não-determinístico tem um autômato finito determinístico equivalente.

AFDs e AFNs

- Por que o teorema de equivalência é importante?

AFDs e AFNs

- Por que o teorema de equivalência é importante?
- Pode-se optar por um ou outro dependendo do objetivo
- AFDs são mais eficientes
- AFNs podem:
 - ser mais fáceis de serem projetados
 - facilitar demonstração de teoremas
 - ser úteis em versões probabilísticas

PROVA do Teorema da Equivalência

A prova é por construção

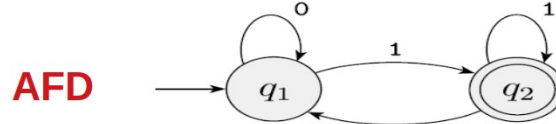
(aliás, estudem o cap 0 do livro do Sipser...)

$AFD \Leftrightarrow AFN$

(tenho que prova a ida e a volta)

AFD => AFN

Como transformo um AFD em um AFN?

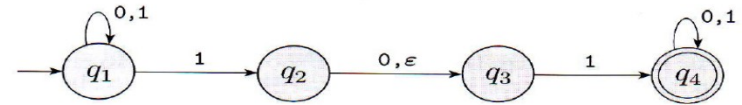


Para cada par (estado atual, próximo símbolo) está DETERMINADO qual é o próximo estado

Um *autômato finito* é uma 5-upla $(Q, \Sigma, \delta, q_0, F)$, onde

1. Q é um conjunto finito conhecido como os *estados*,
2. Σ é um conjunto finito chamado o *alfabeto*,
3. $\delta: Q \times \Sigma \rightarrow Q$ é a *função de transição*,¹
4. $q_0 \in Q$ é o *estado inicial*, e
5. $F \subseteq Q$ é o *conjunto de estados de aceitação*.²

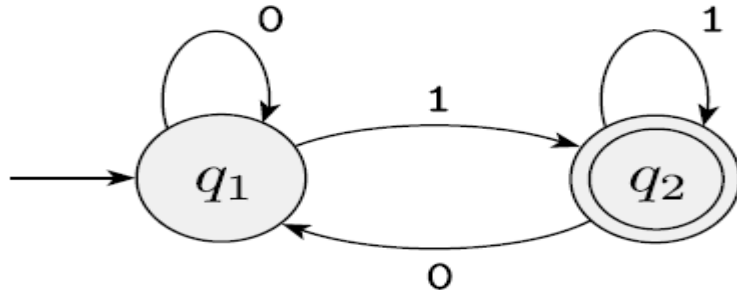
AFN



Um *autômato finito não-determinístico* é uma 5-upla $(Q, \Sigma, \delta, q_0, F)$, onde

Para cada par (estado atual, próximo símbolo – incluindo ϵ) há um conjunto de estados possíveis

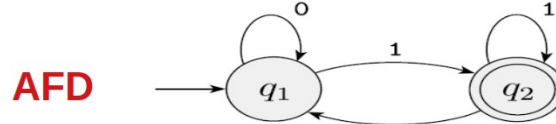
1. Q é um conjunto finito de estados,
2. Σ é um alfabeto finito,
3. $\delta: Q \times \Sigma_\epsilon \rightarrow \mathcal{P}(Q)$ é a função de transição,
4. $q_0 \in Q$ é o estado inicial, e
5. $F \subseteq Q$ é o conjunto de estados de aceitação.



		0	1
→	q1	q1	q2
←	q2	q1	q2

AFD => AFN

Como transformo um AFD em um AFN?

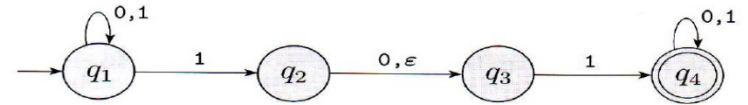


Para cada par (estado atual, próximo símbolo) está DETERMINADO qual é o próximo estado

Um *autômato finito* é uma 5-upla $(Q, \Sigma, \delta, q_0, F)$, onde

1. Q é um conjunto finito conhecido como os *estados*,
2. Σ é um conjunto finito chamado o *alfabeto*,
3. $\delta: Q \times \Sigma \rightarrow Q$ é a *função de transição*,¹
4. $q_0 \in Q$ é o *estado inicial*, e
5. $F \subseteq Q$ é o *conjunto de estados de aceitação*.²

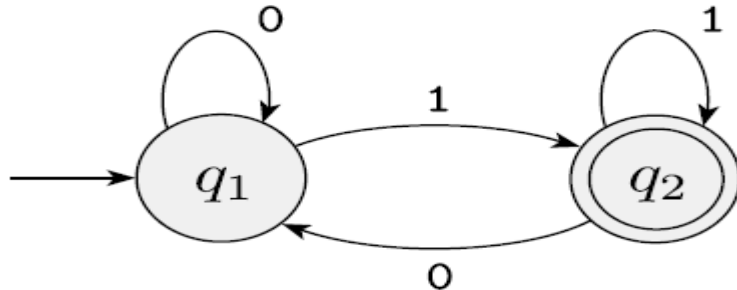
AFN



Um *autômato finito não-determinístico* é uma 5-upla $(Q, \Sigma, \delta, q_0, F)$, onde

Para cada par (estado atual, próximo símbolo – incluindo ϵ) há um conjunto de estados possíveis

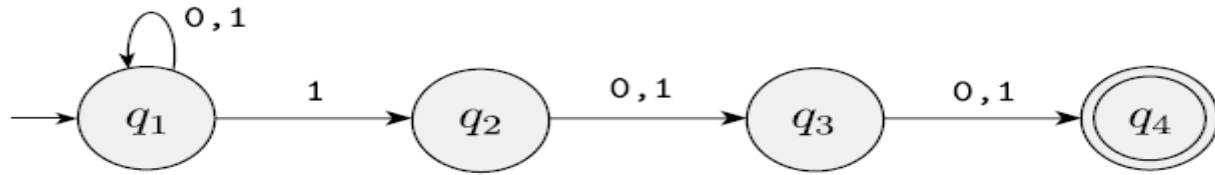
1. Q é um conjunto finito de estados,
2. Σ é um alfabeto finito,
3. $\delta: Q \times \Sigma_\epsilon \rightarrow \mathcal{P}(Q)$ é a função de transição,
4. $q_0 \in Q$ é o estado inicial, e
5. $F \subseteq Q$ é o conjunto de estados de aceitação.



		0	1	ϵ
→	q1	{q1}	{q2}	\emptyset
←	q2	{q1}	{q2}	\emptyset

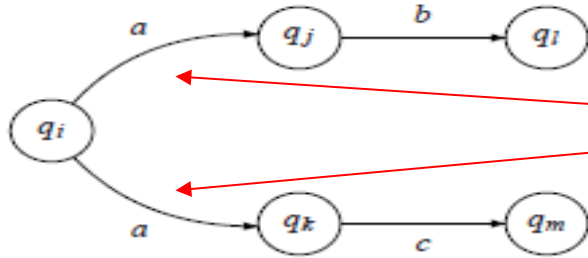
AFD \leq AFN

Como transformo um AFN em um AFD?



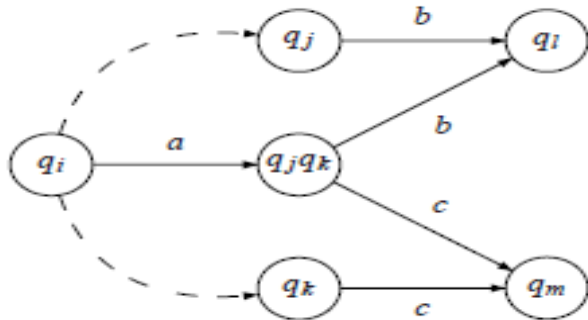
Equivalência entre AFDs e AFNs

Primeiro um racional...



Eliminando este determinismo...

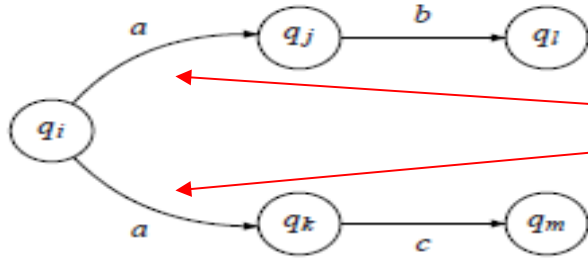
Situação não-determinística original



Situação determinística equivalente

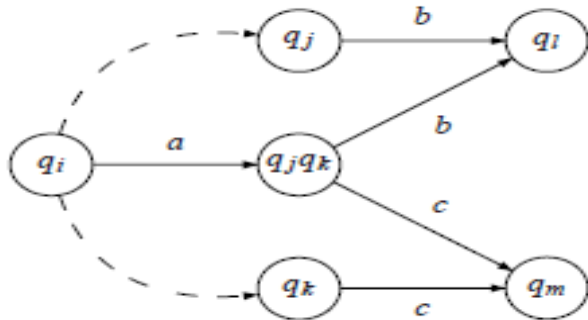
Equivalência entre AFDs e AFNs

Primeiro um racional...



Eliminando este determinismo...

Situação não-determinística original

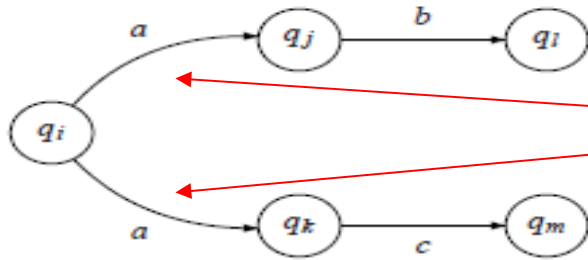


E se esse “b” e “c” fossem o mesmo símbolo?

Situação determinística equivalente

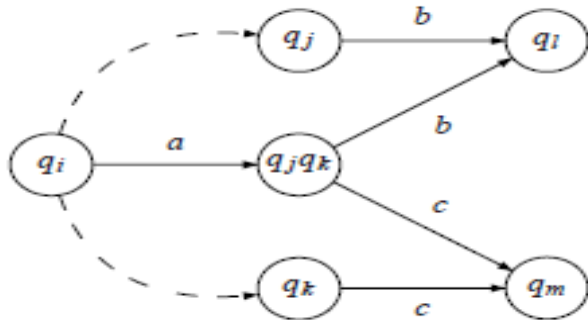
Equivalência entre AFDs e AFNs

Primeiro um racional...



Eliminando este determinismo...

Situação não-determinística original



E se esse “b” e “c” fossem o mesmo símbolo?

Deveríamos repetir o procedimento...

Situação determinística equivalente

Equivalência entre AFDs e AFNs

- Ideia da Prova: um novo estado (no AFD) para cada subconjunto de estados originais (do AFN)

Não queremos construir um AFD elegante nem vamos nos preocupar com eficiência → **não vamos economizar estados ...**

Queremos apenas provar que, no caso geral, existe tal AFD (e para isso vamos propor um algoritmo de transformação AFN → AFD)

Equivalência entre AFDs e AFNs

- Ideia da Prova: um novo estado (no AFD) para cada subconjunto de estados originais (do AFN)
- Primeiro vamos desconsiderar **setas ϵ**
 - Ou seja, vamos considerar AFNs sem **transições no vazio**

PROVA Seja $N = (Q, \Sigma, \delta, q_0, F)$ o AFN que reconhece alguma linguagem A . Construimos um AFD $M = (Q', \Sigma, \delta', q_0', F')$ que reconhece A . Antes de realizar a construção completa, vamos primeiro considerar o caso mais fácil no qual N não tem setas ϵ . Mais adiante levamos as setas ϵ em consideração.

PROVA Seja $N = (Q, \Sigma, \delta, q_0, F)$ o AFN que reconhece alguma linguagem A . Construimos um AFD $M = (Q', \Sigma, \delta', q_0', F')$ que reconhece A . Antes de realizar a construção completa, vamos primeiro considerar o caso mais fácil no qual N não tem setas ε . Mais adiante levamos as setas ε em consideração.

1. $Q' = \mathcal{P}(Q)$.

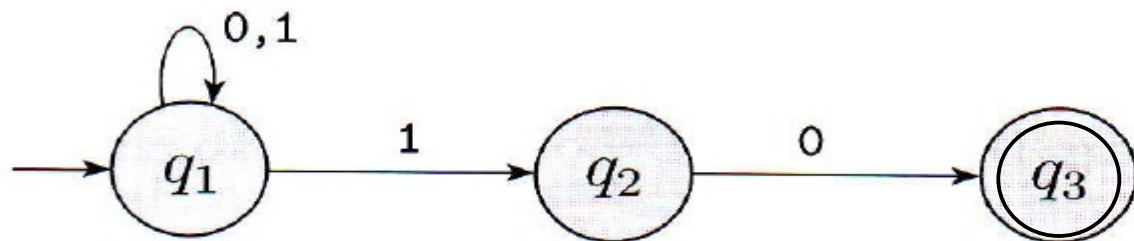
Todo estado de M é um conjunto de estados de N . Lembre-se de que $\mathcal{P}(Q)$ é o conjunto de subconjuntos de Q .

PROVA Seja $N = (Q, \Sigma, \delta, q_0, F)$ o AFN que reconhece alguma linguagem A . Construimos um AFD $M = (Q', \Sigma, \delta', q_0', F')$ que reconhece A . Antes de realizar a construção completa, vamos primeiro considerar o caso mais fácil no qual N não tem setas ϵ . Mais adiante levamos as setas ϵ em consideração.

1. $Q' = \mathcal{P}(Q)$.

Todo estado de M é um conjunto de estados de N . Lembre-se de que $\mathcal{P}(Q)$ é o conjunto de subconjuntos de Q .

Ex:



PROVA Seja $N = (Q, \Sigma, \delta, q_0, F)$ o AFN que reconhece alguma linguagem A . Construímos um AFD $M = (Q', \Sigma, \delta', q_0', F')$ que reconhece A . Antes de realizar a construção completa, vamos primeiro considerar o caso mais fácil no qual N não tem setas ϵ . Mais adiante levamos as setas ϵ em consideração.

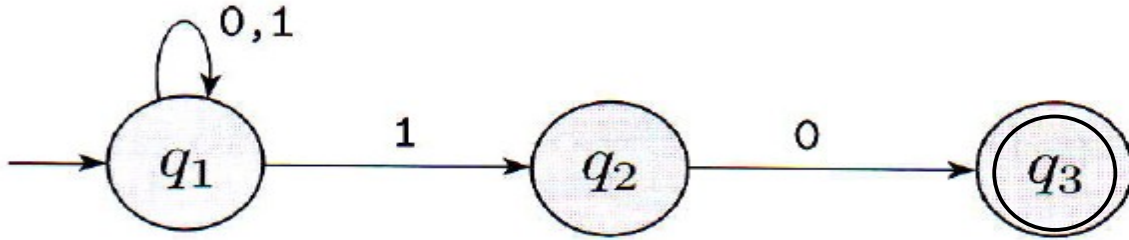
1. $Q' = \mathcal{P}(Q)$.

Todo estado de M é um conjunto de estados de N . Lembre-se de que $\mathcal{P}(Q)$ é o conjunto de subconjuntos de Q .

2. Para $R \in Q'$ e $a \in \Sigma$ seja $\delta'(R, a) = \{q \in Q \mid q \in \delta(r, a) \text{ para algum } r \in R\}$. Se R é um estado de M , é também um conjunto de estados de N . Quando M lê um símbolo a no estado R , ele mostra para onde a leva cada estado em R . Dado que cada estado pode ir para um conjunto de estados, tomamos a união de todos esses conjuntos. Outra maneira de escrever essa expressão é

$$\delta'(R, a) = \bigcup_{r \in R} \delta(r, a).$$

$$\delta'(R, a) = \bigcup_{r \in R} \delta(r, a)$$



Neste ponto estamos ignorando a coluna ϵ



$Q \setminus \Sigma$	0	1
q1	q1	q1q2
q2	q3	vazio
q3	vazio	vazio

PROVA Seja $N = (Q, \Sigma, \delta, q_0, F)$ o AFN que reconhece alguma linguagem A . Construímos um AFD $M = (Q', \Sigma, \delta', q_0', F')$ que reconhece A . Antes de realizar a construção completa, vamos primeiro considerar o caso mais fácil no qual N não tem setas ϵ . Mais adiante levamos as setas ϵ em consideração.

1. $Q' = \mathcal{P}(Q)$.

Todo estado de M é um conjunto de estados de N . Lembre-se de que $\mathcal{P}(Q)$ é o conjunto de subconjuntos de Q .

2. Para $R \in Q'$ e $a \in \Sigma$ seja $\delta'(R, a) = \{q \in Q \mid q \in \delta(r, a) \text{ para algum } r \in R\}$. Se R é um estado de M , é também um conjunto de estados de N . Quando M lê um símbolo a no estado R , ele mostra para onde a leva cada estado em R . Dado que cada estado pode ir para um conjunto de estados, tomamos a união de todos esses conjuntos. Outra maneira de escrever essa expressão é

$$\delta'(R, a) = \bigcup_{r \in R} \delta(r, a).$$

3. $q_0' = \{q_0\}$.

M começa no estado correspondente à coleção contendo somente o estado inicial de N .

4. $F' = \{R \in Q' \mid R \text{ contém um estado de aceitação de } N\}$.

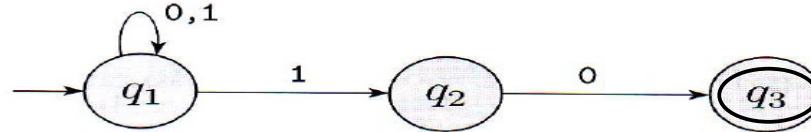
A máquina M aceita se um dos possíveis estados nos quais N poderia estar nesse ponto é um estado de aceitação.

Isto quer dizer que um dos ramos de computação do AFN alcançou o estado de aceitação

- Sem considerar transições no vazio:

$$\delta'(R, a) = \bigcup_{r \in R} \delta(r, a)$$

Como fica $\delta'(q_1, 1)$ considerando este AFN?

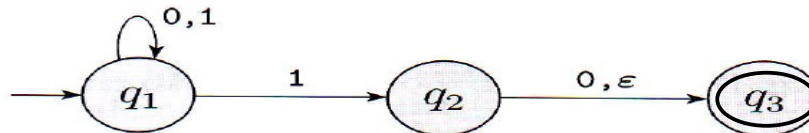


$$\delta'(q_1, 1) = q_1q_2$$

- Sem considerar transições no vazio:

$$\delta'(R, a) = \bigcup_{r \in R} \delta(r, a)$$

Como fica $\delta'(q_1, 1)$ considerando este AFN?



$$\delta'(q_1, 1) = q_1q_2$$

- Agora considerando setas ε (transições no vazio):

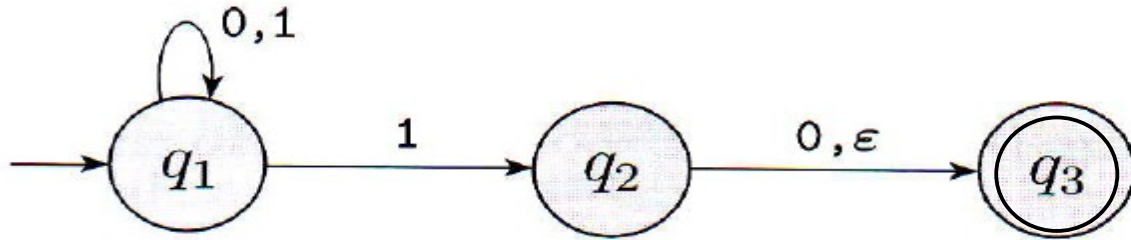
$$E(R) = \{q \mid q \text{ pode ser atingido a partir de } R \text{ viajando-se ao longo de } 0 \text{ ou mais setas } \varepsilon\}.$$

$$\delta'(R, a) = \{q \in Q \mid q \in E(\delta(r, a)) \text{ para algum } r \in R\}.$$

$$\delta'(q_1, 1) = q_1q_2q_3$$

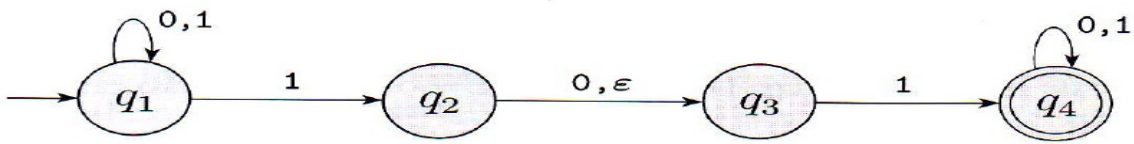
$$q_0' = E(\{q_0\})$$

$$\delta'(R, a) = \bigcup_{r \in R} \delta(r, a)$$



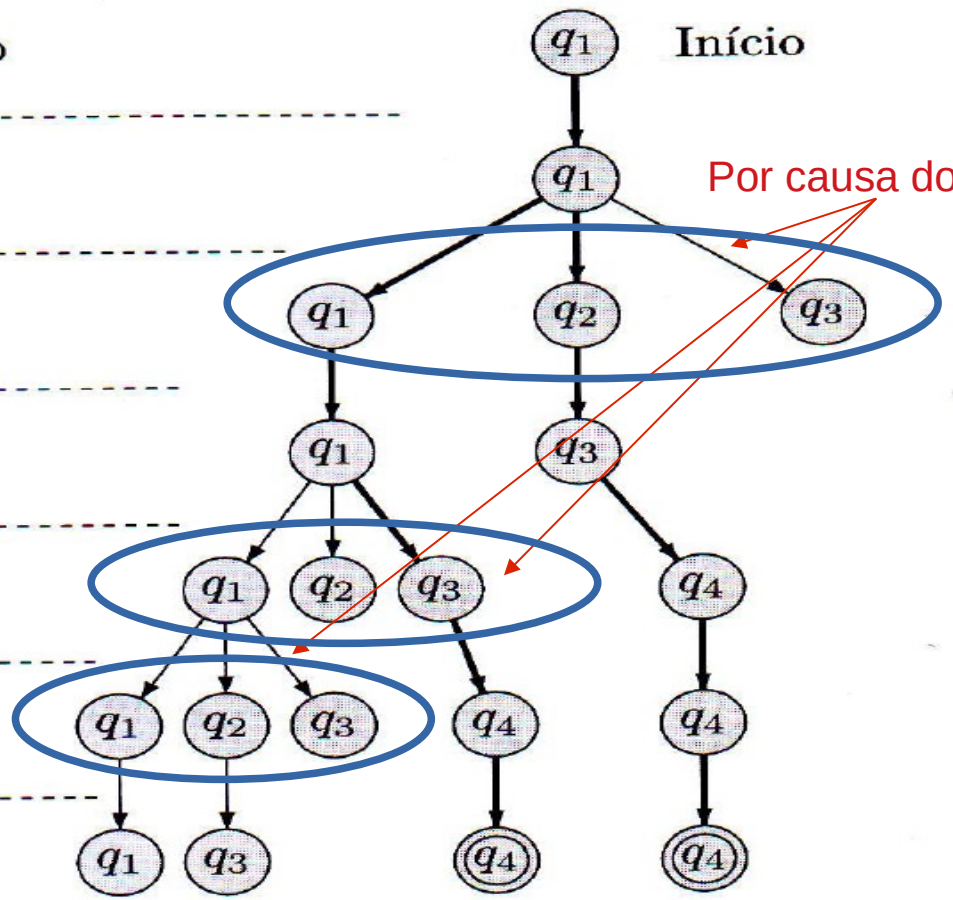
$Q \setminus \Sigma$	0	1	ϵ
q1	q1	q1q2	vazio
q2	q3	vazio	q3
q3	vazio	vazio	vazio

\emptyset



Símbolo lido

0
1
0
1
1
0



Por causa do ϵ

Equivalência entre AFDs e AFNs (últimos comentários)

Outro exemplo: AFN

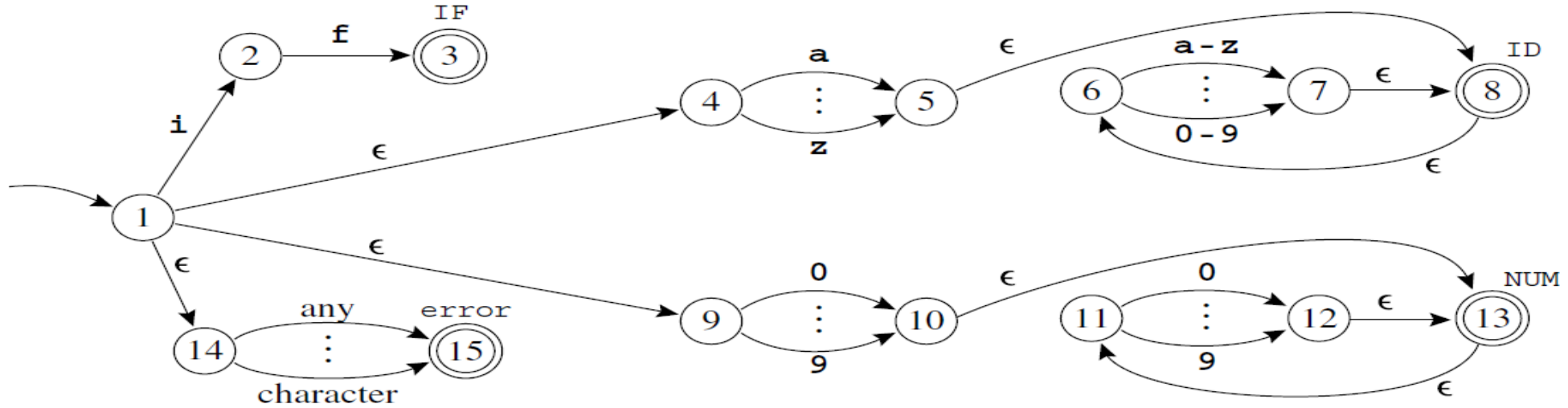


FIGURE 2.7. Four regular expressions translated to an NFA.

Exemplo: AFD equivalente

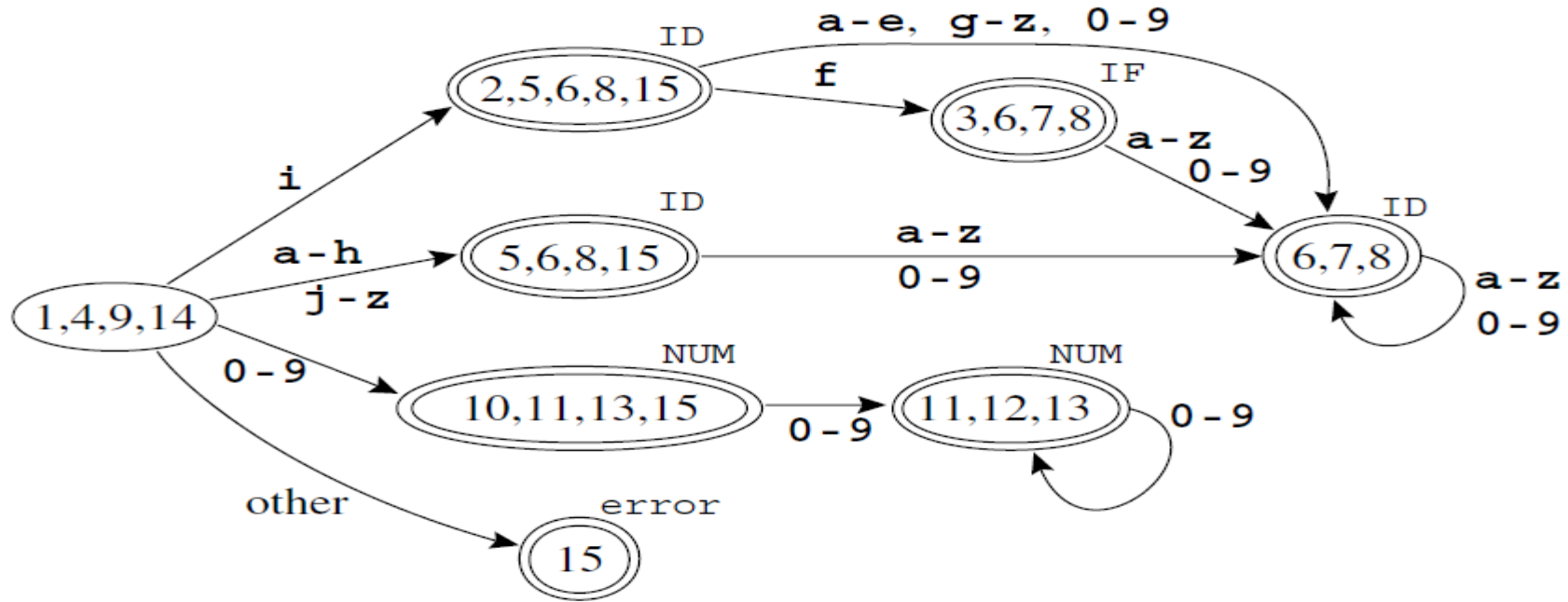


FIGURE 2.8.

NFA converted to DFA.

Linguagens Regulares

DEFINIÇÃO 1.16

Uma linguagem é chamada de uma *linguagem regular* se algum autômato finito a reconhece.

TEOREMA 1.39

Todo autômato finito não-determinístico tem um autômato finito determinístico equivalente.

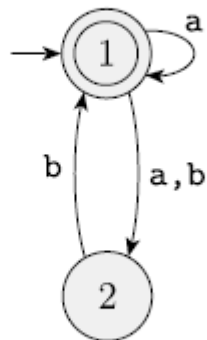
COROLÁRIO 1.40

Uma linguagem é regular se e somente se algum autômato finito não-determinístico a reconhece.

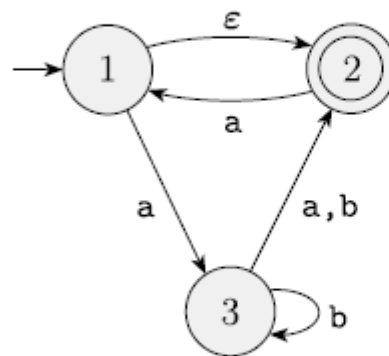
Lista de Exercícios do Sipser (2ª ed)

Exercício 1.16

1.16 Use the construction given in Theorem 1.39 to convert the following two non-deterministic finite automata to equivalent deterministic finite automata.



(a)



(b)

Use o JFlap para conferir!!!

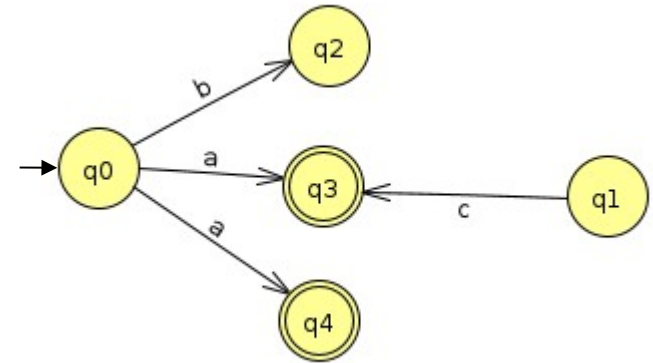
Observações gerais sobre autômatos

Minimização de autômatos finitos

- Vários autômatos podem gerar a mesma linguagem
- Cada linguagem regular é reconhecida por um autômato finito determinístico mínimo (com relação ao número de estados) e único
 - Utilidades:
 - Gerar um reconhecedor o mais compacto e eficiente possível
 - Comparar se duas linguagens são equivalentes

Minimização de autômatos finitos

- Processo:
 - Eliminação de estados inacessíveis
 - Não há caminho de q_0 até ele
 - Eliminação de estados inúteis
 - Não conduzem a um estado final
 - Agrupamento e fusão de estados equivalentes



- Ex:
 - $\delta = \{(q_0, a) \rightarrow q_3, (q_0, a) \rightarrow q_4, (q_0, b) \rightarrow q_2, (q_1, c) \rightarrow q_3\}$
 - $F = \{q_3, q_4\}$
 -

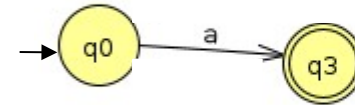
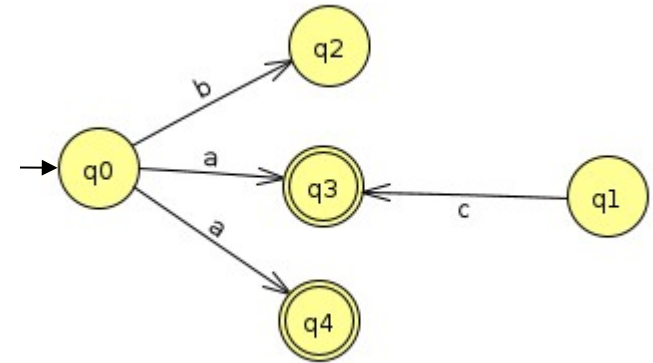
Minimização de autômatos finitos

- Processo:

- Eliminação de estados inacessíveis
 - Não há caminho de q_0 até ele
- Eliminação de estados inúteis
 - Não conduzem a um estado final
- Agrupamento e fusão de estados equivalentes

- Ex:

- $\delta = \{(q_0, a) \rightarrow q_3, (q_0, a) \rightarrow q_4, (q_0, b) \rightarrow q_2, (q_1, c) \rightarrow q_3\}$
- $F = \{q_3, q_4\}$
- q_1 é inacessível, q_2 é inútil, q_3 e q_4 são equivalentes



autômato
minimizado

Juntando tudo

- Então você pode, dada uma linguagem:
 - Projetar um AFN que a reconheça (pois é mais fácil de implementar)
 - Transformá-lo em um AFD equivalente (usando o algoritmo mostrado na prova de equivalência) – assim terá eficiência de tempo de execução
 - Minimizar esse AFD, assim terá um modelo mais simples e que ocupa menos espaço