



**ESCOLA DE ENGENHARIA DE LORENA  
UNIVERSIDADE DE SÃO PAULO  
DEPARTAMENTO DE CIÊNCIAS BÁSICAS E AMBIENTAIS**

**Lista de Exercícios 1: Eletrostática**

1. Uma carga  $Q$  é distribuída uniformemente sobre um fio semicircular de raio  $a$ , que está no plano  $xy$ . Calcule a força  $\vec{F}$  com que atua sobre uma carga de sinal oposto  $-q$  colocada no centro (veja a Fig.1).

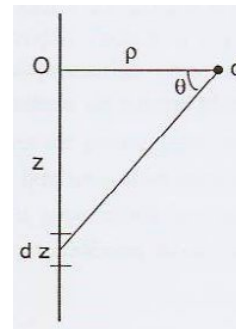
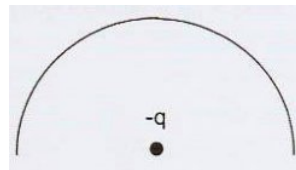


Figure 1: Exercícios 1 e 2

2. Um fio retilíneo muito longo (trate-o como infinito), que descansa sobre o eixo  $z$ , está eletrizado com uma densidade linear de carga  $\lambda$ . Calcule a força  $\vec{F}$  com que atua sobre uma carga puntiforme  $q$  colocada à distância  $\rho$  do fio sobre o eixo  $y$  (Fig.1).
3. Uma casca hemisférica de raio  $R$  possui uma densidade de carga superficial que varia com a coordenada  $\theta$  de acordo com  $\sigma(\theta) = \sigma_0 \cos \theta$ . Uma carga  $Q$  é colocada no centro da hemisfera como mostra a Fig.2. Ache a força  $\vec{F}$  que a casca exerce na carga  $Q$ .

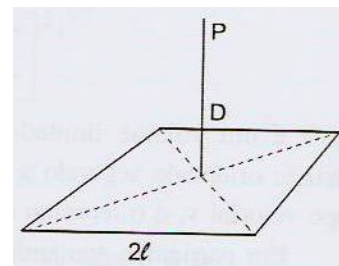
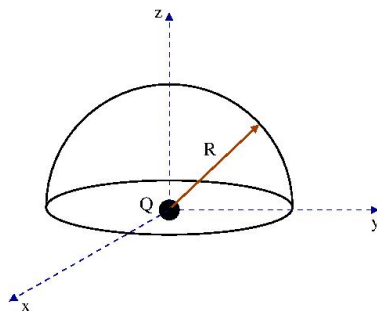


Figure 2: Exercícios 3 e 4

4. Um fio quadrado de lado  $2l$ , descansando sobre o plano  $xy$  e centrado na origem, está uniformemente carregado com densidade linear de carga  $\lambda$ . Calcule o campo elétrico num ponto  $P$  situado no eixo  $z$ , à distância  $D$  do centro do quadrado (Fig.2).

5. Uma linha de carga com densidade linear uniforme  $\lambda$  está ao longo do eixo  $x$  desde  $x = x_1$  até  $x = x_2$ , como mostra a Fig.3. Calcule o campo elétrico em um ponto  $P$  a uma distância genérica da origem sobre o eixo  $y$ . Expresse sua resposta em termos dos ângulos  $\theta_1$  e  $\theta_2$  mostrados na figura.

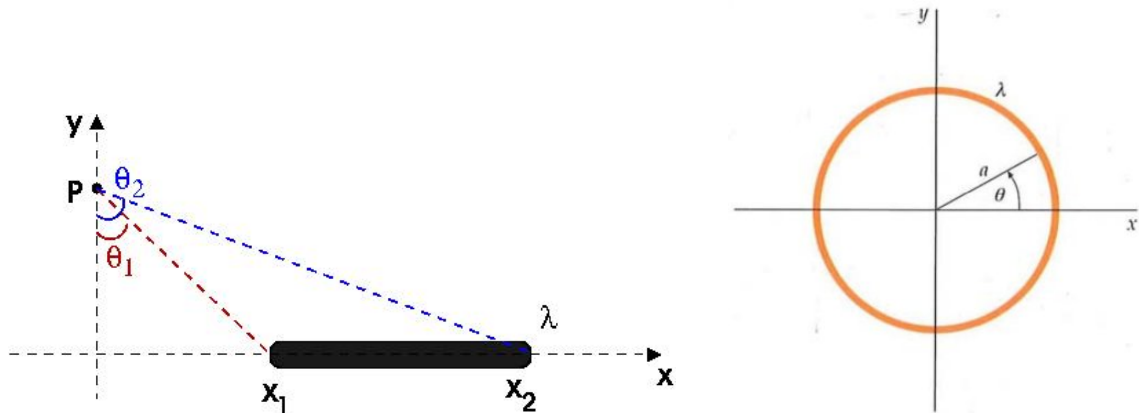


Figure 3: Exercícios 5 e 6

6. Um anel de raio  $a$  tem uma distribuição de carga que varia como  $\lambda(\theta) = \lambda_0 \cos \theta$ , com  $\lambda_0 > 0$ , como mostra a Fig.3. Calcule o campo elétrico  $\vec{E}$  no centro do anel.
7. Uma região do espaço contém uma carga positiva  $Q$  que está distribuída uniformemente ao longo de uma esfera de tal modo que a densidade volumétrica de carga  $\rho(r)$  é dada por:

$$\rho(r) = \begin{cases} \alpha & \text{para } r \leq R/2 \\ 2\alpha(1 - r/R) & \text{para } R/2 \leq r \leq R \\ 0 & \text{para } r \geq R \end{cases} \quad (1)$$

Nessas relações,  $\alpha$  é uma constante positiva com unidades de  $C/m^3$ .

- Determine  $\alpha$  em função de  $Q$  e de  $R$ .
  - Aplicando a lei de Gauss, deduza uma expressão para o campo elétrico  $\vec{E}$  em função da distância  $r$ , para cada uma das três regiões, expressando suas respostas em termos da carga total  $Q$ .
  - Que fração da carga total está contida no interior da região  $r \leq R/2$ ?
  - Se um elétron com carga  $q' = -e$  está oscilando em torno do ponto  $r = 0$  (centro da distribuição) com amplitude menor do que  $R/2$ , mostre que o movimento é harmônico simples e determine o período.
  - Se a amplitude do movimento descrito na parte (d) é maior do que  $R/2$ , o movimento resultante é harmônico simples? Por quê?
8. Um tratamento baseado na mecânica quântica para o átomo de hidrogênio mostra que o elétron no átomo pode ser tratado como uma distribuição espalhada de carga negativa da forma  $\rho(r) = -\rho_0 e^{-2r/a}$ , onde  $r$  representa a distância ao centro do núcleo e  $a$  é o raio de Bohr. Considere o núcleo do átomo de hidrogênio, um próton, como uma carga puntiforme positiva.
- Calcule  $\rho_0$  usando o fato que o átomo é neutro.
  - Calcule o campo elétrico  $\vec{E}$  dentro do átomo a uma distância  $r$  do núcleo.
9. Considere o seguinte modelo simples para a molécula de hidrogênio: duas cargas puntiformes positivas, cada uma com carga  $+e$ , localizadas no interior de uma esfera uniformemente carregada de raio  $R$ , que tem uma carga igual a  $-2e$ . As duas cargas puntiformes estão colocadas simetricamente, equidistantes do centro da esfera (Fig.4). Determine a distância do centro,  $a$ , onde a força resultante em cada carga puntiforme é zero.

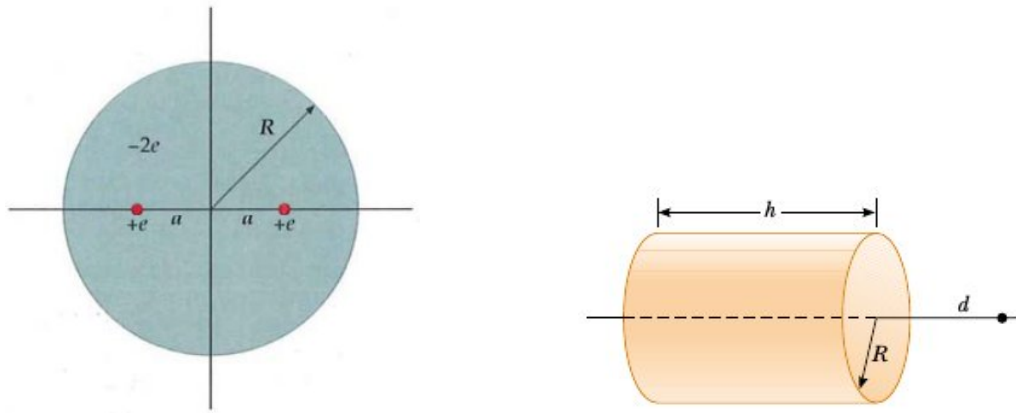


Figure 4: Exercícios 9 e 14

10. Uma distribuição esférica possui uma densidade volumétrica de carga dada por:

$$\rho(r) = \begin{cases} A/r & \text{para } r \leq R \\ 0 & \text{para } r > R \end{cases} \quad (2)$$

- (a) Calcule o campo elétrico em todas as regiões.  
 (b) A partir do resultado em (a) calcule o potencial elétrico em todas as regiões.
11. Seja a função vetorial  $\vec{C} = \frac{1}{r^2} \hat{r}$ .
- (a) Calcule a divergência desta função, *i.e.*,  $\vec{\nabla} \cdot \vec{C}$ .  
 (b) Calcule  $\oint \vec{C} \cdot d\vec{a}$  na superfície de uma esfera de raio  $r$  centrada na origem de coordenadas.  
 (c) Use o teorema da divergência no resultado anterior e explique a origem da aparente contradição entre os resultados (a) e (b).  
 (d) Usando a função delta de Dirac, escreva uma expressão correta para  $\vec{\nabla} \cdot \vec{C}$ .
12. O campo elétrico produzido por certa configuração esférica finita é dado por

$$\vec{E} = \frac{q}{4\pi\epsilon_0} \frac{\vec{r}}{r^a}, \quad (3)$$

sendo  $a$  uma constante positiva diferente de 3. Calcule a densidade volumétrica de carga que produz este campo e o potencial produzido por esta configuração em um ponto  $r$  genérico.

13. O potencial elétrico de certa configuração esférica é dado pela expressão

$$V(r) = A \frac{e^{-\lambda r}}{r}, \quad (4)$$

onde  $A$  e  $\lambda$  são constantes. Ache o campo elétrico  $\vec{E}(r)$ , a densidade de carga  $\rho(r)$ , e a carga total  $Q$  no espaço todo.

14. Uma carcaça cilíndrica uniformemente carregada sem tampa em suas extremidades tem uma carga total  $Q$ , raio  $R$  e comprimento  $h$ . Determine o potencial elétrico em um ponto a uma distância  $d$  da extremidade direita do cilindro, como mostra a Fig.4.
15. Um bastão de comprimento  $L$  tem uma carga total  $Q$  uniformemente distribuída ao longo do seu comprimento. O bastão está ao longo do eixo  $x$  com seu centro na origem.

- (a) Qual é o potencial elétrico como função da posição ao longo do eixo  $x$  para  $x > L/2$ ?
- (b) Mostre que, para  $x \gg L/2$ , seu resultado se reduz ao potencial devido a uma carga puntiforme  $Q$ . Explique a razão deste resultado.
16. Um círculo de raio  $a$  é removido do centro de um disco fino circular uniformemente carregado de raio  $b$  e carga por unidade de área  $\sigma$ , situado no plano  $YZ$ .
- (a) Determine uma expressão para o potencial no eixo  $x$  a uma distância  $x$  do centro do disco.
- (b) Mostre que, para  $x \gg b$ , o potencial elétrico no eixo do disco uniformemente carregado com o corte tende ao potencial devido a uma carga puntiforme  $Q$ , sendo  $Q$  a carga total no disco.
17. Uma casca hemisférica de raio  $R$ , mostrada na Fig.5, possui uma densidade de carga superficial uniforme  $\sigma$ .
- (a) Ache o vetor campo elétrico no centro  $C$  da hemisfera por integração direta.
- (b) Ache a diferença de potencial entre o polo norte  $P$  e o centro  $C$  da hemisfera ( $V_P - V_C$ ), usando o método de integração direta.

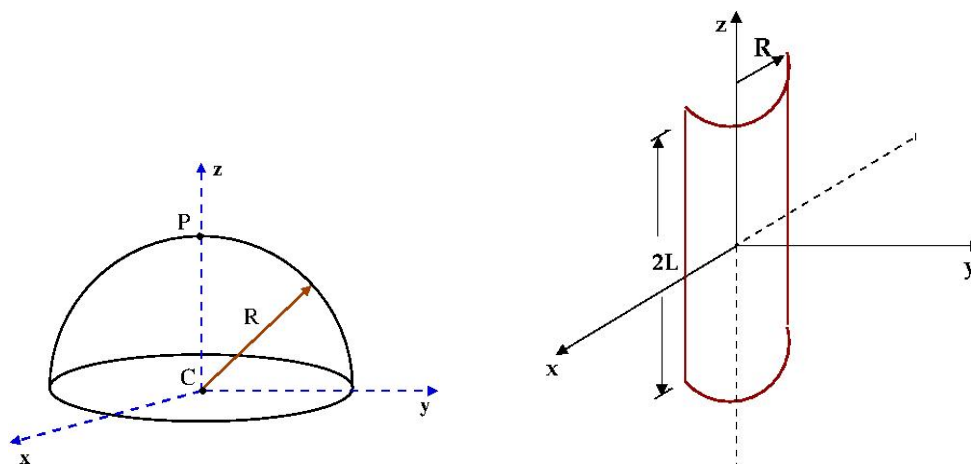


Figure 5: Exercícios 17 e 18

18. Uma casca cilíndrica de raio  $R$  e comprimento  $2L$  é cortada ao meio ao longo do seu eixo como mostra a figura. A casca possui uma densidade superficial de carga  $\sigma = \sigma_0 (1 + z/L)$ , sendo  $\sigma_0$  uma constante. Calcule o potencial na origem do sistema de coordenadas mostrado na Fig.5.
19. Uma partícula de massa  $m$  e carga positiva  $q$  está restrita ao movimento ao longo do eixo  $x$ . Em  $x = -L$  e em  $x = L$ , estão dois anéis carregados de raio  $L$  (Fig.6). Cada anel está centrado no eixo  $x$  e está em um plano perpendicular a ele. Cada anel tem uma carga total positiva  $Q$  uniformemente distribuída.
- (a) Obtenha uma expressão para o potencial  $V(x)$  sobre o eixo  $x$  na região entre os anéis.
- (b) Mostre que  $V(x)$  tem um mínimo em  $x = 0$ .
- (c) Mostre que, para  $|x| \ll L$ , o potencial tende à forma  $V(x) = V(0) + \alpha x^2$ .
- (d) Use o resultado da parte (c) para deduzir uma expressão para a frequência angular de oscilação da massa  $m$  se ela for levemente deslocada da origem e liberada.
20. Um capacitor esférico de raio interno  $a$  e raio externo  $b$  tem o espaço entre as placas totalmente preenchido por duas camadas concêntricas de dielétricos diferentes superpostas, uma de espessura  $c - a$  e constante dielétrica  $\kappa_1$ , e outra de espessura  $b - c$  e constante dielétrica  $\kappa_2$ . Calcule a capacitância deste capacitor.

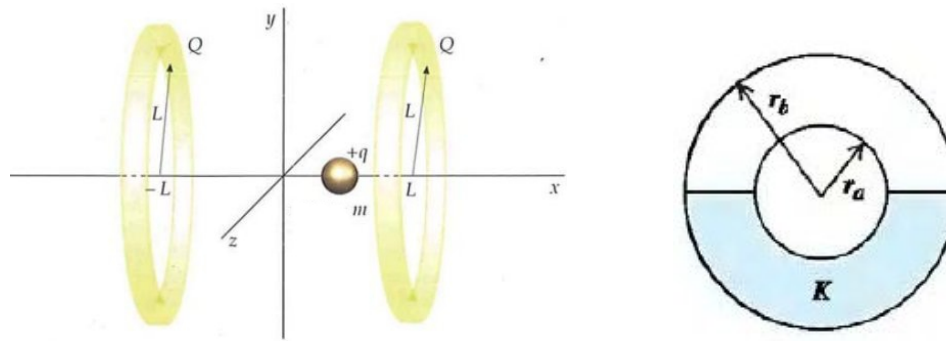


Figure 6: Exercícios 19 e 21

21. Um capacitor esférico isolado possui carga  $+Q$  sobre o condutor interno (raio  $r_a$ ) e carga  $-Q$  sobre o condutor externo (raio  $r_b$ ). A seguir, metade do volume entre os dois condutores é preenchida por um dielétrico líquido com uma constante dielétrica  $K$ , conforme indicado na seção reta da Fig.6.

(a) Determine a capacitância do capacitor preenchido até a metade em termos de  $K$ ,  $r_a$  e  $r_b$ .

(b) Usando a lei de Gauss, calcule o módulo do campo elétrico no volume entre os dois condutores em função da distância  $r$  ao centro do capacitor. Forneça respostas para a metade superior e para a metade inferior desse volume, em termos de  $Q$ ,  $K$  e  $r$ .

**Dica:** Considere em ambos os casos superfícies gaussianas hemisféricas e expresse as cargas livres, em cada caso, em termos da carga total  $Q$ .

22. Um capacitor tem placas retangulares de comprimento  $a$  e largura  $b$ . A placa superior está inclinada por um pequeno ângulo, como mostra a Fig.7. A separação entre as placas varia desde  $y_0$  à esquerda, até  $2y_0$  à direita, onde  $y_0$  é muito menor que  $a$  e  $b$ . Calcule a capacitância deste arranjo.

**Dica:** Escolha pequenos capacitores de largura  $dx$  e comprimento  $b$ , como mostrado na figura, e use a associação de capacitores correspondente para achar a capacitância total.

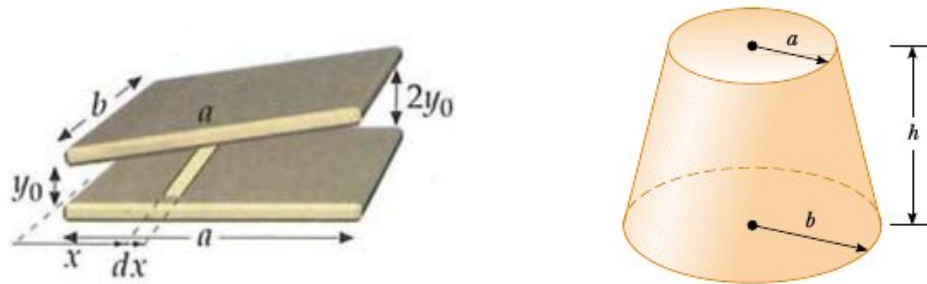


Figure 7: Exercícios 22 e 23

23. Um material de resistividade  $\rho$  é transformado em um cone truncado de altura  $h$ , como mostra a Fig.7. A extremidade inferior tem raio  $b$  e a superior, raio  $a$ . Suponha que a corrente seja distribuída uniformemente sobre qualquer seção transversal circular do cone, de modo que a densidade de corrente não dependa da posição radial. (A densidade de corrente varia com a posição ao longo do eixo do cone). Demonstre que a resistência entre as duas extremidades é

$$R = \frac{\rho}{\pi} \left( \frac{h}{ab} \right). \tag{5}$$

24. As duas extremidades D e E de um quarto de anel, cuja resistividade é  $\rho$ , são conectadas a um circuito pelo qual circula uma corrente  $I$  (Fig.8). Determine uma expressão para a resistência entre as extremidades D e E do quarto de anel.

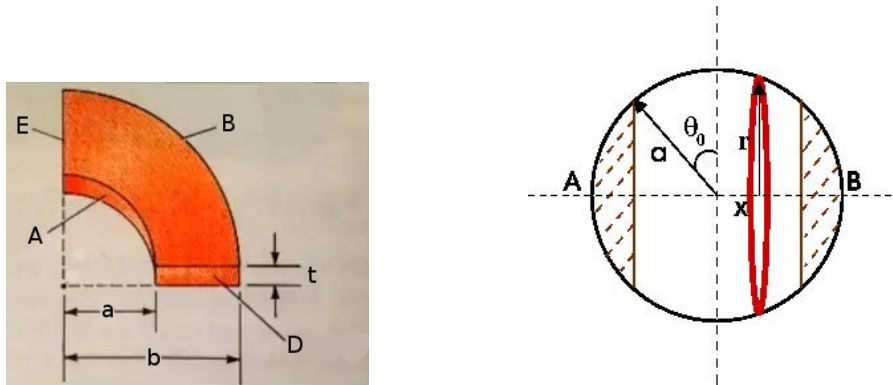


Figure 8: Exercícios 24 e 25

25. Considere um condutor esférico de raio  $a$  e condutividade  $\sigma$ . Na Fig.8 A e B são os extremos opostos deste condutor onde são colocados dois eletrodos circulares de raio  $b$ . Ache a resistência do material entre os dois eletrodos.