

Batimentos

Um tipo peculiar de interferência entre duas ondas acontece quando elas se propagam no mesmo sentido, têm mesma amplitude, mas as suas frequências w diferem ligeiramente. Como elas estão se propagando no mesmo meio elástico elas têm a mesma velocidade v de propagação e portanto $k = w/v$. Desse modo, se as frequências são próximas, isso também acontece com o número de onda k .

Vamos considerar as duas ondas do tipo:

$$y_1(x,t) = y_M \cos(k_1 x - w_1 t)$$

e

$$y_2(x,t) = y_M \cos(k_2 x - w_2 t)$$

logo:

$$y(x,t) = y_1(x,t) + y_2(x,t)$$

$$y(x,t) = y_M [\cos(k_1 x - w_1 t) + \cos(k_2 x - w_2 t)]$$

Vamos definir algumas grandezas:

$$\begin{cases} \Delta w = w_1 - w_2 \\ \Delta k = k_1 - k_2 \end{cases} \quad e \quad \begin{cases} \bar{w} = \left(\frac{w_1 + w_2}{2} \right) \\ \bar{k} = \left(\frac{k_1 + k_2}{2} \right) \end{cases}$$

onde supomos que $w_1 > w_2$ e $k_1 > k_2$. Por outro, como as frequências diferem ligeiramente, estamos assumindo que $\bar{w} \gg \Delta w$ e $\bar{k} \gg \Delta k$. Podemos colocar as equações anteriores na forma:

$$\begin{cases} w_1 = \bar{w} + \frac{\Delta w}{2} \\ w_2 = \bar{w} - \frac{\Delta w}{2} \end{cases} \quad e \quad \begin{cases} k_1 = \bar{k} + \frac{\Delta k}{2} \\ k_2 = \bar{k} - \frac{\Delta k}{2} \end{cases}$$

ou seja:

$$y(x,t) = y_M \left\{ \cos \left[\left(\bar{k} + \frac{\Delta k}{2} \right) x - \left(\bar{w} + \frac{\Delta w}{2} \right) t \right] + \cos \left[\left(\bar{k} - \frac{\Delta k}{2} \right) x - \left(\bar{w} - \frac{\Delta w}{2} \right) t \right] \right\}$$

Considerando a identidade trigonométrica:

$$\cos \alpha + \cos \beta = 2 \cos \left(\frac{\alpha + \beta}{2} \right) \cos \left(\frac{\alpha - \beta}{2} \right)$$

encontramos que

$$y(x,t) = 2y_M \cos \left(\frac{\Delta k}{2} x - \frac{\Delta w}{2} t \right) \cos(\bar{k}x - \bar{w}t)$$

e se definirmos a amplitude de oscilação como $A(x,t)$, teremos

$$A(x,t) = 2y_m \cos\left(\frac{\Delta k}{2}x - \frac{\Delta \omega}{2}t\right)$$

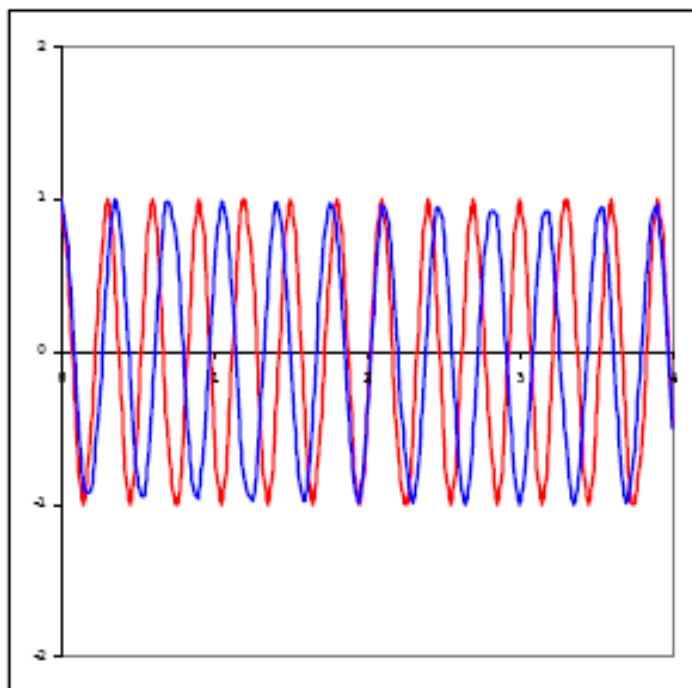
ou seja:

$$y(x,t) = A(x,t) \cos(\bar{k}x - \bar{\omega}t)$$

Como exemplo, estamos mostrando ao lado o gráfico em $x = 0$, resultante da soma de duas ondas com amplitudes unitárias e frequência $\omega_1 = 20,94\text{rad/s}$ e $\omega_2 = 17,80\text{rad/s}$.

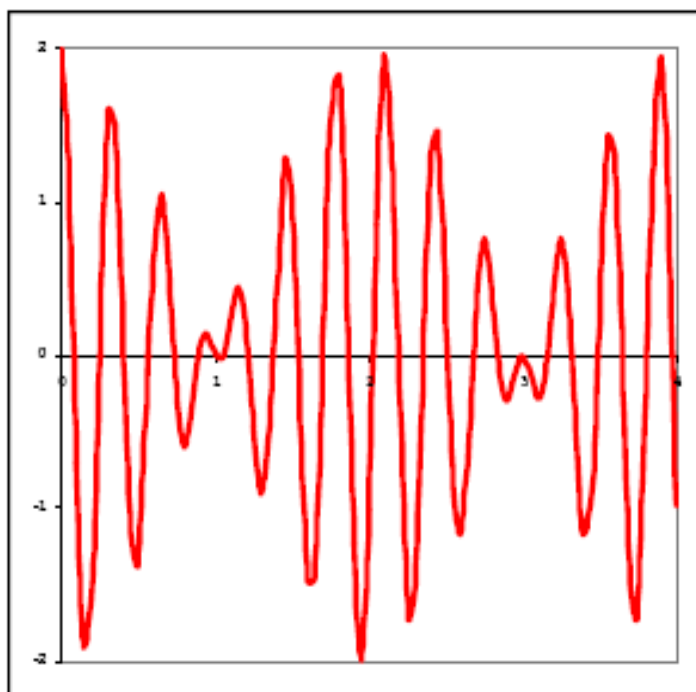
Temos então que a diferença $\Delta \omega = 3,14\text{rad/s}$ e o valor médio $\bar{\omega} = 19,37\text{rad/s}$.

$$\begin{cases} \Delta \omega = 3,14 \Rightarrow \Delta T = \frac{2\pi}{\Delta \omega} = 2 \\ \bar{\omega} = 19,37 \Rightarrow \bar{T} = \frac{2\pi}{\bar{\omega}} = 0,32 \end{cases}$$



Um batimento, ou seja um máximo de amplitude, ocorrerá sempre que a amplitude global apresentar um extremo: máximo ou mínimo.

Neste exemplo, o período de batimento será $\Delta T = 2\text{s}$ como se pode observar na figura, a frequência angular de batimento vale $\Delta \omega = 3,14\text{rad/s}$ e a frequência, $\Delta f = 0,5\text{Hz}$.



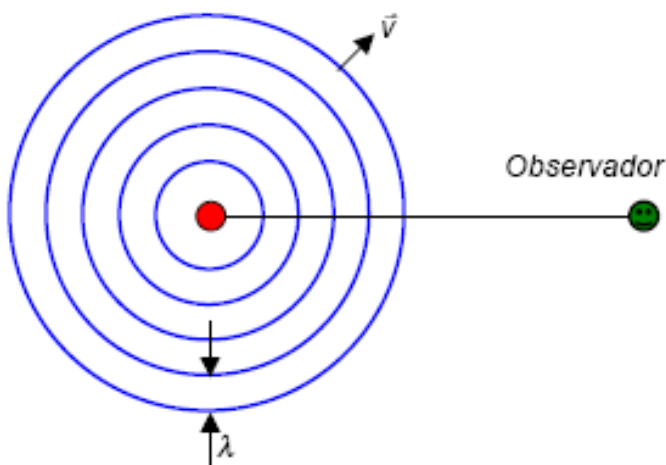
O Efeito Doppler

O som é um tipo de onda que necessita de um meio para se propagar. Quando estamos analisando a produção e a captação de uma onda sonora, estamos diante de três participantes: a fonte sonora, o meio onde ela se propaga e o observador que está captando as ondas. Temos então três referenciais bem definidos.

Fonte e observador em repouso

A fonte emite uma onda harmônica de frequência f e comprimento de onda λ . Vamos desenhar apenas as frentes de onda. As frentes de onda esféricas concêntricas viajam com velocidade v . Como todos os participantes (fonte, observador e meio) estão em repouso, o observador vai perceber uma onda exatamente do mesmo tipo que foi emitida pela fonte.

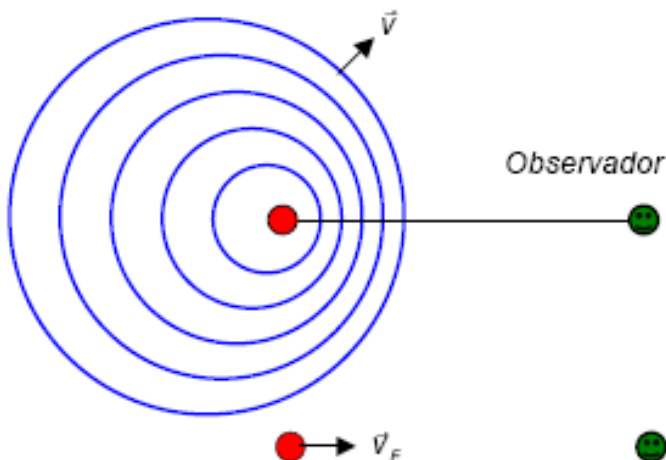
$$v = \lambda f$$



Fonte em movimento - observador em repouso

Como a fonte está em movimento, as frentes de onda não são mais esferas concêntricas. Quando a fonte emitir a segunda frente ela já não estará mais na mesma posição de quando emitiu uma primeira onda.

Seja T é o período da onda que a fonte está emitindo. Como a fonte está se aproximando do observador ele irá perceber uma distância λ' entre as frentes de onda menor que um comprimento de onda λ original, como pode-se



depreender pela figura ao lado. Se em um tempo T (período) uma frente de onda viajou uma distância $\lambda = v T$ (comprimento de onda original), como a fonte se aproximou do observador de $v_F T$, o observador perceberá um comprimento de onda λ' diferente do original:

$$\lambda' = \lambda - v_F T$$

ou seja:

$$\lambda' = v T - v_F T = (v - v_F)/f$$

Mas

$$\lambda' = v / f'$$

onde f' é a frequência que o observador vai perceber nas circunstâncias atuais. Portanto:

$$\frac{v}{f'} = \frac{v - v_F}{f} \Rightarrow f' = \left(\frac{v}{v - v_F} \right) f$$

Quando a fonte estiver se afastando do observador em repouso, teremos uma situação semelhante a essa descrita, e encontraremos que:

$$\lambda' = \lambda + v_F T$$

ou seja:

$$\lambda' = v T + v_F T = (v + v_F) T$$

logo:

$$f' = \left(\frac{v}{v + v_F} \right) f$$

Fonte em repouso - observador em movimento

Quando a fonte está em repouso em relação ao meio a propagação se dará de modo a formarem-se frentes de ondas esféricas concêntricas.

Como a frequência é uma medida do número de frentes de ondas por unidade de tempo que atingem o observador, neste caso chegam a si $f = v / \lambda$ frentes de onda por unidade de tempo. Se a frequência for $f = 1\text{Hz}$ o período $T = 1\text{s}$, e atingirá o observador uma frente de onda por segundo. Se $f = 0,5\text{Hz}$ teremos $T = 2\text{s}$ e portanto atingirá o observador uma frente de onda a cada 2s , que é metade do número do caso anterior.

Se o observador se aproxima da fonte com velocidade v_o , ele irá de encontro às frentes de onda, encontrando v_o / λ mais frentes de onda por unidade de tempo que se estivesse em repouso. Desse modo, o número de frentes de onda por unidade de tempo f' que ele encontra será:

$$f' = \frac{v}{\lambda} + \frac{v_o}{\lambda} \Rightarrow f' = f + f \frac{v_o}{v} \therefore f' = \left(\frac{v + v_o}{v} \right) f$$

Quando o observador estiver se afastando da fonte em repouso, teremos uma situação semelhante a essa descrita, e encontraremos que:

$$f' = \frac{v}{\lambda} - \frac{v_o}{\lambda} \Rightarrow f' = f - f \frac{v_o}{v} \therefore f' = \left(\frac{v - v_o}{v} \right) f$$

Quando o observador estiver se afastando da fonte em movimento, teremos uma situação semelhante a essa descrita, e encontraremos que:

$$f' = \left(\frac{v + v_o}{v} \right) f$$

Fonte e observador em movimento

Quando fonte e observador estiverem em movimento teremos uma combinação dos resultados anteriores.

$$f' = f \left(\frac{v \pm v_o}{v \mp v_F} \right) \begin{cases} \text{sinal superior : aproximando - se} \\ \text{sinal inferior : afastando - se} \end{cases}$$

10

- a) Uma onda senoidal longitudinal contínua é enviada através de determinada mola, por meio de uma fonte oscilante conectada a ela. A frequência da fonte é de 25Hz e a distância entre pontos sucessivos de máxima expansão da mola é de 24cm . Encontre a velocidade com que a onda se propaga na mola.
- b) Se o deslocamento longitudinal máximo de uma partícula na mola é de $0,30\text{cm}$ e a onda se move no sentido $-x$, escreva a equação da onda. Considere a fonte em $x = 0$ e o deslocamento nulo em $x = 0$ quando $t = 0$ também é zero.

11

A pressão em uma onda sonora progressiva é dada pela equação:

$$\Delta p = (1,5\text{Pa}) \text{ sen } \pi [(1\text{m}^{-1})x - (330\text{s}^{-1})t]$$

- a) Encontre a amplitude de pressão
- b) Encontre a frequência
- c) Encontre o comprimento de onda
- d) Encontre a velocidade da onda

- a) Uma onda senoidal longitudinal contínua é enviada através de determinada mola, por meio de uma fonte oscilante conectada a ela. A frequência da fonte é de 25Hz e a distância entre pontos sucessivos de máxima expansão da mola é de 24cm . Encontre a velocidade com que a onda se propaga na mola.

$$v = w/k = \lambda/T = \lambda f = (25\text{Hz})(0,24\text{m}) \quad f = 25\text{Hz}$$

$$v = 6\text{m/s} \quad \lambda = 24\text{cm} = 0,24\text{m}$$

- b) Se o deslocamento longitudinal máximo de uma partícula na mola é de $0,30\text{cm}$ e a onda se move no sentido $-x$, escreva a equação da onda. Considere a fonte em $x = 0$ e o deslocamento nulo em $x = 0$ quando $t = 0$ também é zero.

$$s(x,t) = s_M \cos(kx + wt + \varphi) \quad s_M = 0,30\text{cm} = 0,0030\text{m}$$

$$s(0,0) = 0 = s_M \cos\varphi \quad w = 2\pi f = 50\pi \text{ rad/s}$$

$$k = 2\pi/\lambda = 5\pi/6 \text{ rad/m} = 8,33\pi \text{ rad/m}$$

logo

$$\varphi = \pi/2$$

ou seja

$$s(x,t) = s_M \sin(kx + wt)$$

e finalmente:

$$s(x,t) = (0,0030\text{m}) \sin(5\pi x/6 + 50\pi t)$$

- 11 A pressão em uma onda sonora progressiva é dada pela equação:

$$\Delta p = (1,5\text{Pa}) \sin \pi [(1\text{m}^{-1})x - (330\text{s}^{-1})t]$$

- a) Encontre a amplitude de pressão

$$\Delta p_M = 1,5\text{Pa}$$

- b) Encontre a frequência

$$f = \frac{w}{2\pi} = \frac{330\pi}{2\pi} = 165\text{Hz}$$

- c) Encontre o comprimento de onda

$$\lambda = \frac{2\pi}{k} = \frac{2\pi}{\pi} = 2\text{m}$$

- d) Encontre a velocidade da onda

$$v = \frac{w}{k} = \frac{330\pi}{\pi} = 330\text{m/s}$$

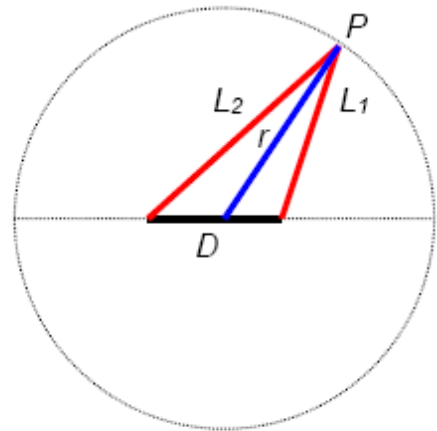
12 Duas fontes pontuais de ondas sonoras, de comprimentos de onda λ e amplitudes idênticas, estão separadas por uma distância $D = 2\lambda$. As fontes estão em fase.

- a) Quantos pontos de sinal máximo (interferência construtiva) existem em um grande círculo em torno da fonte?

Vamos considerar um grande círculo, P ou seja: a distância entre as fontes é bem menor que o raio deste círculo.

Seja P um ponto desse círculo, e L_1 e L_2 as distâncias de cada uma das fontes a esse ponto.

Vamos definir a origem das coordenadas coincidindo com o centro do círculo.



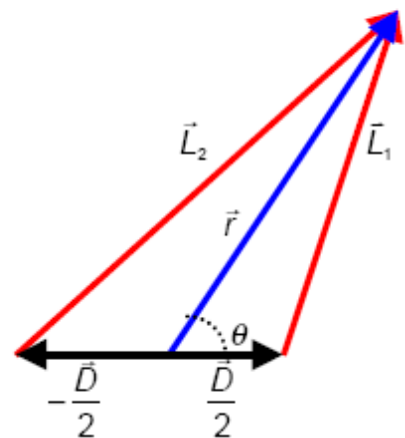
Podemos então definir:

$$\begin{cases} \vec{L}_1 = \vec{r} - \frac{\vec{D}}{2} \\ \vec{L}_2 = \vec{r} + \frac{\vec{D}}{2} \end{cases}$$

Logo:

$$L_1^2 = r^2 + \left(\frac{D}{2}\right)^2 - 2\vec{r} \cdot \frac{\vec{D}}{2}$$

ou seja



$$\begin{cases} L_1^2 = r^2 + \left(\frac{D}{2}\right)^2 - rD \cos \theta \\ L_2^2 = r^2 + \left(\frac{D}{2}\right)^2 + rD \cos \theta \end{cases}$$

portanto

$$L_2^2 - L_1^2 = 2rD \cos \theta$$

Mas por outro lado:

$$\begin{cases} L_2 + L_1 \cong 2r \\ L_2 - L_1 = \Delta L \end{cases} \Rightarrow L_2^2 - L_1^2 = (L_2 - L_1)(L_2 + L_1) \cong 2r\Delta L$$

logo

$$L_2^2 - L_1^2 = 2rD \cos \theta \cong 2r\Delta L \quad \therefore \cos \theta = \frac{\Delta L}{D} = \frac{\Delta L}{2\lambda}$$

Para que tenhamos uma interferência construtiva é necessário que $\Delta L = \pm n \lambda$, ou seja:

$$\cos\theta = \pm \frac{n}{2}$$

$$\begin{array}{llll} n = 0 & \Rightarrow \cos\theta = 0 & \Rightarrow \theta = 90^{\circ} & \text{ou } \theta = 270^{\circ} \\ n = +1 & \Rightarrow \cos\theta = + 1/2 & \Rightarrow \theta = 60^{\circ} & \text{ou } \theta = 300^{\circ} \\ n = -1 & \Rightarrow \cos\theta = - 1/2 & \Rightarrow \theta = 120^{\circ} & \text{ou } \theta = 240^{\circ} \\ n = +2 & \Rightarrow \cos\theta = + 1 & \Rightarrow \theta = 0^{\circ} & \\ n = -2 & \Rightarrow \cos\theta = - 1 & \Rightarrow \theta = 180^{\circ} & \end{array}$$

Existem, portanto oito pontos de máximo.

- b)** Quantos pontos de sinal mínimo (interferência destrutiva) existem em um grande círculo em torno da fonte?

Para o cálculo de pontos com interferência destrutiva, o procedimento é equivalente:

$$L_2^2 - L_1^2 = 2rD \cos\theta \cong 2r\Delta L \quad \therefore \cos\theta = \frac{\Delta L}{D} = \frac{\Delta L}{2\lambda}$$

Para que tenhamos uma interferência destrutiva é necessário que

$$\Delta L = \pm \left(n\lambda + \frac{\lambda}{2} \right) = \pm (2n + 1) \frac{\lambda}{2}$$

ou seja:

$$\cos\theta = \pm \left(\frac{2n + 1}{4} \right)$$

$$\begin{array}{llll} n = 0 & \Rightarrow \cos\theta = + 1/4 & \Rightarrow \theta = 75,52^{\circ} & \text{ou } \theta = 284,44^{\circ} \\ n = 0 & \Rightarrow \cos\theta = - 1/4 & \Rightarrow \theta = 104,47^{\circ} & \text{ou } \theta = 255,52^{\circ} \\ n = +1 & \Rightarrow \cos\theta = + 3/4 & \Rightarrow \theta = 41,40^{\circ} & \text{ou } \theta = 318,59^{\circ} \\ n = -1 & \Rightarrow \cos\theta = - 3/4 & \Rightarrow \theta = 138,59 & \text{ou } \theta = 221,40^{\circ} \end{array}$$

Existem, portanto oito pontos de mínimo.

- 48 Uma ambulância, tocando sua sirene a 1600Hz ultrapassa um ciclista, que estava pedalando uma bicicleta a $2,44\text{m/s}$. Depois da ambulância ultrapassá-lo, o ciclista escuta a sirene a 1590Hz . Qual a velocidade da ambulância?

$$f = 1600\text{Hz}$$

$$f' = 1590\text{Hz}$$

$$v = 343\text{m/s}$$

$$v_o = 2,44\text{m/s}$$

- 49 Um apito de frequência 540Hz move-se em uma trajetória circular de raio 60cm com uma velocidade de 15rad/s .

Quais são as *menores e maiores* frequências ouvida por um ouvinte a uma grande distância e em repouso em relação ao centro do círculo?

$$v_f = w r = 9\text{m/s}$$

$$f = 540\text{Hz}$$

$$r = 60\text{cm} = 0,6\text{m}$$

$$w = 15\text{rad/s}$$

48 Uma ambulância, tocando sua sirene a 1600Hz ultrapassa um ciclista, que estava pedalando uma bicicleta a 2,44m/s . Depois da ambulância ultrapassá-lo, o ciclista escuta a sirene a 1590Hz . Qual a velocidade da ambulância?

$$f = 1600\text{Hz}$$

$$f' = 1590\text{Hz}$$

$$v = 343\text{m/s}$$

$$v_o = 2,44\text{m/s}$$

$$f' = f \left(\frac{v \pm v_o}{v \mp v_f} \right) \begin{cases} \text{sinal superior : aproximando - se} \\ \text{sinal inferior : afastando - se} \end{cases}$$

Depois que a ambulância ultrapassa o ciclista, ela passa a se afastar dele que caminha na direção dela: a fonte se afasta do observador que se aproxima desta fonte:

$$f' = f \left(\frac{v + v_o}{v + v_f} \right) \Rightarrow v_f = \left(\frac{f - f'}{f'} \right) v + \left(\frac{f}{f'} \right) v_o = 4,61\text{m/s}$$

49 Um apito de frequência 540Hz move-se em uma trajetória circular de raio 60cm com uma velocidade de 15rad/s .

Quais são as menores e maiores frequências ouvida por um ouvinte a uma grande distância e em repouso em relação ao centro do círculo?

$$v_f = w r = 9\text{m/s}$$

$$f = 540\text{Hz}$$

$$r = 60\text{cm} = 0,6\text{m}$$

$$w = 15\text{rad/s}$$

$$f' = f \left(\frac{v \pm v_o}{v \mp v_f} \right) \begin{cases} \text{sinal superior : aproximando - se} \\ \text{sinal inferior : afastando - se} \end{cases}$$

Quando o observador está fixo, temos duas possíveis situações:

$$f_1^{\lambda} = f \left(\frac{v}{v - v_f} \right) \text{ fonte aproximando - se}$$

$$f_2^{\lambda} = f \left(\frac{v}{v + v_f} \right) \text{ fonte afastando - se}$$

$$f_2 = 525,66\text{Hz}$$

$$f_1 = 555,14\text{Hz}$$



- 27 Duas ondas idênticas que se propagam, deslocando-se no mesmo sentido, têm uma diferença de fase de $\pi/2\text{rad}$. Qual é a amplitude da onda resultante em termos da amplitude comum y_M das duas ondas?

- 34 Duas ondas senoidais com amplitudes e comprimentos de onda idênticos se propagam em sentidos contrários ao longo de uma corda, com velocidade escalar de 10cm/s . Se o intervalo de tempo entre os instantes em que a corda fica retilínea é $0,50\text{s}$, quais os seus comprimentos de onda?

27 Duas ondas idênticas que se propagam, deslocando-se no mesmo sentido, têm uma diferença de fase de $\pi/2\text{rad}$. Qual é a amplitude da onda resultante em termos da amplitude comum y_M das duas ondas?

$$y_1(x,t) = y_M \text{sen}(kx - wt)$$

$$y_2(x,t) = y_M \text{sen}(kx - wt + \pi/2)$$

$$y(x,t) = y_1(x,t) + y_2(x,t)$$

$$y(x,t) = y_1(x,t) = y_M [\text{sen}(kx - wt) + \text{sen}(kx - wt + \pi/2)]$$

Mas:

$$\text{sen } \alpha + \text{sen } \beta = 2 \text{sen} \left(\frac{\alpha + \beta}{2} \right) \cos \left(\frac{\alpha - \beta}{2} \right)$$

logo:

$$\text{sen } \alpha + \text{sen} \left(\alpha + \frac{\pi}{2} \right) = 2 \text{sen} \left(\frac{2\alpha + \pi/2}{2} \right) \cos \left(\frac{\pi}{4} \right)$$

e portanto

$$y(x,t) = \left[2y_M \cos \left(\frac{\pi}{4} \right) \right] \text{sen} \left(kx - wt + \frac{\pi}{4} \right)$$

A amplitude A desta onda resultante é dada por:

$$A = 2y_M \cos \left(\frac{\pi}{4} \right) = y_M \sqrt{2} \Rightarrow \frac{A}{y_M} = \sqrt{2}$$

34 Duas ondas senoidais com amplitudes e comprimentos de onda idênticos se propagam em sentidos contrários ao longo de uma corda, com velocidade escalar de 10cm/s . Se o intervalo de tempo entre os instantes em que a corda fica retilínea é $0,50\text{s}$, quais os seus comprimentos de onda?

$$y_1(x,t) = y_M \text{sen}(kx - wt)$$

$$y_2(x,t) = y_M \text{sen}(kx + wt)$$

$$y(x,t) = y_1(x,t) + y_2(x,t) = y_M [\text{sen}(kx - wt) + \text{sen}(kx + wt)]$$

$$\text{sen } \alpha + \text{sen } \beta = 2 \text{sen} \left(\frac{\alpha + \beta}{2} \right) \cos \left(\frac{\alpha - \beta}{2} \right)$$

$$y(x,t) = 2 y_M \text{sen}(kx) \cos(wt)$$

O intervalo de tempo entre os instantes em que a corda fica retilínea é igual à meio período, logo:

$$\Delta t = T/2 = 0,50\text{s} \Rightarrow T = 1\text{s}$$

$$v = 10\text{cm/s} = 0,1\text{m/s}$$

$$\lambda = v T = (0,1) (1) \Rightarrow \lambda = 0,1\text{m}$$