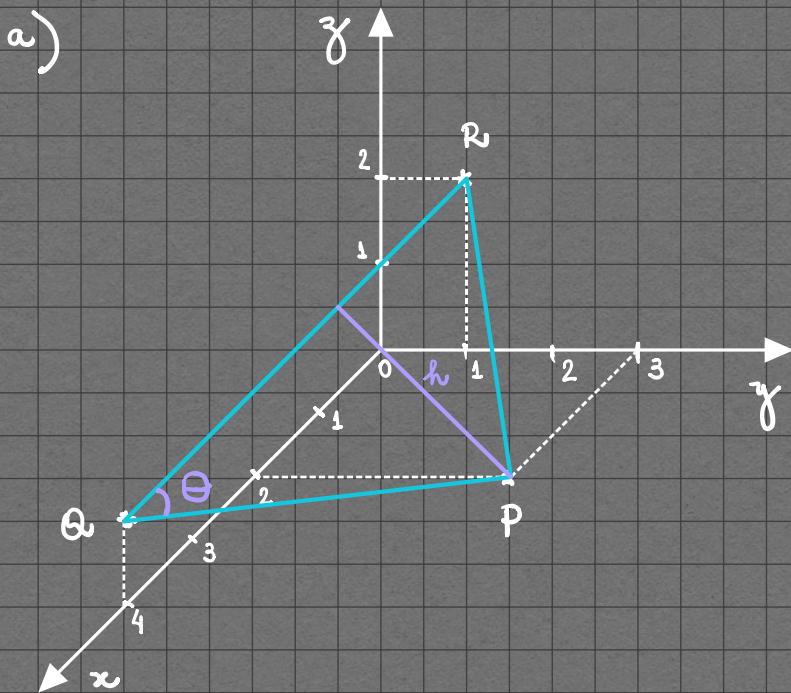


## Gabarito: T1 - Turma PN

1) Dados os pontos  $P(2,3,0)$ ,  $Q(4,0,1)$  e  $R(0,1,2)$  no  $\mathbb{R}^3$ , determine:

- O esboço do triângulo  $PQR$  no espaço  $\mathbb{R}^3$ .
- O comprimento do lado  $PQ$ .
- A medida do ângulo entre os lados  $QP$  e  $QR$ .
- A altura do triângulo  $PQR$ , relativa ao vértice  $P$ .



$h$  ... altura relativa ao vértice  $P$

$\theta$  ... ângulo entre os lados

$QP$  e  $QR$

b) O comprimento do lado  $PQ$ ,  $p$ , é o módulo do vetor  $\vec{PQ}$ :

$$p = |\vec{PQ}| = \sqrt{\vec{PQ} \cdot \vec{PQ}}$$

Assim:

$$p = \sqrt{(2, -3, 1) \cdot (2, -3, 1)}$$

$$= \sqrt{4 + 9 + 1}$$

$\therefore$

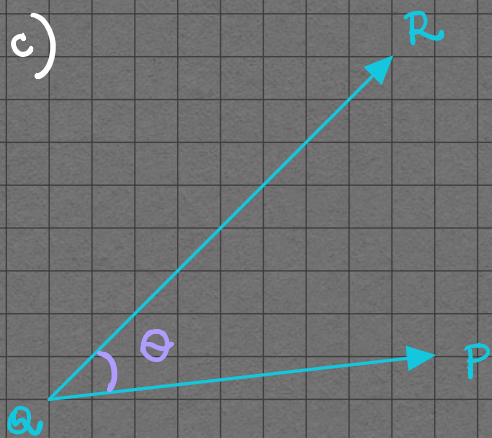
$$p = \sqrt{14}$$

... comprimento de  $PQ$

$$\left\{ \begin{array}{l} \vec{PQ} = Q - P \\ = (4, 0, 1) - (2, 3, 0) \\ \therefore \vec{PQ} = (2, -3, 1) \end{array} \right. //$$



c)



$$\vec{QP} \cdot \vec{QR} = |\vec{QP}| |\vec{QR}| \cos\theta$$

$$\vec{QP} = P - Q = (2, 3, 0) - (4, 0, 1)$$

$$\vec{QP} = (-2, 3, -1) //$$

$$\vec{QR} = R - Q = (0, 1, 2) - (4, 0, 1)$$

$$\vec{QR} = (-4, 1, 1) //$$

$$\vec{QP} \cdot \vec{QR} = (-2, 3, -1) \cdot (-4, 1, 1) = \underline{\underline{10}}$$

$$|\vec{QP}| = \sqrt{\vec{QP} \cdot \vec{QP}} = \sqrt{4 + 9 + 1} = \sqrt{14}$$

$$|\vec{QR}| = \sqrt{\vec{QR} \cdot \vec{QR}} = \sqrt{16 + 1 + 1} = \sqrt{18}$$

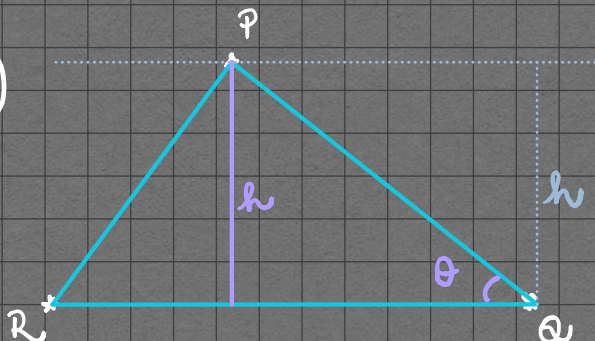
Desta forma:

$$\cos\theta = \frac{\vec{QP} \cdot \vec{QR}}{|\vec{QP}| |\vec{QR}|} = \frac{10}{\sqrt{14} \sqrt{18}} = \frac{5}{3\sqrt{7}}$$

Logo:

$$\theta = \arccos\left(\frac{5}{3\sqrt{7}}\right)$$

d)



$h$  ... módulo da projeção do vetor  $\vec{QP}$  na direção vertical.

Portanto:

$$h = |\vec{QP}| \sin\theta$$

$$|\vec{QP}| = \sqrt{14}$$

$$\cos\theta = \frac{5}{3\sqrt{7}}$$



Sabe-se que:

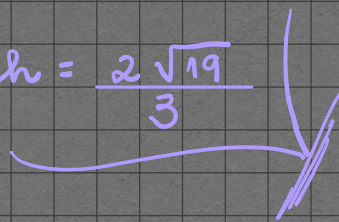
$$\sin^2 \theta + \cos^2 \theta = 1$$

$$\sin^2 \theta = 1 - \frac{25}{63} = \frac{38}{63} \quad \therefore \sin \theta = \frac{\sqrt{38}}{3\sqrt{7}} //$$

Assim:

$$h = \frac{\sqrt{14} \cdot \sqrt{38}}{3\sqrt{7}}$$

$$\therefore h = \frac{2\sqrt{19}}{3}$$



2) Decomponha o vetor  $\vec{c} = (1, 3, 2)$  como soma de dois vetores  $\vec{a}$  e  $\vec{b}$ , tal que  $\vec{a}$  é LD com o vetor  $(0, 1, 3)$  e  $\vec{b}$  é ortogonal a  $(0, 1, 3)$ .

$$\vec{c} \dots \text{soma de } \vec{a} \text{ e } \vec{b} \longrightarrow \vec{c} = \vec{a} + \vec{b} \quad (1)$$

$$\vec{a} \text{ LD com } (0, 1, 3) \longrightarrow \vec{a} = k(0, 1, 3)$$

$$\therefore \vec{a} = (0, k, 3k) //$$

$$\vec{b} \perp (0, 1, 3) \longrightarrow \vec{b} \cdot (0, 1, 3) = 0, \quad \vec{b} = (x, y, z)$$

$$(x, y, z) \cdot (0, 1, 3) = 0$$

$$y + 3z = 0$$

$$y = -3z \quad \therefore \vec{b} = (x, -3z, z) //$$

Substituindo  $\vec{a}$ ,  $\vec{b}$  e  $\vec{c}$  na eq. (1):

$$(1, 3, 2) = (x, -3z, z) + (0, k, 3k)$$

$$(1, 3, 2) = (x, -3z + k, z + 3k)$$

De onde se tem o sistema:



$$\begin{cases} x = 1 \\ -3z + \kappa = 3 \\ z + 3\kappa = 2 \end{cases} \quad \text{cuja solução é} \quad \begin{cases} x = 1 \\ \kappa = 9/10 \\ z = -7/10 \end{cases}$$

Substituindo  $x$ ,  $\kappa$  e  $z$  nos vetores  $\vec{a}$  e  $\vec{b}$ , tem-se:

$$\vec{a} = \left( 0, \frac{9}{10}, \frac{27}{10} \right)$$

$$\vec{b} = \left( 1, \frac{21}{10}, -\frac{7}{10} \right)$$

Portanto:

$$\vec{c} = \vec{a} + \vec{b} = \left( 0, \frac{9}{10}, \frac{27}{10} \right) + \left( 1, \frac{21}{10}, -\frac{7}{10} \right)$$
