

## Medida de posição

Medida de posição é o valor ao redor do qual os dados se distribuem.

### Principais:

- média;
- mediana;
- moda.

$\mu$  = média populacional

### • Média aritmética:

A média aritmética é dada por:

$$\hat{\mu} = \bar{x} = \frac{\sum_{i=1}^n x_i}{n},$$

em que  $n$  corresponde ao tamanho da amostra e  $x_i$  ao  $i$ -ésimo valor observado.

### Exemplo:

Com o objetivo de avaliar a produção de leite, em kg, foram observadas as produções médias diárias de 10 produtores rurais atendidos por um plano governamental, cujos valores são apresentados a seguir:

9,80	9,90	9,95	10,00	8,78
9,90	9,34	10,34	11,75	15,00



$$\bar{x} = \frac{\sum x_i}{n} \quad \bar{x} = \frac{104,76}{10}$$

$$\sum x_i = 104,76$$

$$n = 10$$

$$\bar{x} = 10,476 \text{ kg}$$

Conferindo...

A média observada de produção de leite é dada por:



$$\begin{aligned}\bar{x} &= \frac{9,80 + 9,90 + \dots + 15,00}{10} \\ &= \frac{104,76}{10} \\ &= 10,48\text{kg.}\end{aligned}$$

### Observações:

Média sem considerarmos o maior valor observado (15,00):

$$\bar{x} = \frac{9,80 + 9,90 + \dots + 11,75}{9} = \frac{89,76}{9} = 9,97 \text{ kg.}$$

- A média é bastante afetada por valores extremos;
- não deve ser utilizada quando a distribuição dos dados é assimétrica.

### Média Ponderada

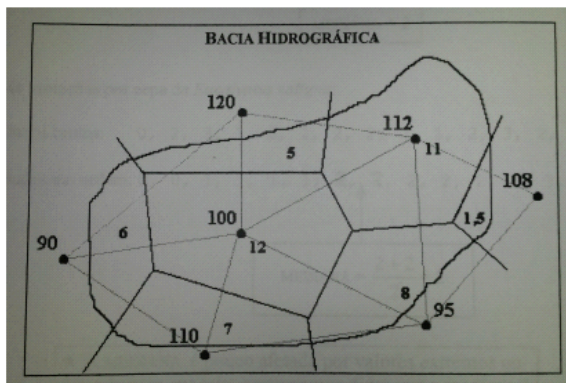
A média ponderada dos números  $x_1, x_2, \dots, x_n$ , com pesos  $p_1, p_2, \dots, p_n$ , representada por  $\bar{x}_p$ , é definida por

$$\bar{x}_p = \frac{p_1x_1 + p_2x_2 + \dots + p_nx_n}{p_1 + p_2 + \dots + p_n} = \frac{\sum_{i=1}^n p_i x_i}{\sum_{i=1}^n p_i}$$

### Exemplo: Precipitação média em uma bacia hidrográfica

Precipitação (mm)	Área do polígono (km <sup>2</sup> )
$X_i$	$p_i$
90	6
110	7
120	5
100	12
112	11
95	8
108	1,5
<b>Total</b>	<b>50,5</b>

*Handwritten notes:*  
 $x_i/p_i$   
 15  
 15,7  
 24  
 8,3  
 10,2  
 14,9  
 72



$$\bar{x}_p = 104,24 \text{ mm}$$

Total

50,5

$\bar{x}_p = 104,24 \text{ mm}$

$\bar{x}_p = \frac{90 \cdot 6 + 110 \cdot 7 + 120 \cdot 5 + 100 \cdot 2 + 112 \cdot 11 + 95 \cdot 8 + 108 \cdot 15}{50,5}$

$\bar{x}_p = \frac{5264}{50,5} = 104,24$

$\bar{x} = \frac{N_1 + N_2 + N_3}{3}$

$\bar{x} = \frac{1 + 2 + 3 + 4 + 5}{5}$

$\bar{x}_p = \frac{N_1 \cdot 5 + N_2 \cdot 6 + N_3 \cdot 8}{19}$

observações

Dados agrupados em tabelas de frequências

$X_i$	$f_i$
$x_1$	$f_1$
$x_2$	$f_2$
$\vdots$	$\vdots$
$x_k$	$f_k$
Total	$n$

$X_i$	$f_i$
5	25
8	12
10	13
	50

$\sum f_i \cdot x_i = \frac{5 \cdot 25 + 8 \cdot 12 + 10 \cdot 13}{50}$

$n = \sum_{i=1}^k f_i$

$\hat{\mu} = \bar{x} = \frac{f_1 x_1 + f_2 x_2 + \dots + f_k x_k}{f_1 + f_2 + \dots + f_k}$

Exemplo: Em um estudo realizado para avaliar o número de insetos capturados durante um determinado período, foram utilizadas 50 armadilhas. Os resultados são apresentados na Tabela a seguir.

Tabela 2: Distribuição de frequências para o conjunto de dados de insetos capturados

$X_i$	$f_i$
0	1
1	8
2	13
3	20
4	4
5	4
Total	50



$$\bar{x} = \frac{0,1 + 1,8 + 2,13 + 3,20 + 4,4 + 5,4}{50} = \frac{130}{50}$$

$$\bar{x} = 2,6 \text{ metros}$$

• Dados agrupados em tabelas de classes de frequências

$X_i$	$m_i$	$f_i$
$c_1 \mid c_2$	$m_1$	$f_1$
$c_2 \mid c_3$	$m_2$	$f_2$
$\vdots$	$\vdots$	$\vdots$
$c_k \mid c_{k+1}$	$m_k$	$f_k$
Total		$n$

$$m_1 = \frac{c_1 + c_2}{2}$$

$$m_i = \frac{c_i + c_{i+1}}{2}$$

$$\hat{\mu} = \bar{x} = \frac{\sum_{i=1}^k m_i f_i}{\sum_{i=1}^k f_i}$$

**Exemplo:** A distribuição de frequências dos pesos dos colmos de cana-de-açúcar, considerando-se uma amostra de tamanho 50, é apresentada a seguir:

$$(10,46 + 11,55) \div 2$$



Tabela 3: Distribuição de frequências dos pesos dos colmos de cana-de-açúcar

$X_i$	$m_i$	$f_i$
10,46   11,55	11,005	2
11,55   12,64	12,095	7
12,64   13,73	13,185	4
13,73   14,82	14,275	8
14,82   15,91	15,365	7
15,91   17,00	16,455	10
17,00   18,09	17,545	7
18,09   19,18	18,635	5
Total		50

$m_i \cdot f_i$
22,01
84,665
52,74
114,2
107,555
164,55
122,815
93,175

$$\Sigma = 761,71$$

$$\bar{x} = \frac{\sum m_i \cdot f_i}{n} = \frac{761,71}{50} = 15,2342$$

$$\bar{x} = 15,23$$



● **Mediana**

A mediana é o valor que ocupa a posição central em um conjunto de dados ordenado em ordem crescente (Rol).

Logo,

$$Md = \begin{cases} x_{[\frac{n+1}{2}]}, & \text{se } n \text{ for ímpar} \\ \frac{x_{[n/2]} + x_{[n/2+1]}}{2}, & \text{se } n \text{ for par} \end{cases}$$

$\frac{x_3 + x_4}{2} = Md$

$n=6$  (par)

$x_1$	$x_2$	$x_3$	$x_4$	$x_5$	$x_6$
55,3	55,4	55,8	58,3	59,6	80,2

$\frac{55,8 + 58,3}{2} = 57,05$  mediana

$n=7$  (ímpar)

$x_1$	$x_2$	$x_3$	$x_4$	$x_5$	$x_6$	$x_7$
55,3	55,4	55,8	58,3	58,3	59,6	80,2

$Md = x_4$

**Observação:** A Mediana é pouco afetada por valores extremos ou discrepantes!

**Exemplo:** Para os valores observados de produção média diária de leite, tem-se o seguinte rol:

8,78	9,34	9,80	9,90	9,90	9,95	10,00	10,34	11,75	15,00
$x_1$	$x_2$	$x_3$	$x_4$	$x_5$	$x_6$	$x_7$	$x_8$	$x_9$	$x_{10}$



Como  $n$  é par...

$n = 10$

$$Md = \frac{x_5 + x_6}{2} = \frac{9,90 + 9,95}{2}$$

$$Md = \begin{cases} x_{[\frac{n+1}{2}]}, & \text{se } n \text{ for ímpar} \\ \frac{x_{[n/2]} + x_{[n/2+1]}}{2}, & \text{se } n \text{ for par} \end{cases}$$

$$Md = \frac{24}{2} = 12$$

$$Md = 9,925 \text{ kg}$$

Conferindo...

$$Md = \frac{x_{[5]} + x_{[6]}}{2} = \frac{9,90 + 9,95}{2} = \frac{19,85}{2} = 9,925 \text{ kg}$$

### • Dados agrupados em tabelas de frequências

Para o exemplo realizado com insetos, para o qual foi observado o número insetos capturados por armadilha.

Tabela 3: Distribuição de frequências para o conjunto de dados número de insetos capturados

$X_i$	$f_i$	$f'_i$	$F_i$	$F'_i$
0	1	0,02	1	0,02
1	8	0,16	9	0,18
2	13	0,26	22	0,44
3	20	0,40	42	0,84
4	4	0,08	46	0,92
5	4	0,08	50	1,00
Total	50	1,00	—	—



$$Md = 3$$


Observar  $F'_i \geq 0,50$

### • Dados agrupados em tabelas de classes de frequências

Para o exemplo referente ao peso de colmos de cana-de-açúcar, tem-se:

Tabela 3: Distribuição de frequências dos pesos dos colmos

$X_i$	$m_i$	$f_i$	$f'_i$	$F_i$	$F'_i$
10,46 - 11,55	11,01	2	0,04	2	0,04
11,55 - 12,64	12,10	7	0,14	9	0,18
12,64 - 13,73	13,19	4	0,08	13	0,26
13,73 - 14,82	14,28	8	0,16	21	0,42
14,82 - 15,91	15,37	7	0,14	28	0,56
15,91 - 17,00	16,46	10	0,20	38	0,76

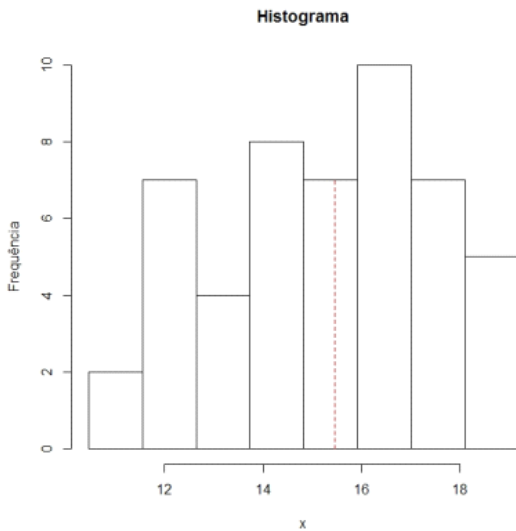


→ classe mediana

$$\left\{ \begin{array}{l} 15,91 - 14,82 \\ \dots \end{array} \right. \quad \text{---} \quad \begin{array}{l} 0,14 \\ \dots \end{array}$$

13,73 - 14,82	14,28	8	0,16	21	0,42
14,82 - 15,91	15,37	7	0,14	28	0,56
15,91 - 17,00	16,46	10	0,20	38	0,76
17,00 - 18,09	17,55	7	0,14	45	0,90
18,09 - 19,18	18,64	5	0,10	50	1,00
Total		50	1,00		

$$\begin{cases} 15,91 - 14,82 & \text{---} & 0,14 \\ Md - 14,82 & \text{---} & 0,08 \end{cases}$$



$$14,82 \text{ --- } 15,91$$

$$0,42 \quad 0,56 \quad 0,56$$

$$\#_{908} \quad \#_{906}$$

$$15,91 - 14,82 = 1,09$$

$$Md = 14,82$$

$$0,14 \quad 0,08$$

$$0,14 (Md - 14,82) = 0,08 \cdot 1,09$$

$$0,14 Md - 2,0748 = 0,0872$$

$$Md = \frac{0,0872 + 2,0748}{0,14} = 15,44$$

$$Md = 15,44g$$

Conferindo...

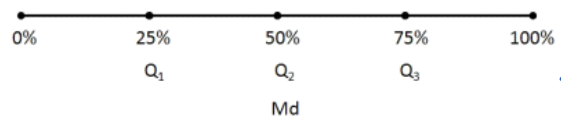
$$Md = \frac{15,91 - 14,82}{0,14} \times 0,08 + 14,82$$

$$= 15,44 \text{ g.}$$

### Quartis e Percentis

- **Quartil:** generalização da mediana.

Quartil  $\Rightarrow$  4 partes



$$x_1 = 60$$

$$x_2 = 45$$

$$x_3 = 45$$

$$x_4 = 2$$

$$np = 60 \cdot 0,75$$

$$np = 45$$

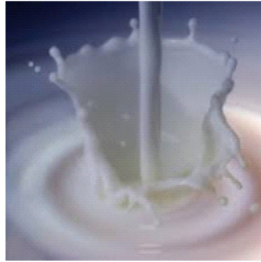
- **Percentil de ordem 100p**

• Percentil de ordem  $100p$

$$P_{100p} = \begin{cases} \frac{x_{[np]} + x_{[np+1]}}{2}, & \text{se } np \text{ for inteiro} \\ x_{[\text{int}(np)+1]}, & \text{se } np \text{ for não inteiro} \end{cases}$$

Exd:  $n=67$   
 $P_{75} = Q_3 = x_{51}$

**Exemplo:** Para os valores observados de produção média diária de leite, tem-se:



$np = 67 \cdot 0,75 = 50,25$   
 $50,25 \rightarrow 51$

$$P_{100p} = \begin{cases} \frac{x_{[np]} + x_{[np+1]}}{2}, & \text{se } np \text{ for inteiro} \\ x_{[\text{int}(np)+1]}, & \text{se } np \text{ for não inteiro} \end{cases}$$

8,78	9,34	9,80	9,90	9,90
9,95	10,00	10,34	11,75	15,00

$n = 10$

Obter  $P_{75} = Q_3$  e  $P_{20}$

$np = 10 \cdot 0,75 = 7,5$   
 $7,5 \rightarrow 8$   
 $x_{7+1} = x_8$

$np = 10 \cdot 0,2 = 2$

$Q_3 = P_{75} = x_8 = 10,34$

$P_{20} = \frac{x_2 + x_3}{2} = \frac{9,34 + 9,80}{2} = 9,57$

Conferindo...

$P_{75} \Rightarrow np = 10 \times 0,75 = 7,5$

$P_{75} = Q_3 = x_{[\text{int}(7,5)+1]}$   
 $= x_{[7+1]} = x_{[8]}$   
 $= 10,34\text{kg}$


$P_{20} \Rightarrow np = 10 \times 0,20 = 2$

$P_{20} = \frac{x_{[2]} + x_{[3]}}{2}$   
 $= \frac{9,34 + 9,80}{2}$   
 $= 9,57\text{kg}$



- Dados agrupados em tabelas de frequências

Tabela 3: Distribuição de frequências para o conjunto de dados número de insetos capturados



$X_i$	$f_i$	$f'_i$	$F_i$	$F'_i$
0	1	0,02	1	0,02
1	8	0,16	9	0,18
2	13	0,26	22	0,44
3	20	0,40	42	0,84
4	4	0,08	46	0,92
5	4	0,08	50	1,00
Total	50	1,00		

Obter  $P_{25} = Q_1$ ,  $P_{90}$  e  $P_{97,5}$

Observar  $F'_i \geq 0,25$

$$Q_1 = P_{25} = 2$$

Observar  $F'_i \geq 0,90$

$$P_{90} = 4$$

Observar  $F'_i \geq 0,975$

$$P_{97,5} = 5$$

Conferindo...

$$P_{25} = Q_1 = 2$$

$$P_{90} = 4$$

$$P_{97,5} = 5$$

- Dados agrupados em tabelas de classes de frequências

Para o exemplo referente ao peso de colmos de cana-de-açúcar, tem-se:

Tabela 3: Distribuição de frequências dos pesos dos colmos de cana-de-açúcar



$X_i$	$m_i$	$f_i$	$f'_i$	$F_i$	$F'_i$
10,46 - 11,55	11,01	2	0,04	2	0,04
11,55 - 12,64	12,10	7	0,14	9	0,18
12,64 - 13,73	13,19	4	0,08	13	0,26
13,73 - 14,82	14,28	8	0,16	21	0,42
14,82 - 15,91	15,37	7	0,14	28	0,56
15,91 - 17,00	16,46	10	0,20	38	0,76
17,00 - 18,09	17,55	7	0,14	45	0,90
18,09 - 19,18	18,64	5	0,10	50	1,00

$Q_1 = 13$   
 $Q_2 = 21$   
 $Q_3 = 38$   
 $Q_4 = 45$   
 $Q_5 = 50$   
 $Q_6 = 50$   
 $Q_7 = 50$   
 $Q_8 = 50$   
 $Q_9 = 50$   
 $Q_{10} = 50$   
 $Q_{11} = 50$   
 $Q_{12} = 50$   
 $Q_{13} = 50$   
 $Q_{14} = 50$   
 $Q_{15} = 50$   
 $Q_{16} = 50$   
 $Q_{17} = 50$   
 $Q_{18} = 50$   
 $Q_{19} = 50$   
 $Q_{20} = 50$   
 $Q_{21} = 50$   
 $Q_{22} = 50$   
 $Q_{23} = 50$   
 $Q_{24} = 50$   
 $Q_{25} = 50$   
 $Q_{26} = 50$   
 $Q_{27} = 50$   
 $Q_{28} = 50$   
 $Q_{29} = 50$   
 $Q_{30} = 50$   
 $Q_{31} = 50$   
 $Q_{32} = 50$   
 $Q_{33} = 50$   
 $Q_{34} = 50$   
 $Q_{35} = 50$   
 $Q_{36} = 50$   
 $Q_{37} = 50$   
 $Q_{38} = 50$   
 $Q_{39} = 50$   
 $Q_{40} = 50$   
 $Q_{41} = 50$   
 $Q_{42} = 50$   
 $Q_{43} = 50$   
 $Q_{44} = 50$   
 $Q_{45} = 50$   
 $Q_{46} = 50$   
 $Q_{47} = 50$   
 $Q_{48} = 50$   
 $Q_{49} = 50$   
 $Q_{50} = 50$

$$Q_2 - Q_1 = 21 - 13 = 8$$

Obter  $P_{20}$  e  $P_{75} = Q_3$

17,00 - 18,09	17,55	7	0,14	45	0,90
18,09 - 19,18	18,64	5	0,10	50	1,00
Total		50			

40. Orden 20 e 75 - 43  
= 9,19

$$\begin{array}{l} \overbrace{13,73 - 12,64}^{1,09} \quad \cancel{q_{08}} \\ P_{20} - 12,64 \quad \cancel{q_{02}} \end{array}$$

$$\begin{array}{l} q_{08} (P_{20} - 12,64) = q_{02} \cdot 1,09 \\ q_{08} P_{20} - 1,0112 = q_{02} \cdot 1,09 \end{array}$$

$$P_{20} = \frac{q_{02} \cdot 1,09 + 1,0112}{q_{08}}$$

$$\begin{array}{l} \overbrace{17 - 15,91}^{1,09} \quad \cancel{q_{20}} \\ P_{75} - 15,91 \quad \cancel{q_{19}} \end{array}$$

$$P_{20} = 12,91 \text{ kg}$$

$$q_{20} (P_{75} - 15,91) = q_{19} \cdot 1,09$$

$$q_{20} P_{75} - 3,182 = q_{19} \cdot 1,09$$

$$P_{75} = \frac{q_{19} \cdot 1,09 + 3,182}{q_{20}}$$

$$P_{75} = 16,945 \text{ kg}$$

Conferindo...

$$\begin{cases} 13,73 - 12,64 & \text{---} & 0,08 \\ P_{20} - 12,64 & \text{---} & 0,02 \end{cases}$$

$$P_{20} = \frac{13,73 - 12,64}{0,08} \times 0,02 + 12,64$$

$$P_{20} = 12,91\text{g.}$$

$$\begin{cases} 17,00 - 15,91 & \text{---} & 0,20 \\ P_{75} - 15,91 & \text{---} & 0,19 \end{cases}$$

$$P_{75} = \frac{17,00 - 15,91}{0,20} \times 0,19 + 15,91$$

$$P_{75} = 16,95\text{g.}$$

- **Moda:** corresponde ao valor observado de maior frequência
  - Também pode ser obtida para variáveis qualitativas

**Exemplo:** Para os valores observados de produção média diária de leite, tem-se:

8,78	9,34	9,80	9,90	9,90
9,95	10,00	10,34	11,75	15,00



$$M_0 = 9,90 \text{ kg}$$

Conferindo...

$$M_0 = 9,90 \text{ kg}$$

- **Dados agrupados em tabelas de frequências**

Para o exemplo realizado com insetos

Tabela 3: Distribuição de frequências para o conjunto de dados número de insetos capturados

$X_i$	$f_i$	$f'_i$	$F_i$	$F'_i$
0	1	0,02	1	0,02
1	8	0,16	9	0,18
2	13	0,26	22	0,44
3	20	0,40	42	0,84
4	4	0,08	46	0,92
5	4	0,08	50	1,00
Total	50	1,00		



$$M_0 = 3 \text{ insetos}$$

Conferindo...

$$M_0 = 3 \text{ insetos}$$

- **Dados agrupados em tabelas de classes de frequências**

- Moda bruta: ponto médio da classe com maior frequência
- Moda: método de Czuber  $\Rightarrow$  semelhança de triângulos

Para o exemplo referente ao peso dos colmos de cana-de-açúcar, tem-se:

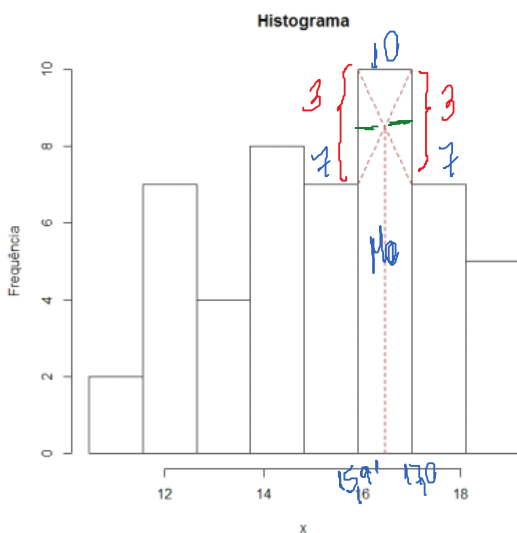

Tabela 3: Distribuição de frequências dos pesos dos colmos de cana-de-açúcar

$X_i$	$m_i$	$f_i$	$f'_i$	$F_i$	$F'_i$
10,46 - 11,55	11,01	2	0,04	2	0,04
11,55 - 12,64	12,10	7	0,14	9	0,18
12,64 - 13,73	13,19	4	0,08	13	0,26
13,73 - 14,82	14,28	8	0,16	21	0,42
14,82 - 15,91	15,37	7	0,14	28	0,56
15,91 - 17,00	16,46	10	0,20	38	0,76
17,00 - 18,09	17,55	7	0,14	45	0,90
18,09 - 19,18	18,64	5	0,10	50	1,00
Total		50	1,00		

Mo Bruta?

$$Mo = \frac{15,91 + 17}{2}$$

Mo = 16,46



~~$$3 - 3$$

$$Mo - 15,91 = 17 - Mo$$~~

$$3(Mo - 15,91) = 3(17 - Mo)$$

$$3Mo - 47,73 = 51 - 3Mo$$

$$6Mo = 51 + 47,73$$

$$Mo = \frac{98,73}{6} = 16,46$$

$$\begin{cases} 10 - 7 & \text{---} & 10 - 7 \\ Mo - 15,91 & \text{---} & 17 - Mo \end{cases}$$

Mo = 16,46

Conferindo...

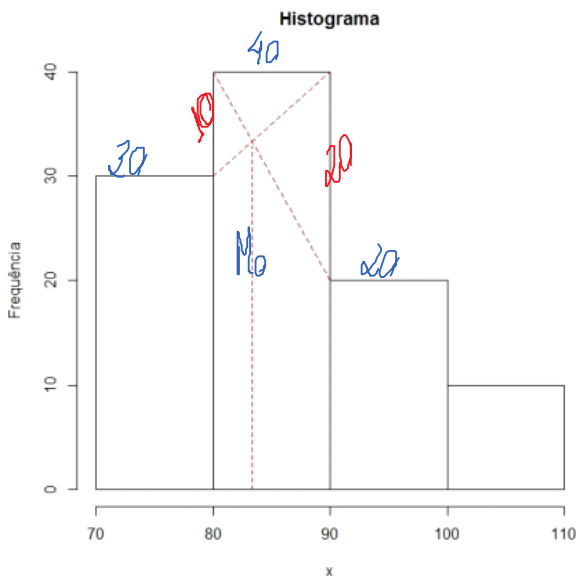
Moda bruta:

$$\begin{aligned} M_o &= \frac{17,00 + 15,91}{2} \\ &= 16,46 \text{ g} \end{aligned}$$

Moda por Czuber:

$$\begin{aligned} 17,00 - M_o &= M_o - 15,91 \\ M_o &= 16,46 \text{ g} \end{aligned}$$

Supondo o seguinte histograma para uma variável  $X$  qualquer.



$$M_o = LI_{M_o} + \frac{\Delta_1}{\Delta_1 + \Delta_2} h,$$

$$\Delta_1 = 40 - 30 = 10$$

$$\Delta_2 = 40 - 20 = 20$$

$$h = 10$$

$$M_o = 80 + \frac{10}{10+20} \cdot 10$$

$$M_o = 83,33$$

Classe correspondente à moda:

80 - 90

~~10~~ ~~20~~  
 ~~$M_o - 80$~~   ~~$90 - M_o$~~

$$20(M_o - 80) = 10(90 - M_o)$$

$$20M_o - 1600 = 900 - 10M_o$$

$$M_o \text{ Bruta} = \frac{80+90}{2} = 85$$



$$20M_0 - 1800 = 400 - 10M_0$$

$$20M_0 + 10M_0 = 900 + 1800$$

$$M_0 = \frac{2500}{30}$$

$$M_0 = 83,33$$

Conferindo...

Moda bruta:

$$\text{Moda bruta: } M_0 = 85$$

Moda por Czuber:

$$\begin{cases} 40 - 30 & \text{---} & 40 - 20 \\ M_0 - 80 & \text{---} & 90 - M_0 \end{cases}$$

$$(40 - 30)(90 - M_0) = (40 - 20)(M_0 - 80)$$

$$\begin{aligned} M_0 &= \frac{(40 - 30) \times 90 + (40 - 20) \times 80}{(40 - 30) + (40 - 20)} \\ &= 83,33 \end{aligned}$$

Ou... Pela fórmula

Fórmula:

$$M_0 = LI_{M_0} + \frac{\Delta_1}{\Delta_1 + \Delta_2} h,$$

em que:

- ▶  $LI_{M_0}$  é o limite inferior da classe modal,
- ▶  $\Delta_1$  é a diferença de frequência entre a classe modal e a anterior,
- ▶  $\Delta_2$  é a diferença de frequência entre a classe modal e a seguinte,
- ▶  $h$  é a amplitude do intervalo de classe.

