

2 – Estática

2.5 – SISTEMAS DE FORÇAS DISTRIBUIDAS

2.5.1 – Forças paralelas – baricentro

2.5.1.1 – Forças paralelas: são as representadas pelos vetores aplicados (\vec{F}_i, P_i) , tais que:

$$\vec{F}_i = h_i \vec{u}$$

onde:

h_i = escalares

\vec{u} = versor que define a direção do sistema de forças paralelas

Exemplos:

- pesos de várias partes de um sistema material pequeno
- forças de pressão de um líquido sobre uma superfície plana

2.5.1.2 – Redução do sistema de forças paralelas para a forma mais simples

- Momento do sistema em relação a um polo O qualquer:

$$\vec{M}_O = \sum_{i=1}^n (P_i - O) \wedge \vec{F}_i = [\sum_{i=1}^n (P_i - O) h_i] \wedge \vec{u}$$

- Resultante:

$$\vec{R} = \sum_{i=1}^n \vec{F}_i = [\sum_{i=1}^n h_i] \vec{u} \perp \vec{M}_O$$

Portanto, $\vec{M}_O \cdot \vec{R} = 0$ e, se $\vec{R} \neq 0$, o sistema é equivalente a uma única força – a resultante, aplicada em qualquer ponto do eixo central. Como já foi visto, esse eixo é uma reta, formada pelos pontos E tais que:

$$(E - O) = \frac{\sum (P_i - O) h_i}{\sum h_i} + \lambda \vec{u},$$

com λ sendo um parâmetro real arbitrário.

Entre todos os pontos E que satisfazem a relação acima, existe um ponto, que chamaremos de C , para o qual $\lambda = 0$, o que faz com que seja independente de \vec{u} , ou seja, da direção do sistema de forças. Esse ponto será chamado de centro das forças paralelas e definido por:

$$(C - O) = \frac{\sum (P_i - O) h_i}{\sum h_i}$$

2.5.1.3 – Baricentro

No caso das forças paralelas serem os pesos, o ponto C é chamado centro de gravidade ou baricentro G , e os h_i são as massas m_i :

$$(G - O) = \frac{\sum m_i (P_i - O)}{\sum m_i} = \frac{\sum m_i (P_i - O)}{m}$$

onde m é a massa total do sistema.

- Coordenadas de G :
sistema $Oxyz$:

$$x_G = \frac{\sum m_i x_i}{m}; \quad y_G = \frac{\sum m_i y_i}{m}; \quad z_G = \frac{\sum m_i z_i}{m}$$

Se tivermos corpos contínuos homogêneos de densidade ρ , a massa contida num volume ΔV será $\Delta m = \rho \Delta V$, e teremos:

$$(G - O) = \frac{\sum (P_i - O) \rho \Delta V_i}{\rho V} = \frac{\sum (P_i - O) \Delta V_i}{V}$$

o que significa que a posição do baricentro não depende da densidade de massa, mas apenas da forma geométrica, neste caso.

2.5.1.4 – Propriedades

- Propriedade associativa

Seja (h_i, P_i) , divididos em dois grupos:

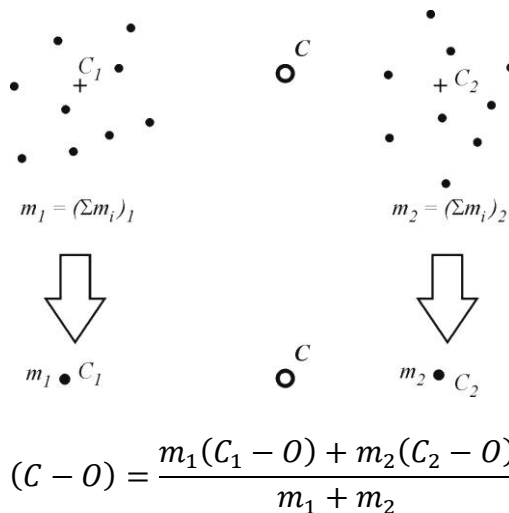
$(h_i, P_i)_1$, baricentro C_1

$(h_i, P_i)_2$, baricentro C_2

C pode ser obtido a partir de C_1 e C_2 , como se tivéssemos apenas um par de pontos:

$((\sum h_i)_1, C_1)$ e $((\sum h_i)_2, C_2)$

Exemplo:



- Propriedade de simetria (geométrica)

Se o sistema material homogêneo tem um elemento de simetria (ponto, eixo ou plano), o seu baricentro pertence necessariamente a esse elemento.

Exemplos:



- Propriedade de corpos convexos

Se todo plano tangente à superfície de um corpo deixar este corpo em um único semi-espaço definido pelo plano, o corpo é convexo. Neste caso, o baricentro é certamente interno à superfície do corpo.

Exemplos:

Não convexos:



vaso



ferradura

Convexos:



bola



tijolo

- Teorema de Pappus

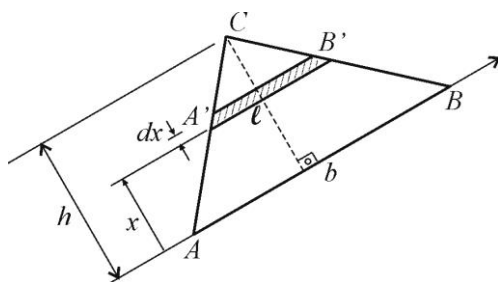
(ver livro texto)

2.5.2 – Cálculo do centroide ou baricentro de figuras geométricas

Veremos este tópico através de exercícios. Os dois primeiros correspondem à aplicação da definição das coordenadas do baricentro, no caso contínuo. Nos demais, o baricentro do conjunto será obtido pela composição dos baricentros das partes do sistema.

Exemplo 2.5.2.1

Baricentro de um triângulo homogêneo – altura h , lado AB de comprimento b .



Determinemos a distância x_G do baricentro ao lado AB . Pela definição, sendo $S = bh/2$ a área do triângulo, temos:

$$x_G = \frac{\int_0^h x dS}{S}$$

onde dS é a área elementar hachurada, com $dS = l dx$. Por

semelhança de triângulos vem:

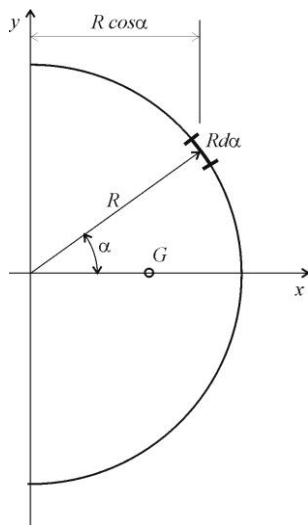
$$\frac{l}{b} = \frac{h-x}{h} \Rightarrow l = \frac{b}{h}(h-x)$$

Assim: $x_G = \frac{1}{S} \int_0^h x \frac{b}{h} (h-x) dx = \frac{h}{3}$

Procedendo analogamente para os outros lados, vemos que a distância do baricentro a um lado é igual a $1/3$ da altura relativa a esse lado, ou seja, o baricentro é o ponto de interseção das medianas.

Exemplo 2.5.2.2

Baricentro de uma semi-circunferência de raio R (não é semi-círculo!)

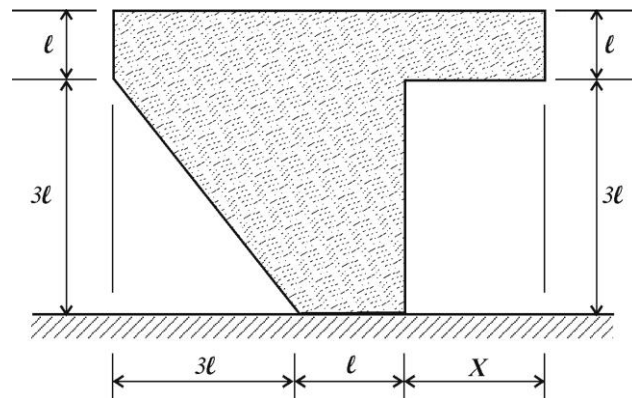


Por simetria: $y_G = 0$

Para x_G , temos:

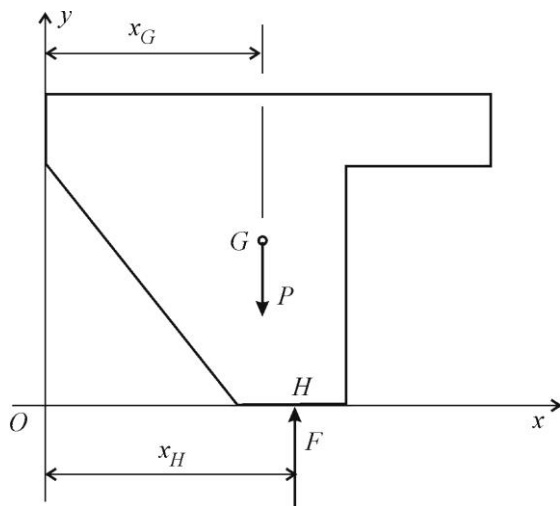
$$x_G = \frac{1}{\pi R} \int_{-\pi/2}^{\pi/2} R \cos \alpha (R d\alpha) = \frac{R}{\pi} |\sin \alpha|_{-\pi/2}^{\pi/2} \Rightarrow x_G = \frac{2R}{\pi}$$

Exemplo 2.5.2.3: Ache os valores limites de X tais que a placa da figura não tombe. A placa tem espessura constante, é homogênea e está apoiada em uma superfície lisa.



Resolução:

Isolando a placa:



F é a resultante das forças de pressão; é vertical por não haver atrito (superfície lisa).

Para a placa não tombar, as equações de equilíbrio devem ser satisfeitas:

$$\sum F_x = 0: 0 = 0$$

$$\sum F_y = 0: -P + F = 0 \Rightarrow F = P$$

$$\sum M_O = 0: -P \cdot x_G + F \cdot x_H = 0 \Rightarrow x_G = x_H$$

Como H é um ponto da base da placa, temos:

$$3l \leq x_H \leq 4l$$

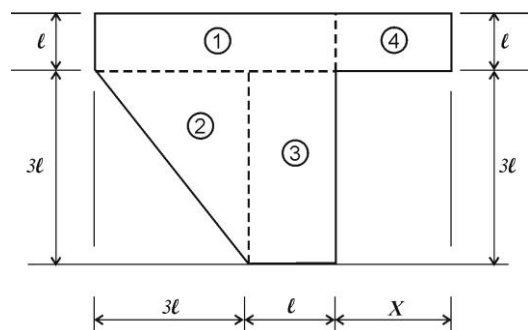
Portanto, como $x_G = x_H$, a condição a ser imposta

para que o equilíbrio seja possível é:

$$3l \leq x_G \leq 4l$$

Determinemos x_G em função de X , usando a propriedade associativa do baricentro. Temos:

$$x_G = \frac{m_1 \cdot x_{G1} + m_2 \cdot x_{G2} + m_3 \cdot x_{G3} + m_4 \cdot x_{G4}}{m_1 + m_2 + m_3 + m_4}$$



Como a placa é homogênea de densidade ρ e de

espessura constante h , a massa da região de área A_i será $m_i = \rho h A_i$, e podemos eliminar ρ e h da expressão de x_G , ficando com:

$$x_G = \frac{A_1 \cdot x_{G1} + A_2 \cdot x_{G2} + A_3 \cdot x_{G3} + A_4 \cdot x_{G4}}{A_1 + A_2 + A_3 + A_4} \quad (1)$$

Calculando:

$$A_1 = 4l \cdot l = 4l^2; x_{G1} = \frac{4l}{2} = 2l$$

$$A_2 = \frac{1}{2}(3l \cdot 3l) = \frac{9l^2}{2}; x_{G2} = \frac{2}{3}(3l) = 2l$$

$$A_3 = 3l \cdot l = 3l^2; x_{G3} = 3l + \frac{l}{2} = \frac{7l}{2}$$

$$A_4 = X \cdot l; x_{G4} = 3L + l + \frac{X}{2} = \frac{8l+X}{2}$$

Substituindo em (1):

$$x_G = \frac{X^2 + 8lX + 55l^2}{2X + 23l}$$

Impondo:

$$3l \leq x_G \leq 4l \Rightarrow 3l \leq \frac{X^2 + 8lX + 55l^2}{2X + 23l} \leq 4l \Rightarrow$$

$$\Rightarrow \begin{cases} \frac{X^2 + 2lX - 14l^2}{2X + 23l} \geq 0 \\ \frac{X^2 - 37l^2}{2X + 23l} \leq 0 \end{cases}$$

Variação de sinal dos polinômios:

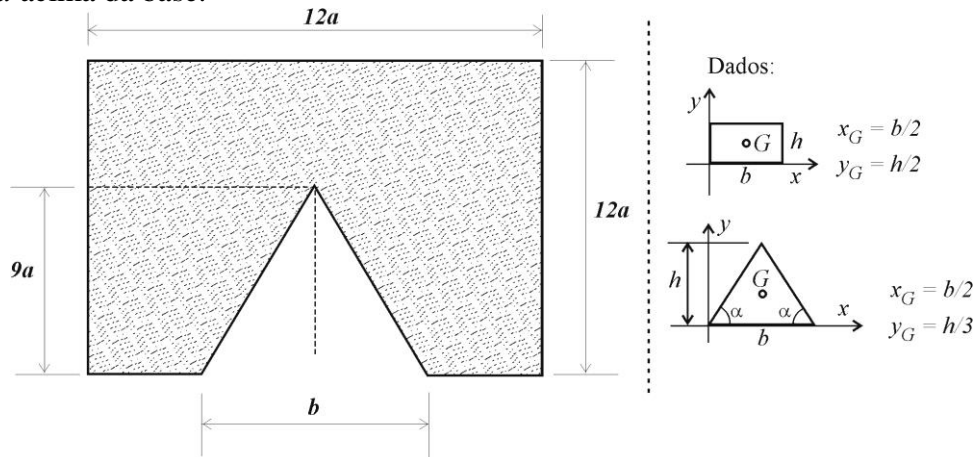
X		-11,5l	$-\sqrt{37}l$	$(-1 - \sqrt{15})l$	$(-1 + \sqrt{15})l$	$\sqrt{37}l$
(1)	$2X + 23l$	-	+	+	+	+
(2)	$X^2 + 2lX - 14l^2$	+	+	+	-	+
(3)	$X^2 - 37l^2$	+	+	-	-	+
	(2)/(1)	-	+	+	-	+
	(3)/(1)	-	+	-	-	+

Solução: $-\sqrt{37}l \leq X \leq (-1 - \sqrt{15})l$ ou $(-1 + \sqrt{15})l \leq X \leq \sqrt{37}l$

Não tem significado físico a solução para $X < 0$ (massa negativa!); portanto, a solução será:

$$\boxed{(-1 + \sqrt{15})l \leq X \leq \sqrt{37}l}$$

Exemplo 2.5.2.4: Calcular a dimensão b que posicionará o baricentro da peça da figura a uma distância $7a$ acima da base.



Resolução:

$$x_G = \frac{\sum m_i x_i}{\sum m_i} \Rightarrow x_G \sum m_i = \sum m_i x_i$$



$$7a \left(12a \cdot 12a - \frac{9a \cdot b}{2} \right) = (12a \cdot 12a) \cdot \frac{12a}{2} - \left(\frac{9a \cdot b}{2} + \frac{9a}{3} \right) \Rightarrow \boxed{b = 8a}$$