



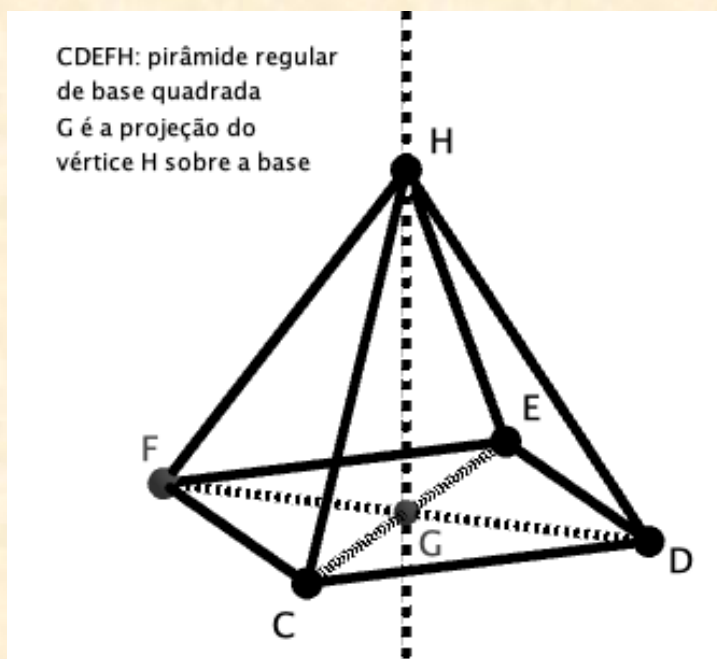
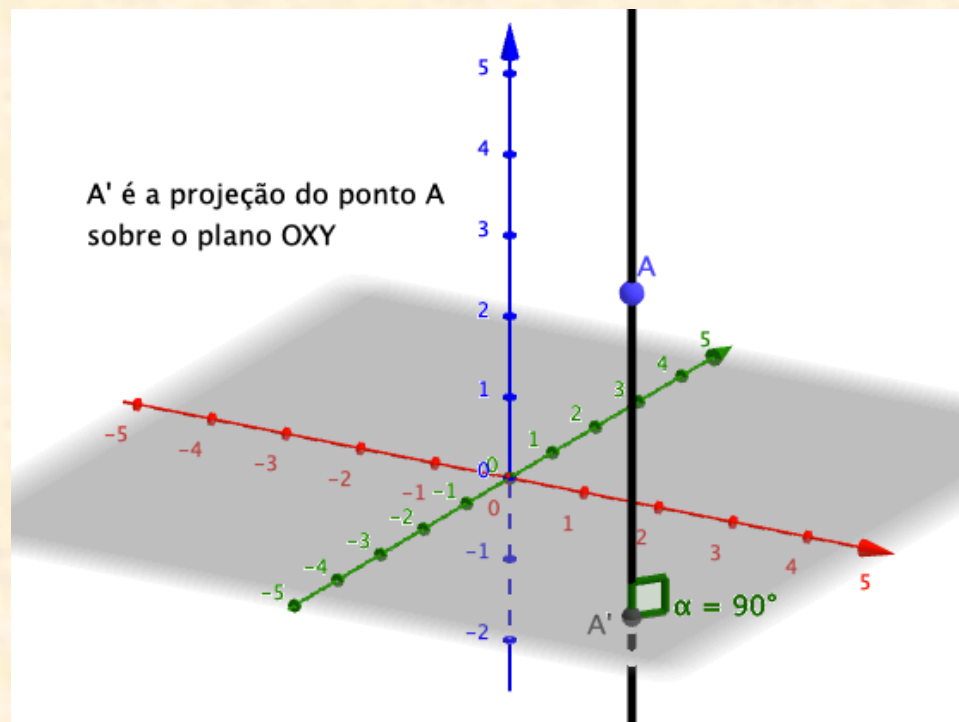
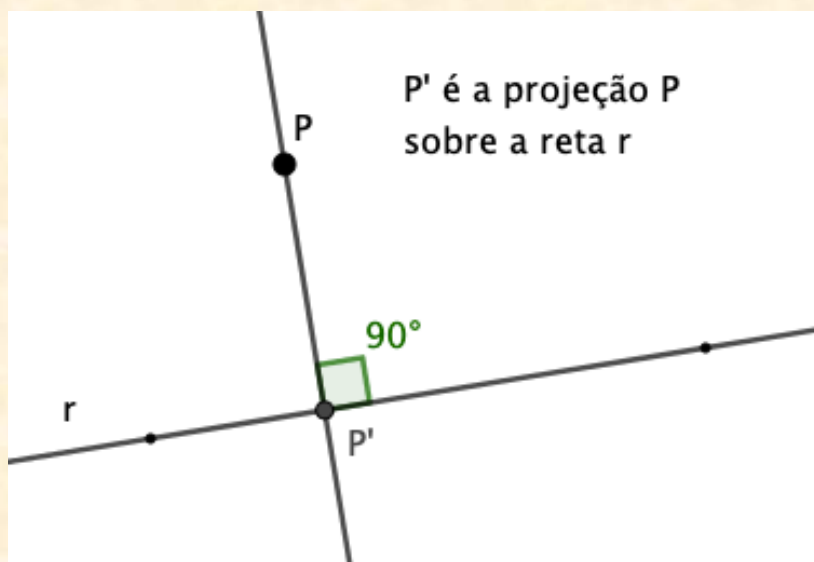
# MAT0105 – Geometria Analítica

## Projeção Ortogonal de Vetores

*Profa. Ana Paula Jahn*

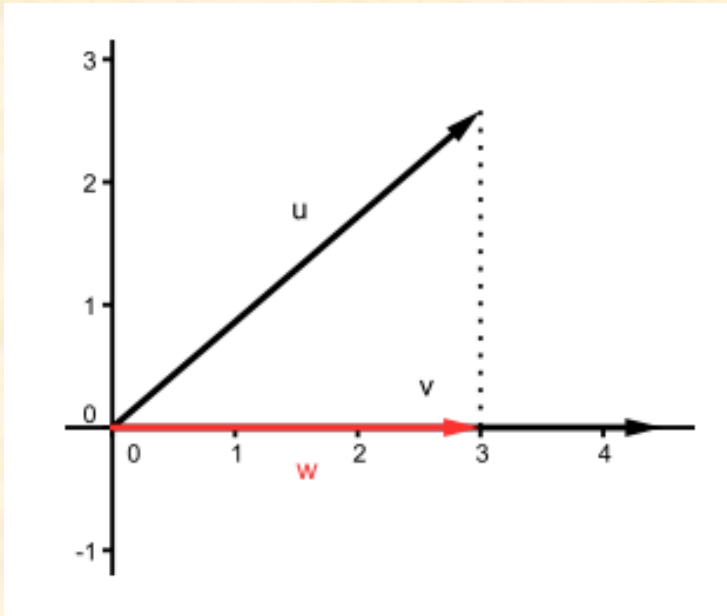
[anajahn@ime.usp.br](mailto:anajahn@ime.usp.br)

# Projeções de pontos

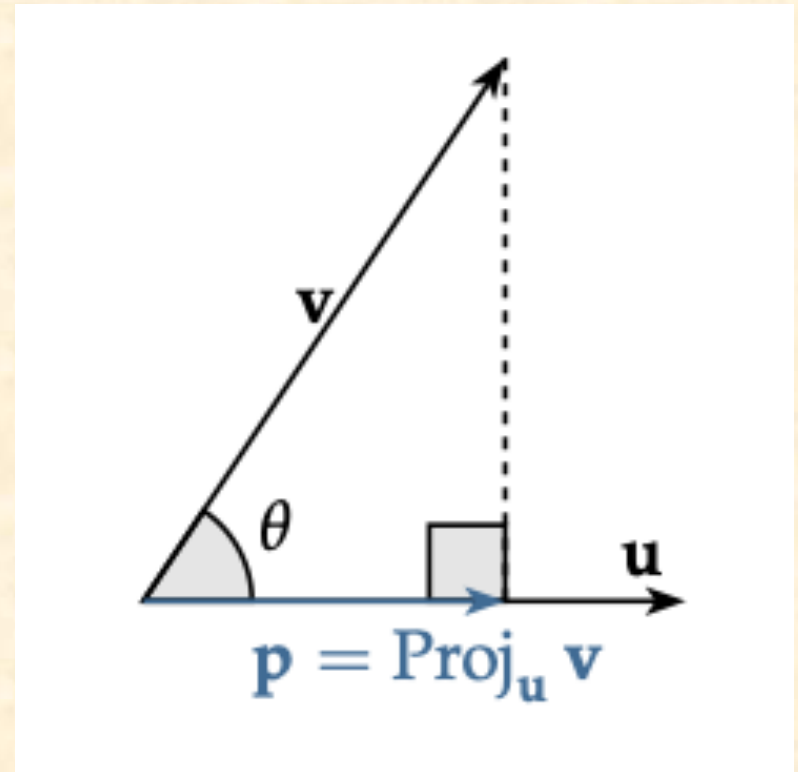


**Obs.:** Em todos os casos, foi feita uma **projeção ortogonal** (na direção perpendicular à reta ou plano de projeção)

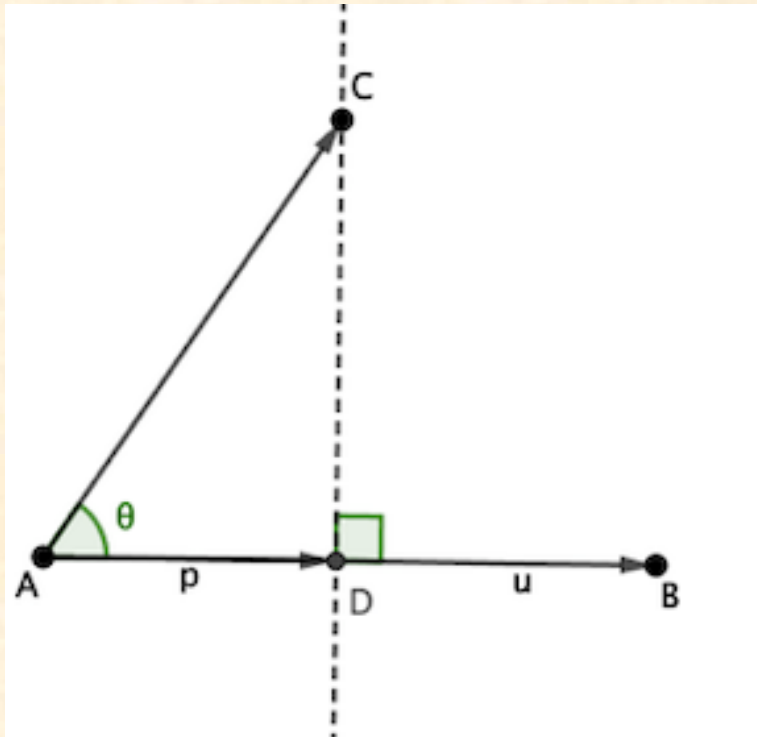
# Projeção de Vetor



- Dados dois vetores não nulos,  $\vec{u}$  e  $\vec{v}$ , queremos determinar um vetor  $\vec{p}$  que é projeção do vetor  $\vec{v}$  sobre  $\vec{u}$ .

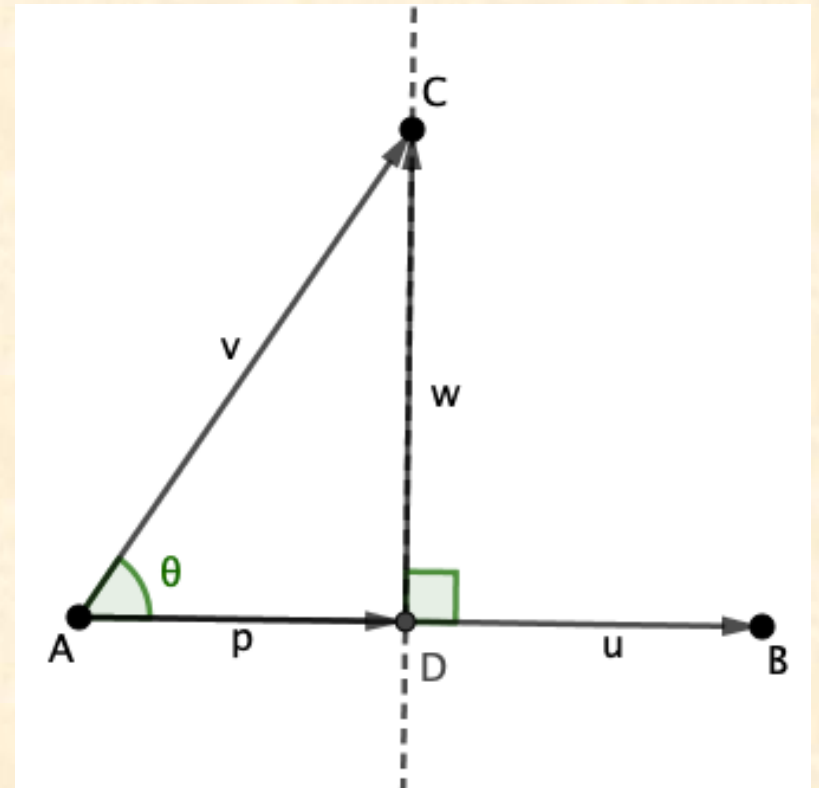


# Projeção de Vetor

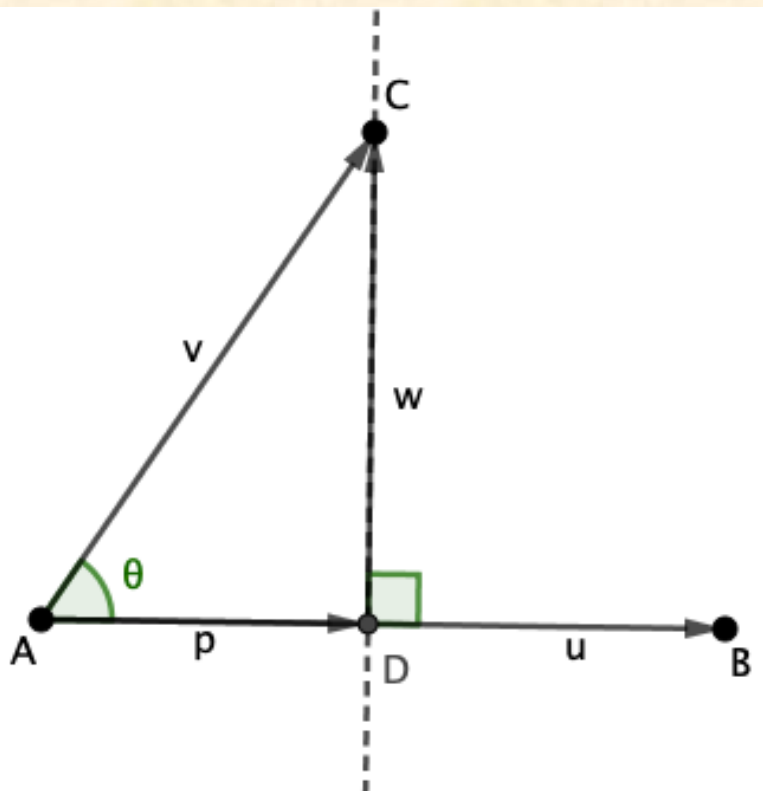


➤  $\vec{p}$  é múltiplo de  $\vec{u}$   $\Leftrightarrow \vec{p} = \lambda \vec{u}$  (1)

➤ Seja  $\vec{w} = \vec{v} - \vec{p}$  e  $\vec{w} \perp \vec{u} \Leftrightarrow \langle \vec{w}, \vec{u} \rangle = 0 \Leftrightarrow \langle \vec{v} - \vec{p}, \vec{u} \rangle = 0$  (2)



# Projeção de Vetor



Desenvolvendo o produto escalar de **(2)**, tem-se:

$$\langle \vec{v} - \vec{p}, \vec{u} \rangle = 0^*$$

$$\langle \vec{v}, \vec{u} \rangle - \langle \vec{p}, \vec{u} \rangle = 0$$

$$\langle \vec{v}, \vec{u} \rangle - \langle \lambda \vec{u}, \vec{u} \rangle = 0$$

$$\langle \vec{v}, \vec{u} \rangle - \lambda \langle \vec{u}, \vec{u} \rangle = 0$$

$$\langle \vec{v}, \vec{u} \rangle = \lambda \langle \vec{u}, \vec{u} \rangle$$

$$\lambda = \frac{\langle \vec{v}, \vec{u} \rangle}{\langle \vec{u}, \vec{u} \rangle} = \frac{\langle \vec{v}, \vec{u} \rangle}{\|\vec{u}\|^2}$$

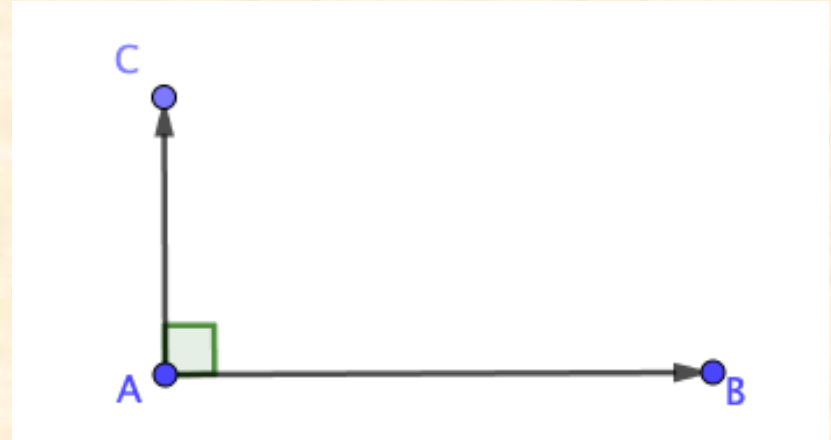
Portanto, de **(1)** tem-se:

$$\vec{p} = \left( \frac{\langle \vec{v}, \vec{u} \rangle}{\|\vec{u}\|^2} \right) \vec{u} = \mathbf{proj}_{\vec{u}} \vec{v}$$

\* Usando propriedades do produto escalar.

# Projeção de Vetor

E se os vetores forem **ortogonais**?



$$\vec{v} = \overrightarrow{AC}, \quad \vec{u} = \overrightarrow{AB} \quad \text{com} \quad \vec{u} \perp \vec{v}$$

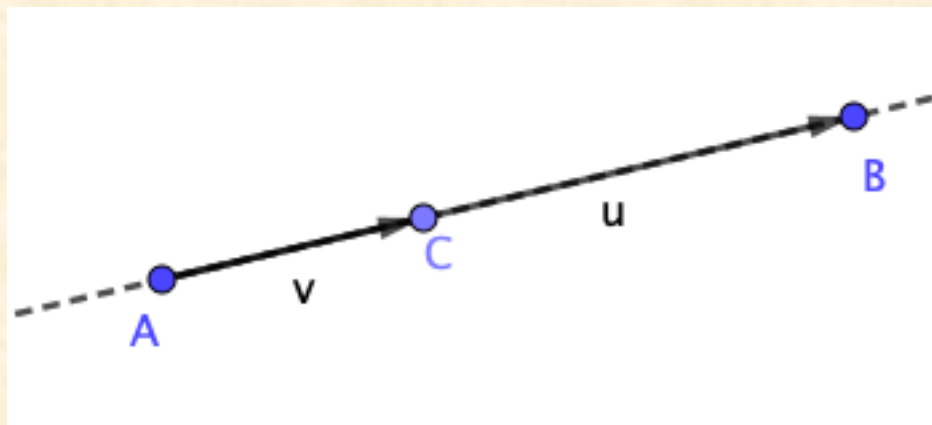
$$\text{proj}_{\vec{u}} \vec{v} = \text{proj}_{\vec{v}} \vec{u} = \overrightarrow{AA} = \vec{0} \quad (\text{vetor nulo})$$

O que condiz com o que foi deduzido, pois como  $\vec{u} \perp \vec{v} \Leftrightarrow \langle \vec{u}, \vec{v} \rangle = 0$ , tem-se que  $\lambda=0$ :

$$\text{proj}_{\vec{u}} \vec{v} = \frac{\langle \vec{u}, \vec{v} \rangle}{\|\vec{u}\|^2} \vec{u} = 0 \vec{u} = \vec{0} = \text{proj}_{\vec{v}} \vec{u}$$

# Projeção de Vetor

E se os vetores forem **colineares**?



$$\text{proj}_{\vec{u}} \vec{v} = \vec{v} \text{ e } \text{proj}_{\vec{v}} \vec{u} = \vec{u}$$

De fato:

Se  $\vec{u} \parallel \vec{v}$ ,  $\exists k \in \mathbb{R} : \vec{v} = k\vec{u}$

$$\text{proj}_{\vec{u}} \vec{v} = \frac{\langle \vec{u}, \vec{v} \rangle}{\|\vec{u}\|^2} \vec{u} = \frac{\langle \vec{u}, k\vec{u} \rangle}{\|\vec{u}\|^2} \vec{u} = \frac{k\langle \vec{u}, \vec{u} \rangle}{\|\vec{u}\|^2} \vec{u} = \frac{k\|\vec{u}\|^2}{\|\vec{u}\|^2} \vec{u} = k\vec{u} = \vec{v}$$

Analogamente para  $\text{proj}_{\vec{v}} \vec{u} = \vec{u}$ .

# Projeção de Vetor sobre vetor unitário

Se  $\vec{u}$  for unitário, isto é:  $\|\vec{u}\| = 1$  (u. c.)

$$\text{proj}_{\vec{u}} \vec{v} = \langle \vec{v}, \vec{u} \rangle \vec{u}$$

E, o módulo do vetor projeção é:

$$\|\text{proj}_{\vec{u}} \vec{v}\| = \left\| \left( \frac{\langle \vec{v}, \vec{u} \rangle}{\|\vec{u}\|^2} \right) \vec{u} \right\| = \frac{|\langle \vec{v}, \vec{u} \rangle|}{\|\vec{u}\|^2} \|\vec{u}\| = |\langle \vec{v}, \vec{u} \rangle|$$

Isso significa que o **valor absoluto do produto escalar** entre dois vetores  $\vec{v}$  e  $\vec{u}$  (com  $\vec{u}$  unitário) representa o **módulo da projeção** de  $\vec{v}$  sobre  $\vec{u}$ .



# Projeção de Vetor sobre vetor unitário

Como já sabemos:

Considerando os vetores particulares  $\vec{i}, \vec{j}$  e  $\vec{k}$ , resulta:

$$\text{proj}_{\vec{i}} \vec{u} = \langle \vec{u}, \vec{i} \rangle \vec{i} = x \vec{i}$$

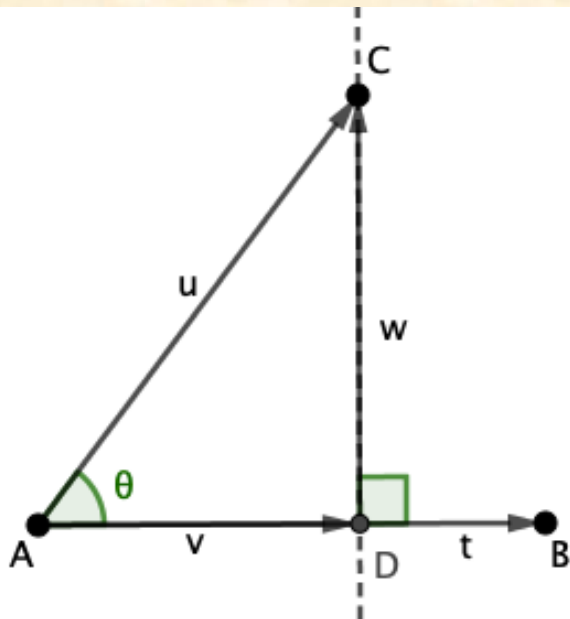
$$\text{proj}_{\vec{j}} \vec{u} = \langle \vec{u}, \vec{j} \rangle \vec{j} = x \vec{j}$$

$$\text{proj}_{\vec{k}} \vec{u} = \langle \vec{u}, \vec{k} \rangle \vec{k} = x \vec{k}$$

Por exemplo: Os vetores projeções do vetor  $3\vec{i} - 4\vec{j} + 5\vec{k}$  sobre os vetores  $\vec{i}, \vec{j}$  e  $\vec{k}$ , são  $3\vec{i}, -4\vec{j}$  e  $5\vec{k}$ , respectivamente.

# Exemplo 1

1) Decomponha o vetor  $\vec{u} = -\vec{i} - 3\vec{j} + 2\vec{k}$  como a soma de dois vetores  $\vec{v}$  e  $\vec{w}$  com  $\vec{v}$  paralelo ao vetor  $\vec{j} + 3\vec{k}$  e  $\vec{w}$  ortogonal a este último.



$$\vec{u} = (-1, -3, 2) \text{ e } \vec{t} = (0, 1, 3)$$

$$\vec{v} = \text{proj}_{\vec{t}} \vec{u}$$

$$\vec{v} = \left( \frac{\langle \vec{t}, \vec{u} \rangle}{\|\vec{t}\|^2} \right) \vec{t} = \left( \frac{3}{10} \right) (0, 1, 3) = \left( 0, \frac{3}{10}, \frac{9}{10} \right)$$

$$\vec{w} = \vec{u} - \vec{v}$$

$$\vec{w} = (-1, -3, 2) - \left( 0, \frac{3}{10}, \frac{9}{10} \right) = \left( -1, -\frac{33}{10}, \frac{11}{10} \right)$$

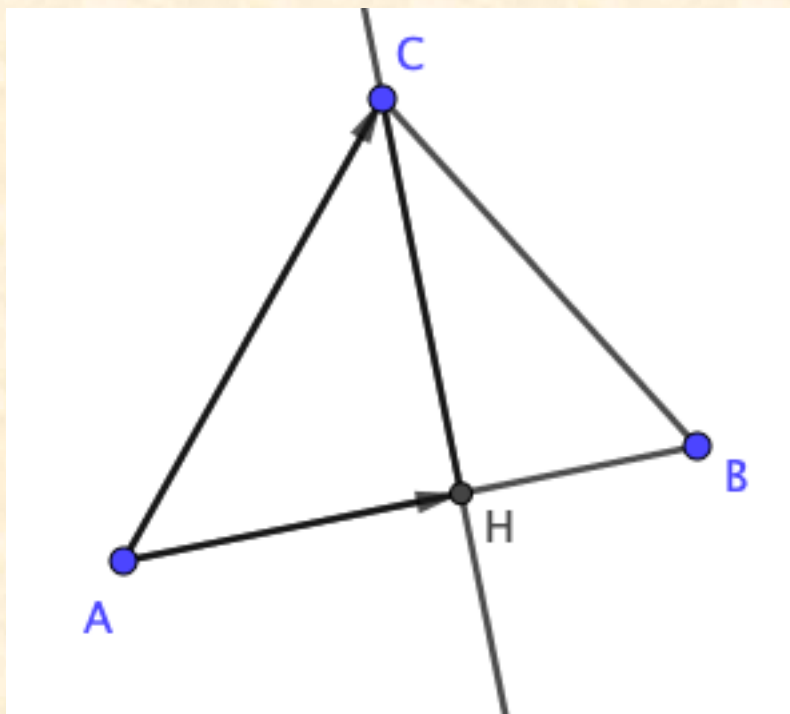
$$\vec{u} = \vec{v} - \vec{w} = \left( 0, \frac{3}{10}, \frac{9}{10} \right) + \left( -1, -\frac{33}{10}, \frac{11}{10} \right) = (-1, -3, 2)$$

Com  $\vec{v} \parallel \vec{t}$  e  $\vec{w} \perp \vec{t}$ .

## Exemplo 2

2) Determine a área do triângulo  $\triangle ABC$  cujos vértices num sistema de coordenadas cartesiano são:

$$A = (-2, 2, 0); B = (-3, 1, 4); C = (1, 3, -2)$$



Tomando  $\overline{AB}$  como base, calcula-se a medida da altura  $\overline{HC}$

$$\overline{AB} = (-1, -1, 4); \|\overline{AB}\| = \sqrt{18} = 3\sqrt{2} \text{ (u.c.)}$$

$$\overline{AC} = (3, 1, -2)$$

$$\langle \overline{AC}, \overline{AB} \rangle = -12$$

$$\overline{AH} = \text{proj}_{\overline{AB}} \overline{AC} = -\frac{12}{18} \overline{AB} = \left(\frac{2}{3}, \frac{2}{3}, -\frac{8}{3}\right)$$

$$\overline{HC} = \overline{AC} - \overline{AH} = \left(\frac{7}{3}, \frac{1}{3}, \frac{2}{3}\right)$$

$$\|\overline{HC}\| = \sqrt{6} \text{ (u.c.)}$$

$$S_{\triangle ABC} = \frac{1}{2} 3\sqrt{2} \cdot \sqrt{6} = 3\sqrt{3} \text{ (u.a.)}$$

# Exercícios

1) Sejam os pontos  $P=(1,2,-1)$ ,  $Q=(-1,0,-1)$  e  $R=(2,1,2)$ , pede-se:

- Classificar o triângulo  $PQR$  (quanto aos lados ou ângulos)
- Obter a medida da projeção do lado  $PQ$  sobre o lado  $QR$
- Determinar o ponto  $H$ , pé da altura do triângulo relativo ao vértice  $A$ .

2) Dados  $\overrightarrow{AB} = \vec{i} + \vec{k}$  e  $\overrightarrow{CB} = \vec{j} + 2\vec{k}$ .

- Mostre que o triângulo  $ABC$  é retângulo;
- Obtenha o comprimento da altura relativa à hipotenusa.