

## Capítulo 6

### Oferta, Demanda e Políticas do Governo

---

#### Lista de Exercícios

- O preço máximo é obrigatório quando estabelecido
  - acima do preço de equilíbrio, causando escassez.
  - acima do preço de equilíbrio, causando excedente.
  - abaixo do preço de equilíbrio, causando escassez.
  - abaixo do preço de equilíbrio, causando excedente.
- Suponha que o governo impôs um preço máximo ao mercado de televisores. Qual dos eventos abaixo pode transformar um preço máximo não obrigatório em uma restrição obrigatória?
  - A expectativa das firmas de que o preço dos televisores irá cair no futuro.
  - Diminui o número de firmas vendendo televisores.
  - A renda dos consumidores diminui e os televisores são bens normais.
  - Diminui o número de consumidores comprando televisores.
- Suponha que o governo impôs um preço máximo ao mercado de telefones celulares. Qual dos eventos abaixo poderia transformar um preço máximo obrigatório em uma restrição não-obrigatória?
  - Os telefones celulares se tornam mais populares.
  - Os telefones fixos tradicionais se tornam mais caros.
  - Os componentes utilizados na produção de telefones celulares se tornam mais caros.
  - Um avanço tecnológico torna a produção de telefones celulares menos onerosa.
- Se o governo remover um preço máximo obrigatório de um determinado mercado, então o preço pago pelos compradores irá:
  - aumentar e a quantidade vendida no mercado irá aumentar.
  - aumentar e a quantidade vendida no mercado irá diminuir.
  - diminuir e a quantidade vendida no mercado irá aumentar.
  - diminuir e a quantidade vendida no mercado irá diminuir.
- Longas filas
  - e discriminação de acordo com critérios do vendedor são ambos mecanismos de racionamento ineficientes porque consomem o tempo dos compradores.
  - e discriminação de acordo com critérios do vendedor são ambos mecanismos de racionamento ineficientes porque o bem não vai necessariamente para o comprador que lhe dá maior valor.
  - são um mecanismo de racionamento ineficiente porque consome o tempo dos compradores e a discriminação de acordo com critérios do vendedor é um mecanismo ineficiente de racionamento porque o bem não vai necessariamente para o comprador que lhe dá maior valor.
  - são um mecanismo de racionamento ineficiente porque o bem não vai necessariamente para o comprador que lhe dá maior valor e a discriminação de acordo com critérios do vendedor é um mecanismo ineficiente de racionamento porque consome o tempo dos compradores.
- Quando a OPEC aumentou o preço do petróleo cru nos anos 70, isto causou:
  - uma redução na oferta de gasolina.
  - uma redução na quantidade demanda de gasolina.
  - um aumento no preço de equilíbrio da gasolina.
  - Todas as alternativas anteriores estão corretas.
- Um preço mínimo é obrigatório quando estabelecido:
  - acima do preço de equilíbrio, causando escassez.
  - acima do preço de equilíbrio, causando excedente.
  - abaixo do preço de equilíbrio, causando escassez.
  - abaixo do preço de equilíbrio, causando excedente.

## 2 ❖ Capítulo 6/Oferta, Demanda e Políticas do Governo

8. Suponha que o governo impôs um preço mínimo ao mercado de televisores. Qual dos eventos abaixo poderia transformar um preço mínimo não obrigatório em uma restrição obrigatória?
  - a. A expectativa das firmas de que o preço dos televisores irá aumentar no futuro.
  - b. Diminui o número de firmas vendendo televisores.
  - c. A renda dos consumidores diminui e televisores são bens normais.
  - d. O número de consumidores comprando televisores aumenta.
  
9. Suponha que o governo impôs um preço mínimo ao mercado de telefone celular. Qual dos eventos abaixo pode transformar um preço mínimo obrigatório em uma restrição não obrigatória?
  - a. Telefones celulares se tornam menos populares.
  - b. As linhas fixas tradicionais se tornam mais caras.
  - c. Os componentes utilizados na produção de celulares se tornam menos onerosos.
  - d. A expectativa das firmas de que o preço do telefone celular irá cair no futuro.
  
10. Se o governo remover um preço mínimo obrigatório de um mercado, então o preço pago pelos compradores irá:
  - a. aumentar e a quantidade vendida no mercado irá aumentar.
  - b. aumentar e a quantidade vendida no mercado irá diminuir.
  - c. diminuir e a quantidade vendida no mercado irá aumentar.
  - d. diminuir e a quantidade vendida no mercado irá diminuir.
  
11. Um preço mínimo obrigatório irá reduzir a receita total da firma:
  - a. sempre.
  - b. quando a demanda for elástica.
  - c. quando a demanda for inelástica.
  - d. nunca.
  
12. Se o salário mínimo exceder o salário de equilíbrio, então:
  - a. a quantidade demandada de trabalho irá exceder a quantidade ofertada.
  - b. a quantidade ofertada de trabalho irá exceder a quantidade demandada.
  - c. o salário mínimo não será obrigatório.
  - d. não haverá desemprego.

### **Tabela 6-3**

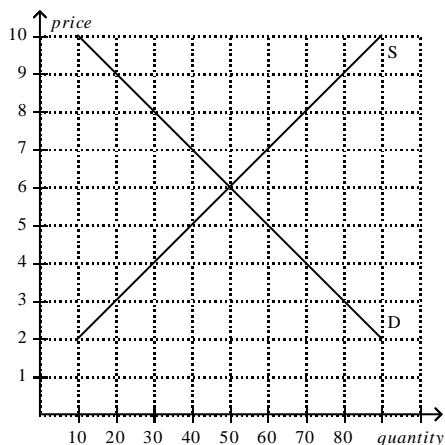
A tabela abaixo contém um quadro de demanda e oferta para um mercado de um determinado bem. Suponha que os vendedores do bem sejam bem sucedidos em seu lobby e o Congresso imponha um preço mínimo de \$2 acima do preço de equilíbrio desse mercado.

Preço	Quantidade Demandada	Quantidade Ofertada
\$0	15	0
\$1	13	3
\$2	11	6
\$3	9	9
\$4	7	12
\$5	5	15
\$6	3	18

13. **Referente a Tabela 6-3.** Após a imposição do preço mínimo de \$2 acima do preço de equilíbrio, compradores enfurecidos convencem o Congresso a revogar o preço mínimo e a impor um preço máximo de \$1 abaixo do antigo preço mínimo. O preço de mercado resultante será de:
  - a. \$2.
  - b. \$3.
  - c. \$4.
  - d. \$5.

14. **Referente a Tabela 6-3.** Após a imposição do preço mínimo de \$2 acima do preço de equilíbrio, compradores enfurecidos convencem o Congresso a revogar o preço mínimo e a impor um preço máximo de \$! Abaixo do antigo preço mínimo. A escassez resultante será de:
- 0 unidades.
  - 2 unidades.
  - 5 unidades.
  - 7 unidades.

**Figura 6-4**

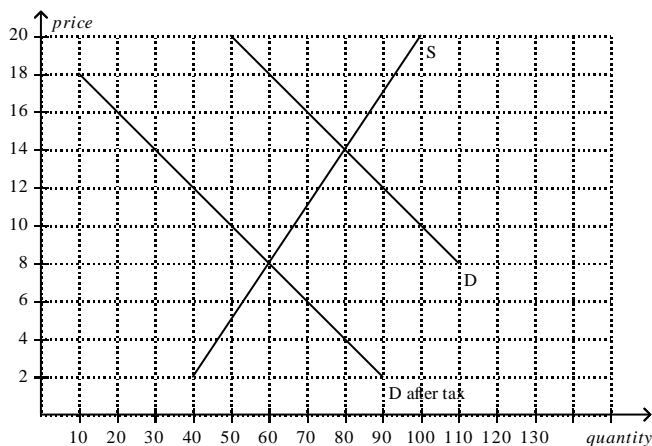


15. **Referente a Figura 6-4.** Suponha que um preço máximo de \$5 seja imposto sobre este mercado. Como resultado:
- a quantidade ofertada do bem irá diminuir em 20 unidades.
  - a curva de demanda se desloca para a esquerda e agora irá passar no ponto: quantidade = 40; preço = \$5.
  - o gasto total dos compradores com o bem diminui em \$100.
  - o preço do bem continua servindo como mecanismo de reacionamento.
16. Se um imposto é cobrado dos vendedores de um produto, então a curva de oferta:
- irá se deslocar para cima.
  - irá se deslocar para baixo.
  - irá se tornar mais plana.
  - não irá se deslocar.
17. Se um imposto é cobrado dos vendedores de um produto, então irá ocorrer:
- um deslocamento para baixo na curva de demanda.
  - um deslocamento para cima na curva de demanda.
  - um movimento para cima e para a esquerda ao longo da curva de demanda.
  - um movimento para baixo e para a direita ao longo da curva de demanda.
18. Um imposto cobrado dos vendedores de café ira:
- aumentar o preço do café pago pelos compradores, aumentar o preço do café efetivamente recebido pelos vendedores e aumentar a quantidade de café de equilíbrio.
  - aumentar o preço do café pago pelos compradores, aumentar o preço do café efetivamente recebido pelos vendedores e diminuir a quantidade de café de equilíbrio.
  - aumentar o preço do café pago pelos compradores, diminuir o preço do café efetivamente recebido pelos vendedores e aumentar a quantidade de café de equilíbrio.
  - aumentar o preço do café pago pelos compradores, diminuir o preço do café efetivamente recebido pelos vendedores e diminuir a quantidade de café de equilíbrio.

4 ❖ Capítulo 6/Oferta, Demanda e Políticas do Governo

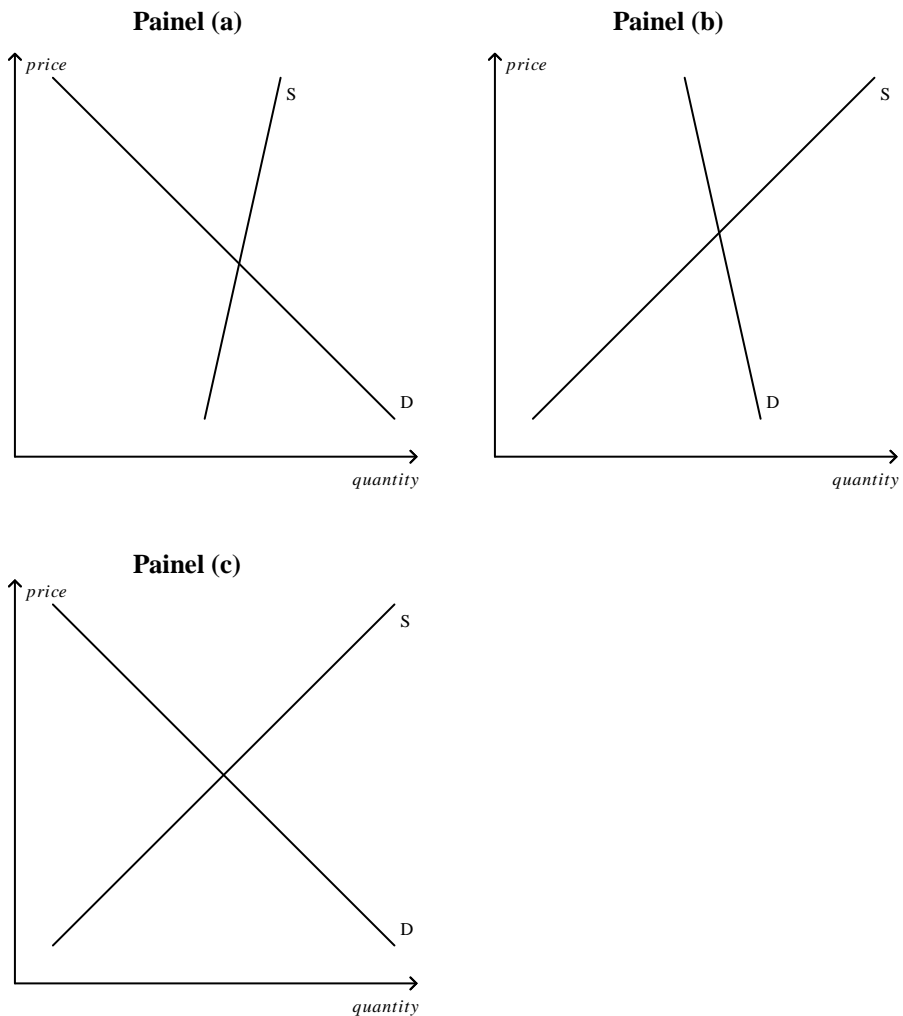
19. Suponha que os vendedores de licor tenham que enviar ao governo \$1,00 a cada garrafa de licor vendida. Ainda, suponha que este imposto cause um aumento de \$0,80 no preço pago pelos compradores por garrafa. Qual das alternativas abaixo está correta?
- O imposto desloca a curva de oferta de licor para cima em \$1,00, a cada quantidade de licor.
  - o preço efetivamente recebido pelos vendedores é \$0,20 menor, por garrafa, do que o recebido antes do imposto.
  - 80% do ônus do imposto recaem sobre os compradores.
  - Todas as alternativas anteriores estão corretas.
20. Um imposto cobrado dos compradores de café irá:
- aumentar o preço do café pago pelos compradores, diminuir o preço do café efetivamente recebido pelos vendedores e diminuir a quantidade de café de equilíbrio.
  - aumentar o preço do café pago pelos compradores, diminuir o preço do café efetivamente recebido pelos vendedores e aumentar a quantidade de café de equilíbrio.
  - aumentar o preço do café pago pelos compradores, aumentar o preço do café efetivamente recebido pelos vendedores e diminuir a quantidade de café de equilíbrio.
  - aumentar o preço do café pago pelos compradores, aumentar o preço do café efetivamente recebido pelos vendedores e aumentar a quantidade de café de equilíbrio.
21. Suponha que os compradores de licor tenham que enviar \$1,00 ao governo a cada garrafa de licor que comprarem. Ainda, suponha que o imposto cause uma redução de \$0,80, por garrafa, no preço do licro efetivamente recebido pelos vendedores. Qual das alternativas abaixo está correta?
- O imposto causa um deslocamento da curva de demanda para baixo em \$1,00, a cada quantidade de licor.
  - O preço pago pelos compradores é \$0,20 maior, por garrafa, do que era antes do imposto.
  - 80% do ônus do imposto recaem sobre os vendedores.
  - Todas as alternativas anteriores estão corretas.
22. O preço pago pelos compradores em um dado mercado irpa subir se o governo:
- diminuir o preço mínimo obrigatório daquele mercado.
  - aumentar o preço máximo obrigatório daquele mercado.
  - diminuir o imposto incidente sobre os bens vendidos naquele mercado.
  - impor um preço máximo obrigatório àquele mercado.
23. O preço recebido pelos vendedores irá diminuir se o governo:
- aumentar o preço mínimo obrigatório daquele mercado.
  - aumentar o preço máximo obrigatório daquele mercado.
  - diminuir o imposto incidente sobre os bens vendidos naquele mercado.
  - Nenhuma das alternativas anteriores está correta.

Figura 6-10



24. **Referente a Figura 6-10.** o preço pago pelos compradores após a incidência do imposto é de:
- \$8.
  - \$10.
  - \$14.
  - \$18.
25. **Referente a Figura 6-10.** isso preço efetivamente recebido pelos vendedores após a incidência do imposto é de:
- \$8.
  - \$10.
  - \$14.
  - \$18.
26. **Referente a Figura 6-10.** isso valor do imposto por unidade é de:
- \$4.
  - \$5.
  - \$6.
  - \$10.
27. **Referente a Figura 6-10.** o ônus do imposto, por unidade, recai:
- \$4 sobre os compradores e \$6 sobre os vendedores.
  - \$5 sobre os compradores e \$5 sobre os vendedores.
  - \$6 sobre os compradores e \$4 sobre os vendedores.
  - \$10 sobre os compradores e \$0 sobre os vendedores.
28. **Referente a Figura 6-10.** O imposto produz qual quantia de receita para o governo?
- \$480
  - \$600
  - \$800
  - \$1120
29. Suponha que em um determinado mercado a curva de oferta seja mais elástica e a curva de demanda mais inelástica.
- os compradores irão arcar com uma parte maior do ônus do imposto se comparado aos vendedores.
  - os vendedores irão arcar com uma parte maior do ônus do imposto se comparado aos compradores.
  - compradores e vendedores irão dividir o ônus do imposto igualmente.
  - compradores e vendedores não irão dividir o ônus igualmente, mas não é possível determinar quem irá arcar com a maior parte do ônus do imposto sem maiores informações.
30. Suponha que a demanda por porta-retratos seja inelástica e a oferta de porta-retratos seja elástica. Um imposto de \$1,00, por unidade, incidente sobre os porta-retratos, irá aumentar o preço pago pelos compradores em:
- menos do que \$0.50.
  - \$0.50.
  - entre \$0.50 e \$1.
  - \$1.
31. Suponha que a demanda por quadros seja elástica e a oferta de quadros seja inelástica. Um imposto de \$1, por unidade, incidente sobre os quadros, irá reduzir o preço efetivamente recebido pelos vendedores em:
- menos do que \$0.50.
  - \$0.50.
  - entre \$0.50 e \$1.
  - \$1.

Figura 6-16



32. **Referente a Figura 6-16.** Em qual mercado o ônus do imposto irá recair em maior parte sobre os compradores?
- mercado (a)
  - mercado (b)
  - mercado (c)
  - Todas as alternativas anteriores estão corretas.
33. **Referente a Figura 6-16.** Em qual mercado o ônus do imposto irá recair em maior parte sobre os vendedores?
- mercado (a)
  - mercado (b)
  - mercado (c)
  - Todas as alternativas anteriores estão corretas.